

**РИСТА КАРЉИКОВИЋ**

директор гимназије у пензији

# **ГЕОМЕТРИЈА**

**ЗА ВИШЕ РАЗРЕДЕ СРЕДЊИХ ШКОЛА**

**ТРЕЋИ ДЕО**

## **ТРИГОНОМЕТРИЈА**

Овај је уџбеник препоручен од Главног просветног савета  
С.бр. 133 од 9-VII-37 и одобрен од Г. Министра просвете  
одлуком С.н.бр. 27494 од 12-VIII-1937 г.

**ТРЕЋЕ ПОПРАВЉЕНО И ДОПУЊЕНО ИЗДАЊЕ**

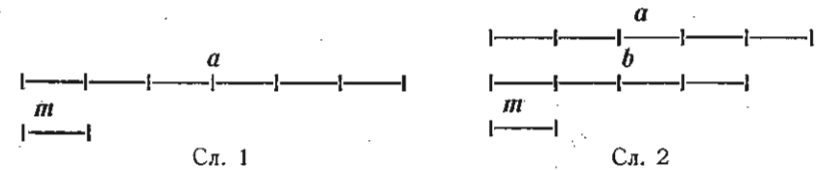
ИЗДАЊЕ КЊИЖАРНИЦЕ РАДОМИРА Д. ЂУКОВИЋА  
БЕОГРАД — ТЕРАЗИЈЕ 17

## У В О Д

§ 1. **Размера двеју дужи.** Под *мером* једне дужи разумемо другу дуж, која се садржава у првој два или више пута без остатка. Тако, дуж  $m$  (сл. 1) је мера дужи  $a$ , пошто се у  $a$  потпуно садржава 6 пута.

Под *заједничком мером* двеју дужи разумемо трећу дуж, која се потпуно садржава у првој и другој дужи. Тако, дуж  $m$  (сл. 2) је заједничка мера дужи  $a$  и  $b$ , јер се она потпуно садржава у дужи  $a$  5 пута, а у дужи  $b$  4 пута.

Под *мерним бројевима* двеју дужи разумемо бројеве који нам показују колико се пута заједничка мера тих дужи



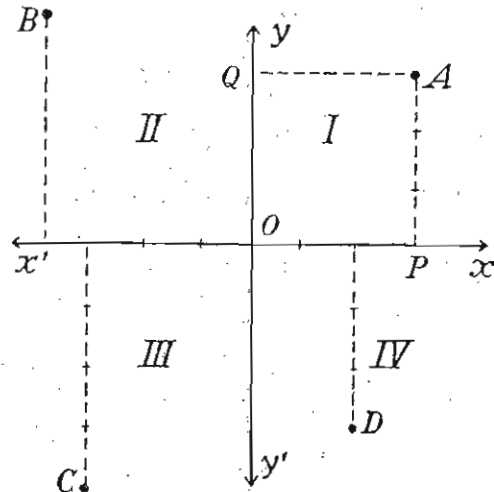
садржава у једној, а колико у другој дужи. Тако, код сл. 2 мерни је број дужи  $a$  5, а дужи  $b$  4. Под *размером* двеју дужи разумемо *размеру њихових мерних бројева*: *Размера* дужи  $a$  и  $b$  (сл. 2) је  $5:4$ .

Код праволиних су слика величине страна (дијагона, висина) дате у метрима, десиметрима, сантиметрима, милиметрима, те су:  $m$ ,  $dm$ ,  $cm$  и  $mm$  њихове заједничке мере, а бројне вредности страна (дијагона, висина) јесу њихови мерни бројеви. Како су стране (дијагона, висине) праволиних слика дужи, то под *размером* двеју страна (дијагона, висина; тетива и пречника код *криволиних* слика) разумемо *размеру њихових бројних вредности*.

§ 2. **Правоугли координатни систем.** Правоугли координатни систем чине две праве сталног правца, које стоје нормално једна на другој. Она права, која обично заузима хоризонталан положај, зове се *апсцисна осовина* и означава се са  $XX'$ , а права што има нормалан положај према апсци-

сној осовини, зове се *ординатна осовина* и означава се са  $УУ'$ . Њихов пресек  $O$  (сл. 3) зове се *координатни почетак*. Овај систем дели равни на 4 једнака дела, који се зову *квadrантима*. Као први сматра се  $ХОУ$ , као други  $УОХ'$ , трећи  $Х'ОУ'$  и четврти  $У'ОХ$ . Мерни број отстојања ма које тачке у равни до ординатне осовине зове се *апсциса* те тачке, а мерни број њеног отстојања до апсцисне осовине *ордината*. Тако, на сл. 3  $AQ$  или  $OP$  је апсциса, а  $AP$  ордината тачке  $A$ . Обично се апсциса означава са  $x$  а ордината са  $y$ . Апсциса и ордината неке тачке једним се именом зову *координатама* те тачке.

Положај једне тачке у равни одређен је ако су познате њене координате. Израз  $(x, y)$  претставља тачку чија је апсциса  $x$  а ордината  $y$ . Тако,  $(3, 5)$  претставља тачку чија је апсциса 3 а ордината 5. Тачка  $A$  на сл. 3 има координате  $(3, 3)$ . Да бисмо одредили тачку чије су координате познате, треба најпре да пренесемо од координатног почетка њену апсцису на апсцисну осовину, а затим у крајњој тачки пренете апсцисе подижемо нормалу, на коју преносимо ординату



Сл. 3

дате тачке. Крајња тачка ординатина претставља нам тражену тачку. Међутим, у свакоме квадранту постоји по једна тачка која има истоветне координате као друге три тачке у осталим квадрантима. Стога, ако знамо само апсолутне вредности координата једне тачке, нисмо у могућности да прецизно одредимо у коме се баш квадранту налази дотична тачка. Да би се избегла забуна, координате тачака снабдевене су знацима „+“ и „-“. Утврђена је ова норма: Све тачке изнад апсцисне осовине имају ординате позитивне а испод ње негативне, све тачке на десној страни ординатне осовине имају апсцисе позитивне а на

левој негативне. Према овоме тачке I квадранта имају обе координате позитивне, II имају ординате позитивне а апсцисе негативне, III имају обе координате негативне, а IV имају апсцисе позитивне а ординате негативне. Тако, тачка  $A(3, 3)$  налази се у I квадранту, тачка  $B(-4, 4)$  у II, тачка  $C(-3, -4)$  у III, а тачка  $D(2, -3)$  у IV. Све тачке на апсцисној осовини имају ординате  $= 0$ , а све тачке на ординатној осовини имају апсцисе  $= 0$ . Стога, координате координатног почетка јесу  $(0, 0)$ ; тачка  $(5, 0)$  налази се на десној страни апсцисне осовине, тачка  $(-3, 0)$  на њеној левој страни; тачка  $(0, 6)$  на позитивној страни ординатне осовине;  $(0, -4)$  на њеној доњој страни.

Отстојање неке тачке до координатног почетка зове се *радиус вектор*, или укратко *радиус*, а означава се обично са  $r$ .

Координате ма које тачке у равни и њен радиус дају правоугли троугао, у коме су координате катете а радиус хипотенуза. Ако радиус узмемо за јединицу, јасно је да ће ма која координата, као катета, имати вредност мању од јединице.

§ 3. О функцијама уопште. Ако две променљиве количине стоје у таквој вези да се мењањем вредности једне количине мења вредност и друге, онда се каже да је друга количина *функција* прве. Тако у једначини

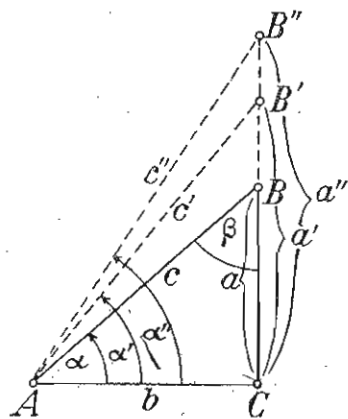
$$y - 4x = 5$$

променљива  $y$  је функција променљиве  $x$ , јер вредност за  $y$  зависи од вредности за  $x$ . За  $x = 0, 1, -1, 2, -2, 3, -3, \dots$  имамо  $y = 5, 9, 1, 13, -3, 17, -7, \dots$  Обим круга је функција полупречника, јер увећавањем полупречника увећава се и обим. Тако исто запремина лопте је функција полупречника те лопте. Код једнаког кретања пут  $s$  се сматра као функција брзине  $c$  за једно одређено време, јер је пут већи кад је брзина већа. Пут  $s$  се сматра и као функција времена  $t$ . Ширење тела се сматра као функција топлоте итд. Веза између функције и оне друге променљиве количине изражена је једном једначином. Она променљива количина, којој ми дајемо различите вредности, зове се *независно-променљива*, а количина, чија вредност зависи од вредности те *независно-променљиве*, зове се *зависно-променљива* или *функција* оне прве. Ако је дата веза између двеју променљивих количина, у теорији је свеједно коју ћемо од тих количина узети за функцију, а коју за независно-променљиву. Међутим, у пракси за функ-

цију узимамо ону променљиву до чије вредности лакше можемо доћи, дајући различите вредности независно-променљивој. Тако, боље је сматрати обим круга као функцију полупречника, него обрнуто, полупречник као функцију обима, јер је много лакше помножити вредност  $r$  са  $2\pi$ , да би се добила вредност обима, него вредност обима делити са  $2\pi$ , да бисмо добили вредност  $r$ , а и у пракси лакше и радије се мере праве но криве линије. Да је једна количина  $y$  функција друге променљиве  $x$ , симболички се означава са  $y = f(x)$ , а чита се „ $y$  је функција од  $x$ “.

Често се дешава да функција зависи не од једне, већ од двеју или више независно-променљивих количина. Тако, код кретања пут  $s$  сматрамо као функцију брзине  $s$  и времена  $t$ ; запремину правоуглога паралелоипеда сматрамо као функцију његових димензија. Дакле, под функцијом разумемо такву променљиву количину чија вредност зависи од вредности једне или више променљивих количина са којима стоји у извесној вези.

§ 4. Гониометриске или тригонометриске функције. Размере страна правоуглог троугла  $ABC$  (сл. 4) јесу функције ма кога оштрог угла тога троугла, и обрнуто, можемо углове сматрати као функцију тих размера. Тако размеру



Сл. 4

$\frac{a}{b}$  сматрамо као функцију угла  $\alpha$ , јер се вредност те мере мења када се угао  $\alpha$  мења. Вредност ове мере се увећава када угао  $\alpha$  расте, а смањује се када угао  $\alpha$  опада. Та мера, која је мера између супротне и налегле катете угла  $\alpha$ , постаје  $\frac{a_1}{b}, \frac{a_2}{b}, \dots$  када угао постаје  $\alpha_1, \alpha_2, \dots$ . Она има све већу вредност растањем угла  $\alpha$ , јер је  $\frac{a}{b} < \frac{a_1}{b} < \frac{a_2}{b}$ .

Размеру  $\frac{b}{a}$  такође можемо сматрати као функцију угла  $\alpha$ , јер се вредност и те мере мења када се угао  $\alpha$  мења, и то: она се смањује када угао расте, а увећава се када угао

опада. Исто тако размере:  $\frac{a}{c}, \frac{b}{c}, \frac{c}{a}$  и  $\frac{c}{b}$  мењају своју вредност када се угао  $\alpha$  мења.

Од страна правоуглога троугла можемо да створимо шест размера, и то: три управне и три обрнуте. Пошто је свака од тих размера функција ма кога оштрог угла у правоуглом троуглу, то имамо свега шест функција које се, за разлику од осталих функција, зову гониометриским или тригонометриским функцијама. Вредност сваке од тих размера има свој нарочити назив, своје име, и то:

1. Вредност мере између супротне катете једног угла и хипотенузе зове се синус (sinus) тога угла, а означава се:

$$\sin \alpha = \frac{a}{c}, \text{ а } \sin \beta = \frac{b}{c} \text{ (сл. 4).}$$

2. Вредност мере између налегле катете једног угла и хипотенузе зове се косинус (cosinus) тога угла, а означава се:

$$\cos \alpha = \frac{b}{c}, \text{ а } \cos \beta = \frac{a}{c}.$$

3. Вредност мере између супротне и налегле катете једног угла зове се тангенс (tangens) тога угла, а означава се:

$$\operatorname{tg} \alpha = \frac{a}{b}, \text{ а } \operatorname{tg} \beta = \frac{b}{a}.$$

4. Вредност мере између налегле и супротне катете једног угла зове се котангенс (cotangens) тога угла, а означава се:

$$\operatorname{cotg} \alpha = \frac{b}{a}, \text{ и } \operatorname{cotg} \beta = \frac{a}{b}.$$

5. Вредност мере између хипотенузе и налегле катете једног угла зове се секанс (secans) тога угла, а означава се:

$$\operatorname{sec} \alpha = \frac{c}{b}, \text{ а } \operatorname{sec} \beta = \frac{c}{a}.$$

6. Вредност мере између хипотенузе и супротне катете једног угла зове се косеканс (cosecans) тога угла, а означава се:

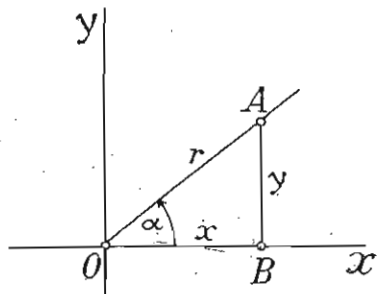
$$\operatorname{cosec} \alpha = \frac{c}{a}, \text{ а } \operatorname{cosec} \beta = \frac{c}{b}.$$

Разуме се, односи страна правоуглог троугла не мењају се ако се угао не мења, а стране се мењају. Тако, из правоуглог троугла  $ADC$  (сл. 7), који је половина равностраног

троугла  $ABC$  је  $\sin 60^\circ = \frac{a\sqrt{3}}{2} = \frac{a\sqrt{3}}{2a} = \frac{\sqrt{3}}{2}$ . Ова функција имаће исту вредност, ако страна равностраног троугла постаје  $a+1$ ,  $a+2$ ,  $a+3$  итд. Исти је случај ма са којом функцијом угла од  $60^\circ$ , ако се овај угао не мења, а страна  $a$  постаје поступно већа или мања.

*Напомена.* Како су катете по величини мање од хипотенузе, то синус и косинус не могу бити бројеви већи од јединице, секанси и косеканси могу бити само бројеви већи од јединице, а тангенс и котангенс могу бити ма какви бројеви, већи, мањи или једнаки јединици.

2. Како координате ма које тачке у равни  $x$  и  $y$  и њен радиус  $r$  склапају правоугли троугао (сл. 5), то гониометриске функције неког угла  $\alpha$ , чије се теме поклапа са координатним почетком, један крак с позитивним правцем апсцисне осовине, а други крак с радиусом, јесу:



Сл. 5

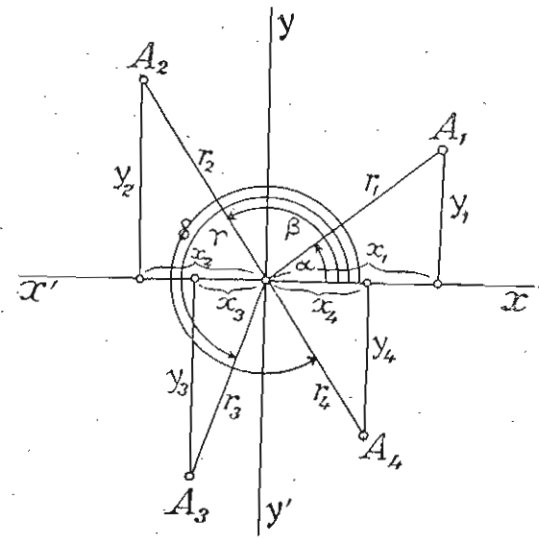
$$\begin{aligned} \sin \alpha &= \frac{y}{r}, & \cotg \alpha &= \frac{x}{y}, \\ \cos \alpha &= \frac{x}{r}, & \sec \alpha &= \frac{r}{x} \text{ и} \\ \tg \alpha &= \frac{y}{x}, & \operatorname{cosec} \alpha &= \frac{r}{y}. \end{aligned}$$

Према овоме, тригонометриске функције неког угла чије се теме поклапа са координатним почетком, почетни крак увек с позитивном страном апсцисне осовине, а потоњи с радиусом неке тачке у равни, можемо сматрати као вредности размера координата  $x$  и  $y$  и радиуса  $r$  неке тачке, и то:

1) синус као вредност размере између ординате  $y$  и радиуса  $r$ ; 2) косинус као вредност размере између апсцисе  $x$  и радиуса  $r$ ; 3) тангес као вредност размере између ординате  $y$  и апсцисе  $x$ ; 4) котангес као вредност размере између апсцисе  $x$  и ординате  $y$ ; 5) секанс као вредност размере између радиуса  $r$  и апсцисе  $x$ ; и 6) косеканс као вредност размере између радиуса  $r$  и ординате  $y$ .

3) Пошто су координате тачака у разним квадрантима

различно означене, а њихови радиуси јесу увек позитивни, то гониометриске функције, као вредност размера тих количина, за углове у разним квадрантима, јесу различито означене. Тако: 1) За оштри угао  $\alpha$  (сл. 6), који припада I квадранту, јесу све функције позитивне; 2) За тупи угао  $\beta$ , који припада II квадранту,



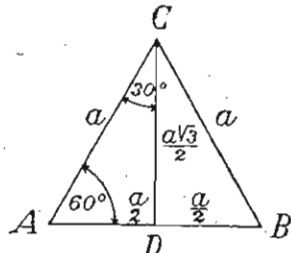
Сл. 6

позитивни су само синуси и косеканси ( $\sin \beta = \frac{y_2}{r_2}$ ,  $\operatorname{cosec} \beta = \frac{r_2}{y_2}$ ) а остале функције су негативне ( $\cos \beta = \frac{-x_2}{r_2}$ ,  $\tg \beta = \frac{y_2}{-x_2}$ ,  $\cotg \beta = \frac{-x_2}{y_2}$ ,  $\sec \beta = \frac{-r_2}{x_2}$ ); 3) За тупоиспупчени угао  $\gamma$ , који припада III квадранту, позитивни су само тангенс и котангенс ( $\tg \gamma = \frac{-y_3}{-x_3} = \frac{y_3}{x_3}$ ,  $\cotg \gamma = \frac{-x_3}{-y_3} = \frac{x_3}{y_3}$ ), а остале су функције негативне ( $\sin \gamma = \frac{-y_3}{r_3}$ ,  $\cos \gamma = \frac{-x_3}{r_3}$ ,  $\sec \gamma = \frac{r_3}{-x_3}$ ,  $\operatorname{cosec} \gamma = \frac{r_3}{-y_3}$ ), и 4) За оштроиспупчени угао  $\delta$ , који припада IV квадранту, позитивне су само функције косинус и секанс ( $\cos \delta = \frac{x_4}{r_4}$ ,  $\sec \delta = \frac{r_4}{x_4}$ ), а остале су функције негативне ( $\sin \delta = \frac{-y_4}{r_4}$ ,  $\tg \delta = \frac{-y_4}{x_4}$ ,  $\cotg \delta = \frac{x_4}{-y_4}$ ,  $\operatorname{cosec} \delta = \frac{r_4}{-y_4}$ ).

Ради веће прегледности знакова гониометриских функција наводимо следеће таблице:

| а) синус и косеканс |    | б) косинус и секанс |    | в) тангес и котангенс |    |
|---------------------|----|---------------------|----|-----------------------|----|
| II                  | I  | II                  | I  | II                    | I  |
| +                   | +  | -                   | +  | -                     | +  |
| III                 | IV | III                 | IV | III                   | IV |
| -                   | -  | -                   | +  | +                     | -  |

§ 5. Израчунавање функција углова од  $60^\circ$ ,  $30^\circ$  и  $45^\circ$   
 Риди израчунавања функција углова од  $60^\circ$  и  $30^\circ$  треба да конструишемо најпре равностранни троугао, а затим да спустимо једну од његових висина.  
 У добивеним правоуглим троугловима оштри су углови од  $60^\circ$  и  $30^\circ$ . Из  $\triangle ADC$  (сл. 7) имамо:



Сл. 7

$$a) \sin 60^\circ = \frac{\frac{a\sqrt{3}}{2}}{a} = \frac{a\sqrt{3}}{2a} = \frac{\sqrt{3}}{2}$$

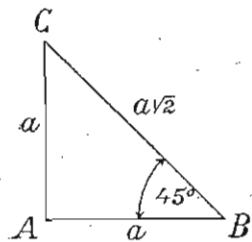
$$\cos 60^\circ = \frac{\frac{a}{2}}{a} = \frac{a}{2a} = \frac{1}{2}; \quad \operatorname{tg} 60^\circ = \frac{\frac{a\sqrt{3}}{2}}{\frac{a}{2}} = \sqrt{3};$$

$$\operatorname{cotg} 60^\circ = \frac{\frac{a}{2}}{\frac{a\sqrt{3}}{2}} = \frac{1}{\sqrt{3}} = \frac{\sqrt{3}}{3}; \quad \operatorname{sec} 60^\circ = \frac{a}{\frac{a}{2}} = 2; \quad \operatorname{cosec} 60^\circ = \frac{a}{\frac{a\sqrt{3}}{2}} = \frac{2\sqrt{3}}{3};$$

$$b) \sin 30^\circ = \frac{\frac{a}{2}}{a} = \frac{1}{2}; \quad \cos 30^\circ = \frac{\frac{a\sqrt{3}}{2}}{a} = \frac{\sqrt{3}}{2}; \quad \operatorname{tg} 30^\circ = \frac{\frac{a}{2}}{\frac{a\sqrt{3}}{2}} = \frac{1}{\sqrt{3}} = \frac{\sqrt{3}}{3};$$

$$\operatorname{cotg} 30^\circ = \frac{\frac{a\sqrt{3}}{2}}{\frac{a}{2}} = \sqrt{3}; \quad \operatorname{sec} 30^\circ = \frac{a}{\frac{a\sqrt{3}}{2}} = \frac{2}{\sqrt{3}} = \frac{2\sqrt{3}}{3}; \quad \operatorname{cosec} 30^\circ = \frac{a}{\frac{a}{2}} = 2.$$

Напомена: Посматрањем вредности функција углова од  $60^\circ$  и  $30^\circ$  видимо да је  $\sin 60^\circ = \cos 30^\circ$ ,  $\cos 60^\circ = \sin 30^\circ$ ,  $\operatorname{tg} 60^\circ = \operatorname{cotg} 30^\circ$ ,  $\operatorname{cotg} 60^\circ = \operatorname{tg} 30^\circ$ ,  $\operatorname{sec} 60^\circ = \operatorname{cosec} 30^\circ$  и  $\operatorname{cosec} 60^\circ = \operatorname{sec} 30^\circ$ .



Сл. 8

Исти однос постоји између функција осталих комплементних углова, што ћемо доцније видети.  
 c) Ради израчунавања функција угла од  $45^\circ$ , треба да конструишемо правоугли равнокрак троугао, код кога су оштри углови по  $45^\circ$ . Из  $\triangle ABC$  (сл. 8) имамо:

$$\sin 45^\circ = \frac{a}{a\sqrt{2}} = \frac{1}{\sqrt{2}} = \frac{\sqrt{2}}{2}; \quad \cos 45^\circ = \frac{a}{a\sqrt{2}} = \frac{1}{\sqrt{2}} = \frac{\sqrt{2}}{2};$$

$$\operatorname{tg} 45^\circ = \frac{a}{a} = 1;$$

$$\operatorname{cotg} 45^\circ = \frac{a}{a} = 1; \quad \operatorname{sec} 45^\circ = \frac{a\sqrt{2}}{a} = \sqrt{2}; \quad \operatorname{cosec} 45^\circ = \frac{a\sqrt{2}}{a} = \sqrt{2}.$$

§ 6. Задатак тригонометрије и њена подела. Тригонометрија је онај део геометрије који решава геометриске задатке рачунским путем, уз помоћ гониометријских функција. Њен је главни задатак решавање троуглова. Решити један троугао значи помоћу довољног броја датих елемената тога троугла наћи његове остале елементе. Решавање се може извршити на два начина: конструкцијом и рачунским путем. Метод конструкције није тачан, јер при решавању помоћу лењира, шестара, и угломера, које справе нису прецизно тачне и радећи руком, служећи се писаљком или кредом, добивамо непознате елементе само приближно, а никако тачно. Напротив, радећи рачунским путем израчунавамо непознате елементе тачно.

Тригонометрија се дели на: гониометрију, равну тригонометрију и сферну тригонометрију. Гониометрија испитује случајеве растења и опадања гониометријских функција, налази везу између функција истог угла и везу између функција разних углова, стварајући тиме потребан број образаца који се примењују при решавању троуглова и осталих слика. Равна тригонометрија бави се решавањем равних слика, а сферна решавањем сферних троуглова.

§ 7. Питања и задаци за вежбу

- 1) Шта је правоугли координатни систем?
- 2) Како се зову координатне осовине и како се означавају?
- 3) Шта је координатни почетак и како се означава?
- 4) Чиме је положај тачке у равни одређен?
- 5) Шта је апсциса а шта ордината неке тачке у равни, и како се означавају?
- 6) Шта је радиус вектор неке тачке, и како се означава?
- 7) Конструиши тачке чији су координате:  $(0, 5)$ ,  $(4, 3)$ ,  $(5, -7)$ ,  $(-3, -5)$ ,  $(-6, 7)$ ,  $(0, -3)$ ,  $(0, 6)$  и  $(-5, 0)$ .
- 8) У којим се квадрантима налазе тачке:  $(5, 6)$ ,  $(-5, -6)$ ,  $(-3, 7)$ ,  $(3, -4)$ ,  $(-4, 5)$  и  $(5, -6)$ ?
- 9) Ако један угао постаје обртањем позитивне стране апсцисне осовине у позитивном или негативном смислу, онда у коме се квадранту налазе углови:  $50^\circ$ ,  $-30^\circ$ ,  $135^\circ$ ,  $-150^\circ$ ,  $200^\circ$ ,  $-220^\circ$ ,  $290^\circ$ ,  $300^\circ$ ,  $-350^\circ$ ,  $450^\circ$ ,  $750^\circ$ ,  $-800^\circ$ ,  $1500^\circ$ ,  $1800^\circ$ ,  $-2000^\circ$  и  $2400^\circ$ ?
- 10) Шта су гониометријске функције, и како се зову?
- 11) Каква је променљива количина угао код гониометријских функција?

12) Какви бројеви могу бити  $\sin$  и  $\cos$  једног угла?

13) " " " "  $\sec$  и  $\operatorname{cosec}$  " "

14) " " " "  $\operatorname{tg}$  и  $\operatorname{cotg}$  " "

15) Који од бројева:  $-3, -2, -1, 0, 50, \frac{1}{2}, \frac{1}{3}, \frac{3}{5}, 1, 2, 3$  могу бити вредности синуса и косинуса неког угла?

16) Који од бројева:  $-4, -2, \frac{3}{5}, \frac{5}{3}, 3, 5, \frac{1}{2}, \frac{2}{3}, \frac{3}{2}$  могу бити вредности секанса и косеканса неког угла?

17) Који од бројева:  $-5, -3, -1, 0, \frac{3}{4}, -\frac{5}{6}, \frac{7}{5}, 2, 4, 5$  могу бити вредности тангенса и котангенса неког угла?

18) Наћи вредност свих гониометријских функција углова добивених повлачењем радиус-вектора тачака у равни, када су те тачке: 1)  $x = 3, y = 4$ ; 2)  $x = -3, y = 4$ ; 3)  $x = -8, y = -6$ ; и 4)  $x = 9, y = -12$ .

19) Синус неког угла је  $\frac{3}{4}$ . Одреди ординату тачке чији радиус  $r = 16$  заклапа дотични угао.

20) Косинус неког угла је  $\frac{5}{6}$ . Одреди апсцису тачке чији радиус  $r = 12$  заклапа дотични угао.

21) Тангенс неког угла је  $\frac{3}{7}$ . Одреди апсцису тачке чији радиус заклапа дотични угао, ако је њена ордината  $y = 15$ .

22) Тангенс неког угла је 2. Одреди радиус неке тачке, који заклапа дотични угао, ако тачка има апсцису  $x = 4$ .

## ГОНИОМЕТРИЈА

### § 8. Графичко претстављање гониометријских функција код круга полупречника $r = 1$

Ако се центар круга  $O$  поклапа с координатним почетком правоуглога координатног система (сл. 9), онда координате ма које тачке на периферији круга и њен полупречник граде правоугли троугао. Ако посматрамо угао који гради полупречник ма које тачке кружне периферије с позитивном страном апсцисне осовине ( $x$ ) и ако претпоставимо да је полупречник круга  $r = 1$ , онда је:

$$\sin \alpha = \frac{AP}{OA} = \frac{AP}{r} = \frac{AP}{1} = AP, \quad \cos \alpha = \frac{OP}{OA} = \frac{OP}{r} = \frac{OP}{1} = OP.$$

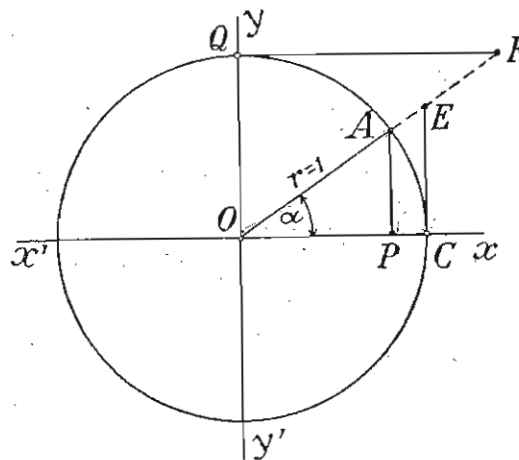
Према овоме, ако једна тачка припада кружној периферији са полупречником  $r = 1$ , онда је ордината те тачке  $\sin \alpha$ , а

апсциса  $\cos \alpha$  онога угла који граде полупречник те тачке с позитивном страном апсцисне осовине.

Да бисмо нашли оне дужи на кругу  $O$  (сл. 9), које претстављају остале функције угла  $\alpha$ , служимо се сличношћу правоуглих троуглова:  $OAP$ ,  $OEC$  и  $OFQ$ . Ти су троуглови слични, јер имају једнаке углове. Из сличности троуглова  $OAP$  и  $OEC$  (сл. 8) имамо: 1)  $\frac{AP}{OP} = \frac{EC}{OC}$  и 2)  $\frac{OA}{OP} = \frac{OE}{OC}$ , а из сличности троуглова  $OAP$  и  $OFQ$  имамо: 3)  $\frac{OP}{AP} = \frac{OQ}{QF}$  и 4)  $\frac{OA}{AP} = \frac{OF}{OQ}$ .

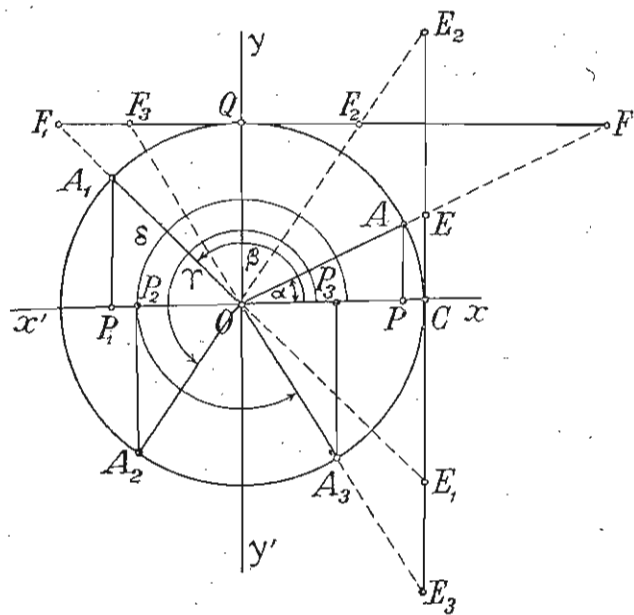
Стога је:

$$1) \operatorname{tg} \alpha = \frac{AP}{OP} = \frac{EC}{OC} = \frac{EC}{r} = \frac{EC}{1} = EC; \quad \operatorname{cotg} \alpha = \frac{OP}{AP} = \frac{OQ}{QF} = \frac{OQ}{QF} = \frac{QF}{OQ} = QF; 3) \sec \alpha = \frac{OA}{OP} = \frac{OE}{OC} = \frac{OE}{r} = \frac{OE}{1} = OE; \text{ и } 4) \operatorname{cosec} \alpha = \frac{OA}{AP} = \frac{OF}{OQ} = \frac{OF}{r} = \frac{OF}{1} = OF, \text{ тј. код круга са полупречником } r = 1, \text{ под тангентом једног његовог централног угла разумено ону тангенту која је повучена из тачке } C \text{ (пресечне тачке круга с позитивном страном апсцисне осовине) до пресека с оним продуженим полупречником који гради с позитивном страном апсцисне осовине дотични угао. Котангента је тангента повучена из тачке } Q \text{ (пресечне тачке круга с позитивном страном ординатне осовине) до пресека с истим полупречником. Секанта је отсечак полупречника од координатног почетка до пресека са тангентом. Косеканта је отсечак полупречника од координатног почетка до пресека са котангентом. На сл. 10 конструисане су дужи које претстављају гониометријске функције оштрог угла } \alpha, \text{ тупог } \beta, \text{ тупоиспученог } \gamma \text{ и оштроиспученог } \delta. \text{ Те су дужи :}$$



Сл. 9

ченог  $\gamma$  и оштроиспученог  $\delta$ . Те су дужи :



Сл. 10

- |  |  |
|--|--|
| 1) $\sin \alpha = AP,$                 | 2) $\sin \beta = A_1P_1,$              |
| $\cos \alpha = OP,$                    | $\cos \beta = -OP_1,$                  |
| $\operatorname{tg} \alpha = CE,$       | $\operatorname{tg} \beta = CE_1,$      |
| $\operatorname{cotg} \alpha = QF,$     | $\operatorname{cotg} \beta = QF_1,$    |
| $\sec \alpha = OE,$                    | $\sec \beta = OE_1,$                   |
| $\operatorname{cosec} \alpha = OF,$    | $\operatorname{cosec} \beta = OF_1.$   |
| 3) $\sin \gamma = -A_2P_2,$            | 4) $\sin \delta = -A_3P_3,$            |
| $\cos \gamma = -OP_2,$                 | $\cos \delta = OP_3,$                  |
| $\operatorname{tg} \gamma = CE_2,$     | $\operatorname{tg} \delta = -CE_3,$    |
| $\operatorname{cotg} \gamma = QF_2,$   | $\operatorname{cotg} \delta = -QF_3,$  |
| $\sec \gamma = -OE_2,$                 | $\sec \delta = OE_3,$                  |
| $\operatorname{cosec} \gamma = -OF_2.$ | $\operatorname{cosec} \delta = -OF_3.$ |

**Напомена.** — Секанте и косеканте су позитивне када су отсечци полупречника у истом смислу с полупречником, а негативне су ако су отсечци полупречника у супротном смислу.

### § 9) Међусобни однос гониометријских функција истог угла

— Основни обрасци —

A) Однос гониометријских функција истог оштрог угла.

1. Из  $\triangle ABC$  (сл. 4) по Питагорином правилу имамо

$$a^2 + b^2 = c^2 \dots (1)$$

Дељењем ове једначине са  $c^2$  добијамо:

$$\left(\frac{a}{c}\right)^2 + \left(\frac{b}{c}\right)^2 = 1, \text{ или}$$

$$\sin^2 \alpha + \cos^2 \alpha = 1 \dots (1)$$

тј. збир квадрата синуса и косинуса истог угла = 1.

2. Дељењем једначине (1) са  $b^2$  добијамо:

$$\left(\frac{a}{b}\right)^2 + 1 = \left(\frac{c}{b}\right)^2, \text{ или } \left(\frac{c}{b}\right)^2 - \left(\frac{a}{b}\right)^2 = 1,$$

$$\text{или } \sec^2 \alpha - \operatorname{tg}^2 \alpha = 1 \dots (2),$$

тј. разлика квадрата секанса и тангенса истог угла = 1.

3. Дељењем једначине (1) са  $a^2$  добијамо:

$$1 + \left(\frac{b}{a}\right)^2 = \left(\frac{c}{a}\right)^2, \text{ или } \left(\frac{c}{a}\right)^2 - \left(\frac{b}{a}\right)^2 = 1, \text{ или}$$

$$\operatorname{cosec}^2 \alpha - \operatorname{cotg}^2 \alpha = 1 \dots (3)$$

тј. разлика квадрата косеканса и котангенса истог угла = 1.

4. Како је  $\operatorname{tg} \alpha = \frac{a}{b}$  и  $\operatorname{cotg} \alpha = \frac{b}{a}$ , то дељењем са  $c$  и бројитеља и именитеља ових разломака добијамо:

$$\operatorname{tg} \alpha = \frac{\frac{a}{c}}{\frac{b}{c}} = \frac{\sin \alpha}{\cos \alpha} \text{ и } \operatorname{cotg} \alpha = \frac{\frac{b}{c}}{\frac{a}{c}} = \frac{\cos \alpha}{\sin \alpha} \dots (4),$$

тј. тангенс једнога угла једнак је размери између синуса и косинуса тога угла, а котангенс је једнак размери између косинуса и синуса истога угла.

5. Како је: а)  $\operatorname{tg} \alpha = \frac{a}{b}$  и  $\operatorname{cotg} \alpha = \frac{b}{a}$ ; б)  $\sin \alpha = \frac{a}{c}$  и

$\operatorname{cosec} \alpha = \frac{c}{a}$ ; и с)  $\cos \alpha = \frac{b}{c}$  и  $\sec \alpha = \frac{c}{b}$ , то множењем ових једначина добијамо:  $\operatorname{tg} \alpha \cdot \operatorname{cotg} \alpha = 1$ ,  $\sin \alpha \cdot \operatorname{cosec} \alpha = 1$  и  $\cos \alpha \cdot \sec \alpha = 1$ . Одавде је:

$$\operatorname{tg} \alpha = \frac{1}{\operatorname{cotg} \alpha} \text{ и } \operatorname{cotg} \alpha = \frac{1}{\operatorname{tg} \alpha} \dots (5), \sin \alpha = \frac{1}{\operatorname{cosec} \alpha} \text{ и}$$

$$\operatorname{cosec} \alpha = \frac{1}{\sin \alpha} \dots (6) \text{ и } \cos \alpha = \frac{1}{\sec \alpha} \text{ и } \sec \alpha = \frac{1}{\cos \alpha} \dots (7), \text{ тј.}$$

а) тангенс има обрнуту вредност котангенса истог угла;

б) синус „ „ „ косеканса „ „

с) косинус „ „ „ секанса „ „

В) Лако је доказати да су горњи обрасци под А) у важности и за остале врсте углова, што можемо увидети из сл. 10.



Тако, а) тачност обрасца (1) увиђамо:

1) За тупи угао  $\beta$  из троугла  $OA_1P_1$ , где је:

$$A_1P_1^2 + (-OP_1)^2 = OA_1^2 \text{ или } A_1P_1^2 + OP_1^2 = r^2 \text{ или } \sin^2 \beta + \cos^2 \beta = 1;$$

2) За тупоиспупчени угао  $\gamma$  из троугла  $OA_2P_2$ , где је:

$$(-A_2P_2)^2 + (-OP_2)^2 = OA_2^2 \text{ или } A_2P_2^2 + OP_2^2 = r^2 \text{ или } \sin^2 \gamma + \cos^2 \gamma = 1;$$

3) За оштроиспупчени угао  $\delta$  из троугла  $OA_3P_3$ , где је:

$$(-A_3P_3)^2 + OP_3^2 = OA_3^2 \text{ или } A_3P_3^2 + OP_3^2 = r^2 \text{ или } \sin^2 \delta + \cos^2 \delta = 1.$$

б) Тачност обрасца (2) увиђамо:

1) За тупи угао  $\beta$  из троугла  $OCE_1$ , где је:

$$(-OE_1)^2 - (-CE_1)^2 = OC^2 \text{ или } OE_1^2 - CE_1^2 = r^2 \text{ или } \sec^2 \beta - \operatorname{tg}^2 \beta = 1;$$

2) За тупоиспупчени угао  $\gamma$  из троугла  $OCE_2$ , где је:

$$(-OE_2)^2 - CE_2 = OC^2, \text{ или } OE_2^2 - CE_2^2 = r^2, \text{ или } \sec^2 \gamma - \operatorname{tg}^2 \gamma = 1;$$

3) За оштроиспупчени угао  $\delta$  из троугла  $OCE_3$ , где је:

$$OE_3^2 - (-CE_3)^2 = OC^2, \text{ или } OE_3^2 - CE_3^2 = r^2, \text{ или } \sec^2 \delta - \operatorname{tg}^2 \delta = 1;$$

в) Тачност обрасца (3) увиђамо:

1) За тупи угао  $\beta$  из троугла  $OQF_1$ , где је:

$$OF_1^2 - (-QF_1)^2 = OQ^2, \text{ или } OF_1^2 - QF_1^2 = r^2, \text{ или } \operatorname{cosec}^2 \beta - \operatorname{cotg}^2 \beta = 1;$$

2) За тупоиспупчени угао  $\gamma$  из троугла  $OQE_2$ , где је:

$$(-OF_2)^2 - QF_2^2 = OQ^2, \text{ или } OF_2^2 - QF_2^2 = r^2, \text{ или } \operatorname{cosec}^2 \gamma - \operatorname{cotg}^2 \gamma = 1;$$

3) За оштроиспупчени угао  $\delta$  из троугла  $OQF_3$ , где је:

$$(-OF_3)^2 - (-QF_3)^2 = OQ^2 \text{ или } OF_3^2 - QF_3^2 = r^2, \text{ или } \operatorname{cosec}^2 \delta - \operatorname{cotg}^2 \delta = 1.$$

г) Тачност обрасца (4) увиђамо:

1) За тупи угао  $\beta$  из сличности троуглова  $OA_1P_1$  са троугловима

$$OCE_1 \text{ и } OQF_1, \text{ где је: } -\frac{CE_1}{OC} = \frac{A_1P_1}{-OP_1}, \text{ или } \frac{CE_1}{r} = \frac{A_1P_1}{OP_1}, \text{ или } CE_1 = \frac{A_1P_1}{OP_1}, \text{ или}$$

$$\operatorname{tg} \beta = \frac{\sin \beta}{\cos \beta}; \text{ а тако исто:}$$

$$\frac{-QF_1}{OQ} = \frac{-OP_1}{A_1P_1}, \text{ или } \frac{QF_1}{r} = \frac{OP_1}{A_1P_1}, \text{ или } QF_1 = \frac{OP_1}{A_1P_1}, \text{ или } \operatorname{cotg} \beta = \frac{\cos \beta}{\sin \beta};$$

2) За тупоиспупчени угао  $\gamma$  из сличности троугла  $OA_2P_2$  са троугловима  $OCE_2$  и  $OQF_2$ , где је:

$$\frac{CE_2}{OC} = \frac{-A_2P_2}{-OP_2}, \text{ или } \frac{CE_2}{r} = \frac{A_2P_2}{OP_2}, \text{ или } CE_2 = \frac{A_2P_2}{OP_2}, \text{ или } \operatorname{tg} \gamma = \frac{\sin \gamma}{\cos \gamma};$$

$$\text{а тако исто: } \frac{QF_2}{OQ} = \frac{-OP_2}{-A_2P_2}, \text{ или } \frac{QF_2}{r} = \frac{OP_2}{A_2P_2}, \text{ или } QF_2 = \frac{OP_2}{A_2P_2},$$

$$\text{или } \operatorname{cotg} \gamma = \frac{\cos \gamma}{\sin \gamma};$$

3) За оштроиспупчени угао  $\delta$  из сличности троугла  $OA_3P_3$  са троугловима  $OCE_3$  и  $OQF_3$ , где је:

$$\frac{-CE_3}{OC} = \frac{-A_3P_3}{OP_3}, \text{ или } \frac{CE_3}{r} = \frac{A_3P_3}{OP_3}, \text{ или } CE_3 = \frac{A_3P_3}{OP_3}, \text{ или } \operatorname{tg} \delta = \frac{\sin \delta}{\cos \delta}; \text{ а та-$$

$$\text{ко исто: } \frac{-OF_3}{OQ} = \frac{OP_3}{-A_3P_3}, \text{ или } \frac{QF_3}{r} = \frac{OP_3}{A_3P_3}, \text{ или } QF_3 = \frac{OP_3}{A_3P_3}, \text{ или } \operatorname{cotg} \delta =$$

$$= \frac{\cos \delta}{\sin \delta}.$$

е) Тачност обрасца под (5) за остале углове увиђамо на исти начин као и за оштре углове.

в) Примена основних образаца. — Важност горњих основних образаца је велика, јер је њихова примена у Тригонометрији врло честа. Помоћу ових образаца можемо наћи све остале функције једног угла, ако знамо само једну, ма коју функцију тога угла, и претворити израз у коме фигуришу различите функције једног угла, у израз са само једном функцијом његовом.

Како је  $\sin \alpha = \pm \sqrt{1 - \cos^2 \alpha}$ ,  $\cos \alpha = \pm \sqrt{1 - \sin^2 \alpha}$ ,  $\sec \alpha = \pm \sqrt{1 + \operatorname{tg}^2 \alpha}$  и  $\operatorname{cosec} \alpha = \pm \sqrt{1 + \operatorname{cotg}^2 \alpha}$ , то при израчунавању  $\sin \alpha$ ,  $\cos \alpha$ ,  $\sec \alpha$  и  $\operatorname{cosec} \alpha$  узимамо само један знак пред кореном, што зависи од угла  $\alpha$ . Ако је угао  $\alpha$  оштар, узимамо само позитивне знакове; ако је туп, узимамо позитивне знакове за  $\sin \alpha$  и  $\operatorname{cosec} \alpha$ , а негативне за  $\cos \alpha$  и  $\sec \alpha$ ; ако је тупоиспупчен, узимамо само негативне знакове; и најзад, ако је оштроиспупчен, узимамо негативне знакове за  $\sin \alpha$  и  $\operatorname{cosec} \alpha$ , а позитивне за  $\cos \alpha$  и  $\sec \alpha$ .

Решени примери (узимамо да су дати углови оштри):

1) Зна се  $\sin \alpha = \frac{12}{13}$ ; наћи остале функције тога угла.

$$\text{Из обрасца (1) имамо: } \cos \alpha = \sqrt{1 - \sin^2 \alpha} = \sqrt{1 - \left(\frac{12}{13}\right)^2} = \sqrt{\frac{25}{169}} = \frac{5}{13};$$

$$\text{из обрасца (4): } \operatorname{tg} \alpha = \frac{\sin \alpha}{\cos \alpha} = \frac{\frac{12}{13}}{\frac{5}{13}} = \frac{12}{5} = 2\frac{2}{5} \text{ и } \operatorname{cotg} \alpha = \frac{\cos \alpha}{\sin \alpha} = \frac{5}{12};$$

$$\text{из (5): } \operatorname{cosec} \alpha = \frac{1}{\sin \alpha} = \frac{13}{12} = 1\frac{1}{12}; \text{ и из (7): } \sec \alpha = \frac{1}{\cos \alpha} = \frac{13}{5} = 2\frac{3}{5}.$$

2) Зна се  $\cos \beta = \frac{2}{3}$ ; наћи остале функције тога угла.

$$\text{Из обрасца (1) имамо: } \sin \beta = \sqrt{1 - \cos^2 \beta} = \sqrt{1 - \frac{4}{9}} = \sqrt{\frac{5}{9}} = \frac{\sqrt{5}}{3},$$

па је даљи рад као код првог примера.

3) Зна се  $\operatorname{tg} \gamma = \frac{7}{24}$ ; наћи остале његове функције.

$$\text{Из обрасца (5) имамо: } \operatorname{cotg} \gamma = \frac{1}{\operatorname{tg} \gamma} = \frac{24}{7}; \text{ из (2): } \sec \gamma = \sqrt{1 + \operatorname{tg}^2 \gamma} =$$

$$= \sqrt{1 + \frac{49}{576}} = \sqrt{\frac{625}{576}} = \frac{25}{24}; \text{ из (3) } \operatorname{cosec} \gamma = \sqrt{1 + \operatorname{cotg}^2 \gamma} =$$

$$= \sqrt{1 + \frac{576}{49}} = \sqrt{\frac{625}{49}} = \frac{25}{7}; \text{ из (6): } \sin \gamma = \frac{1}{\operatorname{cosec} \gamma} = \frac{7}{25}; \text{ и из}$$

(7):  $\cos \gamma = \frac{1}{\sec \gamma} = \frac{24}{25}$ .

4) Зна се  $\cotg \omega = \frac{24}{7}$ ; наћи остале његове функције.

Из обрасца (5) имамо:  $\tg \omega = \frac{1}{\cotg \omega} = \frac{7}{24}$ , па се даље ради као код трећег примера.

5) Зна се  $\operatorname{cosec} \alpha = 3\frac{4}{7}$ ; наћи остале његове функције.

Из обрасца (6) имамо:  $\sin \alpha = \frac{1}{\operatorname{cosec} \alpha} = \frac{7}{25}$ , па је даљи рад као код првог примера.

6) Зна се  $\sec \varepsilon = \frac{41}{40}$ ; наћи његове остале функције. Из

обрасца (7) имамо:  $\cos \varepsilon = \frac{1}{\sec \varepsilon} = \frac{40}{41}$ , па је даљи рад као код другог примера.

7) Примери за вежбу. Наћи остале функције када је 1)  $\sin \alpha = \frac{4}{5}$ ; 2)  $\operatorname{cosec} \beta = \sqrt{3}$ ; 3)  $\tg \gamma = \frac{3}{4}$ ; 4)  $\cos \alpha = \frac{7}{9}$ ; 5)  $\sec \beta = 1\frac{4}{5}$ ; 6)  $\cot \gamma = 0,6$ ; а 7)  $\sec \omega = 2,37$ .

8) Претвори  $\sec \alpha = \frac{1}{\cos \alpha} + \frac{\tg \alpha}{\sin \alpha}$  у израз у коме се налази само  $\cos \alpha$ ;

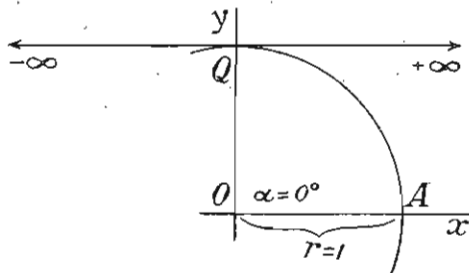
9) Претвори  $(1 + \cos \alpha)(1 - \cos \alpha) + \tg \alpha(\cotg^2 \alpha - 1)$  у израз у коме се налази само  $\tg \alpha$ ;

10) Претвори  $\frac{\cos \alpha}{\sqrt{1 - \cos^2 \alpha}} + \frac{\tg \alpha \cos \alpha \sqrt{1 - \sin^2 \alpha}}{1 - \cos^2 \alpha}$  у израз у коме се налази само  $\cotg \alpha$ ;

11) Претвори  $\cos \beta + \frac{\tg \beta \cos \beta}{\sin \beta} + \frac{\sin^2 \beta}{\cos \beta}$  у израз у коме се налази само  $\sec \beta$ .

§ 10. Растење и опадање гониометриских функција када угао расте<sup>1</sup>

Сл. 11



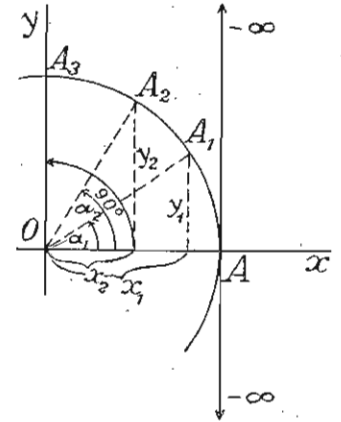
1. Ако се тачка А (сл. 11) налази на позитивној страни апсцисне основне и на периферији круга са  $r = 1$ , онда њен полупречник гради с позитивном страном

<sup>1</sup>) Како секанте и косеканте имају ретку примену, то се ове функције не испитују.

апсцисне осовине угао од  $0^\circ$ . Тада ордината тачке А једнака 0, апсциса јој се претвара у полупречник, тангента у тачку, а котангента је бесконачно велика ( $\pm \infty$ ). Стога је:

$$\begin{array}{l} \sin 0^\circ = 0; \quad \tg 0^\circ = \frac{\sin 0^\circ}{\cos 0^\circ} = \frac{0}{1} = 0; \\ \cos 0^\circ = +1; \quad \cotg 0^\circ = \frac{\cos 0^\circ}{\sin 0^\circ} = \frac{1}{0} = \pm \infty \end{array} \quad \dots (1)$$

1. Ако се тачка А креће по првом квадранту периферије круга (сл. 12), полупречник свакога њенога доцнијег положаја ( $A_1, A_2, \dots$ ) гради с позитивном страном апсцисне осовине све већи и већи оштар угао ( $\alpha_1, \alpha_2, \dots$ ). Тада ординате доцнијих положаја ( $y_1, y_2, \dots$ ) тачке А постају све веће а апсцисе опадају ( $x_1, x_2, \dots$ ). У ономе моменту када угао постане  $90^\circ$ , тачка А налази се на позитивној страни ординатне осовине. Тада јој се ордината претвара у полупречник, апсциса и котангента у тачку, а тангента постаје бесконачно велика ( $\pm \infty$ ). Стога је:

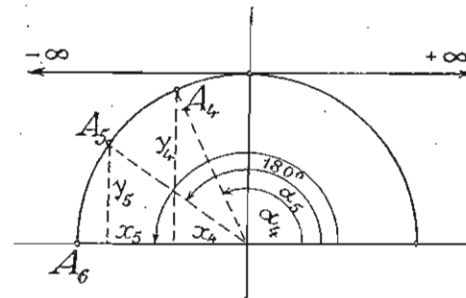


Сл. 12

$$\begin{array}{l} \sin 90^\circ = +1; \quad \tg 90^\circ = \frac{\sin 90^\circ}{\cos 90^\circ} = \frac{1}{0} = \pm \infty; \\ \cos 90^\circ = 0; \quad \cotg 90^\circ = \frac{\cos 90^\circ}{\sin 90^\circ} = \frac{0}{1} = 0. \end{array} \quad \dots (2)$$

3) Кад тачка А продужи даље своје кретање по другом квадранту периферије круга (сл. 13), полупречници њених доцнијих положаја ( $A_4, A_5, \dots$ ) граде с позитивном страном апсцисне осовине све веће и веће тупе углове ( $\alpha_4, \alpha_5, \dots$ ). Тада ординате њених доцнијих положаја постају све мање и мање ( $y_4, y_5, \dots$ ), а њихове апсцисе расту по апсолутној вредности али су негативне ( $x_4, x_5, \dots$ ). У моменту када угао постане  $180^\circ$ , тачка А се налази на негативној страни апсцисне осовине. Тада јој се ор-

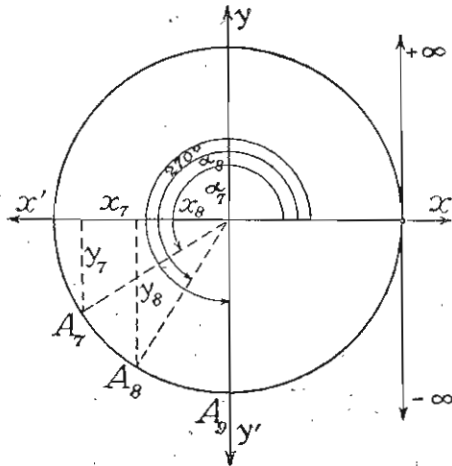
Сл. 13



дината претвара у тачку, апсциса у полупречник, тангента угла од  $180^\circ$  у тачку, а котангента постаје бесконачно велика по апсолутној вредности ( $\mp \infty$ ). Стога је:

$$\left. \begin{aligned} \sin 180^\circ &= 0; & \operatorname{tg} 180^\circ &= \frac{\sin 180^\circ}{\cos 180^\circ} = \frac{0}{-1} = 0; \\ \cos 180^\circ &= -1; & \operatorname{cotg} 180^\circ &= \frac{\cos 180^\circ}{\sin 180^\circ} = \frac{-1}{0} = \mp \infty \end{aligned} \right| \dots(3)$$

4) Када тачка А (сл. 14) продужи даље своје кретање по трећем квадранту периферије круга, полупречници њених доцнијих положаја граде с позитивном страном апсцисне осовине све веће и веће тупоиспупчене углове. Тада ординате њених доцнијих положаја постају све веће и веће по апсолутној вредности, али су негативне, а њихове апсцисе постају све мање и мање по апсолутној вредности, али су и оне негативне. У ономе моменту када угао постане  $270^\circ$ , тачка А се налази на негативној страни ординатне осовине. Тада јој се ордината претвара у полупречник, апсциса у тачку, тангента постаје по апсолутној вредности бесконачно велика ( $\mp \infty$ ), а котангента претвара се у тачку. Стога је:



Сл. 14

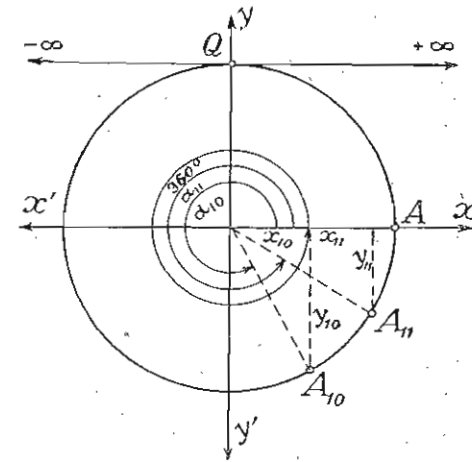
5) Када тачка А (сл. 15) продужи своје кретање по четвртном квадранту периферије круга, полупречници њених доцнијих положаја граде с позитивном страном апсцисне осовине све веће и веће оштроиспупчене углове. Тада ординате њених доцнијих положаја постају све мање и мање по апсолутној вредности, али су и даље негативне, а њихове апсцисе постају све веће и веће и позитивне су. У ономе моменту када угао постане пун ( $360^\circ$ ), тачка А се поново налази на позитивној страни апсцисне осовине (долази у

$$\left. \begin{aligned} \sin 270^\circ &= -1; & \operatorname{tg} 270^\circ &= \frac{\sin 270^\circ}{\cos 270^\circ} = \frac{-1}{0} = \mp \infty \\ \cos 270^\circ &= 0; & \operatorname{cotg} 270^\circ &= \frac{\cos 270^\circ}{\sin 270^\circ} = \frac{0}{-1} = 0. \end{aligned} \right| \dots(4)$$

6) Када упоредимо обрасце (1) и (5), видимо да функције углова од  $0^\circ$  и  $360^\circ$  имају једнаке вредности. Исти случај наступа када тачка А продужи и даље своје кретање по периферији круга, па дође поново у пресечне тачке кружне периферије са координатним осовинама. Тада су функције угла од  $90^\circ$  једнаке са функцијама углова од  $(n \cdot 360^\circ + 90^\circ)$ , функције угла од  $180^\circ$  са функцијама углова од  $(n \cdot 360^\circ + 180^\circ)$ , функције угла од  $270^\circ$  са функцијама од  $(n \cdot 360^\circ + 270^\circ)$ .

7) Како једнаким луцима одговарају једнаки средишни углови, и обрнуто, то уместо да узимамо у обзир централне углове круга полупречника  $r=1$ , можемо узимати њихове одговарајуће аркусе (*arcus*-и јесу лукови који припадају кругу полупречника  $r=1$ ). За  $r=1$ , периферија круга је  $2\pi$ , полукруг  $\pi$ , квадрант  $\frac{\pi}{2}$  а *arcus* од  $270^\circ = \frac{3\pi}{2}$ . Стога је:

$$\begin{aligned} \text{a) } \sin 2\pi &= 0, & \text{b) } \sin \frac{\pi}{2} &= 1, & \text{c) } \sin \pi &= 0, & \text{d) } \sin \frac{3\pi}{2} &= -1, \\ \cos 2\pi &= +1, & \cos \frac{\pi}{2} &= 0, & \cos \pi &= -1, & \cos \frac{3\pi}{2} &= 0, \end{aligned}$$



Сл. 15

свој првобитни положај). Тада јој се ордината претвара у тачку, апсциса у полупречник, тангента угла од  $360^\circ$  претвара се у тачку, а котангента постаје бесконачно велика ( $\pm \infty$ ). Стога је:

$$\left. \begin{aligned} \sin 360^\circ &= 0; & \operatorname{tg} 360^\circ &= \frac{\sin 360^\circ}{\cos 360^\circ} = \frac{0}{1} = 0; \\ \cos 360^\circ &= 1; & \operatorname{cotg} 360^\circ &= \frac{\cos 360^\circ}{\sin 360^\circ} = \frac{1}{0} = \pm \infty \end{aligned} \right| \dots(5)$$

$$tg\ 2\pi = 0, \quad tg\ \frac{\pi}{2} = \pm\infty, \quad tg\ \pi = 0, \quad tg\ \frac{3\pi}{2} = \mp\infty.$$

$$cotg\ 2\pi = \pm\infty, \quad cotg\ \frac{\pi}{2} = 0, \quad cotg\ \pi = \mp\infty, \quad cotg\ \frac{3\pi}{2} = 0.$$

e)  $\sin\left(2n\pi + \frac{\pi}{2}\right) = 1, \quad f) \sin(2n\pi + \pi) = \sin(2n+1)\pi = 0,$   
 $\cos\left(2n\pi + \frac{\pi}{2}\right) = 0, \quad \cos(2n\pi + \pi) = \cos(2n+1)\pi = -1,$   
 $tg\left(2n\pi + \frac{\pi}{2}\right) = \pm\infty, \quad tg(2n\pi + \pi) = tg(2n+1)\pi = 0,$   
 $cotg\left(2n\pi + \frac{\pi}{2}\right) = 0, \quad cotg(2n\pi + \pi) = cotg(2n+1)\pi = \mp\infty.$

m)  $\sin\left(2n\pi + \frac{3\pi}{2}\right) = \sin\frac{4n+3}{2}\pi = -1,$   
 $\cos\left(2n\pi + \frac{3\pi}{2}\right) = \cos\frac{4n+3}{2}\pi = 0,$   
 $tg\left(2n\pi + \frac{3\pi}{2}\right) = tg\frac{4n+3}{2}\pi = \mp\infty,$   
 $cotg\left(2n\pi + \frac{3\pi}{2}\right) = cotg\frac{4n+3}{2}\pi = 0.$

8) Из досадањег излагања о растењу и опадању гониометријских функција, када угао расте, изводимо следећи закључак:

а) *Синуси* оштрих углова позитивни су и њихове вредности варирају од 0 до +1; тупих углова такође су позитивни и њихове вредности варирају од +1 до 0; тупоиспупчених углова јесу негативни и њихове вредности варирају од 0 до -1; оштроиспупчених углова јесу такође негативни и њихове вредности варирају од -1 до 0. Према томе, синус има максималну вредност +1, а минималну -1, и то прву када угао има 90°, или  $n \cdot 360^\circ + 90^\circ$ , а другу када угао има 270°, или  $n \cdot 360^\circ + 270^\circ$ .

**Мењање синуса**

|   |  |
|---|--|
| $\sin 90^\circ = +1$                      | $\sin(n \cdot 360^\circ + 90^\circ) = +1$  |
| $\sin 180^\circ = 0$                      | $\sin(n \cdot 360^\circ + 180^\circ) = 0$  |
| $\sin(n \cdot 360^\circ + 180^\circ) = 0$ | $\sin 0^\circ = 0$                         |
| $\sin(n \cdot 360^\circ + 180^\circ) = 0$ | $\sin n \cdot 360^\circ = 0$               |
| $\sin 270^\circ = -1$                     | $\sin(n \cdot 360^\circ + 270^\circ) = -1$ |

б) *Косинуси* оштрих углова позитивни су и њихове вредности варирају од +1 до 0, тупих углова су негативни и њихове вредности варирају од 0 до -1; тупоиспупчених углова су негативни и њихове вредности варирају од -1 до 0, оштроиспупчених углова позитивни су и њихове вредности варирају од 0 до +1. Према томе, косинус има максималну вредност +1, а минималну -1, и то прву када угао има 0°, 360° или  $n \cdot 360^\circ$ , а другу када угао има 180° или  $n \cdot 360^\circ + 180^\circ$ .

**Мењање косинуса**

|  |   |
|--|---|
| $\cos 90^\circ = 0$                        | $\cos(n \cdot 360^\circ + 90^\circ) = 0$  |
| $\cos 180^\circ = -1$                      | $\cos 0^\circ = +1$                       |
| $\cos(n \cdot 360^\circ + 180^\circ) = -1$ | $\cos n \cdot 360^\circ = +1$             |
| $\cos 270^\circ = 0$                       | $\cos(n \cdot 360^\circ + 270^\circ) = 0$ |

с) *Тангенси* и *котангенси* су позитивни за оштре и тупоиспупчене углове. Њихове вредности варирају између  $-\infty$  и  $+\infty$ , и то: тангенс има  $+\infty$  вредност када угао има мало мање од 90° или 270°,  $n \cdot 360^\circ + 90^\circ$ , или  $n \cdot 360^\circ + 270^\circ$ , а  $-\infty$  вредност када угао има мало већу вредност од 90° или 270°, котангенс има  $+\infty$  вредност када угао тежи вредности 0°, 360° или  $n \cdot 360^\circ$ , а  $-\infty$  вредност када угао тежи вредности 180° или  $n \cdot 360^\circ + 180^\circ$ .

**Мењање тангенса**

|   |   |
|---|---|
| $tg 90^\circ = +\infty$                 | $tg(n \cdot 360^\circ + 90^\circ) = +\infty$    |
| $tg 180^\circ = 0$                      | $tg 0^\circ = 0$                                |
| $tg(n \cdot 360^\circ + 180^\circ) = 0$ | $tg n \cdot 360^\circ = 0$                      |
| $tg 270^\circ = \mp\infty$              | $tg(n \cdot 360^\circ + 270^\circ) = \mp\infty$ |

### Мењање котангенса

$$\cotg 90^\circ = 0$$

$$\cotg (n \cdot 360^\circ + 90^\circ) = 0$$

Котангенс је негативан и расте по апсолутној вредности

Котангенс је позитиван и опада

$$\cotg 180^\circ = \pm \infty$$

$$\cotg (n \cdot 360^\circ + 180^\circ) = \pm \infty$$

Котангенс је позитиван и опада

Котангенс је негативан и расте по апсолутној вредности

$$\cotg 0^\circ = \pm \infty$$

$$\cotg n \cdot 360^\circ = \pm \infty$$

$$\cotg 270^\circ = 0$$

$$\cotg (n \cdot 360^\circ + 270^\circ) = 0$$

9. Примери за вежбу. Чему су равни изрази:

1)  $a \sin 0^\circ + b \cos 0^\circ - c \operatorname{tg} 180^\circ$ ; 2)  $a \cos 90^\circ - b \operatorname{tg} 180^\circ + c \cotg 90^\circ$ ;

3)  $a^2 \sin 90^\circ + 2ab \cos 180^\circ + b^2 \cos 0^\circ$ ; 4)  $9 \sin 360^\circ + 5 \cotg 0^\circ$ ;

5)  $4 \sin 0^\circ + 5 \cos 90^\circ - 6 \operatorname{tg} 180^\circ$ ; 6)  $a \operatorname{tg} 0^\circ + b \operatorname{cosec} 90^\circ - c \operatorname{tg} 180^\circ - d \cotg 90^\circ$ ;

7)  $\frac{a \cos 0^\circ - b \sec 180^\circ}{a \operatorname{cosec} 90^\circ + b \operatorname{cosec} 270^\circ} + \frac{a \sec 360^\circ - b \cos 360^\circ}{(a+b) \cos 0^\circ - 2a \sin 180^\circ}$

### § 11. Претварање гониометриских функција неоштрих углова у функције оштрих углова и гониометриске функције негативних углова

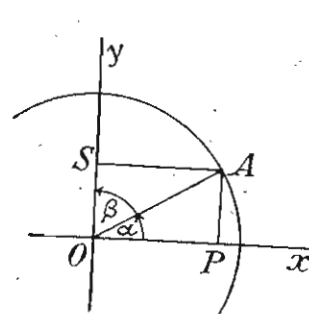
Ово претварање врши се помоћу образаца који нам показују међусобни однос гониометриских функција комплементних и суплементних углова и углова који се разликују за  $90^\circ$ ,  $180^\circ$ ,  $360^\circ$  и  $n \cdot 360^\circ$ .

#### 1. Међусобни однос функција комплементних углова.

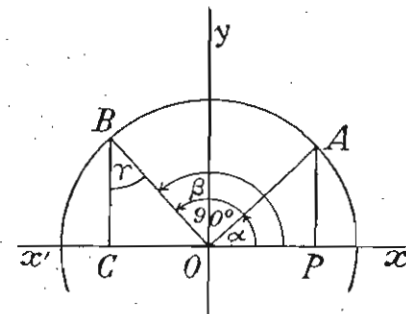
Из правоугаоника  $OPAS$  (сл. 16) имамо:  $AS = OP$ ,  $OS = AP$  и  $\alpha + \beta = 90^\circ$ . Стога је:

$$\begin{aligned} \sin \beta &= \sin (90^\circ - \alpha) = AS = OP = \cos \alpha, \\ \cos \beta &= \cos (90^\circ - \alpha) = OS = AP = \sin \alpha, \\ \operatorname{tg} \beta &= \operatorname{tg} (90^\circ - \alpha) = \frac{\sin (90^\circ - \alpha)}{\cos (90^\circ - \alpha)} = \frac{\cos \alpha}{\sin \alpha} = \cotg \alpha, \dots (1) \\ \cotg \beta &= \cotg (90^\circ - \alpha) = \frac{\cos (90^\circ - \alpha)}{\sin (90^\circ - \alpha)} = \frac{\sin \alpha}{\cos \alpha} = \operatorname{tg} \alpha. \end{aligned}$$

Из ових образаца видимо да су функције једнога угла (синус, тангенс) једнаке с кофункцијама (косинус, котангенс) другога угла.



Сл. 16



Сл. 17

Примери: 1)  $\sin 50^\circ = \sin (90^\circ - 40^\circ) = \cos 40^\circ$ ; 2)  $\cos 72^\circ 30' = \sin 17^\circ 30'$ ; 3)  $\operatorname{tg} 83^\circ 7' 45'' = \cotg 6^\circ 52' 15''$ ; 4)  $\cotg 68^\circ 35' 52'' = \operatorname{tg} 21^\circ 24' 8''$ .

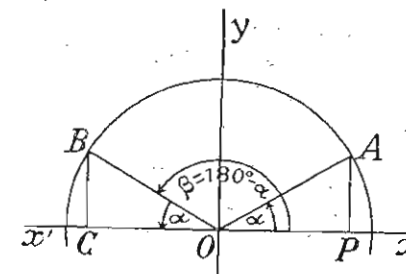
2. Међусобни односи функција од два угла који се разликују за  $90^\circ$ . Овај однос добива се из подударности троуглова  $OBC$  и  $OAP$  (сл. 17). Подударни су зато што имају по једну страну и углове једнаке ( $OA = OB$ ,  $\gamma = \alpha$  пошто су им краци нормални). Из њихове подударности излази да је  $BC = OP$  и  $OC = AP$ . Стога је:

$$\begin{aligned} \sin \beta &= \sin (90^\circ + \alpha) = BC = OP = \cos \alpha; \\ \cos \beta &= \cos (90^\circ + \alpha) = -OC = -AP = -\sin \alpha; \\ \operatorname{tg} \beta &= \operatorname{tg} (90^\circ + \alpha) = \frac{\sin (90^\circ + \alpha)}{\cos (90^\circ + \alpha)} = \frac{\cos \alpha}{-\sin \alpha} = -\frac{\cos \alpha}{\sin \alpha} = -\cotg \alpha, \dots (2) \\ \cotg \beta &= \cotg (90^\circ + \alpha) = \frac{\cos (90^\circ + \alpha)}{\sin (90^\circ + \alpha)} = \frac{-\sin \alpha}{\cos \alpha} = -\operatorname{tg} \alpha. \end{aligned}$$

Помоћу ових образаца, функције тупих углова претварамо у функције оштрих углова. Примери: 1)  $\sin 125^\circ = \sin (90^\circ + 35^\circ) = \cos 35^\circ$ ; 2)  $\cos 150^\circ = \cos (90^\circ + 60^\circ) = -\sin 60^\circ$ ; 3)  $\operatorname{tg} 134^\circ = \operatorname{tg} (90^\circ + 44^\circ) = -\cotg 44^\circ$ ; 4)  $\cotg 122^\circ 7' 43'' = \cotg (90^\circ + 32^\circ 7' 43'') = -\operatorname{tg} 22^\circ 7' 43''$ .

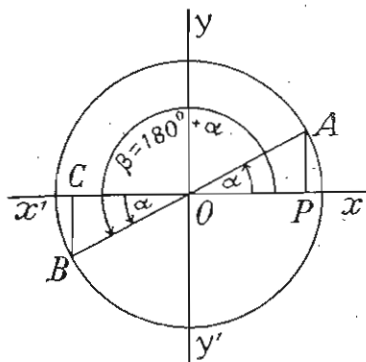
#### 3. Међусобни однос функција суйлементних углова.

Овај однос добива се из подударности троуглова  $OBC$  и  $OAP$  (сл. 18). Из ове подударности излази да је  $BC = AP$  и  $OC = OP$ . Стога је:



Сл. 18

$$\begin{aligned} \sin \beta &= \sin (180^\circ - \alpha) = BC = AP = \sin \alpha, \\ \cos \beta &= \cos (180^\circ - \alpha) = -OC = -OP = -\cos \alpha, \\ \operatorname{tg} \beta &= \operatorname{tg} (180^\circ - \alpha) = \frac{\sin (180^\circ - \alpha)}{\cos (180^\circ - \alpha)} = \frac{\sin \alpha}{-\cos \alpha} = -\operatorname{tg} \alpha, \quad \dots (3) \\ \operatorname{cotg} \beta &= \operatorname{cotg} (180^\circ - \alpha) = \frac{\cos (180^\circ - \alpha)}{\sin (180^\circ - \alpha)} = \frac{-\cos \alpha}{\sin \alpha} = -\operatorname{cotg} \alpha \end{aligned}$$



Сл. 19

И ови обрасци, као и обрасци под (2), служе да функције тупих углова претворимо у функције оштрих углова.

Примери: 1)  $\sin 160^\circ = \sin (180^\circ - 20^\circ) = \sin 20^\circ$ ; 2)  $\cos 153^\circ 50' = -\cos 26^\circ 10'$ ; 3)  $\operatorname{tg} 136^\circ = \operatorname{tg} (180^\circ - 44^\circ) = -\operatorname{tg} 44^\circ$ ; 4)  $\operatorname{cotg} 170^\circ = \operatorname{cotg} (180^\circ - 10^\circ) = -\operatorname{cotg} 10^\circ$ .

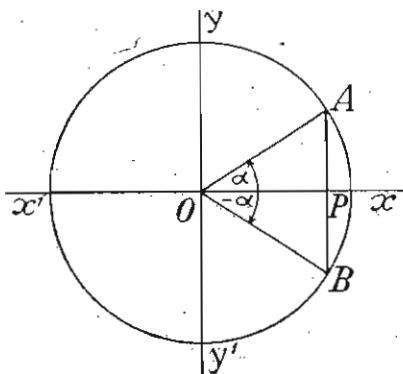
4. Однос функција двају углова који се разликују за  $180^\circ$ . Из подударности троуглова  $OBC$  и  $OAP$  (сл. 19) излази да је  $BC = AP$  и  $OC = OP$ . Стога је:

$$\begin{aligned} \sin \beta &= \sin (180^\circ + \alpha) = -BC = -AP = -\sin \alpha, \\ \cos \beta &= \cos (180^\circ + \alpha) = -OC = -OP = -\cos \alpha, \\ \operatorname{tg} \beta &= \operatorname{tg} (180^\circ + \alpha) = \frac{\sin (180^\circ + \alpha)}{\cos (180^\circ + \alpha)} = \frac{-\sin \alpha}{-\cos \alpha} = \operatorname{tg} \alpha, \quad \dots (4) \\ \operatorname{cotg} \beta &= \operatorname{cotg} (180^\circ + \alpha) = \frac{\cos (180^\circ + \alpha)}{\sin (180^\circ + \alpha)} = \frac{-\cos \alpha}{-\sin \alpha} = \operatorname{cotg} \alpha \end{aligned}$$

Помоћу ових образаца функције тупоислупчених углова претварамо у функције оштрих углова.

Примери: 1)  $\sin 200^\circ = \sin (180^\circ + 20^\circ) = -\sin 20^\circ$ ; 2)  $\cos 235^\circ = \cos (180^\circ + 55^\circ) = -\cos 55^\circ$ ; 3)  $\operatorname{tg} 189^\circ 5' = \operatorname{tg} (180^\circ + 9^\circ 5') = \operatorname{tg} 9^\circ 5'$ ; 4)  $\operatorname{cotg} 192^\circ = \operatorname{cotg} (180^\circ + 12^\circ) = \operatorname{cotg} 12^\circ$ .

5) Однос функција позитивних и негативних\* углова који су по апсолутним вредно-



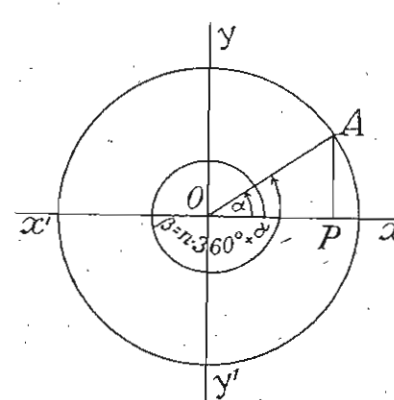
Сл. 20

\* Позитиван је онај угао који постаје обртањем зрака у смеру који је супротан кретању казаљки на часовнику, а негативан је угао који постаје обртањем зрака у смеру кретања казаљки на часовнику.

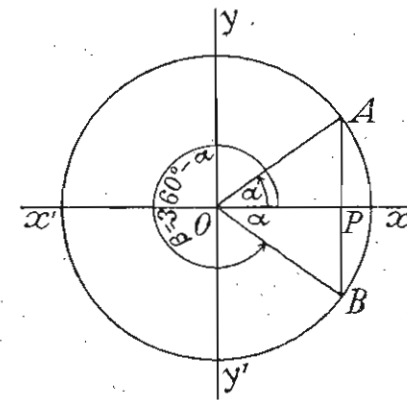
стима једнаки. Из подударности троуглова  $OAP$  и  $OBP$  (сл. 20) излази да је  $BP = AP$ . Стога је:

$$\begin{aligned} \sin (-\alpha) &= -BP = -AP = -\sin \alpha, \\ \cos (-\alpha) &= OP = \cos \alpha, \\ \operatorname{tg} (-\alpha) &= \frac{\sin (-\alpha)}{\cos (-\alpha)} = \frac{-\sin \alpha}{\cos \alpha} = -\operatorname{tg} \alpha, \quad \dots (5) \\ \operatorname{cotg} (-\alpha) &= \frac{\cos (-\alpha)}{\sin (-\alpha)} = \frac{\cos \alpha}{-\sin \alpha} = -\operatorname{cotg} \alpha. \end{aligned}$$

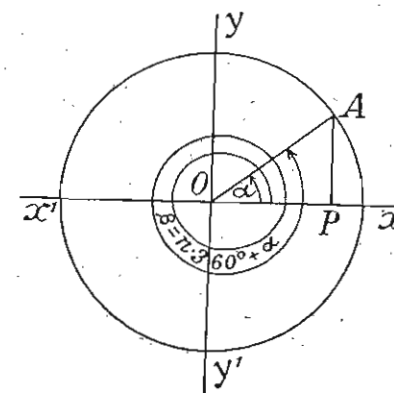
Примери: 1)  $\sin (-35^\circ) = -\sin 35^\circ$ ; 2)  $\cos (-147^\circ) = \cos 147^\circ = \cos (180^\circ - 33^\circ) = -\cos 33^\circ$ ; 3)  $\operatorname{tg} (-100^\circ) = -\operatorname{tg} 100^\circ = -\operatorname{tg} (90^\circ + 10^\circ) = -(-\operatorname{cotg} 10^\circ) = \operatorname{cotg} 10^\circ$ ; 4)  $\operatorname{cotg} (-50^\circ) = -\operatorname{cotg} 50^\circ$ .



Сл. 21



Сл. 22



Сл. 23

6) Однос функција двају углова који се допуњују до  $360^\circ$ . Из подударности троуглова  $OAP$  и  $OBP$  (сл. 22) излази да је  $BP = AP$ . Стога је:

$$\begin{aligned} \sin \beta &= \sin (360^\circ - \alpha) = -BP = -AP = -\sin \alpha, \\ \cos \beta &= \cos (360^\circ - \alpha) = OP = \cos \alpha, \\ \operatorname{tg} \beta &= \operatorname{tg} (360^\circ - \alpha) = \frac{\sin (360^\circ - \alpha)}{\cos (360^\circ - \alpha)} = \frac{-\sin \alpha}{\cos \alpha} = -\operatorname{tg} \alpha, \dots (6) \\ \operatorname{cotg} \beta &= \operatorname{cotg} (360^\circ - \alpha) = \frac{\cos (360^\circ - \alpha)}{\sin (360^\circ - \alpha)} = \frac{\cos \alpha}{-\sin \alpha} = -\operatorname{cotg} \alpha. \end{aligned}$$

Помоћу ових образаца функције оштроиспупчених углова претварамо у функције оштрих углова.

*Примери:* 1)  $\sin 340^\circ = \sin (360^\circ - 20^\circ) = -\sin 20^\circ$ ; 2)  $\cos 280^\circ = \cos (360^\circ - 80^\circ) = \cos 80^\circ = \sin 10^\circ$ ; 3)  $\operatorname{tg} 310^\circ = \operatorname{tg} (360^\circ - 50^\circ) = -\operatorname{tg} 50^\circ$ ; 4)  $\operatorname{cotg} 325^\circ = -\operatorname{cotg} 35^\circ$ .

7. Однос функција двају углова који се разликују за  $360^\circ$   
Из сл. 21 имамо:

$$\begin{aligned} \sin \beta &= \sin (360^\circ + \alpha) = AP = \sin \alpha, \\ \cos \beta &= \cos (360^\circ + \alpha) = OP = \cos \alpha, \\ \operatorname{tg} \beta &= \operatorname{tg} (360^\circ + \alpha) = \frac{AP}{OP} = \frac{\sin \alpha}{\cos \alpha} = \operatorname{tg} \alpha, \dots (7) \\ \operatorname{cotg} \beta &= \operatorname{cotg} (360^\circ + \alpha) = \frac{OP}{AP} = \operatorname{cotg} \alpha. \end{aligned}$$

*Примери.* 1)  $\sin 385^\circ = \sin (360^\circ + 25^\circ) = \sin 25^\circ$ ;  
2)  $\cos 400^\circ = \cos (360^\circ + 40^\circ) = \cos 40^\circ$ ; 3)  $\operatorname{tg} 500^\circ = \operatorname{tg} (360^\circ + 140^\circ) = \operatorname{tg} 140^\circ = \operatorname{tg} (180^\circ - 40^\circ) = -\operatorname{tg} 40^\circ$ ; 4)  $\operatorname{cotg} 600^\circ = \operatorname{cotg} (360^\circ + 240^\circ) = \operatorname{cotg} 240^\circ = \operatorname{cotg} (180^\circ + 60^\circ) = \operatorname{cotg} 60^\circ = \operatorname{tg} 30^\circ$ .

8. Однос функција двају углова који се разликују за  $n \cdot 360^\circ$ .  
Из сл. 23 имамо:

$$\begin{aligned} \sin \beta &= \sin (n \cdot 360^\circ + \alpha) = AP = \sin \alpha, \\ \cos \beta &= \cos (n \cdot 360^\circ + \alpha) = OP = \cos \alpha, \\ \operatorname{tg} \beta &= \operatorname{tg} (n \cdot 360^\circ + \alpha) = \frac{\sin (n \cdot 360^\circ + \alpha)}{\cos (n \cdot 360^\circ + \alpha)} = \frac{\sin \alpha}{\cos \alpha} = \operatorname{tg} \alpha, \dots (8) \\ \operatorname{cotg} \beta &= \operatorname{cotg} (n \cdot 360^\circ + \alpha) = \frac{\cos (n \cdot 360^\circ + \alpha)}{\sin (n \cdot 360^\circ + \alpha)} = \frac{\cos \alpha}{\sin \alpha} = \operatorname{cotg} \alpha. \end{aligned}$$

Помоћу образаца (7) и (8) претварамо функције углова већих од  $360^\circ$  у функције оштрих углова.

*Примери:* 1)  $\sin 750^\circ = \sin (2 \cdot 360^\circ + 30^\circ) = \sin 30^\circ$ ; 2)  $\cos 1130^\circ = \cos (3 \cdot 360^\circ + 50^\circ) = \cos 50^\circ = \sin 40^\circ$ ; 3)  $\operatorname{tg} 1463^\circ = \operatorname{tg} (4 \cdot 360^\circ + 23^\circ) = \operatorname{tg} 23^\circ$ ; 4)  $\operatorname{cotg} 2000^\circ = \operatorname{cotg} (5 \cdot 360^\circ + 200^\circ) = \operatorname{cotg} 200^\circ = \operatorname{cotg} (180^\circ + 20^\circ) = \operatorname{cotg} 20^\circ$ . Уопште, применом образаца из овога параграфа претварамо функције неоштрих углова у функције оштрих углова. Ово је потребно урадити, јер се у логаритамским таблицама налазе само логаритми функција оштрих углова.

9. *Примери за вежбу.* Изрази функцијама оштрих углова следеће функције:

1.  $\sin 128^\circ$ ; 6.  $\cos 288^\circ$ ; 11.  $\operatorname{tg} 620^\circ 35' 7''$ ;
2.  $\cos 139^\circ$ ; 7.  $\operatorname{tg} 139^\circ$ ; 12.  $\operatorname{cotg} 726^\circ 40' 26''$ ;
3.  $\operatorname{tg} 91^\circ$ ; 8.  $\operatorname{cotg} 315^\circ$ ; 13.  $\sin 98^\circ 12' 50''$ ;
4.  $\operatorname{cotg} 163^\circ$ ; 9.  $\sin 430^\circ$ ; 14.  $\cos 110^\circ 9' 30''$ ;
5.  $\sin 205^\circ$ ; 10.  $\cos 538^\circ$ ; 15.  $\operatorname{tg} 159^\circ 9' 30''$ ;
16.  $\sin 1144^\circ 7' 50''$ ;
17.  $\cos 1930^\circ 50' 20''$ ;
18.  $\operatorname{tg} 1283^\circ 40' 50''$ ;
19.  $\operatorname{cotg} 3000^\circ 17' 40''$ ;
20.  $\cos 2500^\circ 35' 42''$ ;

Упростити следеће изразе:

$$\begin{aligned} 21. n \cdot \frac{\sin \alpha \operatorname{tg} (180^\circ + \alpha)}{\operatorname{tg} \alpha \cos (90^\circ - \alpha)}; \quad 22. \frac{(a^2 - b^2) \operatorname{cotg} (180^\circ - \alpha)}{\operatorname{tg} (90^\circ - \alpha)} \\ \frac{(a^2 + b^2) \operatorname{tg} (90^\circ - \alpha)}{\operatorname{cotg} (180^\circ - \alpha)}; \quad 23. \frac{\sin (90^\circ + \alpha) \cos (90^\circ - \alpha)}{\cos (180^\circ + \alpha)} + \\ + \frac{\sin (180^\circ - \alpha) \cos (90^\circ + \alpha)}{\sin (180^\circ + \alpha)}; \quad 24. \frac{\operatorname{tg} (180^\circ + \alpha) \sin (90^\circ + \alpha) \operatorname{cotg} \alpha}{\sin (90^\circ - \alpha) \operatorname{cotg} (180^\circ + \alpha) \operatorname{tg} (180^\circ - \alpha)} \\ 25. \frac{\operatorname{tg} (90^\circ + \alpha) \cos (360^\circ - \alpha) \cos (-\alpha)}{\operatorname{cotg} (180^\circ + \alpha) \sin (360^\circ + \alpha)}; \end{aligned}$$

26. Доказати да је  $\frac{\operatorname{cotg} 52^\circ \cdot \operatorname{cotg} 38^\circ}{\operatorname{tg} 44^\circ \cdot \operatorname{tg} 45^\circ} = \operatorname{cotg} 44^\circ$ .

27. Наћи вредности функција углова од  $120^\circ$ ,  $135^\circ$  и  $150^\circ$ .

## § 12. Гониометриске функције збира двају углова

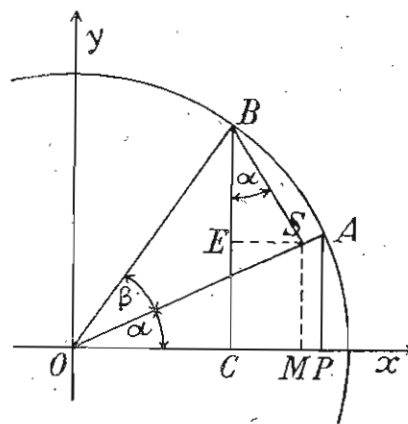
Претпоставимо да углови  $\alpha$  и  $\beta$  (сл. 24) дају збир који је мањи од  $90^\circ$  и  $BS \perp OA$ ,  $SM \perp OX$  и  $SE \parallel OX$ . Тада је:

$AP = \sin \alpha$ ,  $OP = \cos \alpha$ ,  $BS = \sin \beta$  и  $OS = \cos \beta$ ,  $BC = \sin (\alpha + \beta)$  и  $OC = \cos (\alpha + \beta)$ .  
Стора је:

1)  $\sin (\alpha + \beta) = BC = CE + BE = MS + BE$  и  
2)  $\cos (\alpha + \beta) = OC = OM - CM = OM - ES$ .

Да бисмо нашли, дакле,  $\sin (\alpha + \beta)$  и  $\cos (\alpha + \beta)$ , треба да нађемо вредности количина:  $MS$ ,  $BE$ ,  $OM$  и  $ES$ . Ове количине налазимо из троуглова  $OMS$  и  $BES$  којима припадају. Из  $\triangle OMS$  имамо:

а)  $\frac{MS}{OS} = \sin \alpha$ , а



Сл. 24

$$MS = \sin \alpha \cdot OS = \sin \alpha \cdot \cos \beta; \text{ и } b) \frac{OM}{OS} = \cos \alpha,$$

$$a) OM = \cos \alpha \cdot OS = \cos \alpha \cos \beta. \text{ Из } \triangle BES \text{ имамо: } c) \frac{BE}{BS} = \cos \alpha, a) BE = \cos \alpha \cdot BS = \cos \alpha \sin \beta; \text{ и } d) \frac{ES}{BS} = \sin \alpha, a) ES = \sin \alpha \cdot BS = \sin \alpha \sin \beta.$$

Заменом у једначинама (1) и (2) добијамо:

$$\sin(\alpha + \beta) = \sin \alpha \cos \beta + \cos \alpha \sin \beta \dots \dots (1)$$

$$\cos(\alpha + \beta) = \cos \alpha \cos \beta - \sin \alpha \sin \beta \dots \dots (2)$$

Обрасце за  $\operatorname{tg}(\alpha + \beta)$  и  $\operatorname{cotg}(\alpha + \beta)$  налазимо из образаца (1) и (2) уз помоћ 4-ог основног обрасца. Тако имамо

$$\operatorname{tg}(\alpha + \beta) = \frac{\sin(\alpha + \beta)}{\cos(\alpha + \beta)} = \frac{\sin \alpha \cos \beta + \cos \alpha \sin \beta}{\cos \alpha \cos \beta - \sin \alpha \sin \beta} \text{ и}$$

$$\operatorname{cotg}(\alpha + \beta) = \frac{\cos(\alpha + \beta)}{\sin(\alpha + \beta)} = \frac{\cos \alpha \cos \beta - \sin \alpha \sin \beta}{\sin \alpha \cos \beta + \cos \alpha \sin \beta}.$$

Ако поделимо и бројитељ и именитељ првог разломка са  $\cos \alpha \cos \beta$ , а другога разломка са  $\sin \alpha \sin \beta$ , добијамо:

$$\operatorname{tg}(\alpha + \beta) = \frac{\operatorname{tg} \alpha + \operatorname{tg} \beta}{1 - \operatorname{tg} \alpha \operatorname{tg} \beta} \dots (3) \text{ и } \operatorname{cotg}(\alpha + \beta) = \frac{\operatorname{cotg} \alpha \operatorname{cotg} \beta - 1}{\operatorname{cotg} \beta + \operatorname{cotg} \alpha} \dots (4)$$

*Напомена.* Обрасци за функције збира двају углова не само да важе за услов:  $\alpha + \beta < 90^\circ$ , већ и за ма какве углове  $\alpha$  и  $\beta$ , о чему се можемо уверити овако:

a) Претпоставимо најпре да су углови  $\alpha$  и  $\beta$ , оштри углови чији је збир већи од  $90^\circ$  и да су углови  $\alpha'$  и  $\beta'$  њихови комплементни углови. Тада је  $\alpha' + \beta' < 90^\circ$ , те према горњим обрасцима имамо:

$$\sin(\alpha' + \beta') = \sin \alpha' \cos \beta' + \cos \alpha' \sin \beta';$$

$$\cos(\alpha' + \beta') = \cos \alpha' \cos \beta' - \sin \alpha' \sin \beta';$$

$$\operatorname{tg}(\alpha' + \beta') = \frac{\operatorname{tg} \alpha' \operatorname{tg} \beta'}{1 - \operatorname{tg} \alpha' \operatorname{tg} \beta'}, \text{ и } \operatorname{cotg}(\alpha' + \beta') = \frac{\operatorname{cotg} \alpha' \operatorname{cotg} \beta' - 1}{\operatorname{cotg} \beta' + \operatorname{cotg} \alpha'}.$$

Заменом у овим обрасцима  $\alpha'$  и  $\beta'$  са њиховим вредностима  $90^\circ - \alpha$  и  $90^\circ - \beta$  и применом образаца за међусобни однос комплементних и суплементних углова (§ 11, 1 и 3), добијамо сва четири обрасца за функције збира двају углова.

b) Ако претпоставимо да је угао  $\alpha$  туп, а угао  $\beta$  оштар и ако је  $\alpha = 90^\circ + \alpha'$ , где је  $\alpha'$  један оштар угао, онда је:

$$m) \sin(\alpha + \beta) = \sin(90^\circ + \alpha' + \beta) = \cos(\alpha' + \beta) = \cos \alpha' \cos \beta - \sin \alpha' \sin \beta \text{ и } n) \cos(\alpha + \beta) = \cos(90^\circ + \alpha' + \beta) = -\sin(\alpha' + \beta) = -\sin \alpha' \cos \beta - \cos \alpha' \sin \beta. \text{ Па како је } \alpha = 90^\circ + \alpha', \text{ или } -\alpha' = 90^\circ - \alpha, \text{ а } \sin(-\alpha') = \sin(90^\circ - \alpha), \text{ или } -\sin \alpha' = \cos \alpha \text{ и } \cos(-\alpha') = \cos(90^\circ - \alpha), \text{ или } \cos \alpha' = \sin \alpha, \text{ то је заменом, у } m) \text{ и } n):$$

$$\sin(\alpha + \beta) = \sin \alpha \cos \beta + \cos \alpha \sin \beta \text{ и } \cos(\alpha + \beta) = \cos \alpha \cos \beta - \sin \alpha \sin \beta.$$

c) Ако претпоставимо да су углови  $\alpha$  и  $\beta$  тупи, а  $\alpha'$  и  $\beta'$  њихови суплементни углови, онда је према a):

$$p) \sin(\alpha' + \beta') = \sin \alpha' \cos \beta' + \cos \alpha' \sin \beta' \text{ и } q) \cos(\alpha' + \beta') = \cos \alpha' \cos \beta' - \sin \alpha' \sin \beta'. \text{ Заменом } \alpha' = 180^\circ - \alpha \text{ и } \beta' = 180^\circ - \beta \text{ у } p) \text{ и } q) \text{ добијамо опет: } \sin(\alpha + \beta) = \sin \alpha \cos \beta + \cos \alpha \sin \beta \text{ и } \cos(\alpha + \beta) = \cos \alpha \cos \beta - \sin \alpha \sin \beta.$$

### § 13. Гониметриске функције разлике двају углова.

Како је  $\alpha = (\alpha - \beta) + \beta$ , то је по обрасцима за функције збира двају углова:

$$a) \sin \alpha = \sin [(\alpha - \beta) + \beta] = \sin(\alpha - \beta) \cos \beta + \cos(\alpha - \beta) \sin \beta \text{ и}$$

$$b) \cos \alpha = \cos [(\alpha - \beta) + \beta] = \cos(\alpha - \beta) \cos \beta - \sin(\alpha - \beta) \sin \beta.$$

Да бисмо нашли, дакле,  $\sin(\alpha - \beta)$  и  $\cos(\alpha - \beta)$ , треба да решимо једначине a) и b), сматрајући као непознате количине  $\sin(\alpha - \beta)$  и  $\cos(\alpha - \beta)$ , а имајући на уму да је:

$$\sin^2 \beta + \cos^2 \beta = 1.$$

Ако једначину a) помножимо са  $\cos \beta$ , а једначину b) са  $-\sin \beta$ , добијамо:

$$c) \sin \alpha \cos \beta = \sin(\alpha - \beta) \cos^2 \beta + \cos(\alpha - \beta) \sin \beta \cos \beta \text{ и}$$

$$d) -\cos \alpha \sin \beta = -\cos(\alpha - \beta) \sin \beta \cos \beta + \sin(\alpha - \beta) \sin^2 \beta.$$

Сабирањем ових двеју једначина добијамо:

$$\sin \alpha \cos \beta - \cos \alpha \sin \beta = \sin(\alpha - \beta) [\sin^2 \beta + \cos^2 \beta], \text{ или}$$

$$\sin(\alpha - \beta) = \sin \alpha \cos \beta - \cos \alpha \sin \beta \dots (1)$$

Ако једначину a) помножимо са  $\sin \beta$ , а једначину b) са  $\cos \beta$ , добијамо:

$$e) \sin \alpha \sin \beta = \sin(\alpha - \beta) \cos \beta \sin \beta + \cos(\alpha - \beta) \sin^2 \beta \text{ и}$$

$$f) \cos \alpha \cos \beta = \cos(\alpha - \beta) \cos^2 \beta - \sin(\alpha - \beta) \sin \beta \cos \beta.$$

Сабирањем ових двеју једначина добијамо:

$$\cos(\alpha - \beta) = \cos \alpha \cos \beta + \sin \alpha \sin \beta \dots (2)$$

Тада је:

$$\operatorname{tg}(\alpha - \beta) = \frac{\sin(\alpha - \beta)}{\cos(\alpha - \beta)} = \frac{\sin \alpha \cos \beta - \cos \alpha \sin \beta}{\cos \alpha \cos \beta + \sin \alpha \sin \beta} \text{ и}$$

$$\operatorname{cotg}(\alpha - \beta) = \frac{\cos(\alpha - \beta)}{\sin(\alpha - \beta)} = \frac{\cos \alpha \cos \beta + \sin \alpha \sin \beta}{\sin \alpha \cos \beta - \cos \alpha \sin \beta}$$

Ако поделимо и бројитељ и именитељ првога разломка са  $\cos \alpha \cos \beta$ , а другога са  $\sin \alpha \sin \beta$ , добијамо:

$$\operatorname{tg}(\alpha - \beta) = \frac{\operatorname{tg} \alpha - \operatorname{tg} \beta}{1 + \operatorname{tg} \alpha \operatorname{tg} \beta} \dots (3) \text{ и } \operatorname{cotg}(\alpha - \beta) = \frac{\operatorname{cotg} \alpha \operatorname{cotg} \beta + 1}{\operatorname{cotg} \beta - \operatorname{cotg} \alpha} \dots (4)$$

*Напомена.* Сва четири обрасца за функције разлике двају углова можемо брже и лакше добити из одговарајућих образаца за функције збира двају углова, замењујући свуда угао  $+\beta$  углом  $-\beta$ .

*Задачи за вежбу из § 12 и § 13:*

1. Кад је  $\sin \alpha = \frac{3}{4}$  и  $\sin \beta = \frac{2}{3}$ , наћи  $\sin(\alpha \pm \beta)$  и  $\cos(\alpha \pm \beta)$ .

2. Наћи  $\sin 75^\circ$  и  $\cos 75^\circ$ , кад се зна да је  $75^\circ = 45^\circ + 30^\circ$ .

3. Наћи  $\sin 105^\circ$  и  $\cos 105^\circ$ , кад се зна да је  $105^\circ = 60^\circ + 45^\circ$ .

4. Кад је  $\operatorname{tg} \alpha = 2$  и  $\operatorname{tg} \beta = \frac{2}{3}$ , наћи  $\operatorname{tg}(\alpha + \beta)$  и  $\operatorname{tg}(\alpha - \beta)$ .



5. Кад је  $tg \alpha = \sqrt{3}$  и  $tg \beta = \frac{\sqrt{3}}{3}$ , наћи  $tg(\alpha + \beta)$  и  $tg(\alpha - \beta)$ .
6. Кад је  $\sin 30^\circ = \frac{1}{2}$  и  $\sin 36^\circ = \frac{1}{4} \sqrt{10 - 2\sqrt{5}}$ , наћи  $\sin 6^\circ$  и  $\sin 84^\circ$ .
7. Кад је  $\sin 30^\circ = \frac{1}{2}$  и  $\sin 18^\circ = \frac{1}{4}(\sqrt{5} - 1)$ , наћи  $\sin 12^\circ$  и  $\sin 48^\circ$ .
8. Наћи: а)  $\sin(\alpha + \beta + \gamma)$ ; б)  $\cos(\alpha + \beta + \gamma)$ ; в)  $\cos(\alpha + \beta - \gamma)$ .

#### § 14. Функције удвојених углова

Обрасце за функције удвојених углова изводимо из образаца за функције збира двају углова, претпостављајући да је угао  $\beta$  једнак углу  $\alpha$ . Заменом у тим обрасцима угла  $\beta$  са углом  $\alpha$  добијамо:

$$\sin(\alpha + \alpha) = \sin \alpha \cos \alpha + \cos \alpha \sin \alpha, \text{ или } \sin 2\alpha = 2 \sin \alpha \cos \alpha \dots (1)$$

$$\cos(\alpha + \alpha) = \cos \alpha \cos \alpha - \sin \alpha \sin \alpha, \text{ или } \cos 2\alpha = \cos^2 \alpha - \sin^2 \alpha \dots (2)$$

$$tg(\alpha + \alpha) = \frac{tg \alpha + tg \alpha}{1 - tg \alpha tg \alpha}, \text{ или } tg 2\alpha = \frac{2 tg \alpha}{1 - tg^2 \alpha} \dots (3)$$

$$cotg(\alpha + \alpha) = \frac{cotg \alpha cotg \alpha - 1}{cotg \alpha + cotg \alpha}, \text{ или } cotg 2\alpha = \frac{cotg^2 \alpha - 1}{2 cotg \alpha} \dots (4)$$

Помоћу ових образаца налазимо функције удвојених углова када је позната ма која функција угла. Ако у обрасцима за функције збира двају углова заменимо угао  $\beta$  са  $2\alpha$ ,  $3\alpha$ ,  $4\alpha$  итд., налазимо чему су једнаке функције углова од  $3\alpha$ ,  $4\alpha$ ,  $5\alpha$  итд.

*Пример.* Наћи функције угла  $2\alpha$  када је  $\sin \alpha = \frac{3}{5}$ , а угао  $\alpha$  оштар. Употребом основних образаца најпре налазимо да је:  $\cos \alpha = \frac{4}{5}$ ,  $tg \alpha = \frac{3}{4}$  и  $cotg \alpha = \frac{4}{3}$ . Заменом у обрасцима за функције удвојених углова добијамо:  $\sin 2\alpha = 2 \sin \alpha \cos \alpha = 2 \cdot \frac{3}{5} \cdot \frac{4}{5} = \frac{24}{25}$ ;  $\cos 2\alpha = \cos^2 \alpha - \sin^2 \alpha = \frac{16}{25} - \frac{9}{25} = \frac{7}{25}$ ;

$$tg 2\alpha = \frac{2 tg \alpha}{1 - tg^2 \alpha} = \frac{2 \cdot \frac{3}{4}}{1 - \frac{9}{16}} = \frac{3}{\frac{7}{16}} = 3 \frac{3}{7}; \text{ и } cotg 2\alpha = \frac{cotg^2 \alpha - 1}{2 cotg \alpha} = \frac{\frac{16}{9} - 1}{2 \cdot \frac{4}{3}} = \frac{7}{24}$$

Разуме се да бисмо могли добити вредности за  $\cos 2\alpha$ ,  $tg 2\alpha$  и  $cotg 2\alpha$  и из вредности  $\sin 2\alpha = \frac{24}{25}$  употребом основних образаца.

*Напомена.* На основи образаца за функције удвојених углова тачни су и следећи обрасци:

$$1) \sin \alpha = 2 \sin \frac{\alpha}{2} \cos \frac{\alpha}{2}; \quad 2) \cos \alpha = \cos^2 \frac{\alpha}{2} - \sin^2 \frac{\alpha}{2};$$

$$3) tg \alpha = \frac{2tg \frac{\alpha}{2}}{1 - tg^2 \frac{\alpha}{2}}; \quad \text{и } 4) cotg \alpha = \frac{cotg^2 \frac{\alpha}{2} - 1}{2 cotg \frac{\alpha}{2}}$$

Задачи за вежбу:

1. Наћи  $\sin 2x$  када је  $\sin \alpha = \frac{1}{2}$ .
2. Наћи  $\sin 2\alpha$  „ „  $\cos \alpha = \frac{\sqrt{2}}{2}$ .
3. Наћи  $\cos 2\alpha$  „ „  $\cos \alpha = \frac{\sqrt{10+2\sqrt{5}}}{4}$ .
4. Наћи  $\cos 2\alpha$  „ „  $\sin \alpha = \frac{1+\sqrt{5}}{4}$ .
5. Наћи  $tg 2x$  „ „  $tg x = 3$ .
6. Наћи  $cotg 2x$  „ „  $tg \alpha = \frac{\sqrt{5+1}}{\sqrt{10+2\sqrt{5}}}$ .
7. Наћи  $cosec 2\alpha$  „ „  $cotg \alpha = \frac{1}{3}$  (Васс. — Парис).
8. Наћи  $\sin \alpha$  „ „  $tg \frac{\alpha}{2} = 2 - \sqrt{3}$  (Васс. — Парис).
9. Наћи  $\sin \alpha$  и  $\cos \alpha$  „ „  $tg \frac{\alpha}{2} = \sqrt{2} - 1$  (Sorbonne).

#### § 15. Функције полууглова

По првом основном обрасцу имамо:

$$1 = \sin^2 \frac{\alpha}{2} + \cos^2 \frac{\alpha}{2} \dots (a)$$

а према другом обрасцу из функција удвојених углова имамо:

$$\cos \alpha = \cos^2 \frac{\alpha}{2} - \sin^2 \frac{\alpha}{2} \dots (b)$$

Сабирањем једначина (a) и (b) добијамо:

$$1 + \cos \alpha = 2 \cos^2 \frac{\alpha}{2}, \text{ а одавде } \cos \frac{\alpha}{2} = \pm \sqrt{\frac{1 + \cos \alpha}{2}} \dots (1)$$

$$1 - \cos \alpha = 2 \sin^2 \frac{\alpha}{2}, \text{ а одавде } \sin \frac{\alpha}{2} = \pm \sqrt{\frac{1 - \cos \alpha}{2}} \dots (2)$$

Тада је

$$tg \frac{\alpha}{2} = \frac{\sin \frac{\alpha}{2}}{\cos \frac{\alpha}{2}} = \pm \sqrt{\frac{1 - \cos \alpha}{1 + \cos \alpha}} \dots (3) \text{ и}$$

$$\cotg \frac{\alpha}{2} = \frac{\cos \frac{\alpha}{2}}{\sin \frac{\alpha}{2}} = \pm \sqrt{\frac{1+\cos \alpha}{1-\cos \alpha}} \quad (4).$$

*Напомена.* Пред кореном узимамо или само позитивни или само негативни знак. То једино зависи од угла  $\frac{\alpha}{2}$ . Ако је  $\frac{\alpha}{2}$  оштар угао, онда узимамо само позитивне знакове; ако је  $\frac{\alpha}{2}$  туп, онда се узима само позитиван знак  $\sin \frac{\alpha}{2}$ ; а остале функције негативан; ако је тупоиспупчен, онда се за  $\sin \frac{\alpha}{2}$  и  $\cos \frac{\alpha}{2}$  узима негативан, а за  $\tg \frac{\alpha}{2}$  и  $\cotg \frac{\alpha}{2}$  позитиван знак; ако је оштро испупчен, онда се узима за  $\cos \frac{\alpha}{2}$  позитиван, а за остале функције негативан знак.

Задачи за вежбу (узми да је угао  $\alpha$  оштар!)

1. Кад је  $\cos \alpha = 0,85742$ , наћи  $\sin \frac{\alpha}{2}$  и  $\cos \frac{\alpha}{2}$  (са 3 дец.).

2. Кад је  $\cos \alpha = 0,4$ , наћи  $\tg \frac{\alpha}{2}$  (са 3 дец.).

3. Кад је  $\cos \alpha = \frac{\sqrt{2}}{2}$ , наћи  $\cotg \frac{\alpha}{2}$ .

4. Кад је  $\sin 30^\circ = \frac{1}{2}$ , наћи  $\sin 15^\circ$  и  $\cos 15^\circ$ .

5. Кад је  $\tg \alpha = 0,8$ , наћи  $\tg \frac{\alpha}{2}$  и  $\cotg \frac{\alpha}{2}$ .

6. Наћи  $\tg 22^\circ 30'$  и  $\sin 22^\circ 30'$ .

### § 16. Претварање збирова и разлика гониометријских функција у производ ради њиховог логаритмовања

Претпоставимо да је  $\sphericalangle p + \sphericalangle q = \alpha$  и  $\sphericalangle p - \sphericalangle q = \beta$ . Сабирањем и одузимањем ових двеју једначина добијамо:

$$p = \frac{\alpha + \beta}{2} \text{ и } q = \frac{\alpha - \beta}{2}. \text{ Тада је:}$$

$$1) \sin \alpha + \sin \beta = \sin(p+q) + \sin(p-q) = \sin p \cos q + \cos p \sin q + \sin p \cos q - \cos p \sin q = 2 \sin p \cos q = 2 \sin \frac{\alpha + \beta}{2} \cos \frac{\alpha - \beta}{2} \dots (1)$$

*Пример:*  $\sin 50^\circ + \sin 20^\circ = \sin 35^\circ \cos 15^\circ$ .

$$2) \sin \alpha - \sin \beta = \sin(p+q) - \sin(p-q) = \sin p \cos q + \cos p \sin q - \sin p \cos q + \cos p \sin q = 2 \cos p \sin q = 2 \cos \frac{\alpha + \beta}{2} \sin \frac{\alpha - \beta}{2} \dots (2)$$

*Пример:*  $\sin 80^\circ - \sin 50^\circ = 2 \cos 65^\circ \sin 15^\circ$ .

$$3) \cos \alpha + \cos \beta = \cos(p+q) + \cos(p-q) = \cos p \cos q - \sin p \sin q + \cos p \cos q + \sin p \sin q = 2 \cos p \cos q = 2 \cos \frac{\alpha + \beta}{2} \cos \frac{\alpha - \beta}{2} \dots (3)$$

*Пример:*  $\cos 57^\circ 25' + \cos 42^\circ 7' = 2 \cos 49^\circ 46' \cos 7^\circ 39'$ .

$$4) \cos \alpha - \cos \beta = \cos(p+q) - \cos(p-q) = \cos p \cos q - \sin p \sin q - \cos p \cos q - \sin p \sin q = -2 \sin p \sin q = -2 \sin \frac{\alpha + \beta}{2} \sin \frac{\alpha - \beta}{2} \quad (4)$$

*Пример:*  $\cos 80^\circ - \cos 120^\circ = -2 \sin 100^\circ \cdot \sin(-20^\circ) = 2 \cos 10^\circ \sin 20^\circ$ .

$$5) \tg \alpha \pm \tg \beta = \frac{\sin \alpha}{\cos \alpha} \pm \frac{\sin \beta}{\cos \beta} = \frac{\sin \alpha \cos \beta \pm \cos \alpha \sin \beta}{\cos \alpha \cos \beta} = \frac{\sin(\alpha \pm \beta)}{\cos \alpha \cos \beta} \quad (5)$$

*Примери:* 1)  $\tg 20^\circ + \tg 35^\circ = \frac{\sin 55^\circ}{\cos 20^\circ \cos 35^\circ}$ ;

2)  $\tg 43^\circ - \tg 18^\circ = \frac{\sin 25^\circ}{\cos 43^\circ \cos 18^\circ}$ .

$$6) \cotg \alpha \pm \cotg \beta = \frac{\cos \alpha}{\sin \alpha} \pm \frac{\cos \beta}{\sin \beta} = \frac{\sin \beta \cos \alpha \pm \cos \beta \sin \alpha}{\sin \alpha \sin \beta} = \frac{\sin(\beta \pm \alpha)}{\sin \alpha \sin \beta} \quad (6)$$

*Примери:* 1)  $\cotg 42^\circ + \cotg 57^\circ = \frac{\sin 99^\circ}{\sin 42^\circ \sin 57^\circ} = \frac{\cos 9^\circ}{\sin 42^\circ \sin 57^\circ}$

2)  $\cotg 58^\circ - \cotg 70^\circ = \frac{\sin 17^\circ}{\sin 53^\circ \sin 70^\circ}$ .

7. *Напомена.* На основи горњих образаца претварамо у производе и следеће збирове и разлике:  $2 \sin^2 \left(45^\circ + \frac{\alpha}{2}\right)$

$$a) 1 + \sin \alpha = \sin 90^\circ + \sin \alpha = 2 \sin \left(45^\circ + \frac{\alpha}{2}\right) \cos \left(45^\circ - \frac{\alpha}{2}\right);$$

$$b) 1 - \sin \alpha = \sin 90^\circ - \sin \alpha = 2 \cos \left(45^\circ + \frac{\alpha}{2}\right) \sin \left(45^\circ - \frac{\alpha}{2}\right);$$

$$c) 1 + \cos \alpha = \cos 0^\circ + \cos \alpha = 2 \cos \frac{\alpha}{2} \cos \left(-\frac{\alpha}{2}\right) = 2 \cos^2 \frac{\alpha}{2};$$

$$d) 1 - \cos \alpha = \cos 0^\circ - \cos \alpha = -2 \sin \frac{\alpha}{2} \sin \left(-\frac{\alpha}{2}\right) = 2 \sin^2 \frac{\alpha}{2};$$

$$e) \cos \alpha + \sin \beta = \cos \alpha + \cos(90^\circ - \beta) = 2 \cos \frac{90^\circ + \alpha - \beta}{2} \cos \frac{\alpha + \beta - 90^\circ}{2};$$

$$f) \tg \alpha + \cotg \beta = \tg \alpha + \tg(90^\circ - \beta) = \frac{\sin(90^\circ + \alpha - \beta)}{\cos \alpha \cos(90^\circ - \beta)} = \frac{\sin(90^\circ + \alpha - \beta)}{\cos \alpha \sin \beta};$$

$$g) \operatorname{tg} \alpha + \sin \alpha = \frac{\sin \alpha}{\cos \alpha} + \sin \alpha = \frac{\sin \alpha (1 + \cos \alpha)}{\cos \alpha} = \frac{2 \sin \alpha \cos^2 \frac{\alpha}{2}}{\cos \alpha} = 2 \operatorname{tg} \alpha \cos^2 \frac{\alpha}{2};$$

$$m) \sec \alpha + \operatorname{cosec} \alpha = \frac{1}{\cos \alpha} + \frac{1}{\sin \alpha} = \frac{\sin \alpha + \cos \alpha}{\sin \alpha \cos \alpha} = \frac{\sin \alpha + \sin (90^\circ - \alpha)}{\sin \alpha \cos \alpha} = \frac{2 \sin 45^\circ \cos (\alpha - 45^\circ)}{\sin \alpha \cos \alpha};$$

$$n) \sec \alpha + \operatorname{tg} \alpha = \frac{1}{\cos \alpha} + \frac{\sin \alpha}{\cos \alpha} = \frac{1 + \sin \alpha}{\cos \alpha} = \frac{\sin 90^\circ + \sin \alpha}{\cos \alpha} = \frac{2 \sin (45^\circ + \frac{\alpha}{2}) \cos (45^\circ - \frac{\alpha}{2})}{\cos \alpha}$$

## 8. Задаци за вежбу

Претворити у производе следеће збирове и разлике:

- |  |   |
|--|---|
| 1. $\sin 40^\circ 12' + \sin 26^\circ 7'$ ;  | 12. $\operatorname{tg} \alpha - \sin \alpha$ ;      |
| 2. $\cos 32^\circ 18' 14'' + \cos 26^\circ 19' 13''$ ;                               | 13. $\sec \alpha - \operatorname{cosec} \alpha$ ;   |
| 3. $\sin 72^\circ - \cos 60^\circ$ ;   | 14. $\sec \alpha - \operatorname{tg} \alpha$ ;      |
| 4. $\cos 19^\circ 13' - \cos 38^\circ 14'$ ;   | 15. $1 + \sin 20^\circ 32' 44''$ ;                  |
| 5. $\operatorname{tg} 17^\circ 13' 14'' + \operatorname{tg} 24^\circ 24' 38''$ ;     | 16. $1 - \sin 30^\circ 45' 17''$ ;                  |
| 6. $\operatorname{tg} 65^\circ 13' - \operatorname{tg} 18^\circ 43'$ ;               | 17. $1 + \cos 18^\circ 4' 50''$ ;                   |
| 7. $\operatorname{cotg} 18^\circ 13' + \operatorname{cotg} 56^\circ 13' 24''$ ;      | 18. $1 - \cos 64^\circ 56' 48''$ ;                  |
| 8. $\operatorname{cotg} 50^\circ 18' 14'' - \operatorname{tg} 18^\circ 27'$ ;        | 19. $1 + \operatorname{tg} 43^\circ 9' 6''$ ;       |
| 9. $\operatorname{tg} (45^\circ + \alpha) - \operatorname{tg} (45^\circ - \alpha)$ ; | 20. $1 - \operatorname{tg} 8^\circ 5' 8''$ ;        |
| 10. $\sin 105^\circ + \sin 75^\circ$ ;   | 21. $1 + \operatorname{cotg} 77^\circ 31' 26''$ ; и |
| 11. $\cos 15^\circ - \sin 15^\circ$ ;  | 22. $1 - \operatorname{cotg} 52^\circ 15' 24''$ .   |

## § 17. Условни обрасци за претварање збирова и разлика тригонометријских функција у производ

Ови обрасци имају врло честу примену при решавању сложенијих задатака у равној тригонометрији, те их стога овде помињемо и доказујемо. Ти обрасци, за услов  $\alpha + \beta + \gamma = 180^\circ$ , јесу:

$$1) \sin \alpha + \sin \beta + \sin \gamma = 4 \cos \frac{\alpha}{2} \cos \frac{\beta}{2} \cos \frac{\gamma}{2};$$

$$2) \sin \alpha + \sin \beta - \sin \gamma = 4 \sin \frac{\alpha}{2} \sin \frac{\beta}{2} \cos \frac{\gamma}{2};$$

$$3) \cos \frac{\alpha}{2} + \cos \frac{\beta}{2} + \cos \frac{\gamma}{2} = 4 \cos \frac{\alpha + \beta}{4} \cos \frac{\alpha + \gamma}{4} \cos \frac{\beta + \gamma}{4};$$

$$4) \operatorname{tg} \alpha + \operatorname{tg} \beta + \operatorname{tg} \gamma = \operatorname{tg} \alpha \operatorname{tg} \beta \operatorname{tg} \gamma;$$

$$5) \operatorname{cotg} \frac{\alpha}{2} + \operatorname{cotg} \frac{\beta}{2} + \operatorname{cotg} \frac{\gamma}{2} = \operatorname{cotg} \frac{\alpha}{2} \operatorname{cotg} \frac{\beta}{2} \operatorname{cotg} \frac{\gamma}{2};$$
 и

$$6) \cos^2 \alpha + \cos^2 \beta + \cos^2 \gamma + 2 \cos \alpha \cos \beta \cos \gamma = 1.$$

Докази условних образаца: Како је  $\alpha + \beta + \gamma = 180^\circ$ , то је  $\frac{\alpha + \beta}{2} = 90^\circ - \frac{\gamma}{2}$ ,  $\sin \frac{\alpha + \beta}{2} = \sin (90^\circ - \frac{\gamma}{2}) = \cos \frac{\gamma}{2}$  и

$\cos \frac{\alpha + \beta}{2} = \cos (90^\circ - \frac{\gamma}{2}) = \sin \frac{\gamma}{2}$ . Тада је:

$$1) \sin \alpha + \sin \beta + \sin \gamma = (\sin \alpha + \sin \beta) + \sin \gamma = 2 \sin \frac{\alpha + \beta}{2} \cos \frac{\alpha - \beta}{2} + 2 \sin \frac{\gamma}{2} \cos \frac{\gamma}{2} = 2 \cos \frac{\gamma}{2} \cos \frac{\alpha - \beta}{2} + 2 \cos \frac{\alpha + \beta}{2} \cos \frac{\gamma}{2} = 2 \cos \frac{\gamma}{2} (\cos \frac{\alpha - \beta}{2} + \cos \frac{\alpha + \beta}{2}) = 2 \cos \frac{\gamma}{2} \cdot 2 \cos \frac{\alpha}{2} \cos \frac{\beta}{2} = 4 \cos \frac{\alpha}{2} \cos \frac{\beta}{2} \cos \frac{\gamma}{2}.$$

$$2) \sin \alpha + \sin \beta - \sin \gamma = (\sin \alpha + \sin \beta) - \sin \gamma = 2 \sin \frac{\alpha + \beta}{2} \cos \frac{\alpha - \beta}{2} - 2 \sin \frac{\gamma}{2} \cos \frac{\gamma}{2} = 2 \cos \frac{\gamma}{2} \cos \frac{\alpha - \beta}{2} - 2 \cos \frac{\alpha + \beta}{2} \cos \frac{\gamma}{2} = 2 \cos \frac{\gamma}{2} (\cos \frac{\alpha - \beta}{2} - \cos \frac{\alpha + \beta}{2}) = 2 \cos \frac{\gamma}{2} \cdot 2 \sin \frac{\alpha}{2} \sin \frac{\beta}{2} = 4 \sin \frac{\alpha}{2} \sin \frac{\beta}{2} \cos \frac{\gamma}{2}.$$

3) Како је  $\frac{\alpha}{2} = 90^\circ - \frac{\beta + \gamma}{2}$ ,  $\frac{\beta}{2} = 90^\circ - \frac{\alpha + \gamma}{2}$  и  $\frac{\gamma}{2} = 90^\circ - \frac{\alpha + \beta}{2}$ , то је према обрасцима за функције комплементних углова:  $\cos \frac{\alpha}{2} = \sin \frac{\beta + \gamma}{2}$ ,  $\cos \frac{\beta}{2} = \sin \frac{\alpha + \gamma}{2}$  и  $\cos \frac{\gamma}{2} = \sin \frac{\alpha + \beta}{2}$ . Сем

овога, збир углова:  $\frac{\alpha + \beta}{2}$ ,  $\frac{\alpha + \gamma}{2}$  и  $\frac{\beta + \gamma}{2}$  износи  $180^\circ$ . Стога је  $\cos \frac{\alpha}{2} + \cos \frac{\beta}{2} + \cos \frac{\gamma}{2} = \sin \frac{\beta + \gamma}{2} + \sin \frac{\alpha + \gamma}{2} + \sin \frac{\alpha + \beta}{2} =$

$$= 4 \cos \frac{\beta + \gamma}{4} \cos \frac{\alpha + \gamma}{4} \cos \frac{\alpha + \beta}{4} = 4 \cos \frac{\alpha + \beta}{4} \cos \frac{\alpha + \gamma}{4} \cos \frac{\beta + \gamma}{4}.$$

4. Како је  $\alpha + \beta = 180^\circ - \gamma$ , то је  $\operatorname{tg}(\alpha + \beta) = \operatorname{tg}(180^\circ - \gamma) = -\operatorname{tg} \gamma \dots (a)$  Међутим, према обрасцима за функције збира двају углова, имамо:

$$\operatorname{tg}(\alpha + \beta) = \frac{\operatorname{tg} \alpha + \operatorname{tg} \beta}{1 - \operatorname{tg} \alpha \operatorname{tg} \beta} \dots (b).$$

Из једначина (a) и (b) имамо:

$$\frac{\operatorname{tg} \alpha + \operatorname{tg} \beta}{1 - \operatorname{tg} \alpha \operatorname{tg} \beta} = -\operatorname{tg} \gamma.$$

Одавде је  $\operatorname{tg} \alpha + \operatorname{tg} \beta = -\operatorname{tg} \gamma + \operatorname{tg} \alpha \operatorname{tg} \beta \operatorname{tg} \gamma$ , или  $\operatorname{tg} \alpha + \operatorname{tg} \beta + \operatorname{tg} \gamma = \operatorname{tg} \alpha \operatorname{tg} \beta \operatorname{tg} \gamma$ .

5. Како је  $\frac{\alpha}{2} = 90^\circ - \frac{\beta+\gamma}{2}$ ,  $\frac{\beta}{2} = 90^\circ - \frac{\alpha+\gamma}{2}$  и  $\frac{\gamma}{2} = 90^\circ - \frac{\alpha+\beta}{2}$ ,  
то је  $\cotg \frac{\alpha}{2} = \tg \frac{\beta+\gamma}{2}$ ,  $\cotg \frac{\beta}{2} = \tg \frac{\alpha+\gamma}{2}$  и  $\cotg \frac{\gamma}{2} = \tg \frac{\alpha+\beta}{2}$ .

Па како је збир:  $\frac{\beta+\gamma}{2} + \frac{\alpha+\gamma}{2} + \frac{\alpha+\beta}{2} = 180^\circ$ , то је по претходном образацу:

$$\cotg \frac{\alpha}{2} + \cotg \frac{\beta}{2} + \cotg \frac{\gamma}{2} = \tg \frac{\beta+\gamma}{2} + \tg \frac{\alpha+\gamma}{2} + \tg \frac{\alpha+\beta}{2} = \\ = \tg \frac{\beta+\gamma}{2} \tg \frac{\alpha+\gamma}{2} \tg \frac{\alpha+\beta}{2} = \cotg \frac{\alpha}{2} \cotg \frac{\beta}{2} \cotg \frac{\gamma}{2}.$$

6) Како је  $\gamma = 180^\circ - (\alpha + \beta)$ , то је  $\cos \gamma = \cos [180^\circ - (\alpha + \beta)] = \\ = -\cos(\alpha + \beta) = -\cos \alpha \cos \beta + \sin \alpha \sin \beta$ , или  $\cos \gamma + \cos \alpha \cos \beta = \\ = \sin \alpha \sin \beta$ .

Степеновањем ове једначине бројем 2 добијамо:

$$\cos^2 \gamma + 2 \cos \alpha \cos \beta \cos \gamma + \cos^2 \alpha \cos^2 \beta = \sin^2 \alpha \sin^2 \beta.$$

Заменом у овој једначини  $\sin^2 \alpha$  са  $1 - \cos^2 \alpha$  и  $\sin^2 \beta$  са  $1 - \cos^2 \beta$  добијамо:

$$\cos^2 \alpha + \cos^2 \beta + \cos^2 \gamma + 2 \cos \alpha \cos \beta \cos \gamma = 1.$$

### § 18. Доказивање тригонометриских идентичности

Ради доказивања једне тригонометриске идентичности, испитујемо једну од њених страна. Применом гониометриских образаца старамо се да, трансформацијом појединих функција на посматраној страни, добијемо као резултат израз који је идентичан с изразом на другој страни.

I. Решени примери:

1. Доказати тачност образаца:  $\sin 2\alpha = \frac{2 \tg \alpha}{1 + \tg^2 \alpha}$ .

Узимајући у поступак његову десну страну налазимо:

$$\frac{2 \tg \alpha}{1 + \tg^2 \alpha} = \frac{\frac{2 \sin \alpha}{\cos \alpha}}{1 + \frac{\sin^2 \alpha}{\cos^2 \alpha}} = \frac{\frac{2 \sin \alpha}{\cos \alpha}}{\frac{\cos^2 \alpha + \sin^2 \alpha}{\cos^2 \alpha}} = \frac{2 \sin \alpha \cos \alpha}{\sin^2 \alpha + \cos^2 \alpha} = \frac{2 \sin \alpha \cos \alpha}{1} = \sin 2\alpha$$

2. Доказати тачност образаца: а)  $\sin(\alpha + \beta) \sin(\alpha - \beta) = \sin^2 \alpha - \sin^2 \beta$ ; и б)  $\cos(\alpha + \beta) \cos(\alpha - \beta) = \cos^2 \alpha - \sin^2 \beta$ .

Узимајући у поступак леву страну добијамо:

$$\text{а) } \sin(\alpha + \beta) \sin(\alpha - \beta) = (\sin \alpha \cos \beta + \cos \alpha \sin \beta) (\sin \alpha \cos \beta - \\ - \cos \alpha \sin \beta) = \sin^2 \alpha \cos^2 \beta - \cos^2 \alpha \sin^2 \beta = \sin^2 \alpha (1 - \sin^2 \beta) - (1 - \\ - \sin^2 \alpha) \sin^2 \beta = \sin^2 \alpha - \sin^2 \beta.$$

$$\text{б) } \cos(\alpha + \beta) \cos(\alpha - \beta) = (\cos \alpha \cos \beta - \sin \alpha \sin \beta) (\cos \alpha \cos \beta + \\ + \sin \alpha \sin \beta) = \cos^2 \alpha \cos^2 \beta - \sin^2 \alpha \sin^2 \beta = \cos^2 \alpha (1 - \sin^2 \beta) - \\ - (1 - \cos^2 \alpha) \sin^2 \beta = \cos^2 \alpha - \sin^2 \beta.$$

3. Доказати тачност образаца:

$$\text{а) } (\cos \alpha + \cos \beta)^2 + (\sin \alpha + \sin \beta)^2 = 4 \cos^2 \frac{\alpha - \beta}{2};$$

$$\text{б) } (\cos \alpha - \cos \beta)^2 + (\sin \alpha - \sin \beta)^2 = 4 \sin^2 \frac{\alpha - \beta}{2}.$$

Узимајући у поступак леву страну добијамо:

$$\text{а) } (\cos \alpha + \cos \beta)^2 + (\sin \alpha + \sin \beta)^2 = \left(2 \cos \frac{\alpha + \beta}{2} \cos \frac{\alpha - \beta}{2}\right)^2 + \\ + \left(2 \sin \frac{\alpha + \beta}{2} \cos \frac{\alpha - \beta}{2}\right)^2 = 4 \cos^2 \frac{\alpha + \beta}{2} \cos^2 \frac{\alpha - \beta}{2} + 4 \sin^2 \frac{\alpha - \beta}{2} \\ \cos^2 \frac{\alpha + \beta}{2} = 4 \cos^2 \frac{\alpha - \beta}{2} \left(\cos^2 \frac{\alpha + \beta}{2} + \sin^2 \frac{\alpha + \beta}{2}\right) = 4 \cos^2 \frac{\alpha - \beta}{2}.$$

$$\text{б) } (\cos \alpha - \cos \beta)^2 + (\sin \alpha - \sin \beta)^2 = \left(-2 \sin \frac{\alpha + \beta}{2} \sin \frac{\alpha - \beta}{2}\right)^2 + \\ + \left(2 \cos \frac{\alpha + \beta}{2} \sin \frac{\alpha - \beta}{2}\right)^2 = 4 \sin^2 \frac{\alpha + \beta}{2} \sin^2 \frac{\alpha - \beta}{2} + \\ + 4 \cos^2 \frac{\alpha + \beta}{2} \sin^2 \frac{\alpha - \beta}{2} = 4 \sin^2 \frac{\alpha - \beta}{2} \left(\sin^2 \frac{\alpha + \beta}{2} + \cos^2 \frac{\alpha + \beta}{2}\right) = \\ = 4 \sin^2 \frac{\alpha - \beta}{2} \cdot 1 = 4 \sin^2 \frac{\alpha - \beta}{2}.$$

II. Примери за вежбу:

Применом основних образаца (§ 9) доказати следеће идентичности:

$$1) \frac{1 + \tg^2 \alpha}{\cotg^2 \alpha + 1} = \tg^2 \alpha, 2) \frac{\operatorname{cosec}^2 \alpha - 1}{\cos \alpha} = \cotg^2 \alpha \sec \alpha,$$

$$3) \frac{1 - \sec \alpha}{\cos \alpha - 1} = \sec \alpha, 4) \frac{\operatorname{cosec}^2 \alpha - 1}{\sin \alpha} = \operatorname{cosec} \alpha \cotg^2 \alpha,$$

$$5) \frac{\sec \alpha - \cos \alpha}{\sin \alpha} = \tg \alpha, 6) \tg^2 \alpha \operatorname{cosec} \alpha = \frac{\sec^2 \alpha - 1}{\sin \alpha},$$

$$7) \frac{\sec^2 \alpha - 1}{\cos \alpha} = \sec \alpha \tg^2 \alpha, 8) \frac{\tg \alpha - \sin \alpha}{\tg \alpha} = 1 - \cos \alpha,$$

$$9) \frac{\cos \alpha + \cotg \alpha}{\cos \alpha - \cotg \alpha} = \frac{\tg \alpha + \sec \alpha}{\tg \alpha - \sec \alpha}, 10) \frac{\sin \alpha + \cotg \alpha}{\tg \alpha + \operatorname{cosec} \alpha} = \sin \alpha \cotg \alpha.$$

Применом образаца из § 12 и 13 доказати следеће идентичности:

$$11) \frac{\sin(\alpha + \beta) - \cos \alpha \sin \beta}{\cos(\alpha - \beta) - \sin \alpha \sin \beta} = \tg \alpha,$$

$$12) \frac{\sin(\alpha - \beta) + 2 \cos \alpha \sin \beta}{2 \cos \alpha \cos \beta - \cos(\alpha - \beta)} = \operatorname{tg}(\alpha + \beta),$$

$$13) \frac{\sin(\alpha + \beta) + \cos(\alpha - \beta)}{\sin(\alpha - \beta) + \cos(\alpha + \beta)} = \frac{\cos \beta + \sin \beta}{\cos \beta - \sin \beta},$$

$$14) \operatorname{tg}(\alpha \pm 45^\circ) = \frac{\operatorname{tg} \alpha \pm 1}{1 \mp \operatorname{tg} \alpha}.$$

Применом образаца за функције удвојених и полууглова (§ 14 и 15) доказати следеће идентичности:

$$15) \sin 4\alpha = 4 \sin \alpha \cos \alpha (\cos^2 \alpha - \sin^2 \alpha),$$

$$16) \operatorname{tg} 2\alpha = \frac{2 \operatorname{ctg} \alpha}{\operatorname{ctg}^2 \alpha - 1}, \quad 17) \operatorname{ctg} 2\alpha = \frac{1 - \operatorname{tg}^2 \alpha}{2 \operatorname{tg} \alpha},$$

$$18) (\sin x + \cos x)^2 - 2 \sin^2 x = \sin 2x + \cos 2x,$$

$$19) \frac{\sin 3x - 3 \sin x}{\cos 3x + 3 \cos x} = -\operatorname{tg}^3 x, \quad 20) \operatorname{tg} 3\alpha \operatorname{tg} \alpha = \frac{\operatorname{tg}^2 2\alpha - \operatorname{tg}^2 \alpha}{1 - \operatorname{tg}^2 \alpha \operatorname{tg}^2 2\alpha}.$$

Применом образаца из § 16 доказати идентичности:

$$21) \frac{\sin 24^\circ + \sin 6^\circ}{\cos 24^\circ + \cos 6^\circ} = \operatorname{tg} 15^\circ, \quad 22) \frac{\cos 5^\circ - \cos 25^\circ}{\sin 5^\circ + \sin 25^\circ} = \operatorname{tg} 10^\circ,$$

$$23) \cos 15^\circ - \sin 15^\circ = \frac{\sqrt{2}}{2}, \quad 24) \frac{\sin(\alpha + \beta) + \sin(\alpha - \beta)}{\sin(\alpha + \beta) - \sin(\alpha - \beta)} = \frac{\operatorname{tg} \alpha}{\operatorname{tg} \beta},$$

$$25) 1 + \operatorname{tg} \alpha = \frac{\sin(45^\circ + \alpha)}{\cos 45^\circ \cos \alpha}, \quad 26) 1 \pm \operatorname{tg} \alpha \operatorname{tg} \beta = \frac{\cos(\alpha \mp \beta)}{\cos \alpha \cos \beta},$$

$$27) \operatorname{tg}(\alpha + 45^\circ) + \operatorname{tg}(\alpha - 45^\circ) = 2 \operatorname{tg} 2\alpha,$$

$$28) \sec \alpha + \operatorname{cosec} \alpha = \frac{4 \sin 45^\circ \cos(45^\circ - \alpha)}{\sin 2\alpha},$$

$$29) \operatorname{tg}^2 \alpha - \operatorname{tg}^2 \beta = \frac{\sin(\alpha + \beta) \sin(\alpha - \beta)}{\cos^2 \alpha \cos^2 \beta},$$

$$30) \frac{\operatorname{tg} \alpha}{1 - \operatorname{tg} \alpha} + \frac{\operatorname{tg} \alpha}{1 + \operatorname{tg} \alpha} = \operatorname{tg} 2\alpha.$$

### § 19. Израчунавање гониометриских функција

Користећи се разним међусобним зависностима гониометриских функција, у стању смо да израчунамо вредности ових функција за један низ углова мањих од  $45^\circ$ . Ове вредности, прикупљене у нарочите таблице, дају тако зване *гониометриске таблице*. Оне садрже или само вредности функција свију углова од  $1'$  до  $45^\circ$ , или само логаритме тих вредности. Бројне вредности функција углова већих од  $45^\circ$  не израчунавају се, а ни логаритми тих вредности, пошто је, на основу једнакости функција комплементних углова (§ 11) свака вредност једне функције угла већег од  $45^\circ$  једнака са вредношћу кофункције његовог комплементног угла.

Израчунавање вредности функција врши се на два начина: елементарним путем и помоћу више математике, где има згоднијих метода за лакше и тачније израчунавање ових вредности. Израчунавање елементарном методом оснива се на принципу: *да је код круга  $r = 1$  разлика*

између *tangens-a*, *sinus-a* и *arcus-a*, кад је средишњи угао врло мали сасвим незнатна. Заиста, из сл. 25, код које је  $AD = \operatorname{tg} \alpha$ ,  $BC = \sin \alpha$  и  $AB = \operatorname{arc} \alpha$ , видимо да је разлика између тангенса  $AD$ , аркуса  $AB$  и синуса  $BC$  у толико мања, уколико је средишњи угао  $\alpha$  мањи. За  $\alpha = 1'$ , разлика између количина  $\operatorname{tg} 1'$ ,  $\sin 1'$  и  $\operatorname{arc} 1'$  тако је незнатна да је готово једнака нули. Зато се ове три количине, нарочито у обичном израчунавању, сматрају као једнаке, о чему се уверавамо на следећи начин. Најпре ћемо доказати да је разлика између *arcus-a* и *sinus-a* једног оштрог угла мања од четвртине трећег степена *arcus-a* тога угла. Да бисмо ово доказали, служимо се истином да је сваки лук, који има мање од  $90^\circ$ , мањи од његовог тангенса, тј. да је

$$\operatorname{arc} \frac{\alpha}{2} < \operatorname{tg} \frac{\alpha}{2}.$$

Ако обе стране ове неједначине помножимо са  $2 \cos^2 \frac{\alpha}{2}$ , добијамо:

$$\operatorname{arc} \alpha \cos^2 \frac{\alpha}{2} < 2 \operatorname{tg} \frac{\alpha}{2} \cos^2 \frac{\alpha}{2}, \text{ или}$$

$$\operatorname{arc} \alpha \left(1 - \sin^2 \frac{\alpha}{2}\right) < 2 \sin \frac{\alpha}{2} \cos \frac{\alpha}{2}, \text{ или } \operatorname{arc} \alpha - \operatorname{arc} \alpha \sin^2 \frac{\alpha}{2} < \sin \alpha.$$

Одавде је

$$\operatorname{arc} \alpha - \sin \alpha < \operatorname{arc} \alpha \sin^2 \frac{\alpha}{2} \dots (1)$$

Ако на другој страни неједначине (1) заменимо  $\sin \frac{\alpha}{2}$  са *arcus-ом* од  $\frac{\alpha}{2}$ , онда она постаје већа. Тада је њена лева страна тим пре мања од  $\operatorname{arc} \alpha \left(\frac{\operatorname{arc} \alpha}{2}\right)^2$  када је била мања од  $\operatorname{arc} \alpha \sin^2 \frac{\alpha}{2}$ . Стога је заиста:

$$\operatorname{arc} \alpha - \sin \alpha < \frac{(\operatorname{arc} \alpha)^3}{4} \dots (2)$$

Узимајући да је  $\alpha = 1'$  имамо  $\operatorname{arc} 1' = \frac{r\pi\alpha}{180^\circ} = \frac{1 \cdot 3,14 \cdot 1'}{10800'} = 0,0002908882$ . Тада према неједначини (2) имамо:

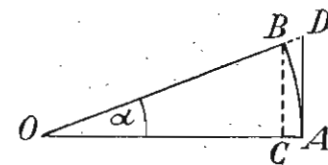
$$\operatorname{arc} 1' - \sin 1' < \frac{0,0002908882^3}{4} \dots (3)$$

Па како је  $0,0002908882^3 < 0,0000000001$ , то је тим пре:

$$\operatorname{arc} 1' - \sin 1' < 0,00000000025 \dots (4)$$

Ова нам неједначина показује да је разлика између  $\operatorname{arc} 1'$  и  $\sin 1'$  тако мала да је без велике грешке сматрамо равном нули. Стога је  $\operatorname{arc} 1' = \sin 1'$ . А како смо нашли да је  $\operatorname{arc} 1' = 0,0002908882$ , то је и  $\sin 1' = 0,0002908882$ .

Помоћу основних образаца налазимо из једначине:  $\sin 1' = 0,0002908882$  и  $\cos 1'$ ,  $\operatorname{tg} 1'$  и  $\operatorname{ctg} 1'$  а затим, употребом образаца



Сл. 25

за функције збира двају углова и образаца за функције удвојених углова, налазимо:  $\sin 2'$ ,  $\sin 3'$ ,  $\sin 4'$ , ...;  $\cos 2'$ ,  $\cos 3'$ ,  $\cos 4'$ , ...;  $\operatorname{tg} 2'$ ,  $\operatorname{tg} 3'$ ,  $\operatorname{tg} 4'$ , ...; итд. док не добијемо вредности функција свију углова закључно до  $45^\circ$ .

Да бисмо одредили вредности функција углова који имају само секунде, можемо утолико пре да заменимо *arcus* угла са *sinus*-ом тога угла. Па како је  $\operatorname{arc} 1'' = \frac{\operatorname{arc} 1'}{60}$ , то је и

$$\sin 1'' = \frac{0,0002908882}{60} = 0,0000048481 \dots$$

Тада је:  $\sin 2'' = 2 \cdot \sin 1''$ ,  $\sin 3'' = 3 \cdot \sin 1''$ ,  $\sin 4'' = 4 \cdot \sin 1''$  итд., а употребом основних образаца израчунавамо и остале функције углова који имају само секунде.

Како су вредности гониометриских функција понајвише ирационални бројеви, то су ове вредности утолико тачније израчунате уколико имају више децимала. Али су тада утолико више отежане математичке радње са њима. Да бисмо избегли ову тежкоћу, особито при множењу, дељењу степеновању и кореновању, служимо се употребом логаритама. Из овога разлога, таблице у којима се налазе вредности гониометриских функција, имају мању примену од таблица у којима се налазе логаритми бројних вредности гониометриских функција.

## § 20. Логаритми гониометриских функција

(Употреба таблица Давидовића)

Под логаритмом једне гониометриске функције разумемо логаритам вредности размере коју функција претставља. Тако, под  $\log \sin 60^\circ$  треба да разумемо логаритам од  $\frac{\sqrt{3}}{2}$ , јер је  $\sin 60^\circ =$

$$= \frac{\sqrt{3}}{2}. \text{ Стога је } \log \sin 60^\circ = \log \frac{\sqrt{3}}{2} = \frac{\log 3}{2} - \log 2 = \frac{0,47712}{2} =$$

$$= 0,30103 = 0,23856 - 0,30103 = \bar{1},93753. \text{ Тако исто}$$

$$\log \cos 45^\circ = \log \frac{\sqrt{2}}{2} = \frac{\log 2}{2} - \log 2 = \bar{1},84949. \text{ Истим путем изра-}$$

чунали бисмо логаритам ма које гониометриске функције, ако нам је позната њена вредност. Од овога рада ослобођени смо, пошто су логаритми гониометриских функција свих оштрих углова израчунати и скупљени у нарочите таблице. Остаје нам само да се упознамо с упутством како ћемо наћи у таблицама логаритам неке функције кад нам је познат угао, и обрнуто, угао, кад нам је познат логаритам неке његове функције.

Логаритми функција свих оштрих углова налазе се у Давидовићевим таблицама од стране 30 до 119 закључно.

А) *Изналажење логаритма функције када је угао познат*

**I случај.** — Угао има само степене и минуте.

Ако угао има сато степене и минуте, онда се логаритми његових функција налазе непосредно у таблицама, и то у колони дотичне функције наспрам минута датог угла. Ако је угао мањи од  $45^\circ$ , онда се логаритам једне његове функције тражи у колони у којој је та функција горе означена, а кад је угао већи од  $45^\circ$ , онда се логаритам једне функције тражи одоздо навише у колони код које је доле означена дотична функција. Ово стога што су функције свију оштрих углова мањих од  $45^\circ$  једнаке са кофункцијама њихових комплементних углова, па и логаритми функција углова мањих од  $45^\circ$  јесу једнаки са логаритмима кофункција комплементних углова. Према томе, синусна колона, у којој се налазе логаритми синуса свију оштрих углова мањих од  $45^\circ$ , у исто је време косинусна колона, и бројеви у тој колони јесу логаритми косинуса одговарајућих комплементних углова већих од  $45^\circ$ ; тангентна колона углова мањих од  $45^\circ$  у исто је време котангентна њихових комплементних углова; котангентна у исто време тангентна; и косинусна у исто је време синусна.

*Решени примери:*

1.  $\log \sin 25^\circ 38' = \bar{1},63610$ , стр. 81, ред 9 одозго;
2.  $\log \sin 72^\circ 32' = \bar{1},97950$ , „ 64, „ 3 одоздо;
3.  $\log \cos 28^\circ 54' = \bar{1},94224$ , „ 87, „ 25 одозго;
4.  $\log \cos 48^\circ 27' = \bar{1},82169$ , „ 113, „ 28 одоздо;
5.  $\log \operatorname{tg} 44^\circ 25' = \bar{1},99116$ , „ 118, „ 26 одозго;
6.  $\log \operatorname{tg} 78^\circ 58' = 0,71000$ , „ 52, „ 29 одоздо;
7.  $\log \operatorname{cotg} 8^\circ 52' = 0,80688$ , „ 47, „ 23 одозго;
8.  $\log \operatorname{cotg} 59^\circ 27' = \bar{1},77101$ , „ 91, „ 28 одоздо.

**II случај.** Угао има степене, минуте и секунде.

Ако дати угао има и секунде, онда, као у првом случају, налазимо најпре у таблицама логаритам функције само за степене и минуте, а за секунде израчунавамо *поправку*. Та се поправка код логаритма синуса и тангенса додаје, а код логаритма косинуса и котангенса одузима, јер су синус и тангенс већи што је угао већи, а напротив, косинус и котангенс су мањи кад је угао већи.

Поправка је производ од броја секунда и *табличне диференције* подељен са 60. Под табличном диференцијом разумемо разлику између два логаритма једне исте функције углова који се разликују само за један минут. Та таблична дифе-

ренција израчуната је и налази се у колони где горе пише „ $d$ “. Ове колоне са табличним диференцијама налазе се поред колоне логаритама функција углова од степена и минута, и то: једна је поред синусне колоне, друга поред косинусне, а трећа је у средини између тангентне и котангентне колоне, и заједничка је за обе ове функције. Ако је таблична диференције  $D$ , број секунада  $S$ , поправка  $P$ , онда је  $P = \frac{D \cdot S}{60}$ .

*Извођење обрасца за поправку.* Ако се углови разликују за  $1'$ , онда се логаритми неке њихове функције разликују за  $D$  (јединица петог десетног места), а кад се углови разликују за  $S$  секунада, или  $\frac{S}{60}$  минута, онда ће се логаритми те функције разликовати за  $P$ . Тада је поправка  $P$  толико пута већа од диференције  $D$ , колико су пута већи  $\frac{S}{60}$  минута од  $1'$ , тј.  $P : D = \frac{S}{60} : 1$ . Одавде је  $P = \frac{D \cdot S}{60}$ .

*Решени примери:*

1. Наћи  $\log \sin 28^\circ 37' 42''$ . Најпре налазимо  $\log \sin 28^\circ 37' = 1,68029$  (стр. 87, ред 8 одозго). Таблична је диференција  $D = 23$  (налази се поред синусне колоне с десне стране, а мало ниже од логаритма 1,68029). Тада је поправка  $P = \frac{D \cdot S}{60} = 23 \cdot \frac{42}{60} = 16$  (6 је пети а 1 четврти децимал мантисе). Стога је

$$\begin{aligned} \log \sin 28^\circ 37' 42'' &= 1,68029 \\ &+ 16 \\ &= 1,68045 \end{aligned}$$

2. Наћи  $\log \sin 55^\circ 27' 34''$ .

$\log \sin 55^\circ 27' = 1,91673$ , стр. 9, ред 28 одоздо.

$$\log \sin 55^\circ 27' 34'' = 1,91578 + \frac{5}{1000}; D=9; S=34''; P = \frac{9 \cdot 34}{60} = 5.$$

3. Наћи  $\log \operatorname{tg} 25^\circ 7' 24''$ .

$\log \operatorname{tg} 25^\circ 7' = 1,67098$ , стр. 80, ред 23 одоздо.

$$\log \operatorname{tg} 25^\circ 7' 24'' = 1,67111 + \frac{13}{1000}; D=33; S=24''; P = \frac{33 \cdot 24}{60} = 13.$$

4. Наћи  $\log \operatorname{tg} 73^\circ 52' 40''$ .

$\log \operatorname{tg} 73^\circ 52' = 0,53876$ , стр. 62, ред 23 одозго.

$$\log \operatorname{tg} 73^\circ 52' 40'' = 0,53902 + \frac{32}{1000}; D=48; S=40''; P = \frac{48 \cdot 40}{60} = 32.$$

5. Наћи  $\log \cos 37^\circ 25' 50''$ .

$\log \cos 37^\circ 25' = 1,89995$ , стр. 104, ред 26 одозго.

$$\log \cos 37^\circ 25' 50'' = 1,89987 - \frac{8}{1000}; D=10; S=50''; P = \frac{10 \cdot 50}{60} = 8.$$

6. Наћи  $\log \cos 81^\circ 20' 20''$ .

$\log \cos 81^\circ 20' = 1,17807$ , стр. 47, ред 21 одоздо.

$$\log \cos 81^\circ 20' 20'' = 1,17779 - \frac{28}{1000}; D=83; S=20''; P = \frac{83 \cdot 20}{60} = 28.$$

7. Наћи  $\log \operatorname{ctg} 8^\circ 15' 28''$ .

$\log \operatorname{ctg} 8^\circ 15' = 0,83865$ , стр. 46, ред 16 одозго.

$$\log \operatorname{ctg} 8^\circ 15' 28'' = 0,83823 - \frac{42}{1000}; D=89; S=28''; P = \frac{83 \cdot 28}{60} = 42.$$

8. Наћи  $\log \operatorname{ctg} 70^\circ 35' 48''$ .

$\log \operatorname{ctg} 70^\circ 35' = 1,54714$ , стр. 68, ред 6 одоздо.

$$\log \operatorname{ctg} 70^\circ 35' 48'' = 1,54681 - \frac{33}{1000}; D=41; S=48''; P = \frac{41 \cdot 48}{60} = 33.$$

В) *Изналажење угла кад је познат логаритам неке његове функције*

Да бисмо нашли угао када је познат логаритам неке његове функције, треба најпре да сравнимо дати логаритам са логаритмом исте функције угла од  $45^\circ$ . Ово је потребно ради сазнања да ли је тражени угао већи или мањи од  $45^\circ$ . Треба, дакле, дати логаритам да сравнимо са 1,84949, који је број логаритам синуса и косинуса угао од  $45^\circ$ , или са 0, која је логаритам тангенса и котангенса истог угла.

**I случај.** — Ако се зна логаритам синуса неког угла, онда, да бисмо нашли угао, треба да упоредимо дани логаритам са бројем 1,84949. Ако је дани логаритам мањи од овога броја, значи да је тражени угао мањи од  $45^\circ$ , јер мањем логаритму одговара мањи синус, а мањем синусу мањи угао. Напротив, ако је дани логаритам већи од 1,84949, значи да је тражени угао већи од  $45^\circ$ , јер већем логаритму одговара већи синус, а већем синусу већи угао. Тако, ако је  $\log \sin x = 1,42756$ , онда је  $\sin x < \sin 45^\circ$ , јер је  $1,42756 < 1,84949$ , па је стога  $x < 45^\circ$ . Према томе, непознати угао  $x$  треба тражити одозго наниже, а његов логаритам у колони где горе пише „ $\sin$ “. Ако се дани логаритам налази у тој колони, онда угао  $x$  има само степене и минуте. Ако се дани логаритам не налази у колони, значи да угао  $x$ , поред степена и минута, има још и секунде. У овоме случају налазимо

у синусној колони најближи мањи логаритам даном логаритму, узимамо њему одговарајуће степене и минуте, а секунде израчунавамо када разлику између данога и приближно мањег логаритма (поправку  $P$ ) помножимо најпре са 60, а затим добивени производ делимо табличном диференцијом

$$\left( \text{из } P = \frac{SP}{60} \text{ излази } S = \frac{60 \cdot P}{D} \right)$$

*Пример 1.* Наћи угао  $x$  чији је  $\log \sin x = \bar{1},58924$ .

Овде је  $x < 45^\circ$ , па се дани логаритам тражи у синусној колони одозго (стр. 75, ред 22).

$$x = \text{arcus-}y \text{ чији је } \log \sin \bar{1},58924 = 22^\circ 51' 10''$$

$$\text{прибл. мањи } \bar{1},58919$$

$$\frac{P=5}{}$$

$$D = 30; S = \frac{5 \cdot 60}{30} = 10''.$$

*Пример 2.* Наћи угао  $y$  чији је  $\log \sin y = \bar{1},94256$ .

Овде је  $y > 45^\circ$ , па се тражи дани логаритам у синусној колони одоздо (стр. 87, ред 11).

$$y = \text{arcus-}y \text{ чији је } \log \sin \bar{1},94256 = 61^\circ 10' 34''$$

$$\frac{-52}{P=4}$$

$$D = 7; S = \frac{4 \cdot 60}{7} = 34''.$$

*Пример 3.* Наћи  $z$  када је  $\sin z = \frac{3}{5}$ .

$$\text{Тада је } \log \sin z = \log 3 - \log 5 = \bar{1},77815.$$

Овде је  $z < 45^\circ$ , па се тражи дани логаритам у синусној колони одозго.

$$z = \text{arcus-}y \text{ чији је } \log \sin \bar{1},77815 = 36^\circ 52' 11''$$

$$\frac{-12}{P=3}$$

$$D = 17; S = \frac{4 \cdot 60}{17} = 11''.$$

*Пример 4.* Наћи  $x$  када је  $\sin x = -\frac{5}{6}$ .

Како је овде вредност синуса негативна, значи да је угао  $x$  или тупоиспупчен или оштроиспупчен. Ако заменимо у датој једначини  $x$  са  $180^\circ + y$ , или са  $360^\circ - y$ , где је  $y$  један оштар угао, добијамо:

$$\sin (180^\circ + y) = -\sin y = -\frac{5}{6}, \text{ а } \sin y = \frac{5}{6} \text{ и}$$

$$\sin (360^\circ - y) = -\sin y = -\frac{5}{6}, \text{ а } \sin y = \frac{5}{6}.$$

$$\text{Тада је } \log \sin y = \log 5 - \log 6 = \bar{1},92082.$$

$$\text{Овде је } y > 45^\circ$$

$$y = \text{arcus-}y \text{ чији је } \log \sin \bar{1},92082 = 56^\circ 26' 33''$$

$$\frac{-77}{P=5}$$

$$D = 9, S = \frac{5 \cdot 60}{9} = 33''.$$

$$\text{Стога је } x = 180^\circ + y = 236^\circ 26' 33'' \text{ и}$$

$$x = 360^\circ - y = 303^\circ 33' 27''$$

**II случај.** — Ако је дат логаритам тангенса неког угла, онда, да бисмо нашли угао, поступамо исто као у претходном случају, с том разликом што дани логаритам упоређујемо са 0, која је  $\log \text{tg } 45^\circ$ , и што га тражимо у тангентној колони.

*Пример 1.* Наћи угао  $x$  чији је  $\log \text{tg } x = 0,52347$ .

Овде је  $x > 45^\circ$ , па се траже дани логаритам у тангентној колони одоздо (стр. 63, ред 20).

$$x = \text{arcus-}y \text{ чији је } \log \text{tg } 0,52347 = 73^\circ 19' 20''$$

$$\frac{-32}{P=15}$$

$$D = 46, S = \frac{15 \cdot 60}{46} = 20''.$$

*Пример 2.* Наћи угао  $y$  чији је  $\log \text{tgy} = y \bar{1},52348$ .

Како је број  $\bar{1},52348$ , као негативан, мањи од 0, то је  $y < 45^\circ$  (стр. 66, ред 28 одозго).

$$y = \text{arcus-}y \text{ чији је } \log \text{tg } \bar{1},52348 = 18^\circ 27' 31''$$

$$\frac{-26}{P=22}$$

$$D = 42, S = \frac{22 \cdot 60}{42} = 31''.$$

*Пример 3.* Наћи угао  $z$  када је  $\text{tg } z = 0,25$ .

Тада је  $\log \text{tg } z = \log 0,25 = \bar{1},39794$ . Овде је  $z < 45^\circ$ .  
 $z = \text{arcus-}y$  чији је  $\log \text{tg } \bar{1},39794 = 14^\circ 2' 10''$

$$\frac{-85}{P=9} D = 53, S = \frac{9 \cdot 60}{53} = 10''.$$

*Пример 4.* Наћи  $x$  када је  $\text{tg } x = -\frac{7}{8}$ .

Како је овде вредност тангенса негативна, то је угао  $x$  или туп, или оштроиспупчен. Ако у датој једначини заменимо  $x = 180^\circ - y$ , или  $x = 360^\circ - y$ , где је  $y$  један оштар угао, добијамо:



$$\operatorname{tg}(180^\circ - y) = -\operatorname{tgy} = -\frac{7}{8}, \text{ а } \operatorname{tgy} = \frac{7}{8} \text{ и } \operatorname{tg}(360^\circ - y) =$$

$$= -\operatorname{tgy} = -\frac{7}{8}, \text{ а } \operatorname{tgy} = \frac{7}{8}. \text{ Тада је:}$$

$\log \operatorname{tg} y = \log 7 - \log 8 = \bar{1},94201$ . Овде је  $y < 45^\circ$ .

$$y = \operatorname{arcus-y} \text{ чији је } \log \operatorname{tg} \bar{1},94201 = 41^\circ 11' 10''$$

$$P = 4, D = 25, S = \frac{4 \cdot 60}{25} = 10''.$$

Стога је  $x = 180^\circ - y = 138^\circ 48' 50''$  и  $x = 360^\circ - y = 318^\circ 48' 50''$ .

**III случај.** — Ако је дат логаритам косинуса неког угла, онда, да бисмо нашли непознати угао, упоређујемо дани логаритам са  $\bar{1},84949$ , који је број логаритам  $\cos 45^\circ$ . Ако нађемо да је дани логаритам већи од овога броја, значи да је тражени угао мањи од  $45^\circ$ , јер већем логаритму одговара већи косинус, а већем косинусу мањи угао. Ако нађемо да је дани логаритам мањи од  $\bar{1},84994$ , значи да је тражени угао већи од  $45^\circ$ , јер мањем логаритму одговара мањи косинус, а мањем косинусу већи угао. Ако се дани логаритам не налази у косинусној колони, значи да тражени угао, поред степена и минута, има још и секунде. У овоме случају у колони за косинус налазимо најпре најближи већи логаритам, узимамо њему одговарајуће степене и минуте, а секунде израчунавамо када разлику између приближно већег и даног логаритма (поправку  $P$ ) помножимо најпре са 60, а затим добивени производ делимо табличном диференцијом.

*Пример 1.* Наћи угао  $x$  чији је  $\log \cos x = \bar{1},85424$ .

Како је  $\bar{1},85424 > \bar{1},84949$ , то је  $\cos x > \cos 45^\circ$ , па је угао  $x < 45^\circ$ . Стога дани логаритам тражимо у косинусној колони одозго (стр. 118, ред 22).

$$x = \operatorname{arcus-y} \text{ чији је } \log \cos \bar{1},85424 = 44^\circ 21' 55''$$

$$D = 13, S = \frac{12 \cdot 60}{13} = 55''.$$

*Пример 2.* Наћи угао  $y$  чији је  $\log \cos y = \bar{1},79948$ .

Овде је  $y > 45^\circ$ , па се дани логаритам тражи у косинусној колони одоздо (стр. 108, ред 27 одоздо).

$$y = \operatorname{arcus-y} \text{ чији је } \log \cos \bar{1},79948 = 50^\circ 56' 7''$$

$$P = 2$$

$$D = 16, S = \frac{2 \cdot 60}{16} = 7,5''.$$

*Пример 3.* Наћи угао  $z$  кад је  $\cos z = -\frac{7}{12}$ .

У овоме случају угао  $z$  или је туп или тупоиспучен, пошто му је вредност негативна. Ако у једначини заменимо  $z = 90^\circ + x$  или  $z = 180^\circ + x'$ , где је  $x$  један оштар угао, а  $x'$  његов комплиментни, онда је

$$\cos(90^\circ + x) = -\sin x = -\frac{7}{12}, \text{ а } \sin x = \frac{7}{12} \text{ и}$$

$$\cos(180^\circ + x') = -\cos x' = -\sin x = -\frac{7}{12}, \text{ а } \sin x = \frac{7}{12}.$$

Тада је  $\log \sin x = \log 7 - \log 12 = \bar{1},76592$ . Овде је  $x < 45^\circ$  (Стр. 101, ред 12 одозго).

$$x = \operatorname{arcus-y} \text{ чији је } \log \sin x = \bar{1},76592 = 35^\circ 41' 7''$$

$$P = 2$$

$$D = 17, S = \frac{2 \cdot 60}{17} = 7''.$$

Тада је  $z = 90^\circ + x = 90^\circ + 35^\circ 41' 7'' = 125^\circ 41' 7''$ .

Тупоиспучен угао  $z = 180^\circ + x' = 180^\circ + 54^\circ 18' 53'' = 234^\circ 18' 53''$ .

**IV случај.** — Ако је дат логаритам котангенса, онда, да бисмо нашли угао, поступамо као у трећем случају, само с том разликом што дани логаритам упоређујемо са 0, која је  $\log \cotg 45^\circ$  и што га тражимо у котангентној колони.

*Пример 1.* Наћи угао  $x$  чији је  $\log \cotg x = 0,25734$ .

Како је број  $0,25734 > 0$ , то је и  $\cotg x > \cotg 45^\circ$ . Стога је  $x < 45^\circ$  и тражи се дани логаритам у котангентној колони одозго (стр. 87, ред 27 одозго).

$$x = \operatorname{arcus-y} \text{ чији је } \log \cotg 0,25734 = 28^\circ 56' 20''$$

$$D = 30, S = \frac{10 \cdot 60}{30} = 20''.$$

*Пример 2.* Наћи угао  $y$  чији је  $\log \cotg y = \bar{1},42755$ .

Како је број  $\bar{1},42755 < 0$ , то је  $\cotg y < \cotg 45^\circ$ . Стога је  $y > 45^\circ$  (стр. 59, ред 2 одоздо).

$$y = \operatorname{arcus-y} \text{ чији је } \log \cotg \bar{1},42755 = 75^\circ 1'.$$

*Пример 3.* Наћи угао  $z$  када је  $\cotg z = -3\frac{5}{7}$ .

У овом случају угао  $z$  је или туп или оштроиспупчен. Ако у једначини заменимо  $z = 90^\circ + x$ , или  $z = 360^\circ - x'$ , где је  $x$  један оштар угао, а  $x'$  његов комплиментни, добијамо  $\cotg(90^\circ + x) = -\operatorname{tg}x = -3\frac{5}{7}$ , а  $\operatorname{tg}x = 3\frac{5}{7}$  и  $\cotg(360^\circ - x') = -\cotgx' = -\operatorname{tg}x = -3\frac{5}{7}$ , а  $\operatorname{tg}x = 3\frac{5}{7}$ .

Тада је  $\log \operatorname{tg}x = \log 26 - \log 7 = 0,56988$ .

Овде је  $x > 45^\circ$ .

$x = \operatorname{arcus-y}$  чији је  $\log \operatorname{tg} 0,56988 = 47^\circ 55' 54''$

$$D = 50, S = \frac{45 \cdot 60}{50} = 54''.$$

Тада угао  $z = 90^\circ + x = 90^\circ + 74^\circ 55' 54'' = 164^\circ 55' 54''$  и  $z = 360^\circ - 15^\circ 4' 6'' = 344^\circ 55' 54''$ .

с) Задаци за вежбу

Наћи у логаритамским таблицама:

- |   |   |
|---|---|
| 1. $\log \sin 38^\circ 7'$ ;                    | 7. $\log \cotg 8^\circ 8' 54''$ ;                 |
| 2. $\log \sin 51^\circ 58' 33''$ ;              | 8. $\log \cotg 53^\circ 29' 8''$ ;                |
| 3. $\log \operatorname{tg} 5^\circ 25' 40''$ ;  | 9. $\log \sin 164^\circ 27' 30''$ ;               |
| 4. $\log \operatorname{tg} 69^\circ 27' 39''$ ; | 10. $\log \operatorname{tg} 200^\circ 25' 40''$ ; |
| 5. $\log \cos 50^\circ 9' 47''$ ;               | 11. $\log \cos 325^\circ 7' 48''$ ;               |
| 6. $\log \cos 39^\circ 25' 30''$ ;              | 12. $\log \cotg 189^\circ 17' 46''$ .             |

Наћи угао  $x$  кад је:

- |  |                                      |
|--|--------------------------------------|
| 13. $\log \sin x = \bar{1},64356$ ;              | 17. $\log \cos x = \bar{1},10647$ ;  |
| 14. $\log \sin x = \bar{1},92649$ ;              | 18. $\log \cos x = \bar{1},97706$ ;  |
| 15. $\log \operatorname{tg} x = 0,87635$ ;       | 19. $\log \cotg x = 0,56424$ ;       |
| 16. $\log \operatorname{tg} x = \bar{1},30312$ ; | 20. $\log \cotg x = \bar{1},89342$ . |

Наћи угао  $x$  када је:

21.  $\sin x = \sqrt{\frac{5}{6}}$ ; 22.  $\sec^2 x = 3$ ; 23.  $\cos x = 0,7$ ; 24.  $\operatorname{tg} x = \frac{6}{5}$ ;

25.  $\operatorname{tg} x = -\frac{17}{9}$ ; 26.  $\cos x = -\frac{3}{7}$ ; 27.  $\cotg x = -\frac{5}{7}$ .

28.  $\sin x = -\sqrt{\frac{4}{11}}$ ; 29.  $\sin x = \sqrt{\frac{2 \cos^2 64^\circ 5'}{5 \sin 50^\circ 40' \cdot \operatorname{tg} 22^\circ 11'}}$ ;

30.  $\operatorname{tg} x = \frac{3 \sin^2 65^\circ 18' 12''}{4 \operatorname{tg} 54^\circ 16' 12'' \cdot \operatorname{tg} 18^\circ 37'}$ ; 31.  $\operatorname{tg} x = \operatorname{tg} 38^\circ 24' 36'' + \operatorname{tg} 49^\circ 19' 43''$ ; 32.  $\operatorname{tg} x = \sin 12^\circ 24' 44'' + \cos 12^\circ 24' 48''$ ;

32. Наћи угао чији је  $\sinus \frac{2}{3}$  његовог  $\cosinus-a$ ; 34. Наћи вредност функције: а)  $\sin 20^\circ 36' 40''$ ; б)  $\operatorname{tg} 44^\circ 7'$ ; с)  $\cos 77^\circ 25'$ .

## § 21. Гониометриске једначине\*

Једначина у којој се налазе гониометриске функције непознатих углова зове се гониометриска. Решити једну гониометриску једначину значи наћи све оне вредности непознатог угла које задовољавају дотичну једначину. Према броју непознатих углова ове једначине делимо на једначине с једном, две и више непознатих количина.

1. Једначине с једним непознатим углом

Метод за решавање гониометриске једначине с једним непознатим углом у томе је што се старамо да једначину тако трансформијемо употребом гониометриских образаца да у новој једначини фигурише само једна функција непознатог угла коју сматрамо као непознату количину и по којој решавамо једначину. Затим, из вредности ове функције, употребом логаритма, налазимо непознати угао.

Решени примери:

1. Решити једначину  $5 \sin x + 4 \cos x = 5$ . Када ову једначину најпре доведемо на облик  $5 \sin x = 5 - 4 \cos x$ , па је затим степенијемо са 2, добијамо  $25 \sin^2 x = 25 - 40 \cos x + 16 \cos^2 x$ . Заменом  $\sin^2 x$  са  $1 - \cos^2 x$  добијамо:

$$41 \cos^2 x - 40 \cos x = 0, \text{ или } \cos x (41 \cos x - 40) = 0.$$

Одавде је: 1)  $\cos x = 0$  и 2)  $41 \cos x - 40 = 0$ , а  $\cos x = \frac{40}{41}$ .

Из (1) имамо:  $x = 90^\circ$  и  $n \cdot 360^\circ + 90^\circ$ , а из (2) употребом логаритама имамо:  $x = 12^\circ 40' 40''$ ,  $347^\circ 19' 20''$ ,  $n \cdot 360^\circ + 12^\circ 40' 40''$  и  $n \cdot 360^\circ + 347^\circ 19' 20''$ . Обично се узимају у обзир само по два решења непознатог угла, чије су вредности мање од  $360^\circ$ .

2. Решити једначину  $\sec x - \operatorname{tg} x = \sin x + \cos x$ .

Применом основних образаца имамо:  $\frac{1}{\cos x} - \frac{\sin x}{\cos x} = \sin x + \cos x$ , или  $1 - \sin x = \sin x \cos x + \cos^2 x$ . Заменом  $\cos^2 x$  са  $1 - \sin^2 x$  добијамо:  $\sin^2 x - \sin x = \sin x \cos x$ , или  $\sin x (\sin x - 1 - \cos x) = 0$ . Одавде је  $\sin x = 0$  и  $\sin x - 1 = \cos x$ . Подизањем на квадрат друге једначине добијамо:  $\sin^2 x - 2 \sin x + 1 = \cos^2 x$ , или  $\sin^2 x - 2 \sin x + 1 = 1 - \sin^2 x$ , -или  $\sin x (\sin x - 1) = 0$ .

Одавде је: 1)  $\sin x = 0$  и 2)  $\sin x - 1 = 0$ . Из (1) је  $x = 0^\circ, 180^\circ$ , а из (2):  $x = 90^\circ$ .

Решења већа од  $360^\circ$  нису узета у обзир.

3. Решити једначину  $\sin x + \sin 3x = \sin 2x + \sin 4x$ .

Претварајући обе стране једначине у производе добијамо:

$$2 \sin 2x \cos x = 2 \sin 3x \cos x, \text{ или } \cos x (\sin 2x - \sin 3x) = 0.$$

Ако израз у загради претворимо у производ, добијамо:

$$\cos x \cos \frac{5x}{2} \sin \frac{x}{2} = 0.$$

Одавде је: 1)  $\cos x = 0$ , 2)  $\cos \frac{5x}{2} = 0$ , 3)  $\sin \frac{x}{2} = 0$ .

Из (1) је:  $x = 90^\circ$  и  $270^\circ$ ; из (2):  $\frac{5}{2}x = 90^\circ, 270^\circ, 450^\circ, 630^\circ, 810^\circ$ , а  $x = 36^\circ, 108^\circ, 180^\circ, 252^\circ, 324^\circ$ ; из (3):  $\frac{x}{2} = 0^\circ$  и  $180^\circ$  а  $x = 0^\circ$  и  $360^\circ$ .

Решења већа од  $360^\circ$  нису узета у обзир.

4. Решити једначину  $a \sin (\alpha + x) = b \cos (\beta + x)$ .

\*) За ученике реалке.

Применом образаца за функције збира двају углова имамо:  
 $a \sin \alpha \cos x + a \cos \alpha \sin x = b \cos \beta \cos x - b \sin \beta \sin x$ , или  $\sin x (a \cos \alpha + b \sin \beta) = \cos x (b \cos \beta - a \sin \alpha)$ , или

$$\frac{\sin x}{\cos x} = \operatorname{tg} x = \frac{b \cos \beta - a \sin \alpha}{a \cos \alpha + b \sin \beta}$$

5. Решити једначину  $m \sin(\alpha - x) = n \sin(\beta - x)$ .

Из ова два једнака производа налазимо пропорцију:

$\sin(\alpha - x) : \sin(\beta - x) = n : m$ , а из ове изведену пропорцију:

$$\frac{\sin(\alpha - x) + \sin(\beta - x)}{\sin(\alpha - x) - \sin(\beta - x)} = \frac{n + m}{n - m}$$

Одавде је: 
$$\frac{2 \sin\left(\frac{\alpha + \beta}{2} - x\right) \cos \frac{\alpha - \beta}{2}}{2 \cos\left(\frac{\alpha + \beta}{2} - x\right) \sin \frac{\alpha - \beta}{2}} = \frac{n + m}{n - m}$$
, или

$$\operatorname{tg}\left(\frac{\alpha + \beta}{2} - x\right) = \frac{n + m}{n - m} \operatorname{tg} \frac{\alpha - \beta}{2}$$

Из ове једначине употребом логаритама налазимо угао  $\frac{\alpha + \beta}{2} - x$ . Ако је  $\frac{\alpha + \beta}{2} - x = \omega$ , онда је  $x = \frac{\alpha + \beta}{2} - \omega$ .

II. Једначине са два непозната угла

Ако у једначинама има два непозната угла, онда методом замене изводимо једначину у којој се налази само једна функција једног непознатог угла. Често, особито када су дате једначине различитог степена, или различитих врста (ако је једна алгебарска, а друга гониометријска), потреба захтева да стране датих једначина трансформујемо у збирове, да бисмо затим згодним алгебарским путем нашли саме те функције и њихове непознате углове.

Решени примери:

1. Решити систем: 1)  $\frac{\sin x}{\sin y} = m$ , 2)  $x + y = \alpha$ .

Из (1), која је пропорција:  $\sin x : \sin y = m : 1$  имамо:

$$\frac{\sin x + \sin y}{\sin x - \sin y} = \frac{m + 1}{m - 1}, \text{ или } \frac{2 \sin \frac{x + y}{2} \cos \frac{x - y}{2}}{2 \cos \frac{x + y}{2} \sin \frac{x - y}{2}} = \frac{m + 1}{m - 1} \text{ или}$$

$$\operatorname{tg} \frac{x + y}{2} \cdot \operatorname{cotg} \frac{x - y}{2} = \frac{m + 1}{m - 1}$$

$$\operatorname{tg} \frac{\alpha}{2} \operatorname{cotg} \frac{x - y}{2} = \frac{m + 1}{m - 1}, \text{ или } \operatorname{cotg} \frac{x - y}{2} = \frac{m + 1}{(m - 1) \operatorname{tg} \frac{\alpha}{2}}, \text{ или}$$

$$\operatorname{tg} \frac{x - y}{2} = \frac{(m - 1) \operatorname{tg} \frac{\alpha}{2}}{m + 1}$$

Из ове једначине налазимо употребом логаритама угао  $\frac{x - y}{2}$  а затим  $x - y$ . За  $x - y = \beta$  и  $x + y = \alpha$ , биће

$$x = \frac{\alpha + \beta}{2} \text{ и } y = \frac{\alpha - \beta}{2}$$

Напомена. Исто се тако решава систем:  $\frac{\sin x}{\sin y} = m$ ,  $x - y = \beta$ .

2. Решити систем: 1)  $\sin x \sin y = m$ , 2)  $x + y = \alpha$ .

Како је  $\cos(x - y) - \cos(x + y) = 2 \sin x \sin y$ , то се једначини (1) даје најпре облик  $\cos(x - y) - \cos(x + y) = 2m$ , или  $\cos(x - y) = \cos \alpha + 2m$ . Из ове једначине употребом логаритама налазимо угао  $(x - y)$ . За  $x - y = \beta$  и  $x + y = \alpha$  имамо  $x = \frac{\alpha + \beta}{2}$  и  $y = \frac{\alpha - \beta}{2}$ .

Исто се тако решава систем:  $\cos x \cos y = n$ ,  $x + y = \alpha$ , узимајући да је  $\cos(x - y) + \cos(x + y) = 2 \cos x \cos y$ .

3. Решити систем: 1)  $x + y = \alpha$ , 2)  $\operatorname{tg} x \operatorname{tg} y = m$ .

Како је  $\operatorname{tg}(x + y) = \frac{\operatorname{tg} x + \operatorname{tg} y}{1 - \operatorname{tg} x \operatorname{tg} y}$ , то је  $\operatorname{tg} x + \operatorname{tg} y =$

$(1 - \operatorname{tg} x \operatorname{tg} y) \cdot \operatorname{tg}(x + y)$ , или  $\operatorname{tg} x + \operatorname{tg} y = (1 - m) \operatorname{tg} \alpha$  (3). Из једначине (2) и (3) налазимо најпре непознате функције  $\operatorname{tg} x$  и  $\operatorname{tg} y$ , а затим употребом логаритама и непознате углове  $x$  и  $y$ .

4. Решити систем: 1)  $\sin^2 x + \cos^2 y = m$ , 2)  $\cos^2 x - \sin^2 y = n$ . Сабирањем и одузимањем датих једначина имамо:

$$\sin^2 x + \cos^2 x + \cos^2 y - \sin^2 y = m + n \text{ и}$$

$$\sin^2 x - \cos^2 x + \cos^2 y + \sin^2 y = m - n \text{ или}$$

(1)  $1 + \cos^2 y - \sin^2 y = m + n$  и (2)  $\sin^2 x - \cos^2 x + 1 = m - n$ . Па како је  $\cos^2 y - \sin^2 y = \cos 2y$ , а  $\sin^2 x - \cos^2 x = -\cos 2x$ , то заменом у (1) и (2) добијамо:  $\cos 2y = m + n - 1$  и  $\cos 2x = n - m + 1$ .

Из ових једначина помоћу логаритама налазимо најпре углове  $2y$  и  $2x$  а затим  $y$  и  $x$ .

5. Решити систем: 1)  $\sin 2x + \sin 2y = \frac{1}{2}$  и 2)  $2 \sin(x + y) = 1$ .

Ако једначину 1) доведемо најпре на облик:

$2 \sin(x + y) \cos(x - y) = \frac{1}{2}$  па је поделимо другом, добијамо:  $\cos(x - y) = \frac{1}{2}$ . Одавде је  $x - y = 60^\circ$  (3). Па како из (2) имамо  $\sin(x + y) = \frac{1}{2}$ , а  $x + y = 150^\circ$  (4), онда из једначина (3) и (4) налазимо да је  $x = 105^\circ$ ,  $y = 45^\circ$ .

6) Наћи два угла чији је збир  $\alpha$ , а збир (разлика) њихових синуса  $a$ . Ако је први угао  $x$  а други  $y$ , онда имамо систем:

$$1) x + y = \alpha, \quad 2) \sin x + \sin y = a.$$

Претварајући леву страну једначине (2) у производ, добијамо:

$$2 \sin \frac{x + y}{2} \cos \frac{x - y}{2} = a, \text{ или } 2 \sin \frac{\alpha}{2} \cos \frac{x - y}{2} = a.$$

Одавде је  $\cos \frac{x - y}{2} = \frac{a}{2 \sin \frac{\alpha}{2}}$  (3). И ове једначине налазимо

разлику непознатих углова. За  $x - y = \beta$  и  $x + y = \alpha$  биће

$$x = \frac{\alpha + \beta}{2} \text{ и } y = \frac{\alpha - \beta}{2}$$

Исто се тако поступа кад се зна: а) збир углова и разлика њихових синуса; б) разлика углова и збир (разлика) њихових синуса; в) збир (разлика) углова и збир (разлика) њихових косинуса.

7. Наћи два угла чији је збир  $\alpha$  а збир њихових тангенса  $m$ . Ако је први угао  $x$  а други  $y$ , онда је систем:

$$1) x + y = \alpha, \quad 2) \operatorname{tg} x + \operatorname{tg} y = m.$$

Претварајући у производ леву страну једначине (2) добијамо

$$\frac{\sin(x+y)}{\cos x \cos y} = m, \text{ или } \frac{\sin \alpha}{\cos x \cos y} = m.$$

Па како је  $2\cos x \cos y = \cos(x+y) + \cos(x-y)$ , то је:

$$\frac{\sin \alpha}{\cos x \cos y} = \frac{\sin \alpha}{\cos(x+y) + \cos(x-y)} = \frac{m}{2}, \text{ или } \frac{\sin \alpha}{\cos \alpha + \cos(x-y)} = \frac{m}{2}$$

или  $\cos(x-y) = \frac{2\sin \alpha}{m} - \cos \alpha$ . Заменом  $\frac{2}{m} = \operatorname{tg} \varphi$  добијамо:

$$\cos(x-y) = \operatorname{tg} \varphi \sin \alpha - \cos \alpha = \frac{\sin \varphi \sin \alpha - \cos \varphi \cos \alpha}{\cos \varphi} = \frac{\cos(\varphi + \alpha)}{\cos \varphi}.$$

Из ове једначине употребом логаритама налазимо угао  $(x-y)$ .

За  $x-y = \beta$  и  $x+y = \alpha$  налазимо најзад  $x = \frac{\alpha + \beta}{2}$  и  $y = \frac{\alpha - \beta}{2}$ .

Исто се тако ради када се зна разлика углова и разлика њихових тангенса.

III. Задачи за вежбу

a) Употребом основних образаца (§ 9) решити једначине:

- 1)  $\sin^2 x + \sin^2 \alpha = 1$ ;      6)  $a \sin^2 x = b$ ;
- 2)  $\sin^2 x = \cos x$ ;      7)  $a \sin x = b \operatorname{tg} \alpha$ ;
- 3)  $\sin^2 x \cdot \operatorname{cotg} x = a$ ;      8)  $a(\sin x + \operatorname{tg} x) = b(\operatorname{tg} x - \sin x)$ ;
- 4)  $\operatorname{tg} x : \operatorname{cotg} x = b$ ;      9)  $a(\sin x + \operatorname{tg} x) = \frac{b(1 + \cos x)}{\cos x}$ ;
- 5)  $a \sin^2 x + b \cos^2 x = c$ ;

$$10) \frac{a(\operatorname{cotg} x - \cos x)}{\operatorname{cotg} x + \cos x} = b(1 - \sin x).$$

b) Употребом образаца за функције збира и разлике двају углова (§ 12 и 13) решити једначине:

11)  $\sin(x+\alpha) - \sin \alpha \cos x = \cos \alpha$ ; 12)  $\operatorname{tg}(x+\alpha) + \operatorname{tg}(x-\alpha) - 2\operatorname{cot} x = 0$ ; 13)  $\cos(x-\alpha) = m \sin x - n \cos x$ ;

14)  $\cos(\alpha - \beta) \sin(\gamma - x) = \cos(\alpha + \beta) \sin(\gamma + x)$ .

c) Употребом образаца за функције удвојених и полууглова (§ 14 и 15) решити једначине:

$$15) \sin x \cos x = a; \quad 19) \sin^2 x - 2\cos^2 x + \frac{\sin 2x}{2} = 0;$$

$$16) \sin(\alpha + x) \cos(\alpha + x) = b; \quad 20) a(1 - \cos x) = b \sin \frac{x}{2};$$

$$17) a \operatorname{cotg} 2x = b(1 + \operatorname{tg} x); \quad 21) a(1 - \cos x) = b \operatorname{tg} \frac{x}{2};$$

$$18) a(\operatorname{cotg} x - \operatorname{tg} x) = \frac{b \cos 2x}{1 + \cos 2x}; \quad 22) \frac{a \cos x}{1 + \cos 2x} = \frac{b \sin x}{1 - \cos 2x};$$

$$23) \frac{a(1 + \cos 2x)}{2 \cos x} = \frac{b \sin 2x}{1 - \cos 2x}.$$

d) Употребом мешовитих образаца решити једначине:

$$24) \cos x = \sin^2 x - \cos^2 x; \quad 28) \sin^2 x + \cos^2 x = 0;$$

$$25) \cos^2 \frac{x}{2} - \sec^2 \frac{x}{2} = 2\sqrt{3} \operatorname{cosec} 2x; \quad 29) \sin x = a \sin y, \operatorname{tg} x = b \operatorname{tg} y;$$

$$26) \operatorname{tg} x(1 + \cos 2\alpha) = \cos 2\alpha \operatorname{tg} 2x; \quad 30) 9 \operatorname{tg} x + \operatorname{tg} y = 4$$

$$27) \operatorname{tg} \frac{x}{2} = \operatorname{cosec} x - \sin x; \quad 2 \operatorname{cotg} x + 4 \operatorname{cotg} y = 3.$$

e) Матурски задаци:

$$1) \sin 4x + \sin x = 0 \text{ (Sorbonne);}$$

$$2) \sin 2x = \cos 3x \text{ (Sorbonne);}$$

$$3) \sin 2x + \cos 2x = \sqrt{2} \sin^2 x \text{ (Toulouse);}$$

$$4) \sin \operatorname{tg} x + 2\cos x = m \text{ (Saint-Cyr);}$$

$$5) 2\sin^2 3x + \sin^2 6x = 2 \text{ (Sorbonne);}$$

$$6) \sin^4 x + \cos^4 x = \frac{2}{3} \text{ (Saint-Cyr);}$$

$$7) \sin 5x = \sin 7x \text{ (Dijon);}$$

$$8) \sin x + \sin 2x + \sin 3x = 0 \text{ (Sorbonne);}$$

$$9) \sin^2 x + 2 \sin x \cos x - 2 \cos^2 x = \frac{1}{2} \text{ (Nancy);}$$

$$10) \cos 2x = \frac{1 + \sqrt{3}}{2} (\cos x - \sin x) \text{ (Sorbonne);}$$

$$11) 2 \sin x = \sin(45^\circ - x) \text{ (St. Cyr);}$$

$$12) \sin x + \sin y = a, \cos x + \cos y = b \text{ (Sorbonne);}$$

$$13) \operatorname{tg} x + \operatorname{cotg} y = a, \operatorname{cotg} x + \operatorname{tg} y = b \text{ (Sorbonne);}$$

$$14) \operatorname{tg} x + \operatorname{tg} y = 1, \operatorname{tg}(x+y) = \frac{3}{4} \text{ (Caen);}$$

$$15) \sin x \sin y = \frac{1}{4}, \cos x \cos y = \frac{3}{4} \text{ (Sorbonne);}$$

$$16) \cos x - \cos y = a, \cos 2x + \cos 2y = b \text{ (Sorbonne);}$$

$$17) \sin x + \sin y = 2a \sin \alpha, \cos x + \cos y = 2a \cos \alpha \text{ (Sorbonne);}$$

$$18) 2 \cos x \cos y = 1, \operatorname{tg} x + \operatorname{tg} y = 2 \text{ (Marseille);}$$

$$19) \operatorname{tg} x + \operatorname{tg} y = a, \operatorname{tg} \frac{x}{2} + \operatorname{tg} \frac{y}{2} = b \text{ (Montpellier);}$$

$$20) \sin x + \sin y = \sin \alpha, \cos x + \cos y = 1 + \cos \alpha \text{ (Sorbonne).}$$

21) Наћи вредности за  $x$  само до  $180^\circ$ , које задовољавају једначину:

$$\frac{5}{3 + \operatorname{tg} x} + \frac{13}{2 + \operatorname{tg} x} = 4,25 \quad \text{(Београд, I м. 1908).}$$

$$22) 8 \sin^2 x + 4 \cos^2 x = \frac{13}{2} \sin 2x \quad \text{(Загреб, I м. 1932).}$$

$$23) \left. \begin{aligned} \sin x + \sin y = 1,1428 \\ \cos x + \cos y = 1,6321 \end{aligned} \right\} \begin{aligned} x = ? \\ y = ? \end{aligned} \quad \text{(Загреб, прив. 1932).}$$

$$24) 8 \sin^4 x - 14 \sin^2 x \cos x - 69 \sin^2 x \cos^2 x - 14 \sin x \cos^3 x + 8 \cos^4 x = 0 \quad \text{(Загреб, II ж. 1934).}$$

25) Два су угла неког троугла задана једначинама  $4 \operatorname{tg}^x + \operatorname{tg} y = 2^x$  и  $2^4(\operatorname{tg}^2 x - \operatorname{tg}^2 y) = 8$ . Одредити трећи угао. (Загреб, II ж. 1932).

## РАВНА ТРИГОНОМЕТРИЈА

### § 22. Решавања код правоуглога троугла\*

I. Решити троугао значи помоћу извесног броја познатих елемената наћи остале његове елементе. Код овога троугла довољно је да знамо два независна елемента, па да нађемо остале. Решавање задатака код правоуглога троугла оснива се на планиметријским теоремама:

\* Решавање правоуглог троугла сами ученици понављају, пошто припада градиву из V и VI разреда.

1) Квадрат над хипотенузом једнак је збиру квадрата над катетама; 2) Висина је средња пропорционала између отсечака хипотенузиних; 3) Катета је средња пропорционала између хипотенузе и оближњег отсечка хипотенузиног; 4) Површина је једнака половини производа катета, или половини производа хипотенузе и њене висине; и уз то, још на овим двама врло важним теоремама:

**Теорема 1.** Свака је катета једнака производу хипотенузе и синуса супрутног угла, или производу хипотенузе и косинуса налеглог угла тражене катете.

Заиста је из троугла ABC (сл. 26):

$$\sin \beta = \frac{b}{a}, a \cdot b = a \sin \beta;$$

$$\cos \gamma = \frac{b}{a}, a \cdot b = a \cos \gamma;$$

$$\sin \gamma = \frac{c}{a}, a \cdot c = a \sin \gamma;$$

$$\cos \beta = \frac{c}{a}, a \cdot c = a \cos \beta;$$

**Теорема 2.** Свака је катета једнака производу друге катете и тангенса супрутног угла, или производу друге катете и котангенса налеглог угла тражене катете.

Заиста је из троугла ABC (сл. 26):

$$\operatorname{tg} \beta = \frac{b}{c}, a \cdot b = c \operatorname{tg} \beta; \quad \operatorname{tg} \gamma = \frac{c}{b}, a \cdot c = b \operatorname{tg} \gamma;$$

$$\operatorname{cotg} \gamma = \frac{b}{c}, a \cdot b = c \operatorname{cotg} \gamma; \quad \operatorname{cotg} \beta = \frac{c}{b}, a \cdot c = b \operatorname{cotg} \beta.$$

Ако је  $a$  хипотенуза,  $b$  и  $c$  катете,  $p$  и  $q$  отсечци хипотенузини,  $h$  висина хипотенузина,  $P$  површина троугла, онда су горње теореме изражене једначинама:

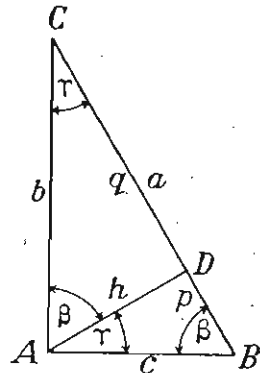
$$1. a^2 = b^2 + c^2; \quad 2. q : h = h : p; \quad 3. a : b = b : q, \text{ или } a : c = c : p;$$

$$4. P = \frac{bc}{2} = \frac{ah}{2}; \quad 5. b = a \sin \beta = a \cos \gamma, \text{ или } c = a \sin \gamma = a \cos \beta;$$

$$\text{и } 6. b = c \operatorname{tg} \beta = c \operatorname{cotg} \gamma, \text{ или } c = b \operatorname{tg} \gamma = b \operatorname{cotg} \beta.$$

Сви су задаци из правоуглог троугла у томе што су позната два од елемената:  $a, b, c, \beta$  или  $\gamma, h, p, q$  и  $P$ , а траже се остали. Од свију тих случајева решавања најглавнији су четири, и то:

Кад је позната хипотенуза и једна катета ( $a$  и  $b$  или  $a$  и  $c$ );



Сл. 26

Кад је позната хипотенуза и један оштар угао ( $a$  и  $\beta$ , или  $a$  и  $\gamma$ );

Кад је позната катета и један оштар угао [ $b$  и  $\beta$  ( $\gamma$ ); или  $c$  и  $\beta$  ( $\gamma$ )]; и

Кад су познате обе катете ( $b$  и  $c$ ).

При решавању правоуглог троугла, непознате елементе израчунавамо применом горњих једначина. Из тих је једначина:

$$1) b = \sqrt{a^2 - c^2} = \sqrt{h^2 + q^2} = \sqrt{ab} = a \cdot \sin \beta = a \cdot \cos \gamma = c \cdot \operatorname{tg} \beta = c \cdot \operatorname{cotg} \gamma = \frac{h}{\cos \beta} = \frac{h}{\sin \gamma} = \frac{q}{\sin \beta} = \frac{q}{\cos \beta} = \frac{2P}{c};$$

$$2) c = \sqrt{a^2 - b^2} = \sqrt{h^2 + p^2} = \sqrt{ap} = a \sin \gamma = a \cos \beta = b \operatorname{tg} \gamma = b \operatorname{cotg} \beta = \frac{h}{\cos \gamma} = \frac{h}{\sin \beta} = \frac{p}{\sin \gamma} = \frac{p}{\cos \beta} = \frac{2P}{b};$$

$$3) a = \sqrt{b^2 + c^2} = p + q = \frac{b^2}{q} = \frac{c^2}{p} = \frac{b}{\sin \beta} = \frac{b}{\cos \gamma} = \frac{c}{\sin \gamma} = \frac{c}{\cos \beta} = \frac{2P}{h};$$

$$4) \sin \beta = \frac{b}{a} = \frac{h}{c} = \frac{q}{b}; \quad \cos \beta = \frac{c}{a} = \frac{p}{c} = \frac{h}{b}; \quad \operatorname{tg} \beta = \frac{b}{c} = \frac{h}{p} = \frac{q}{h}; \quad \operatorname{cotg} \beta = \frac{c}{b} = \frac{p}{h} = \frac{h}{q}; \quad \beta = 90^\circ - \gamma;$$

$$5) \sin \gamma = \frac{c}{a} = \frac{h}{b} = \frac{p}{c}; \quad \cos \gamma = \frac{b}{a} = \frac{q}{b} = \frac{h}{c}; \quad \operatorname{tg} \gamma = \frac{c}{b} = \frac{h}{q} = \frac{p}{h}; \quad \operatorname{cotg} \gamma = \frac{b}{a} = \frac{q}{h} = \frac{h}{p}; \quad \gamma = 90^\circ - \beta;$$

$$6) h = \sqrt{pq} = \sqrt{c^2 - p^2} = \sqrt{b^2 - q^2} = c \cdot \sin \beta = c \cdot \cos \gamma = p \operatorname{tg} \beta = p \operatorname{cotg} \gamma = b \cdot \sin \gamma = b \cdot \cos \beta = q \operatorname{tg} \gamma = q \operatorname{cotg} \beta = \frac{2P}{a};$$

$$7) p = a - q = \frac{c^2}{a} = \sqrt{c^2 - h^2} = c \cdot \sin \gamma = c \cdot \cos \beta = h \operatorname{tg} \gamma = h \operatorname{cotg} \beta;$$

$$8) q = a - p = \frac{b^2}{a} = \sqrt{b^2 - h^2} = b \cdot \sin \beta = b \cdot \cos \gamma = h \operatorname{tg} \beta = h \operatorname{cotg} \gamma.$$

Који ћемо од ових начина за израчунавање непознатих елемената узети у поступак, зависи од познатих елемената у задатку.

## II. Случајеви решавања код правоуглог троугла

### а) Главни случајеви

**Први случај:** Позната је хипотенуза  $a = 125$  cm и катета  $b = 100$  cm; наћи остале елементе (сл. 26).

$$1) \sin \beta = \frac{b}{a} = \frac{100}{125} = \frac{4}{5}; \quad \log \sin \beta = 1,90309; \quad \beta = 53^\circ 7' 48''$$

$$2) \gamma = 90^\circ - \beta = 36^\circ 52' 12''.$$

$$3) c = \sqrt{a^2 - b^2} = \sqrt{(a+b)(a-b)} = \sqrt{225 \cdot 25} = 15 \cdot 5 = 75 \text{ cm.}$$

$$4) \text{ Из } \triangle ADC \text{ имамо: } q = b \cos \gamma = 100 \cdot \cos 36^\circ 52' 12'';$$

$$\log q = 1,90309; q = \sqrt{1,90309} = 80 \text{ cm, или } q = \frac{b^2}{a} = \frac{10000}{125} = 80 \text{ cm.}$$

$$5) p = a - q = 45 \text{ cm. } 6) h = \sqrt{pq} = \sqrt{80 \cdot 45} = \sqrt{3600} = 60 \text{ cm, или } h = b \sin \gamma = 100 \cdot \sin 36^\circ 52' 12''; \log h = 1,77815;$$

$$h = \sqrt{1,77815} = 60 \text{ cm. } 7) P = \frac{bc}{2} = \frac{100 \cdot 75}{2} = 3750 \text{ cm}^2.$$

*Напомена.* При израчунавању непознатих елемената препоручује се да се за те елементе нађу изрази који претстављају њихове величине, а у којима фигуришу дати елементи.

**Други случај.** Позната је хипотенуза  $a = 2346 \text{ m}$  и угао  $\beta = 38^\circ 45' 17''$ ; наћи остале елементе (сл. 26).

$$1) \gamma = 90^\circ - \beta = 51^\circ 14' 43''. 2) b = a \sin \beta = 2346 \sin 38^\circ 45' 17''; \log b = 3,16689; b = \sqrt{3,16689} = 1468,55. 3) c = a \cos \beta = 2346 \cos 38^\circ 45' 17''; \log c = 3,26233; c = \sqrt{3,26233} = 1829,50 \text{ cm.}$$

Остале елементе израчунавамо као у првом случају.

**Трећи случај.** Позната је катета  $b = 847,3 \text{ m}$  и угао  $\beta = 25^\circ 15'$ ; наћи остале елементе (сл. 26).

$$1) \gamma = 90^\circ - \beta = 64^\circ 45'. 2) c = b \cotg \beta = 847,3 \cdot \cotg 25^\circ 15'; \log c = \log 847,3 + \log \cotg 25^\circ 15' = 3,25444; c = \sqrt{3,25444} = 1796,50 \text{ m}; 3) \text{ из } b = a \sin \beta \text{ имамо: } a = \frac{b}{\sin \beta} = \frac{847,3}{\sin 25^\circ 15'};$$

$$\log a = 3,29905; a = \sqrt{3,29905} = 1990,90 \text{ m.}$$

Остале елементе израчунавамо као у првом случају.

**Четврти случај.** Позната је катета  $b = 839,45 \text{ m}$  и катета  $c = 483,5 \text{ m}$ ; наћи остале елементе (сл. 26).

$$1) \tg \beta = \frac{b}{c} = \frac{839,45}{483,5}; \log \tg \beta = 0,23959; \beta = 60^\circ 3' 31''.$$

$$2) \gamma = 90^\circ - \beta = 29^\circ 56' 29''. 3) \text{ Из } b = a \sin \beta \text{ имамо: } a = \frac{b}{\sin \beta} = \frac{839,45}{\sin 60^\circ 3' 31''}; \log a = 2,98585; a = \sqrt{2,98585} = 967,94 \text{ m.}$$

Остале елементе израчунавамо као у првом случају.

**б) Споредни случајеви:**

1) Дата је хипотенуза  $a$  и висина  $h$  (сл. 26).

$$1) \text{ Ако у једначини } a = p + q \text{ заменимо } p \text{ са } h \cotg \beta \text{ и } q \text{ са } h \tg \beta, \text{ добијамо } a = h(\cotg \beta + \tg \beta) = h[\tg(90^\circ - \beta) + \tg \beta] = \frac{h \sin 90^\circ}{\cos(90^\circ - \beta) \cos \beta} = \frac{h}{\sin \beta \cos \beta} = \frac{2h}{2 \sin \beta \cos \beta} = \frac{2h}{\sin 2\beta}. \text{ Одавде}$$

је  $\sin 2\beta = \frac{2h}{a}$ , из које једначине налазимо употребом логаритама угао  $\beta$ . Даљи је рад као код другог главног случаја.

2) Дата је једна катета  $b$  и неналегли отсечак ( $p$ ) (сл. 26).

Из пропорције  $a : b = b : q$  или  $a : b = b : (a - p)$  имамо:

$$a = \frac{p + \sqrt{p^2 + 4b^2}}{2}, \text{ а узимамо у обзир решење } a > p. \text{ Даље}$$

се ради као код првог главног случаја.

3) Дати су отсечци  $p$  и  $q$  (сл. 26).

Тада је хипотенуза  $a = p + q$ , те из пропорције  $a : b = b : q$  имамо  $b = \sqrt{aq} = \sqrt{(p+q)q}$ . Даље се ради као код првог главног случаја.

4) Дата је висина  $h$  и површина  $P$  (сл. 26).

Из једначине  $P = \frac{ah}{2}$  имамо:  $a = \frac{2P}{h}$ , а из пропорције

$$p : h = h : (a - p) \text{ имамо } p = \frac{a \pm \sqrt{a^2 - 4h^2}}{2}, \text{ где за } p \text{ узимамо}$$

вредност  $< a$ . Најзад, из  $\tg \beta = \frac{h}{p}$ , налазимо угао  $\beta$ , па се даље ради као код другог главног случаја.

5) Дата је површина  $P$  и један оштар угао ( $\beta$ ) (сл. 26).

Тада је  $\gamma = 90^\circ - \beta$ . Па како је  $P = \frac{bc}{2}$  и  $c = b \tg \gamma$ , то је

заменом  $P = \frac{b^2 \tg \gamma}{2}$ . Одавде је  $b = \sqrt{\frac{2P}{\tg \gamma}}$ . Даље се ради као код трећег случаја.

*Напомена.* Остали споредни случајеви јесу кад се зна: 6) хипотенуза  $a$  и један отсечак ( $p$  или  $q$ ); 7) хипотенуза  $a$  и површина  $P$ ; 8) једна катета и налегли отсечак хипотенузин ( $b$  и  $q$ , или  $c$  и  $p$ ); 9) једна катета ( $b$  или  $c$ ) и висина  $h$ ; 10) једна катета ( $b$  или  $c$ ) и површина  $P$ ; 11) један отсечак ( $p$  или  $q$ ) и један оштар угао ( $\beta$  или  $\gamma$ ); 12) висина  $h$  и један отсечак ( $p$  или  $q$ ); 13) висина  $h$  и један оштар угао ( $\beta$  или  $\gamma$ ), и 14) површина  $P$  и један отсечак ( $p$  или  $q$ ).

Сви ови случајеви, сем 14-ти, који се не узима у решавање, пошто налазимо на једначину вишег степена, своде се на један од главних случајева решавања код правоуглога троугла и јесу лакши од решених случајева.

Код правоуглога троугла постоје још елементи  $R$  и  $r$  (полупречници описаног и уписаног круга), за које знамо из планиметрије да су  $R = \frac{a}{2}$  и  $r = \frac{P}{s}$  ( $s$  полуобим троугла), али их узимамо у обзир при израчунавању разностраних троуглова, где се  $r$  израчунава подеснијим начином.

с) Сложенији случајеви

Ти су случајеви они када је познат један од елемената правоуглог троугла и још: збир или разлика хипотенузе и једне катете, збир или разлика катета, разлика углова  $\beta$  и  $\gamma$ , разлика отсечака хипотенузиних итд. За решавање задатака са комбинованим подацима употребљавају се исти обрасци као и код простих случајева, а особито обрасци за претварање збирова и разлика гониометријских функција у производ.

1. Решити правоугли троугао кад се зна разлика катета и један оштар угао ( $b - c = d$  и  $\beta$ ) (сл. 26).

Како је  $\gamma = 90^\circ - \beta$  и  $c = b \operatorname{tg} \gamma$ , то заменом у  $b - c = d$  добијамо  $b - b \operatorname{tg} \gamma = d$ , а одавде  $b = \frac{d}{1 - \operatorname{tg} \gamma} = \frac{d}{\operatorname{tg} 45^\circ - \operatorname{tg} \gamma} = \frac{d \cos 45^\circ \cos \gamma}{\sin(45^\circ - \gamma)}$ , или  $b = \frac{d \sqrt{2} \cos \gamma}{2 \sin(45^\circ - \gamma)}$ . Тада је  $c = b \operatorname{tg} \gamma = \frac{d \sqrt{2} \cos \gamma}{2 \sin(45^\circ - \gamma)} \operatorname{tg} \gamma = \frac{d \sqrt{2} \sin \gamma}{2 \sin(45^\circ - \gamma)}$ . Даљи је рад као код IV главног случаја. Исти је рад кад се зна збир катета и један оштар угао.

2. Решити троугао кад се зна збир хипотенузе и једне катете и један оштар угао ( $a + b = m$  и  $\beta$ ) (сл. 26).

Како је  $b = a \sin \beta$ , то заменом у  $a + b = m$  добијамо  $a + a \sin \beta = m$ , а одавде  $a = \frac{m}{1 + \sin \beta} = \frac{m}{\sin 90^\circ + \sin \beta} = \frac{m}{2 \sin(45^\circ + \frac{\beta}{2}) \cos(45^\circ - \frac{\beta}{2})}$ .

$$\text{Тада је } b = a \sin \beta = \frac{m \sin \beta}{2 \sin(45^\circ + \frac{\beta}{2}) \cos(45^\circ - \frac{\beta}{2})}$$

Исто се ради кад се зна разлика хипотенузе и једне катете и један оштар угао.

3. Решити правоугли троугао кад се зна његов обим и један оштар угао ( $a + b + c = 2s$  и  $\beta$ ) (сл. 26).

Како је  $b = a \sin \beta$  и  $c = a \sin \gamma$ , то заменом у  $a + b + c = 2s$  добијамо:  $a + a \sin \beta + a \sin \gamma = 2s$ , а одавде:

$$a = \frac{2s}{1 + \sin \beta + \sin \gamma} = \frac{2s}{\sin 90^\circ + \sin \beta + \sin \gamma} = \frac{2s}{4 \cos 45^\circ \cos \frac{\beta}{2} \cos \frac{\gamma}{2}} = \frac{s \sqrt{2}}{2 \cos \frac{\beta}{2} \cos \frac{\gamma}{2}}$$

Даљи је рад као код првог главног случаја. Исто се ради кад се зна  $b + c - a = n$  и један оштар угао.

4. Решити правоугли троугао кад је позната разлика отсечака и један оштар угао ( $p - q = d$  и  $\beta$ ) (сл. 26).

Како је  $p = h \operatorname{cotg} \beta$  и  $q = h \operatorname{cotg} \gamma$ , то заменом у  $p - q = d$  добијамо:  $h \operatorname{cotg} \beta - h \operatorname{cotg} \gamma = d$ , а одавде  $h = \frac{d}{\operatorname{cotg} \beta - \operatorname{cotg} \gamma} = \frac{d \sin \beta \sin \gamma}{\sin(\gamma - \beta)}$ . Тада је  $p = h \operatorname{cotg} \beta = \frac{d \sin \gamma \cos \beta}{\sin(\gamma - \beta)}$ ,  $q = h \operatorname{cotg} \gamma = \frac{d \sin \beta \cos \gamma}{\sin(\gamma - \beta)}$  и  $a = p + q = \frac{d(\sin \gamma \cos \beta + \cos \gamma \sin \beta)}{\sin(\gamma - \beta)} = \frac{d \sin(\gamma + \beta)}{\sin(\gamma - \beta)}$ .

Даље се ради као код другог главног случаја.

5. Решити троугао кад се зна разлика катета и разлика отсечака хипотенузиних ( $c - b = m$  и  $p - q = n$ ) (сл. 26).

Из пропорција  $a : b = b : q$  и  $a : c = c : p$  имамо  $q = \frac{b^2}{a}$  и  $p = \frac{c^2}{a}$ . Тада је  $p - q = n = \frac{c^2 - b^2}{a} = \frac{(c + b)(c - b)}{a} = \frac{(c + b)m}{a} = \frac{(a \sin \gamma + a \sin \beta)m}{a} = m(\sin \gamma + \sin \beta)$ . Одавде је:

$$\frac{n}{m} = \sin \gamma + \sin \beta = 2 \sin \frac{\gamma + \beta}{2} \cos \frac{\gamma - \beta}{2} = 2 \sin 45^\circ \cos \frac{\gamma - \beta}{2} = \sqrt{2} \cos \frac{\gamma - \beta}{2}$$

Стога је  $\cos \frac{\gamma - \beta}{2} = \frac{n \sqrt{2}}{2m}$ , одавде израчунавамо угао  $(\gamma - \beta)$ . За  $\gamma - \beta = \omega$  и  $\beta + \gamma = 90^\circ$  биће  $\gamma = \frac{90^\circ + \omega}{2}$  и  $\beta = \frac{90^\circ - \omega}{2}$ .

Даље се ради као први задатак из сложених случајева.

6. Решити правоугли троугао кад се зна разлика отсечака хипотенузиних и висина ( $p - q = d$  и  $h$ ) (сл. 26).

Како је  $p = h \operatorname{cotg} \beta$  и  $q = h \operatorname{cotg} \gamma$ , то је  $d = p - q = h(\operatorname{cotg} \beta - \operatorname{cotg} \gamma) = \frac{h \sin(\gamma - \beta)}{\sin \beta \sin \gamma} = \frac{2h \sin(\gamma - \beta)}{2 \sin \beta \cos \beta} = \frac{2h \sin(90^\circ - 2\beta)}{\sin 2\beta} = \frac{2h \cos 2\beta}{\sin 2\beta} = 2h \operatorname{cotg} 2\beta$ . Одавде је  $\operatorname{cotg} 2\beta = \frac{d}{2h}$ , или  $\operatorname{tg} 2\beta = \frac{2h}{d}$ .

Када из ове једначине употребом логаритама нађемо угао  $\beta$ , а катету  $c$  из једначине  $c = \frac{h}{\sin \beta}$ , онда се овај задатак своди на трећи главни случај.

7. Решити троугао кад се зна разлика хипотенузе и једне катете и друга катета ( $a - b = d$  и  $c$ ) (сл. 26).

Како је  $a = \frac{c}{\cos\beta}$  и  $b = c \operatorname{tg}\beta$ , то зменом у  $a - b = d$  добијамо:  $d = \frac{c}{\cos\beta} - c \operatorname{tg}\beta = \frac{c(1 - \sin\beta)}{\cos\beta} = \frac{c(1 - \cos\gamma)}{\sin\gamma} =$   
 $= \frac{c \cdot 2\sin^2 \frac{\gamma}{2}}{2\sin \frac{\gamma}{2} \cos \frac{\gamma}{2}} = c \operatorname{tg} \frac{\gamma}{2}$ .

Израчунавањем угла  $\gamma$  из ове једначине, задатак сводимо на трећи главни случај.

Исто тако се раде задаци кад се зна: а) збир хипотенузе и једне катете и друга катета; б) збир (разлика) катета и хипотенуза.

8. Решити правоугли троугао кад се зна обим  $2s$  и висина  $h$  (сл. 26).

Како је  $b = \frac{h}{\sin\gamma}$ ,  $c = \frac{h}{\sin\beta}$  и  $a = \frac{b}{\sin\beta} = \frac{h}{\sin\beta \sin\gamma}$ , то зменом у  $a + b + c = 2s$  добијамо:  $2s = \frac{h(1 + \sin\beta + \sin\gamma)}{\sin\beta \sin\gamma}$

$$\frac{h(\sin 90^\circ + \sin\beta + \sin\gamma)}{\sin\beta \sin\gamma} = \frac{4h \cos 45^\circ \cos \frac{\beta}{2} \cos \frac{\gamma}{2}}{4 \sin \frac{\beta}{2} \cos \frac{\beta}{2} \sin \frac{\gamma}{2} \cos \frac{\gamma}{2}} = \frac{h\sqrt{2}}{2 \sin \frac{\beta}{2} \sin \frac{\gamma}{2}}$$

$$= \frac{h\sqrt{2}}{\cos \frac{\beta-\gamma}{2} - \cos \frac{\beta+\gamma}{2}} = \frac{h\sqrt{2}}{\cos \frac{\beta-\gamma}{2} - \cos 45^\circ} = \frac{h\sqrt{2}}{\cos \frac{\beta-\gamma}{2} - \frac{\sqrt{2}}{2}}$$

Одавде је  $\cos \frac{\beta-\gamma}{2} = \frac{\sqrt{2}(h+s)}{2s}$ , одавде израчунавамо угао

$(\beta - \gamma)$ . За  $\beta - \gamma = \omega$  и  $\beta + \gamma = 90$  биће  $\beta = \frac{90^\circ + \omega}{2}$  и  $\gamma =$

$$= \frac{90^\circ - \omega}{2}. \text{ Најзад из једначина: } b = \frac{h}{\sin\gamma}, c = \frac{h}{\sin\beta} \text{ и } a =$$

$$= \frac{h}{\sin\beta \sin\gamma} \text{ налазимо стране.}$$

9. Решити правоугли троугао кад се зна обим  $2s$  и површина  $P$  (сл. 26).

Како је  $b = a \sin\beta$  и  $c = a \sin\gamma$ , то је  $2s = a + b + c =$   
 $= a + a \sin\beta + a \sin\gamma = a(1 + \sin\beta + \sin\gamma) = a(\sin 90^\circ + \sin\beta +$   
 $+ \sin\gamma) = 4a \cos 45^\circ \cos \frac{\beta}{2} \cos \frac{\gamma}{2}$ , а одавде је  $a = \frac{s}{\sqrt{2} \cos \frac{\beta}{2} \cos \frac{\gamma}{2}}$ ,

Међутим је  $P = \frac{bc}{2} = \frac{a^2 \sin\beta \sin\gamma}{2}$ ,  $a = \sqrt{\frac{2P}{\sin\beta \sin\gamma}}$

Стога:  $\frac{2P}{\sin\beta \sin\gamma} = \frac{s^2}{2 \cos^2 \frac{\beta}{2} \cos^2 \frac{\gamma}{2}}$ ,

или  $\frac{2P}{4 \sin^2 \frac{\beta}{2} \cos^2 \frac{\beta}{2} \sin^2 \frac{\gamma}{2} \cos^2 \frac{\gamma}{2}} = \frac{s^2}{2 \cos^2 \frac{\beta}{2} \cos^2 \frac{\gamma}{2}}$ , или  $\frac{\cos \frac{\beta}{2} \cos \frac{\gamma}{2}}{\sin \frac{\beta}{2} \sin \frac{\gamma}{2}} = \frac{s^2}{P}$ .

Употребом изведених пропорција добијамо:

$$\frac{\cos \frac{\beta}{2} \cos \frac{\gamma}{2} + \sin \frac{\beta}{2} \sin \frac{\gamma}{2}}{\cos \frac{\beta}{2} \cos \frac{\gamma}{2} - \sin \frac{\beta}{2} \sin \frac{\gamma}{2}} = \frac{s^2 + P}{s^2 - P}, \text{ или } \frac{\cos \frac{\beta - \gamma}{2}}{\cos \frac{\beta + \gamma}{2}} = \frac{s^2 + P}{s^2 - P}. \text{ Одавде је}$$

$$\cos \frac{\beta - \gamma}{2} = \frac{s^2 + P}{s^2 - P} \cos 45^\circ = \frac{\sqrt{2}}{2} \cdot \frac{s^2 + P}{s^2 - P}. \text{ Из ове једначине нала-$$

зимо угао  $(\beta - \gamma)$ . За  $\beta - \gamma = \omega$  и  $\beta + \gamma = 90^\circ$  добијамо

$$\beta = \frac{90^\circ + \omega}{2} \text{ и } \gamma = \frac{90^\circ - \omega}{2}. \text{ Из } a = \sqrt{\frac{2P}{\sin\beta \sin\gamma}} \text{ налазимо хи-}$$

потенузу, па се задатак своди на други главни случај.

II. Задаци за вежбу

1) Решити правоугли троугао када су: а) хипотенуза  $363 \text{ m}$  а катета  $217 \text{ m}$ ; б) хипотенуза  $90,814 \text{ m}$  а један оштар угао  $50^\circ 20' 30''$ ; в) катете  $290 \text{ m}$  и  $430 \text{ m}$ ; д) катета  $396 \text{ m}$  а један оштар угао  $44^\circ 29' 53''$ .

2) Решити троугао када је хипотенуза  $503,63 \text{ m}$  а разлика катета  $95,84 \text{ m}$ .

3) Решити правоугли троугао код кога је збир катета  $408 \text{ m}$  а један угао  $26^\circ 28' 30''$ .

4) Решити правоугли троугао код кога је: а) збир хипотенузе и једне катете  $71,587 \text{ m}$  а један угао  $37^\circ 19' 40''$ ; б) разлика катета  $18,5 \text{ m}$  а један угао  $56^\circ 48'$ ; в) хипотенуза  $27 \text{ m}$  а разлика оштрих углова  $8^\circ 26'$ ; д) разлика хипотенузе и једне катете  $42,56 \text{ m}$  а један угао  $40^\circ 20'$ .

5) Површина правоуглог троугла је  $25,76 \text{ m}^2$  а један оштар угао  $44^\circ 7' 50''$ ; наћи стране.

6) Израчунај углове правоуглог троугла када је размера катета  $3 : 5$ .

7) Решити правоугли троугао код кога је: а) хипотенуза  $a = 6542,84 \text{ m}$  а  $\beta : \gamma = 7 : 9$ ; б) катета  $b = 320 \text{ m}$  а  $\gamma : \beta = 7 : 5$ ; в) хипотенуза  $a = 225 \text{ m}$  а размера катета  $b : c = 0,75$ ; д) збир катета  $14$  а размера катета  $4 : 3$ ; е) катета  $b = 120 \text{ m}$  а размера друге катете и хипотенузе  $0,6$ ; ф) обим  $24 \text{ m}$  а површина  $24 \text{ m}^2$ ; ж) отсечци хипотенузини  $345 \text{ m}$  и  $638 \text{ m}$ .

8) Симетрала правоуглог троугла дели хипотенузу на два дела од  $4,319 \text{ m}$  и  $5,238 \text{ m}$ . Наћи углове тога троугла (Васс. — Paris).

9) Катете правоуглог троугла јесу  $2 \text{ m}$  и  $m^2 - n^2$ ; наћи тангенсе полууглова оштрих углова (Васс. — Clermont).



10) Наћи хипотенузу  $a$  и катету  $c$  кад је катета  $b = 1m$ , а наспрамни угао  $\beta = 60^\circ$ , и то без употребе логаритамских таблица (Васс. — Toulouse).

11) Решити правоугли троугао кад се зна полуобим  $s$  и полупречник описаног круга  $R$  (Saint-Cyr).

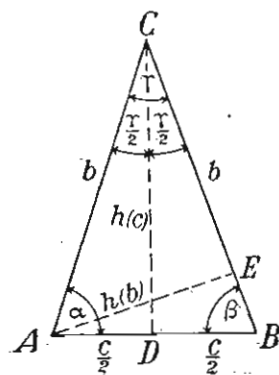
12) Стране правоуглог троугла чине геометриску прогресију. Израчунати његове углове (Карловац 1932).

13) У правоуглом троуглу је збир катета  $14\text{ cm}$ , а средња линија веће катете је  $2\sqrt{13}$ ; наћи његове углове и катете (Београд, 1 ж. 1929).

### § 23. Решавања код равнокраког троугла

Код равнокраког троугла имамо она иста решавања која смо имали код правоуглог троугла, пошто се, спуштањем основичине висине, троугао дели на два подударна правоугла троугла. И код овога троугла, као и код правоуглога, позната су увек два независна елемента, а траже се остали. Крак равнокраког троугла замењује хипотенузу, а половина основце и њена висина замењују катете.

**Први случај.** Познат је крак  $b$  и један угао ( $\beta$ ); наћи остале елементе (сл. 27).



Сл. 27

$$\begin{aligned} 1) \alpha &= \beta; 2) \gamma = 180^\circ - 2\beta, \text{ а } \frac{\gamma}{2} = \\ &= 90^\circ - \beta; 3) h_{(c)} = b \sin \beta; 4) \frac{c}{2} = \\ &= b \cos \beta, \text{ а } c = 2b \cos \beta; 5) h_{(b)} = \\ &= c \sin \beta = 2b \sin \beta \cos \beta = b \sin 2\beta = \\ &= b \sin \gamma; \text{ и } 6) P = \frac{c h_{(c)}}{2} = \frac{b^2 \sin 2\beta}{2}. \end{aligned}$$

**Други случај.** Позната је основца  $c$  и један угао ( $\gamma$ ); наћи остале елементе (сл. 27).

$$1) \alpha = \beta = \frac{180^\circ - \gamma}{2} = 90^\circ - \frac{\gamma}{2};$$

$$2) h_{(c)} = \frac{c}{2} \cotg \frac{\gamma}{2}; 3) h_{(b)} = c \sin \beta = c \sin \left(90^\circ - \frac{\gamma}{2}\right) = c \cos \frac{\gamma}{2};$$

$$4) \text{ Из } \frac{c}{2} = b \cos \beta \text{ имамо: } b = \frac{c}{2 \cos \beta} = \frac{c}{2 \cos \left(90^\circ - \frac{\gamma}{2}\right)} =$$

$$= \frac{c}{2 \sin \frac{\gamma}{2}}; \text{ и } 5) P = \frac{c h_{(c)}}{2} = \frac{c^2}{4} \cotg \frac{\gamma}{2}.$$

**Трећи случај.** Познат је крак  $b$  и основца  $c$ ; наћи остале елементе (сл. 27).

$$\begin{aligned} 1) \cos \beta &= \cos \alpha = \frac{c}{2b} = \frac{c}{2b}; 2) \gamma = 180^\circ - 2\beta; 3) h_{(c)} = \\ &= \sqrt{b^2 - \frac{c^2}{4}} = \frac{1}{2} \sqrt{(2b+c)(2b-c)}, \text{ или } h_{(c)} = b \sin \beta, \text{ или } h_{(c)} = \\ &= \frac{c}{2} \tg \beta; 4) h_{(b)} = b \sin \gamma = c \sin \beta; \text{ и } 5) P = \frac{c h_{(c)}}{2} = \frac{c}{4} \sqrt{(2b+c)(2b-c)}. \end{aligned}$$

**Четврти случај.** Познат је крак  $b$  и основичина висина  $h_{(c)}$ ; наћи остале елементе (сл. 27).

$$\begin{aligned} 1) \sin \alpha &= \sin \beta = \frac{h_{(c)}}{b}; 2) \gamma = 180^\circ - 2\beta; 3) \frac{c}{2} = \sqrt{b^2 - h_{(c)}^2}, \\ \text{а } c &= 2 \sqrt{(b+h_{(c)})(b-h_{(c)})}; 4) h_{(b)} = b \sin \gamma = c \sin \beta = \frac{c h_{(c)}}{b} = \\ &= \frac{2 h_{(c)}}{b} \sqrt{(b+h_{(c)})(b-h_{(c)})}; \text{ и } 5) P = \frac{c h_{(c)}}{2} = h_{(c)} \sqrt{(b+h_{(c)})(b-h_{(c)})}. \end{aligned}$$

**Напомена.** Остали случајеви решавања код равнокраког троугла свде се на један од претходна четири случаја. Елементе  $R$  и  $r$  (полупречнике описаног и уписаног круга) можемо израчунати планиметриским обрасцима:  $R = \frac{b^2 c}{4P}$  и

$r = \frac{P}{s}$  ( $s$  полуобим троугла), или из општих образаца за  $R$  и  $r$ , који ће бити изведени код косоуглих троуглова.

**Задачи за вежбу**

1) Решити равнокраки троугао код кога је: а) основца  $505\text{ m}$  а угао на врху  $83^\circ 25' 4''$ ; б) основца  $3333\text{ m}$  а угао на основци  $65^\circ 29'$ ; с) крак  $79\text{ m}$  а угао на основци  $47^\circ 25' 36''$ ; д) основца  $41\text{ m}$  а крак  $65\text{ m}$ .

2) Решити равнокраки троугао код кога је: а) површина  $2600\text{ m}^2$  а угао на основци  $82^\circ 15' 28''$ ; б) површина  $1260\text{ m}^2$  а основца  $53\text{ m}$ ; с) површина  $178,6\text{ m}^2$  а основичина висина  $18,8\text{ m}$ ; д) основца  $72\text{ m}$  а висина крака  $43,2\text{ m}$ ; е) крак  $29\text{ m}$  а његова висина  $28,96\text{ m}$ ; ф) крак  $580\text{ m}$  а основичина висина  $140\text{ m}$ .

3) Решити равнокраки троугао код кога је: а) висина основичина  $126\text{ m}$  а висина крака  $62,02\text{ m}$ ; б) основца  $12\text{ m}$  а размера њене висине и висине крака  $5:6$ ; с) површина  $960\text{ m}^2$  а размера основце и висине  $5:6$ .

4) У једном равнокраком троуглу је збир основце и њене висине два пута већи од крака; наћи његове углове.

5) Решити равнокраки троугао чија је основца  $\sqrt{3}\text{ m}$  а њена висина  $\frac{3}{4}\text{ m}$ .

6) Једна дијагонала ромба је  $92,535\text{ m}$ , а обим му је  $842,7\text{ m}$ ; наћи његове углове и другу дијагоналу.

7) Решити равнокраки троугао чији је обим  $1682\text{ cm}$  а угао на врху  $\gamma = 83^\circ 25' 41''$  (Панчево, 1926).

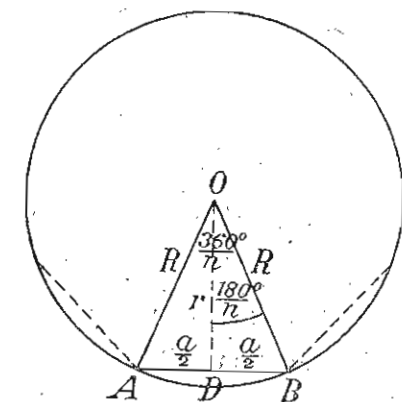
### § 24. Решавање код правилних многоуглова

Када центар описаног, односно уписаног круга, код правилног многоугла спојимо са његовим теменима, многоугао се дели на онолико равнокраких троуглова колики је број ње-

гових страна. Сви су ти троуглови подударни. Крак ма кога од тих троуглова је у ствари полупречник описаног круга, основа је страна правилног многоугла а висина основичина је полупречник уписаног круга у многоуглу. Угао на темену једнога од тих троуглова увек је познат и једнак

$\frac{360^\circ}{n}$ , где  $n$  значи број страна правилног многоугла.

Стога се решавања код правилних многоуглова свде на решавања код равнокракога, односно правоуглога троугла. Код задатака из правилних многоуглова познат је један од елемената:  $a$  (страна),  $R$  (полупречник описаног круга),  $r$  (полупречник уписаног круга) и  $P$  (површина), а траже се остали елементи. Један је еле-



Сл. 28

мент довољан зато што је увек познат број страна  $n$ , угао код средишта  $\frac{360^\circ}{n}$  и угао правилног многоугла  $\frac{(n-2)180^\circ}{n}$ . Стога код правилних многоуглова имамо само четири случаја решавања, и то:

**Први случај.** Дата је страна  $a$  правилног  $n$ -тоугла; наћи полупречнике описаног и уписаног круга  $R$  и  $r$ , и површину  $P$  (сл. 28).

Из правоуглог троугла  $BDO$  имамо:

$$1) \frac{a}{2} = R \sin \frac{180^\circ}{n}, \text{ а } R = \frac{a}{2 \sin \frac{180^\circ}{n}};$$

$$2) \frac{a}{2} = r \operatorname{tg} \frac{180^\circ}{n}, \text{ а } r = \frac{a}{2 \operatorname{tg} \frac{180^\circ}{n}};$$

$$3) P = \frac{n a r}{2} = \frac{n a}{2} \cdot \frac{a}{2 \operatorname{tg} \frac{180^\circ}{n}} = \frac{n a^2}{4 \operatorname{tg} \frac{180^\circ}{n}}.$$

Бројни пример.  $n = 8$ ,  $a = 25,3 \text{ cm}$ .

$$1. R = \frac{25,3}{2 \sin 22^\circ 30'} = \frac{12,65}{\sin 22^\circ 30'}; \log R = 1,51925;$$

$$R = N 1,51925 = 33,06 \text{ cm}; \quad 2) r = \frac{25,3}{2 \operatorname{tg} 22^\circ 30'} = \frac{12,65}{\operatorname{tg} 22^\circ 30'};$$

$$\log r = 1,48487; \quad r = N 1,48487 = 30,54 \text{ cm};$$

$$3) P = \frac{8 \cdot 25,3^2}{4 \operatorname{tg} 22^\circ 30'} = \frac{2 \cdot 25,3^2}{\operatorname{tg} 22^\circ 30'}; \log P = 3,49005;$$

$$P = N 3,49005 = 3090,64 \text{ cm}^2.$$

Исто тако се решава задатак кад је познат обим  $0$ , јер је  $a = \frac{0}{n}$ .

**Други случај:** Познат је полупречник  $R$  једнога круга; наћи страну уписаног правилног  $n$ -тоугла, полупречник уписаног круга у томе многоуглу и површину многоугла (сл. 28).

Из правоуглог троугла  $BDO$  имамо:

$$1) \frac{a}{2} = R \sin \frac{180^\circ}{n}, \text{ или } a = 2 R \sin \frac{180^\circ}{n}; \quad 2) r = R \cos \frac{180^\circ}{n};$$

$$3) P = \frac{n a r}{2} = \frac{n}{2} \cdot 2 R \sin \frac{180^\circ}{n} \cdot R \cos \frac{180^\circ}{n} = \frac{n R^2}{2} \sin \frac{360^\circ}{n};$$

Бројни пример.  $n = 12$ ,  $R = 15 \text{ cm}$ .

$$1) a = 2 R \sin \frac{180^\circ}{n} = 30 \cdot \sin 15^\circ; \log a = 0,89012;$$

$$a = N 0,89012 = 7,764 \dots = 7,76 \text{ cm};$$

$$2) r = R \cos \frac{180^\circ}{n} = 15 \cdot \cos 15^\circ; \log r = 1,16104;$$

$$r = N 1,16104 = 14,488 \dots = 14,49 \text{ cm};$$

$$3) P = \frac{n R^2}{2} \sin \frac{360^\circ}{n} = \frac{12 \cdot 15^2}{2} \sin 30^\circ = \frac{12 \cdot 15^2}{2} \cdot \frac{1}{2} = 3 \cdot 225 = 675 \text{ cm}^2; \text{ или } \log P = 2,82930, \text{ а } P = N 2,82930 = 675 \text{ cm}^2.$$

**Трећи случај:** Познат је полупречник једног круга  $r$ ; наћи страну описаног правилног  $n$ -тоугла, његову површину  $P$  и полупречник  $R$  описаног круга око тог многоугла (сл. 28).

Из правоуглог троугла  $BDO$  имамо:

$$1) \frac{a}{2} = r \operatorname{tg} \frac{180^\circ}{n}, \text{ или } a = 2 r \operatorname{tg} \frac{180^\circ}{n}; \quad 2) r = R \cos \frac{180^\circ}{n}, \text{ а}$$

$$R = \frac{r}{\cos \frac{180^\circ}{n}}; \text{ и } 3) P = \frac{n a r}{2} = \frac{n r}{2} \cdot 2 r \operatorname{tg} \frac{180^\circ}{n} = n r^2 \operatorname{tg} \frac{180^\circ}{n}.$$

Бројни пример.  $n = 5$ ,  $r = 24 \text{ cm}$ .

$$1) a = 2 r \operatorname{tg} \frac{180^\circ}{n} = 48 \cdot \operatorname{tg} 12^\circ; \log a = 1,00872;$$

$$a = N 1,00872 = 10,202 \dots = 10,20 \text{ cm};$$

$$2) R = \frac{r}{\cos \frac{180^\circ}{n}} = \frac{24}{\cos 12^\circ}; \log R = 1,38981;$$

$$R = N 1,38981 = 24,53 \text{ cm};$$

$$3) P = n r^2 \operatorname{tg} \frac{180^\circ}{n} = 15 \cdot 24^2 \cdot \operatorname{tg} 12^\circ; \log P = 3,26309;$$

$$P = \sqrt[3]{3,26399} = 1836,50 \text{ cm}^2.$$

**Четврти случај:** Позната је површина правилног  $n$ -тоугла; наћи његову страну  $a$  и полупречнике описаног и уписаног круга  $R$  и  $r$  (сл. 28).

$$1) \text{ Из } P = \frac{n \cdot a^2}{180^\circ} \operatorname{tg} \frac{180^\circ}{n} \text{ имамо } a = 2 \sqrt{\frac{P}{n} \operatorname{tg} \frac{180^\circ}{n}};$$

$$2) \text{ Из } P = \frac{n R^2}{2} \sin \frac{360^\circ}{n} \text{ је } R = \sqrt{\frac{2P}{n \sin \frac{180^\circ}{n}}}; \text{ и}$$

$$3) \text{ Из } P = n r^2 \operatorname{tg} \frac{180^\circ}{n} \text{ је } r = \sqrt{\frac{P}{n \operatorname{tg} \frac{180^\circ}{n}}} = \sqrt{\frac{P}{n} \operatorname{cotg} \frac{360^\circ}{n}}.$$

Бројни пример.  $n = 10, P = 3000 \text{ m}^2.$

$$1) a = 2 \sqrt{200 \cdot \operatorname{tg} 18^\circ}; \log a = 1,20743;$$

$$a = \sqrt[10]{1,20743} = 16,122533 = 16,123 \text{ m};$$

$$2) R = \sqrt{\frac{4000}{10 \sin 36^\circ}} = \sqrt{\frac{400}{\sin 36^\circ}}; \log R = 1,41642;$$

$$R = \sqrt[10]{1,41642} = 26,08668 \dots = 26,087 \text{ m};$$

$$3) r = \sqrt{200 \cdot \operatorname{cotg} 18^\circ}; \log r = 1,39463; r = \sqrt[10]{1,39463} = 24,81 \text{ m}.$$

**Задаци за вежбу**

1) Наћи обим правилног 19-тоугла уписаног у кругу полупречника 3,45 m.

2) Страна једног правилног 7-угла је 15,7 m; наћи његову површину.

3) Полупречник једнога круга је 3,28 m; наћи обим и површину правилног 20-тоугла који је уписан у томе кругу.

4) Обим једног круга је 50 m; наћи обим уписаног правилног 100-угла у томе кругу.

5) Површина једног правилног 10-тоугла је 1000 m<sup>2</sup>; наћи његов обим и обиме описаног и уписаног круга.

6) У којој су размери обимима правилних 15-тоуглова, кад је један уписан а други описан око круга?

7) Површина једног правилног 25-тоугла је 40 cm<sup>2</sup>. Наћи површину кружног прстена између обима описаног и уписаног круга код тога мноугла (Ниш, м. 1930).

8) Правилан 7-угао и правилни 37-угао имају једнаке површине. Наћи разлику њихових обима, ако је полупречник описаног круга код правилног 7-угла  $R = 120 \text{ cm}$ . (Н. Градишка, 1931).

9) Неки правилан полигон има 54 дијагонале. Колико страна има тај полигон и колика је површина између обима описаног круга и обима полигона, ако је полупречник круга  $R = 1 \text{ m}$  (Београд, 1 ж.).

10) Један правилан 12-тоугао има једнаку површину са правилним шестоуглом стране  $a = 4$ . Колики је полупречник круга уписаног у правилном 12-тоуглу? (Београд, III ж. 1925).

## § 25. Решавања код круга

Код задатака из круга имамо такође исте случајеве решавања које смо имали код равнокраког и правоуглог троугла, пошто а) тетива са одговарајућим полупречницима њених крајњих тачака гради равнокрак троугао и б) централна раздаљина тетиве је њена симетрала, симетрала средишњег угла и симетрала лука над тетивом.

При решавању задатака из круга служимо се правилима поменутих код правоуглог троугла и планиметријским обрацима:

$$1) O = 2r\pi; 2) P = r^2\pi; 3) l = \frac{r\alpha}{180^\circ}; 4) F = \frac{lr}{2} = \frac{r^2\alpha}{360^\circ}; 5) \Delta = \frac{sd}{2}, \text{ и } 6) f = F - \Delta,$$

где нам  $r$  значи полупречник круга,  $O$  његов обим,  $P$  површину круга,  $s$  дужину једне кружне тетиве,  $d$  централну раздаљину те тетиве,  $\alpha$  средишњи угао над тетивом,  $l$  дужину лука над тетивом,  $F$  површину кружног исечка,  $\Delta$  површину троугла над тетивом, а чије се теме налази у центру и  $f$  површину кружног отсечка над тетивом. Већина задатака из круга у томе је што су позната само два од поменутих елемената, а траже се остали. Ти су задаци кад се зна:

1)  $r$  и  $s$ ; 2)  $s$  и  $d$ ; 3)  $s$  и  $\alpha$ ; 4)  $s$  и  $\Delta$ ; 5)  $r$  и  $d$ ; 6)  $r$  и  $\alpha$ ; 7)  $r$  и  $l$ ; 8)  $r$  и  $F$ ; 9)  $r$  и  $\Delta$ ; 10)  $d$  и  $\alpha$ ; 11)  $d$  и  $\Delta$ ; 12)  $l$  и  $\alpha$ ;

13)  $F$  и  $\alpha$ ; 14)  $\Delta$  и  $\alpha$ ; и 15)  $l$  и  $F$ . Пошто је  $r = \frac{O}{2\pi}$  и  $r = \sqrt{\frac{P}{\pi}}$ ,

то сматрамо да нам је познат елемент  $r$  када су познати елементи  $O$  или  $P$ .

Као недовољне елементе за решавање сматрамо: 1)  $s$  и  $f$ ; 2)  $s$  и  $F$ ; 3)  $s$  и  $l$ ; 4)  $r$  и  $f$ ; 5)  $\alpha$  и  $f$ ; 6)  $l$  и  $\Delta$ ; 7)  $l$  и  $f$ ; 8)  $F$  и  $\Delta$ ; 9)  $\Delta$  и  $f$ ; 10)  $d$  и  $l$ ; 11)  $d$  и  $F$ ; 12)  $d$  и  $f$ ; 13)  $F$  и  $f$ ; те је потребно да знамо још један од елемената круга поред ова два елемента.

**Први случај.** Познат је полупречник  $r$  и тетива  $s$ .

Из правоуглог троугла  $ASO$  (сл. 29) имамо:

$$1) \sin \frac{\alpha}{2} = \frac{\frac{s}{2}}{r} = \frac{s}{2r}; 2) d = \sqrt{r^2 - \frac{s^2}{4}} =$$

$$= \sqrt{\left(r + \frac{s}{2}\right)\left(r - \frac{s}{2}\right)}, \text{ или } d = r \cos \frac{\alpha}{2} =$$

$$= \frac{s}{2} \cotg \frac{\alpha}{2}; 3) O = 2r\pi; 4) P = r^2\pi;$$

$$5) l = \frac{r\pi\alpha}{180^\circ}; 6) F = \frac{r^2\pi\alpha}{360^\circ}; 7) \Delta = \frac{sd}{2} =$$

$$= \frac{s}{2} \sqrt{\left(r + \frac{s}{2}\right)\left(r - \frac{s}{2}\right)}, \text{ или } \Delta =$$

$$= \frac{s^2}{3} \cotg \frac{\alpha}{2}; \text{ и } 8) f = F - \Delta.$$

Бројни пример.  $s = 18 \text{ cm}$ ,  $r = 13 \text{ cm}$ .

$$1) \sin \frac{\alpha}{2} = \frac{18}{26} = \frac{9}{13}; \log \sin \frac{\alpha}{2} = \bar{1},84030; \alpha = 87^\circ 37' 32'';$$

$$2) d = \sqrt{\left(r + \frac{s}{2}\right)\left(r - \frac{s}{2}\right)} = \sqrt{22 \cdot 4} = \sqrt{88} = 9,38 \text{ cm};$$

$$3) O = 2r\pi = 81,64 \text{ cm}; 4) P = r^2\pi = 550,66 \text{ cm}^2;$$

$$5) l = \frac{r\pi\alpha}{180^\circ} = \frac{13 \cdot 3,14 \cdot 87^\circ 37' 32''}{180^\circ} = \frac{13 \cdot 3,14 \cdot 315452}{180 \cdot 60 \cdot 60};$$

$$\log l = \log 13 + \log 3,14 + \log 315452 - \log 180 - \log 3600 =$$

$$= 1,29823; l = N1,29823 = 19,8716 \dots = 19,87 \text{ cm};$$

$$6) F = \frac{r^2\pi\alpha}{360^\circ} = \frac{13^2 \cdot 3,14 \cdot 315452''}{(360 \cdot 3600)''} = \frac{13^2 \cdot 3,14 \cdot 315452}{360 \cdot 3600};$$

$$\log F = 2,11115; F = N2,11114 = 129,16 \dots = 129,16 \text{ cm}^2;$$

$$7) \Delta = \frac{sd}{2} = 9 \cdot \sqrt{22 \cdot 4} = 18\sqrt{22}; \log \Delta = 1,92649;$$

$$\Delta = N1,92649 = 84,4276 \dots = 84,43 \text{ cm}^2; 8) f = F - \Delta =$$

$$= 129,16 - 84,43 = 44,73 \text{ cm}^2.$$

Други случај. Позната је тетива  $s$  и њена средишња

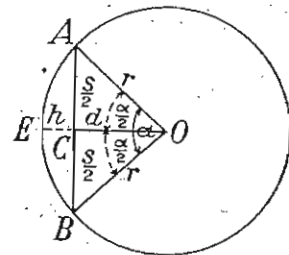
раздаљина  $d$ . Из троугла  $ACO$  имамо: 1)  $\tg \frac{\alpha}{2} = \frac{\frac{s}{2}}{d} = \frac{s}{2d}$ ;

$$2) r = \sqrt{d^2 + \frac{s^2}{4}} = \frac{1}{2} \sqrt{4d^2 + s^2}, \text{ или } r = \frac{s}{2 \sin \frac{\alpha}{2}}.$$

Остале

елементе израчунавамо као у првом случају.

Трећи случај. Позната је тетива  $s$  и средишњи угао  $\alpha$ .



Сл. 29

Из троугла  $ACO$  имамо: 1)  $d = \frac{s}{2} \cotg \frac{\alpha}{2}$ ; и

$$2) r = \frac{s}{2 \sin \frac{\alpha}{2}}.$$

Остале елементе израчунавамо као у првом случају.

Задачи за вежбу

- 1) Наћи  $r$ ,  $d$ ,  $l$  и  $F$  кад је  $s = 24 \text{ cm}$  и  $\Delta = 300 \text{ cm}^2$ .
- 2) Наћи  $s$ ,  $\alpha$ ,  $l$  и  $d$  „ „ „ „  $r = 8 \text{ dm}$  и  $F = 450 \text{ dm}^2$ .
- 3) Наћи  $s$ ,  $\alpha$ ,  $l$ ,  $F$  и  $f$  „ „ „ „  $d = 50 \text{ cm}$  и  $\Delta = 2000 \text{ cm}^2$ .
- 4) Наћи  $s$ ,  $r$ ,  $d$  и  $l$  „ „ „ „  $\alpha = 65^\circ 25'$  и  $F = 5715,24 \text{ cm}^2$ .
- 5) Обим једнога круга износи  $40,84 \text{ m}$ ; наћи тетиву тога круга чији је централни угао  $76^\circ 45' 14''$ .
- 6) Два круга имају полупречнике  $2 \text{ m}$  и  $1 \text{ m}$ , а њихова је централна раздаљина  $5 \text{ m}$ ; наћи угао између унутрашњих заједничких тангената
- 7) Наћи угао под којим се секу два круга полупречника  $527,39 \text{ m}$  и  $474,27 \text{ m}$ , када је дужина њихове заједничке тетиве  $442 \text{ m}$ .
- 8) Наћи централни угао над оном тетивом која износи  $\frac{2}{3}$  полупречника круга.
- 9) Два круга полупречника  $20 \text{ m}$  и  $16 \text{ m}$  додирују се споља. Наћи угао између централне раздаљине и спољашње заједничке тангенте.
- 10) Тетива једнога лука је  $\frac{2}{3}$  од пречника; наћи број степена, минута и секунда тога лука.

11) Познат је полупречник круга  $r = 1 \text{ m}$ , на који су из неке тачке у истој равнини повучене две тангенте, које између себе захватају угао од  $40^\circ$ . Израчунати површину обухваћену тангентама до додирних тачака  $B$  и  $C$  и луком  $BC$  (Београд, II м. 1908).

## § 25. Однос између страна и функција углова разностраног троугла

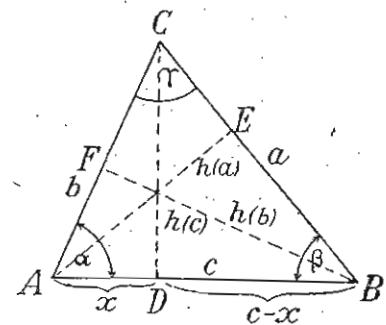
Једначине које нам дају однос између страна и функција углова једног троугла, а које примењујемо при решавању косоуглих троуглова, изводе се из следећих теорема:

1. **Синусна теорема.** Стране једнога троугла имају се као синуси њихових супротних углова.

Ако спустимо висине  $h_{(c)}$  и  $h_{(a)}$  у троуглу  $ABC$  (сл. 30), онда имамо из  $\Delta ADC$ :  $h_{(c)} = b \sin \alpha$ , а из  $\Delta BDC$ :  $h_{(c)} = a \sin \beta$ . Стога је  $a \sin \beta = b \sin \alpha$ , или

$$a : b = \sin \alpha : \sin \beta \dots (1)$$

Тако исто из  $\Delta AEC$  имамо:  $h_{(a)} = b \sin \gamma$ , а из  $\Delta ABE$ :  $h_{(a)} = c \sin \beta$ . Стога је:  $b \sin \gamma = c \sin \beta$ , или  $b : c = \sin \beta : \sin \gamma \dots (2)$  Из пропорција (1) и (2) добијамо продужну пропорцију:

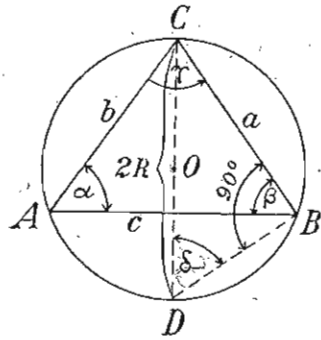


Сл. 30

$$a : b : c = \sin \alpha : \sin \beta : \sin \gamma, \text{ или } \frac{a}{\sin \alpha} = \frac{b}{\sin \beta} = \frac{c}{\sin \gamma} \dots (3),$$

чиме је теорема доказана.

Из продужне пропорције (3) видимо да је количник између ма које троуглове стране и синуса њеног супротног угла сталан (константан) број, назван *троуглова константа*. Ова константа је једнака пречнику описаног круга око троугла. Заиста је из правоуглог троугла  $DBC$  (с. 31):



Сл. 31

$$\sin \delta = \frac{a}{2R}. \text{ Ако у овој једначини угао } \delta$$

заменимо углом  $\alpha$ , јер су једнаки као перифериски над истим луком, добијамо:

$$\sin \alpha = \frac{a}{2R}, \text{ или } \frac{a}{\sin \alpha} = 2R. \text{ Па како је из пропорције (3):}$$

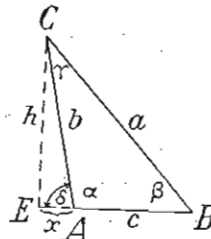
$$\frac{a}{\sin \alpha} = \frac{b}{\sin \beta} = \frac{c}{\sin \gamma}, \text{ то је и } \frac{b}{\sin \beta} = 2R \text{ и } \frac{c}{\sin \gamma} = 2R. \text{ Стога је:}$$

$$a = 2R \sin \alpha, b = 2R \sin \beta \text{ и } c = 2R \sin \gamma \dots (4)$$

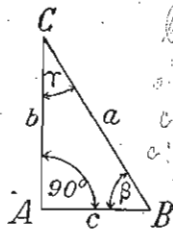
Једначине под (4) дају нам могућности да израчунамо стране једнога троугла, ако знамо његове углове и полупречник описаног круга.

**Напомена:** Синусна теорема важи не само за оштроугле троуглове, већ и за тупоугле и правоугле, о чему се уверавамо из слика 32 и 33.

Тако, из  $\triangle BEC$  (сл. 32) имамо:  $h = a \sin \beta$ , а из  $\triangle AEC$ :  $h = b \sin \delta = b \sin(180^\circ - \alpha) = b \sin \alpha$ . Стога је  $a \sin \beta = b \sin \alpha$ , или  $a : b = \sin \alpha : \sin \beta$ . Исто тако из  $\triangle ABC$  (слика 33) имамо:  $b = a \sin \beta$ , или  $b : a = \sin \beta : 1$ , или  $b : a = \sin \beta : \sin 90^\circ$ ; и  $c = a \sin \gamma$ , или  $c : a = \sin \gamma : 1$ , или  $c : a = \sin \gamma : \sin 90^\circ$ .



Сл. 32



Сл. 33

**Примена синусне теореме.** Ову теорему примењујемо за решавање разностраног троугла, ако знамо:

- 1) једну страну и два угла; и
- 2) ако знамо две стране и угао наспрам једне од тих страна.

Помоћу троуглове константе (обрасци под 4), налазимо: 1) стране троугла, ако знамо његове углове и полупречник описаног круга; 2) полупречник описаног круга, ако знамо само једну страну и наспрамни јој угао

( $R = \frac{a}{2 \sin \alpha} = \frac{b}{2 \sin \beta} = \frac{c}{2 \sin \gamma}$ ); и 3) углове, ако знамо стране

$$\left( \sin \alpha = \frac{a}{2R}, \sin \beta = \frac{b}{2R}, \sin \gamma = \frac{c}{2R}, \text{ а} \right.$$

$$\left. R = \frac{abc}{4P} = \frac{abc}{4 \sqrt{s(s-a)(s-b)(s-c)}} \right)$$

**Први случај:** Решити троугао кад се зна једна његова страна и два угла ( $a = 356 \text{ m}$ ,  $\alpha = 56^\circ 35' 40''$ ,  $\beta = 61^\circ 15' 50''$ ).

**Решење.** — 1) Угао  $\gamma = 180^\circ - (\alpha + \beta) = 62^\circ 8' 30''$ .

$$2) \text{ Из } b : a = \sin \beta : \sin \alpha \text{ је } b = \frac{a \sin \beta}{\sin \alpha} = \frac{356 \cdot \sin 61^\circ 15' 50''}{\sin 56^\circ 35' 40''};$$

$$\log b = \log 356 + \log \sin 61^\circ 15' 50'' - \log \sin 56^\circ 35' 40''$$

$$= 2,55145 + 1,94292 - 1,92158$$

$$= 2,55145 + 0,94292 - 1 - 0,92158 + 1 = 2,57279;$$

$$b = N2,57279 = 373,927 \dots = 373,93 \text{ m.}$$

$$3) \text{ Из } c : a = \sin \gamma : \sin \alpha \text{ је } c = \frac{a \cdot \sin \gamma}{\sin \alpha} = \frac{356 \cdot \sin 62^\circ 8' 30''}{\sin 56^\circ 35' 40''};$$

$$\log c = 2,57638; c = N2,57638 = 377,033 = 377,03 \text{ m.}$$

$$4) \text{ Из } \triangle CDB \text{ (сл. 30) је } h_{(c)} = a \cdot \sin \beta = 356 \cdot \sin 61^\circ 15' 50'';$$

$$\log h_{(c)} = 2,49437; h_{(c)} = N2,49437 = 312,157 \dots = 312,16 \text{ m.}$$

$$5) \text{ Из } \triangle BCF \text{ (сл. 30) је } h_{(b)} = a \cdot \sin \gamma = 356 \cdot \sin 62^\circ 8' 30'';$$

$$\log h_{(b)} = 2,49796; h_{(b)} = N2,49796 = 314,746 \dots = 314,75 \text{ m.}$$

$$6) \text{ Из } \triangle ABE \text{ (сл. 30) је } h_{(a)} = c \cdot \sin \beta = \frac{a \sin \gamma}{\sin \alpha} \cdot \sin \beta =$$

$$= \frac{356 \cdot \sin 62^\circ 8' 30'' \cdot \sin 61^\circ 15' 50''}{\sin 56^\circ 35' 40''}; \log h_{(a)} = 2,51930;$$

$$h_{(a)} = N2,51930 = 330,60 \text{ m. } 7) P = \frac{a \cdot h_{(a)}}{2} = \frac{a}{2} \cdot \frac{a \sin \beta \sin \gamma}{\sin \alpha} =$$

$$= \frac{a^2 \sin \beta \sin \gamma}{2 \sin \alpha} = \frac{356^2 \cdot \sin 61^\circ 15' 50'' \sin 62^\circ 8' 30''}{2 \sin 56^\circ 35' 40''};$$

$$\log P = 4,76972; P = N4,76972 = 58846,25 \text{ m}^2.$$

$$8) R = \frac{a}{2 \sin \alpha} = \frac{356}{2 \cdot \sin 56^\circ 35' 40''}; \log R = 2,32884;$$

$$R = N2,32884 = 213,23 \text{ m.}$$

**Други случај:** Решити троугао кад су познате две његове стране и угао наспрам једне од тих страна ( $a$ ,  $b$  и  $\alpha$ ).

Решење. 1) Употребом синусне теореме имамо:

$$a : b = \sin \alpha : \sin \beta, \text{ а одавде је } \sin \beta = \frac{b \cdot \sin \alpha}{a} \dots (1).$$

2) Угао  $\gamma$  налазимо затим из једначине:

$$\gamma = 180^\circ - (\alpha + \beta) \dots (2).$$

3) Најзад страну  $c$  израчунавамо опет применом синусне теореме:

$$c : a = \sin \gamma : \sin \alpha, \text{ одавде је } c = \frac{a \cdot \sin \gamma}{\sin \alpha} \dots (3).$$

Па како угао  $\beta$  налазимо из једначине (1) помоћу функције синуса, то ћемо добити две вредности:  $\beta$  и  $\beta_1$ , од којих једна ( $\beta$ ) претставља оштар угао, нађена помоћу таблица, а друга ( $\beta_1$ ) претставља туп угао, нађена једначином  $\beta_1 = 180^\circ - \beta$ , разуме се под претпоставком да је бројилац  $b \cdot \sin \alpha < a$ . Ако је  $b \cdot \sin \alpha > a$ , задатак је немогућ, јер синус једног угла не може имати вредност већу од 1.

Да бисмо сазнали које вредности угла  $\beta$  задовољавају погодбе задатка, посматрамо стране  $a$  и  $b$ .

1) За  $a > b$  је и  $\sphericalangle \alpha > \sphericalangle \beta$ , те је вредност угла  $\beta$  испод  $90^\circ$ , тј.  $\beta$  је оштар угао, па био угао  $\alpha$  туп или оштар. Према овоме, вредност  $\beta_1$  је немогућа, пошто троугао не може имати два тупа угла. У овоме случају задатак има само једно решење,  $\beta$ .

2) За  $a = b$  је и  $\sphericalangle \alpha = \sphericalangle \beta$ , те су оба угла оштра (Зашто?). Према томе и у овом случају вредност  $\beta_1$  отпада, те задатак и у овом случају има само једно решење,  $\beta$ .

3) За  $a < b$  је и  $\sphericalangle \alpha < \sphericalangle \beta$ , те угао  $\alpha$  може бити само оштар, а угао  $\beta$  и оштар и туп. Према томе ове вредности  $\beta$  и  $\beta_1$  задовољавају погодбе задатка, те задатак у овоме случају има два решења:  $\beta$  и  $\beta_1$ .

За овај трећи случај, друго решење за угао  $\gamma$  (2) биће  $\gamma_1 = 180^\circ - (\alpha + \beta_1)$ , а друго решење за страну  $c$  (3) биће

$$c_1 = \frac{a \cdot \sin \gamma_1}{\sin \alpha}.$$

Посебни примери:

Пример I.  $a = 45 \text{ cm}$ ,  $b = 53 \text{ cm}$  и  $\alpha = 53^\circ 48'$ .

Како је  $a < b$ , то је и  $\alpha < \beta$ , те задатак има два решења.

а) Прво решење:

$$1) \sin \beta = \frac{b \cdot \sin \alpha}{a} = \frac{53 \cdot \sin 53^\circ 48'}{45}; \log \sin \beta = 1,97792; \text{ а}$$

$$\beta = 71^\circ 53'; \quad 2) \gamma = 180^\circ - (\alpha + \beta) = 54^\circ 19';$$

$$3) c = \frac{a \cdot \sin \gamma}{\sin \alpha} = \frac{45 \cdot \sin 54^\circ 19'}{\sin 53^\circ 48'}; \log c = 1,65605;$$

$$c = \sqrt{1,65605} = 45,305 \dots = 45,31 \text{ cm}.$$

Остале елементе троуглове налазимо као код првог примера за примену синусне теореме.

б) Друго решење:

$$1) \beta_1 = 180^\circ - \beta = 108^\circ 7'; \quad 2) \gamma_1 = 180^\circ - (\alpha + \beta) = 18^\circ 5';$$

$$3) c' = \frac{a \cdot \sin \gamma_1}{\sin \alpha} = \frac{45 \cdot \sin 18^\circ 5'}{\sin 53^\circ 48'}; \log c' = 1,23828;$$

$$c = \sqrt{1,23828} = 17,31 \text{ cm}.$$

Пример II.  $a = 58 \text{ m}$ ,  $b = 41$ ,  $\alpha = 81^\circ 40' 20''$ .

Како је овде  $a > b$ , то је и  $\sphericalangle \alpha > \sphericalangle \beta$ , те за угао  $\beta$  узимамо у обзир само једно решење, и то оштар угао  $< \alpha$ .

$$1) \sin \beta = \frac{b \sin \alpha}{a} = \frac{41 \cdot \sin 81^\circ 40' 20''}{58}; \log \sin \beta = 1,84475;$$

$$\beta = 44^\circ 22' 55''.$$

$$2) \gamma = 180^\circ - (\alpha + \beta) = 53^\circ 56' 45''.$$

$$3) c = \frac{a \sin \gamma}{\sin \alpha} = \frac{58 \cdot \sin 53^\circ 56' 45''}{\sin 81^\circ 40' 20''}; \log c = 1,67566;$$

$$c = \sqrt{1,67566} = 47,386 \dots = 47,39 \text{ m}.$$

Пример III.  $a = 52 \text{ m}$ ,  $b = 75 \text{ m}$ ,  $\alpha = 95^\circ 25'$ .

Како је у овом случају  $b > a$ , то би требало да је и  $\sphericalangle \beta > \sphericalangle \alpha$ , тј. и угао  $\beta$  треба да буде туп. Па како је ово немогуће, јер у троуглу не могу бити два тупа угла, то је овај задатак немогућан.

Пример IV.  $a = 10 \text{ cm}$ ,  $b = 58 \text{ cm}$ ,  $\alpha = 30^\circ$ .

И овај је задатак немогућан, јер је у овом случају  $b \sin \alpha > a$ , или  $\sin \beta = \frac{b \cdot \sin \alpha}{a} > 1$ , што је немогуће.

Напомена. — Могућност, немогућност и неодређеност решења овога случаја конструктивним путем позната је ученицима из планиметрије, где је увек могуће конструисати троугао, ако знамо две стране и угао наспрам веће од тих страна, а немогуће је конструисати троугао, или добијамо два решења, чиме задатак постаје неодређен, ако знамо две стране и угао наспрам мање од тих страна (Види Планиметрију, зад. 3 на стр. 65).

II. Тангентна теорема. Збир двеју троуглових страна има се према њиховој разлици, као што се има тангенс полубира према тангенсу полуразлике супротних углова.

Ова се теорема изводи из синусне теореме применом изведених пропорција. Тако, из пропорције  $a : b = \sin \alpha : \sin \beta$  имамо:

$$\frac{a+b}{a-b} = \frac{\sin \alpha + \sin \beta}{\sin \alpha - \sin \beta} = \frac{2 \sin \frac{\alpha+\beta}{2} \cos \frac{\alpha-\beta}{2}}{2 \cos \frac{\alpha+\beta}{2} \sin \frac{\alpha-\beta}{2}} = \frac{\operatorname{tg} \frac{\alpha+\beta}{2}}{\operatorname{tg} \frac{\alpha-\beta}{2}} = \operatorname{ctg} \frac{\alpha-\beta}{2}$$

Тако исто је:  $\frac{a+c}{a-c} = \frac{\operatorname{tg} \frac{\alpha+\gamma}{2}}{\operatorname{tg} \frac{\alpha-\gamma}{2}}$  и  $\frac{b+c}{b-c} = \frac{\operatorname{tg} \frac{\beta+\gamma}{2}}{\operatorname{tg} \frac{\beta-\gamma}{2}}$

**Примена тангентне теореме.** Ову теорему примењујемо за решавање троуглова, ако су познате две стране и њихов захваћени угао.

**Трећи случај.** — Решити троугао, ако је  $a = 19$ ,  $b = 14$  m и  $\gamma = 43^\circ 55' 30''$ .

**Решење.** — 1)  $\alpha + \beta = 180^\circ - \gamma = 136^\circ 4' 30''$ .

$$2) \frac{a+b}{a-b} = \frac{\operatorname{tg} \frac{\alpha+\beta}{2}}{\operatorname{tg} \frac{\alpha-\beta}{2}}, \text{ или } \frac{33}{5} = \frac{\operatorname{tg} 68^\circ 2' 15''}{\operatorname{tg} \frac{\alpha-\beta}{2}}$$

Одавде је  $\operatorname{tg} \frac{\alpha-\beta}{2} = \frac{5 \cdot \operatorname{tg} 68^\circ 2' 15''}{33}$ ;  $\log \operatorname{tg} \frac{\alpha-\beta}{2} = \overline{1,57487}$ ;

$$\frac{\alpha-\beta}{2} = 20^\circ 35' 33''; \alpha - \beta = 41^\circ 11' 6''$$

Сабирањем и одузимањем једначина:

$$\alpha + \beta = 136^\circ 4' 30''$$

$$\alpha - \beta = 41^\circ 11' 6''$$

добијамо:  $\alpha = 88^\circ 37' 48''$  и  $\beta = 47^\circ 26' 42''$ . Најзад страну  $c$  налазимо по синусној теореме:  $c : a = \sin \gamma : \sin \alpha$ , где је:

$$c = \frac{a \cdot \sin \gamma}{\sin \alpha} = \frac{19 \cdot \sin 43^\circ 55' 30''}{\sin 88^\circ 37' 48''}; \log c = 1,12006;$$

$$c = N 1,12006 = 13,18 \text{ m.}$$

Остале елементе троуглове налазимо као у првом примеру за примену синусне теореме.

**III. Карнотова (косинусна) теорема.** Квадрат ма које стране једнога троугла једнак је збиру квадрата других двеју страна смањеног за двоструки производ тих страна и косинуса захваћеног угла.

а) Нека је троугао  $ABC$  (сл. 30) оштроугли. Ако пројекцију стране  $b$  на страни  $c$  означимо са  $x$ , онда пројекција стране  $a$  на страни  $c$  је  $c-x$ . Тада је из  $\triangle BDC$ :  $a^2 = h_{(c)}^2 + (c-x)^2$ , и из  $\triangle ADC$ :  $h_{(c)}^2 = b^2 - x^2$ . Ако у првој једначини заменимо  $h_{(c)}^2$  са  $b^2 - x^2$ , добијамо  $a^2 = b^2 - x^2 + (c-x)^2$ , или  $a^2 = b^2 + c^2 - 2cx \dots (1)$ . Међутим, из  $\triangle ADC$  имамо:  $x = b \cos \alpha$ . Заменом у (1) добијамо:

$$a^2 = b^2 + c^2 - 2bc \cos \alpha.$$

Истим бисмо путем нашли, повлачењем висина  $h_{(a)}$  и  $h_{(b)}$ , да је:

$$b^2 = a^2 + c^2 - 2ac \cos \beta \text{ и } c^2 = a^2 + b^2 - 2ab \cos \gamma.$$

б) Нека је троугао  $ABC$  (сл. 32) тупоугли. Тада је из  $\triangle BCE$ :  $a^2 = h^2 + (c+x)^2$ , а из  $\triangle ACE$ :  $h^2 = b^2 - x^2$  и  $x = -b \cos \delta = b \cos (180^\circ - \alpha) = -b \cos \alpha$ . Заменом у првој једначини  $h^2$  са  $b^2 - x^2$  а затим  $x$  са  $-b \cos \alpha$  добијамо:

$$a^2 = b^2 + c^2 - 2bc \cos \alpha,$$

из које једначине видимо да косинусна теорема важи за ма коју троуглову страну без обзира да ли се та страна налази наспрам оштрог или тупог угла. Она важи и за хипотенузу правоуглог троугла, јер, ако је  $a$  хипотенуза,  $b$  и  $c$  катете, онда је

$$a^2 = b^2 + c^2 - 2bc \cos 90^\circ = b^2 + c^2,$$

пошто је  $\cos 90^\circ = 0$ .

**Примена косинусне теореме.** И ову теорему, као и тангентну, примењујемо при решавању троуглова, ако су познате две стране и захваћени угао. Подесна је само у случају, ако су вредности страна мали бројеви.

**Пример.**  $b = 5,6$  dm,  $c = 4,9$  dm,  $\alpha = 65^\circ 35'$ . Тада је  $a^2 = 5,6^2 + 4,9^2 - 2 \cdot 5,6 \cdot 4,9 \cdot \cos 65^\circ 35' \dots (1)$ .

Заменом  $x = 2 \cdot 5,6 \cdot 4,9 \cdot \cos 65^\circ 35' = 54,88 \cdot \cos 65^\circ 35'$ , биће  $\log x = \log 54,88 + \log \cos 65^\circ 35' = 1,73941 + \overline{1,61634} = 1,35575$ ,

а  $x = N 1,35575 = 22,685789 \dots$  Заменом у (1) добијамо:

$$a^2 = 5,6^2 + 4,9^2 - 22,6858 = 32,6812, a = \sqrt{32,6842} = 5,72 \text{ dm.}$$

Угао  $\beta$  налазимо помоћу синусне теореме:  $a : b = \sin \alpha : \sin \beta$ .

$$\text{Одавде је } \sin \beta = \frac{b \cdot \sin \alpha}{a} = \frac{5,6 \cdot \sin 65^\circ 35'}{5,72}, \log \sin \beta = \overline{1,95010};$$

а  $\beta = 63^\circ 3' 26''$ . Одавде за  $\sphericalangle \beta$  узмемо у обзир само решење мање од  $90^\circ$ , јер је  $b < a$ , те и  $\sphericalangle \beta < \sphericalangle \alpha$ .

Најзад  $\sphericalangle \gamma = 180^\circ - (\alpha + \beta) = 51^\circ 21' 34''$ .

Споредне елементе троуглове израчунавамо као код I примера за примену синусне теореме.

#### IV. Обрасци за израчунавање углова у троуглу

а) Обрасци за тангенсе полууглова.

По Карнотовој теорѐми имамо:  $a^2 = b^2 + c^2 - 2bc \cos \alpha$ .

Одавде је  $\cos \alpha = \frac{b^2 + c^2 - a^2}{2bc}$ . Па како је  $\operatorname{tg} \frac{\alpha}{2} =$

$= \sqrt{\frac{1 - \cos \alpha}{1 + \cos \alpha}}$  (§ 15, 3), то заменом у овом обрасцу  $\cos \alpha$  са

$$\frac{b^2 + c^2 - a^2}{2bc} \text{ добијамо: } \operatorname{tg} \frac{\alpha}{2} = \sqrt{\frac{1 - \frac{b^2 + c^2 - a^2}{2bc}}{1 + \frac{b^2 + c^2 - a^2}{2bc}}}$$

$$= \sqrt{\frac{2bc - b^2 - c^2 + a^2}{2bc + b^2 + c^2 - a^2}} = \sqrt{\frac{a^2 - (b - c)^2}{(b + c)^2 - a^2}}$$

$$= \sqrt{\frac{(a + b - c)(a - b + c)}{(b + c + a)(b + c - a)}} \dots (1)$$

Ако је обим  $a + b + c = 2s$ , па из ове једначине одуземо најпре  $2a$ , затим  $2b$  и најзад  $2c$ , добијамо:

$$b + c - a = 2(s - a), \quad a + c - b = 2(s - b) \text{ и } a + b - c = 2(s - c).$$

Заменом у обрасцу (1) добијамо:

$$\operatorname{tg} \frac{\alpha}{2} = \sqrt{\frac{(s - b)(s - c)}{s(s - a)}}. \text{ Истим путем налазимо:}$$

$$\operatorname{tg} \frac{\beta}{2} = \sqrt{\frac{(s - a)(s - c)}{s(s - b)}} \text{ и } \operatorname{tg} \frac{\gamma}{2} = \sqrt{\frac{(s - a)(s - b)}{s(s - c)}}.$$

б) Обрасци за синусе и косинусе полууглова.

И ове обрасце добијамо из образаца

$$\sin \frac{\alpha}{2} = \sqrt{\frac{1 - \cos \alpha}{2}} \text{ и } \cos \frac{\alpha}{2} = \sqrt{\frac{1 + \cos \alpha}{2}} \quad (\S 14)$$

заменом  $\cos \alpha$  са  $\frac{b^2 + c^2 - a^2}{2bc}$

Овом заменом добијамо:

$$\sin \frac{\alpha}{2} = \sqrt{\frac{(s - b)(s - c)}{bc}} \text{ и } \cos \frac{\alpha}{2} = \sqrt{\frac{s(s - a)}{2bc}}. \text{ Тако исто:}$$

$$\sin \frac{\beta}{2} = \sqrt{\frac{(s - a)(s - c)}{ac}}, \quad \cos \frac{\beta}{2} = \sqrt{\frac{s(s - b)}{2ac}},$$

$$\sin \frac{\gamma}{2} = \sqrt{\frac{(s - a)(s - b)}{ab}} \text{ и } \cos \frac{\gamma}{2} = \sqrt{\frac{s(s - c)}{2ab}}.$$

с) Обрасци за синусе углова.

Употребом образаца за функције удвојених углова (§ 13)

$$\text{имамо: } \sin \alpha = 2 \sin \frac{\alpha}{2} \cos \frac{\alpha}{2} = 2 \sqrt{\frac{(s - b)(s - c)}{bc}}$$

$$\sqrt{\frac{s(s - a)}{bc}} = \frac{2}{bc} \sqrt{s(s - a)(s - b)(s - c)}. \text{ Исто тако:}$$

$$\sin \beta = \frac{2}{ac} \sqrt{s(s - a)(s - b)(s - c)} \text{ и}$$

$$\sin \gamma = \frac{2}{ab} \sqrt{s(s - a)(s - b)(s - c)}.$$

Па како је по Хероновом обрасцу површина

$P = \sqrt{s(s - a)(s - b)(s - c)}$ , то заменом у претходним једначинама добијамо:

$$\sin \alpha = \frac{2P}{bc}, \quad \sin \beta = \frac{2P}{ac} \text{ и } \sin \gamma = \frac{2P}{ab}.$$

д) Обрасци за тангенсе полууглова када су познате стране и полупречник уписаног круга  $r$ .

Како је  $r = \frac{P}{s} = \sqrt{\frac{(s - a)(s - b)(s - c)}{s}}$ , то је према

$$\text{обрасцима под (а): } \operatorname{tg} \frac{\alpha}{2} = \sqrt{\frac{(s - b)(s - c)}{s(s - a)}} =$$

$$= \sqrt{\frac{(s - a)(s - b)(s - c)}{s(s - a)^2}} = \frac{1}{s - a} \sqrt{\frac{(s - a)(s - b)(s - c)}{s}} =$$

$$= \frac{r}{s - a}. \text{ Исто тако: } \operatorname{tg} \frac{\beta}{2} = \frac{r}{s - b} \text{ и } \operatorname{tg} \frac{\gamma}{2} = \frac{r}{s - c}.$$

Напомена. Из ових образаца изводимо образац:

$$r = (s - a) \operatorname{tg} \frac{\alpha}{2} = (s - b) \operatorname{tg} \frac{\beta}{2} = (s - c) \operatorname{tg} \frac{\gamma}{2},$$

који се примењује за израчунавање полупречника уписаног круга ма кога троугла, па био троугао правоугли или косоугли.

**Четврти случај.** Решити троугао када су познате све три стране ( $a, b$  и  $c$ ).

У овоме случају примењују се обрасци за израчунавање углова у троуглу. Тако је:

$$\operatorname{tg} \frac{\alpha}{2} = \sqrt{\frac{(s - b)(s - c)}{s(s - a)}}, \quad \operatorname{tg} \frac{\beta}{2} = \sqrt{\frac{(s - a)(s - c)}{s(s - b)}} \text{ и } \operatorname{tg} \frac{\gamma}{2} = \sqrt{\frac{(s - a)(s - b)}{s(s - c)}}.$$

Висине израчунавамо као у првом случају пошто нађемо претходно углове, или применом планиметриских образаца:

$$h_{(a)} = \frac{2}{a} \sqrt{s(s - a)(s - b)(s - c)}, \quad h_{(b)} = \frac{2}{b} \sqrt{s(s - a)(s - b)(s - c)}$$

$$\text{и } h_{(c)} = \frac{2}{c} \sqrt{s(s - a)(s - b)(s - c)}.$$

Најзад елементе:  $P, R$  и  $r$  налазимо или као у првом случају.



$$P = \sqrt{s(s-a)(s-b)(s-c)}, R = \frac{abc}{4\sqrt{s(s-a)(s-b)(s-c)}} \text{ и}$$

$$r = \frac{\sqrt{(s-a)(s-b)(s-c)}}{s}$$

Бројни пример:  $a = 35, b = 39, c = 48$ .

Овде је:  $2s = a + b + c = 122, s = 61, s - a = 26, s - b = 22$   
и  $s - c = 13$ .

Тада је: 1)  $\operatorname{tg} \frac{\alpha}{2} = \sqrt{\frac{22 \cdot 13}{61 \cdot 26}} = \sqrt{\frac{11}{61}}; \log \operatorname{tg} \frac{\alpha}{2} = 1,62803;$

$$\frac{\alpha}{2} = 23^{\circ} 0' 31'', \text{ а } \alpha = 46^{\circ} 1' 2'';$$

$$2) \operatorname{tg} \frac{\beta}{2} = \sqrt{\frac{26 \cdot 13}{61 \cdot 22}} = \sqrt{\frac{169}{6 \cdot 11}}; \log \operatorname{tg} \frac{\beta}{2} = 1,70058; \beta = 53^{\circ} 18';$$

$$3) \operatorname{tg} \frac{\gamma}{2} = \sqrt{\frac{26 \cdot 22}{61 \cdot 13}} = \sqrt{\frac{44}{61}}; \log \operatorname{tg} \frac{\gamma}{2} = 1,92906; \frac{\gamma}{2} = 40^{\circ} 20' 29''$$

а  $\gamma = 80^{\circ} 40' 58''$ , или  $\gamma = 180^{\circ} - (\alpha + \beta) = 80^{\circ} 40' 58''$ ; 4)  $h_{(a)} =$   
 $= \frac{2}{35} \sqrt{61 \cdot 26 \cdot 22 \cdot 13}; \log h_{(a)} = 1,58530; h_{(a)} = N1,58530 = 38,49;$

$$5) h_{(b)} = \frac{2}{39} \sqrt{61 \cdot 26 \cdot 22 \cdot 13}; \log h_{(b)} = 1,53830; h_{(b)} = N1,53830 =$$
  
 $= 34,54; 6) h_{(c)} = \frac{2}{48} \sqrt{61 \cdot 26 \cdot 22 \cdot 13} = \frac{1}{24} \sqrt{61 \cdot 26 \cdot 22 \cdot 13};$

$$\log h_{(c)} = 1,44812; h_{(c)} = N1,44812 = 28,06;$$

$$7) P = \sqrt{61 \cdot 26 \cdot 22 \cdot 13}; \log P = 2,82834; P = N2,82834 = 673,50;$$

$$8) R = \frac{abc}{4P} = \frac{35 \cdot 39 \cdot 48}{4 \cdot 673,50} = \frac{7 \cdot 13 \cdot 12}{44,9} = 24,32; \text{ и}$$

$$9) r = \frac{P}{s} = \frac{673,50}{61} = 11,04.$$

### V. Молдвајдове једначине (Гаусови обрасци)\*

1. Код свакога се троугла збир двеју страна има према трећој, као што се има косинус полуразлике углова наспрам тих страна према синусу полуугла наспрам треће стране; и

2. Разлика двеју страна има се према трећој, као што се има синус полуразлике углова наспрам тих страна према косинусу полуугла наспрам треће стране.

Гаусове обрасце изводимо из синусне теореме применом особине продужених пропорција. По синусној теореме имамо:  
 $a : b : c = \sin \alpha : \sin \beta : \sin \gamma$ .

\* Само за ученике реалке.

$$\text{Одавде је: } \frac{a+b}{c} = \frac{\sin \alpha + \sin \beta}{\sin \gamma} = \frac{2 \sin \frac{\alpha+\beta}{2} \cos \frac{\alpha-\beta}{2}}{2 \sin \frac{\gamma}{2} \cos \frac{\gamma}{2}} \dots (1) \text{ и}$$

$$\frac{a-b}{c} = \frac{\sin \alpha - \sin \beta}{\sin \gamma} = \frac{2 \cos \frac{\alpha+\beta}{2} \sin \frac{\alpha-\beta}{2}}{2 \sin \frac{\gamma}{2} \cos \frac{\gamma}{2}} \dots (2). \text{ Па како је}$$

$$\sin \frac{\alpha+\beta}{c} = \sin \left( 90^{\circ} - \frac{\gamma}{2} \right) = \cos \frac{\gamma}{2} \text{ и } \cos \frac{\alpha+\beta}{2} = \cos \left( 90^{\circ} - \frac{\gamma}{2} \right) = \sin \frac{\gamma}{2},$$

то заменом у (1) и (2) добијамо:

$$\frac{a+b}{c} = \frac{\cos \frac{\alpha-\beta}{2}}{\sin \frac{\gamma}{2}} \text{ и } \frac{a-b}{c} = \frac{\sin \frac{\alpha-\beta}{2}}{\cos \frac{\gamma}{2}}. \text{ Тако исто:}$$

$$\frac{a+c}{b} = \frac{\cos \frac{\alpha-\gamma}{2}}{\sin \frac{\beta}{2}}, \quad \frac{b+c}{a} = \frac{\cos \frac{\beta-\gamma}{2}}{\sin \frac{\alpha}{2}},$$

$$\frac{a-c}{b} = \frac{\sin \frac{\alpha-\gamma}{2}}{\cos \frac{\beta}{2}} \text{ и } \frac{b-c}{a} = \frac{\sin \frac{\beta-\gamma}{2}}{\cos \frac{\alpha}{2}}.$$

Напомена. Ови се обрасци употребљавају при решавању троуглова када су подаци комбиновани, тј. када се зна, поред извесног броја троуглових елемената, још збир или разлика двеју његових страна, збир или разлика двају његових углова итд.

### VI. Обрасци за површину троугла

1) Површина троугла када су познате две стране и захваћени угао.

Из  $\Delta ABC$  (сл. 30) имамо:

$$h_{(c)} = a \sin \beta = b \sin \alpha; h_{(a)} = c \sin \beta = b \sin \gamma; \text{ и } h_{(b)} = a \sin \gamma = c \sin \alpha.$$

Заменом у  $P = \frac{a h_{(a)}}{2} = \frac{b h_{(b)}}{2} = \frac{c h_{(c)}}{2}$  имамо:

$$P = \frac{ac}{2} \sin \beta = \frac{bc}{2} \sin \alpha = \frac{ab}{2} \sin \gamma \dots (1)$$

2) Површина троугла кад је позната једна страна и два угла.

Ако је позната страна  $c$  и углови  $\alpha$  и  $\beta$ , онда је по синусној теореме  $b : c = \sin \beta : \sin \gamma$ , или  $b : c = \sin \beta : \sin [180^{\circ} - (\alpha + \beta)]$ .

или  $b : c = \sin \beta : \sin (\alpha + \beta)$ . Одавде је  $b = \frac{c \sin \beta}{\sin (\alpha + \beta)}$ .

Заменом у  $P = \frac{bc}{2} \sin \alpha$  добијамо:  $P = \frac{c^2 \sin \alpha \sin \beta}{2 \sin (\alpha + \beta)}$ .

Исто тако:  $P = \frac{a^2 \sin \beta \sin \gamma}{2 \sin (\beta + \gamma)}$  и  $P = \frac{b^2 \sin \alpha \sin \gamma}{2 \sin (\alpha + \gamma)}$  ... (2)

3) Површина троугла кад су познате његове стране.

У овоме случају употребљавамо Херонов образца:

$$P = \sqrt{s(s-a)(s-b)(s-c)} \dots (3)$$

А) Површина троугла кад су познати углови и полупречник описаног круга  $R$ .

Како је  $a = 2R \sin \alpha$ ,  $b = 2R \sin \beta$  и  $c = 2R \sin \gamma$  (§ 26, I), а из планиметрије знамо да је  $P = \frac{abc}{4R}$ , то је заменом:

$$P = 2 R^2 \sin \alpha \sin \beta \sin \gamma \dots (4)$$

5) Површина троугла када су познати углови и полупречник уписаног круга  $r$ .

Како је  $\operatorname{tg} \frac{\alpha}{2} = \frac{r}{s-a}$ ,  $\operatorname{tg} \frac{\beta}{2} = \frac{r}{s-b}$  и  $\operatorname{tg} \frac{\gamma}{2} = \frac{r}{s-c}$  (§ 26, IV, д),

то је одавде:  $s-a = \frac{r}{\operatorname{tg} \frac{\alpha}{2}}$ ,  $s-b = \frac{r}{\operatorname{tg} \frac{\beta}{2}}$  и  $s-c = \frac{r}{\operatorname{tg} \frac{\gamma}{2}}$ .

Множењем ових једначина добијамо:

$$(s-a)(s-b)(s-c) = \frac{r^3}{\operatorname{tg} \frac{\alpha}{2} \operatorname{tg} \frac{\beta}{2} \operatorname{tg} \frac{\gamma}{2}} = r^3 \operatorname{cotg} \frac{\alpha}{2} \operatorname{cotg} \frac{\beta}{2} \operatorname{cotg} \frac{\gamma}{2},$$

$$\text{или } s(s-a)(s-b)(s-c) = r^3 s \operatorname{cotg} \frac{\alpha}{2} \operatorname{cotg} \frac{\beta}{2} \operatorname{cotg} \frac{\gamma}{2}.$$

Па како је  $P = \sqrt{s(s-a)(s-b)(s-c)}$  и  $P = rs$ , то из претходне једначине добијамо:

$$P = r^2 \operatorname{cotg} \frac{\alpha}{2} \operatorname{cotg} \frac{\beta}{2} \operatorname{cotg} \frac{\gamma}{2} \dots (5)$$

6) Површина троугла кад је познат обим  $2s$  и углови.

Множењем једначина

$$\operatorname{tg} \frac{\alpha}{2} = \sqrt{\frac{(s-b)(s-c)}{s(s-a)}}, \operatorname{tg} \frac{\beta}{2} = \sqrt{\frac{(s-a)(s-c)}{s(s-b)}} \text{ и } \operatorname{tg} \frac{\gamma}{2} =$$

$$= \sqrt{\frac{(s-a)(s-b)}{s(s-c)}} \text{ (§ 26, IV а) добијамо: } \operatorname{tg} \frac{\alpha}{2} \operatorname{tg} \frac{\beta}{2} \operatorname{tg} \frac{\gamma}{2} =$$

$$= \sqrt{\frac{s(s-a)(s-b)(s-c)}{s^3}} = \sqrt{\frac{s(s-a)(s-b)(s-c)}{s^4}} = \frac{P}{s^2}.$$

$$\text{Одавде је: } P = s^2 \operatorname{tg} \frac{\alpha}{2} \operatorname{tg} \frac{\beta}{2} \operatorname{tg} \frac{\gamma}{2} \dots (6)$$

Сложенији случајеви решавања код разностраног троугла.

1) Решити троугао кад се зна обим  $2s$  и углови  $\alpha$  и  $\beta$ .

1)  $\gamma = 180^\circ - (\alpha + \beta)$ ; 2) По синусној теореме имамо:

$a : b : c = \sin \alpha : \sin \beta : \sin \gamma$ , а из ове пропорције добијамо:

$(a + b + c) : (\sin \alpha + \sin \beta + \sin \gamma) = a : \sin \alpha = b : \sin \beta = c : \sin \gamma$

или  $2s : 4 \cos \frac{\alpha}{2} \cos \frac{\beta}{2} \cos \frac{\gamma}{2} = a : \sin \alpha = b : \sin \beta = c : \sin \gamma$ .

$$\text{Одавде је: } a = \frac{s \cdot \sin \alpha}{2 \cos \frac{\alpha}{2} \cos \frac{\beta}{2} \cos \frac{\gamma}{2}} = \frac{2s \cdot \sin \frac{\alpha}{2} \cos \frac{\alpha}{2}}{2 \cos \frac{\alpha}{2} \cos \frac{\beta}{2} \cos \frac{\gamma}{2}} =$$

$$= \frac{s \cdot \sin \frac{\alpha}{2}}{\cos \frac{\beta}{2} \cos \frac{\gamma}{2}}. \text{ Тако исто: } b = \frac{s \cdot \sin \frac{\beta}{2}}{\cos \frac{\alpha}{2} \cos \frac{\gamma}{2}} \text{ и } c = \frac{s \cdot \sin \frac{\gamma}{2}}{\cos \frac{\alpha}{2} \cos \frac{\beta}{2}}.$$

Површина  $P = s^2 \operatorname{tg} \frac{\alpha}{2} \operatorname{tg} \frac{\beta}{2} \operatorname{tg} \frac{\gamma}{2}$  (§ 26, VI, 6);

$$R = \frac{a}{2 \sin \alpha} = \frac{s}{4 \cos \frac{\alpha}{2} \cos \frac{\beta}{2} \cos \frac{\gamma}{2}}; \text{ и } r = \frac{P}{s} = s \operatorname{tg} \frac{\alpha}{2} \operatorname{tg} \frac{\beta}{2} \operatorname{tg} \frac{\gamma}{2}.$$

2) Дана је страна  $a$ , супротни јој угао  $\alpha$  и збир других двеју страна  $b + c = m$ .

По Гаусовим обрасцима имамо:

$$\frac{b+c}{a} = \frac{\cos \frac{\beta-\gamma}{2}}{\sin \frac{\alpha}{2}}, \text{ или } \frac{m}{a} = \frac{\cos \frac{\beta-\gamma}{2}}{\sin \frac{\alpha}{2}}.$$

Одавде је:  $\cos \frac{\beta-\gamma}{2} = \frac{m}{a} \sin \frac{\alpha}{2}$ . Из ове једначине, при-

меном логаритама, налазимо угао  $(\beta - \gamma)$ .

За  $\beta - \gamma = \omega$  и  $\beta + \gamma = 180^\circ - \alpha$  биће

$$\beta = \frac{180^\circ - \alpha + \omega}{2} \text{ и } \gamma = \frac{180^\circ - \alpha - \omega}{2}.$$

Остале елементе налазимо као у првом случају за примену синусне теореме.

3) Дана је страна  $a$ , налегли јој угао  $\beta$  и збир других двеју страна  $b + c = m$ .

$$\text{По Гаусовим обрасцима имамо: } \frac{b+c}{a} = \frac{\cos \frac{\beta-\gamma}{2}}{\sin \frac{\alpha}{2}}, \text{ или}$$

$$\frac{m}{a} = \frac{\cos \frac{\beta - \gamma}{2}}{\cos \frac{\beta + \gamma}{2}}. \text{ Применом изведених пропорција имамо:}$$

$$\frac{m+a}{m-a} = \frac{\cos \frac{\beta - \gamma}{2} + \cos \frac{\beta + \gamma}{2}}{\cos \frac{\beta - \gamma}{2} - \cos \frac{\beta + \gamma}{2}} = \frac{2 \cos \frac{\beta}{2} \cos \frac{\gamma}{2}}{2 \sin \frac{\beta}{2} \sin \frac{\gamma}{2}} = \cotg \frac{\beta}{2} \cotg \frac{\gamma}{2}.$$

Одавде је;

$$\cotg \frac{\gamma}{2} = \frac{m+a}{(m-a) \cotg \frac{\beta}{2}}, \text{ или } \tg \frac{\gamma}{2} = \frac{m-a}{m+a} \cotg \frac{\beta}{2}.$$

Остале елементе израчунавамо као у првом случају. Исто тако се решава задатак кад се зна: једна страна, налегли јој угао и разлика других двеју страна.

4) Зна се страна  $c$ , разлика других двеју страна  $a - b = d$  и разлика њихових супротних углова  $\alpha - \beta = \omega$ . Под Гаусовим обрасцима имамо:

$$\frac{a-b}{c} = \frac{\sin \frac{\alpha - \beta}{2}}{\cos \frac{\gamma}{2}}, \text{ или } \frac{d}{c} = \frac{\sin \frac{\omega}{2}}{\cos \frac{\gamma}{2}}.$$

Одавде је:  $\cos \frac{\gamma}{2} = \frac{c}{d} \sin \frac{\omega}{2}$ . Затим из једначина

$\alpha - \beta = \omega$  и  $\alpha + \beta = 180^\circ - \gamma$  налазимо углове  $\alpha$  и  $\beta$ , па даље радимо као у првом случају за примену синусне теореме.

5) Знају се површина  $P$  и углови.

$$\text{Како је } P = \frac{a^2 \sin \beta \sin \gamma}{2 \sin(\beta + \gamma)} = \frac{b^2 \sin \alpha \sin \gamma}{2 \sin(\alpha + \gamma)} = \frac{c^2 \sin \alpha \sin \beta}{2 \sin(\alpha + \beta)} \quad (\S 26,$$

$$\text{VI, 2), то је: } a = \sqrt{\frac{2P \sin(\beta + \gamma)}{\sin \beta \sin \gamma}}, \quad b = \sqrt{\frac{2P \sin(\alpha + \gamma)}{\sin \alpha \sin \gamma}} \text{ и}$$

$$c = \sqrt{\frac{2P \sin(\alpha + \beta)}{\sin \alpha \sin \beta}}.$$

Из  $P = 2R^2 \sin \alpha \sin \beta \sin \gamma$  (§ 26, VI, 4) имамо:

$$R = \sqrt{\frac{P}{2 \sin \alpha \sin \beta \sin \gamma}} \text{ и из } P = r^2 \cotg \frac{\alpha}{2} \cotg \frac{\beta}{2} \cotg \frac{\gamma}{2}$$

$$(\S 26, \text{IV, 5}) \text{ имамо } r = \sqrt{P \tg \frac{\alpha}{2} \tg \frac{\beta}{2} \tg \frac{\gamma}{2}}.$$

6) Знају се полупречник уписаног круга  $r$  и углови.

Ако означимо са  $p$  и  $q$  отсечке стране  $a$ , на које је дели полупречник уписаног круга  $r$ , онда је  $p = r \cotg \frac{\beta}{2}$  и

$q = r \cotg \frac{\gamma}{2}$ . Тада је

$$a = p + q = r \left( \cotg \frac{\beta}{2} + \cotg \frac{\gamma}{2} \right) = \frac{r \sin \frac{\beta + \gamma}{2}}{\sin \frac{\beta}{2} \sin \frac{\gamma}{2}} = \frac{r \cos \frac{\alpha}{2}}{\sin \frac{\beta}{2} \sin \frac{\gamma}{2}}.$$

$$\text{Исто тако: } b = \frac{r \cos \frac{\beta}{2}}{\sin \frac{\alpha}{2} \sin \frac{\gamma}{2}} \text{ и } c = \frac{r \cos \frac{\gamma}{2}}{\sin \frac{\alpha}{2} \sin \frac{\beta}{2}}.$$

Остале елементе израчунавамо као у првом случају.

7. Дат је обим  $2s$ , полупречник уписаног круга  $r$  и угао  $\alpha$ .

$$\text{Како је } \tg \frac{\alpha}{2} = \frac{r}{s-a} \quad (\S 26, \text{IV, d}), \text{ то је } s-a = \frac{r}{\tg \frac{\alpha}{2}}.$$

Употребом логаритама налазимо најпре  $(s-a)$ . Ако је  $s-a = m$ , онда је  $a = s-m$ . Тада је  $b+c = 2s-a$ , па се задатак даље ради као задатак под 2.

### III. Задаци за вежбу

1) Решити троугао кад се зна: а)  $a = 15$ ,  $b = 14$ ,  $c = 13$ ; б)  $b = 130$ ,  $c = 152$ ,  $\alpha = 42^\circ 50' 22''$ ; в)  $b = 52,2$ ,  $\alpha = 40^\circ$ ,  $\beta = 60^\circ$ ; д)  $a = 0,95$ ,  $c = 0,72$ ,  $\alpha = 64^\circ 17' 28''$ .

2) Наћи површину троугла код кога је: а)  $b = 21,66 \text{ m}$ ,  $c = 36,94 \text{ m}$ ,  $\alpha = 66^\circ 4' 19''$ ; б)  $a = 105,31 \text{ m}$ ,  $b = 97,56 \text{ m}$ ,  $c = 80,03 \text{ m}$ ; в)  $c = 25,64 \text{ m}$ ,  $\alpha = 43^\circ 28'$ ,  $\beta = 76^\circ 48'$ .

3) Решити троугао код кога је: а)  $a = 45 \text{ m}$ ,  $b = 30 \text{ m}$ , и  $P = 200 \text{ m}^2$ ; б)  $P = 564,13 \text{ m}^2$ ,  $\alpha = 65^\circ 18' 12''$ ,  $\beta = 58^\circ 22' 18''$ .

4) Наћи површину троугла када је:  $h(c) = 135,6 \text{ m}$ ,  $\alpha = 65^\circ 13'$  и  $\beta = 45^\circ 4'$ .

5) Наћи  $\beta$  и  $\gamma$  када је  $h(b) = 16 \text{ m}$ ,  $b = 18 \text{ m}$  и  $\alpha = 64^\circ 12'$ .

6) Решити троугао када се зна: а)  $R = 32,5 \text{ m}$ ,  $\alpha = 22^\circ 37' 12''$ ,  $\beta = 53^\circ 7' 50''$ ; б)  $R = 5$ ,  $a = 6,82$ ,  $b = 9,71$ ; в)  $R = 5,17$ ,  $b = 8,9544$  и  $\alpha = 54^\circ$ .

7) Решити троугао кад се зна: а)  $a = 1,732$ ,  $b = 1,4142$  и  $\alpha - \beta = 15^\circ$ ; б)  $a - b = 1,85464$ ,  $\alpha - \beta = 23^\circ 28' 34''$ ; в)  $\gamma = 113^\circ 28' 34''$ ; г)  $a + b = 96,17$ ,  $\alpha - \beta = 20^\circ$ ,  $\gamma = 80^\circ$ ; д)  $a - b = 2,89$ ,  $c = 8,7322$ ,  $\gamma = 60^\circ 50'$ ; е)  $a + b = 0,64444$ ,  $\alpha - \beta = 95^\circ 10'$ ,  $c = 0,22$ ; ж)  $b + c = 93,257$ ,  $\alpha = 5^\circ 18' 20''$ ,  $\beta = 144^\circ 41' 40''$ ;

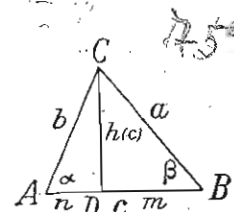
з)  $a + b = 1589$ ,  $a - b = 1291$  и  $\gamma = 20^\circ 57''$ .

8) Решити троугао кад се зна: а)  $R = 5$ ,  $\alpha = 30^\circ$ ,  $\beta = 70^\circ$ ; б)  $R = 51,79$ ,  $\alpha = 117^\circ 20' 34''$ ,  $\beta = 46^\circ 23' 50''$ .

9) Решити троугао кад се зна  $a + b = 995,4$ ,  $h(a) = 509,5$  и  $\beta = 60^\circ$ .

10) Решити троугао  $ABC$  (сл. 34) кад се зна: а)  $a$ ,  $b$  и  $h(c)$ ; б)  $b$ ,  $h(c)$  и  $m$ ; в)  $m$ ,  $n$  и  $h(c)$ ; г)  $h(c)$ ,  $\alpha$  и  $\beta$ ; е)  $m$ ,  $n$  и  $\gamma$ ; ф)  $P$ ,  $a$ ,  $h(b)$ ; ж)  $h(a)$ ,  $h(b)$  и  $\alpha$ .

11) Решити троугао кад је позната површина  $P$ , обим  $2s$  и угао  $\alpha$ .



Сл. 34

12) Решити троугао кад се зна  $a$  и  $b$ , а угао  $\alpha$  два пута је већи од угла  $\beta$  (Saint-Cyr).

13) Решити троугао кад се зна обим  $2s$ , угао  $\alpha$  и полупречник  $R$  описаног круга (Васс. Lyon).

14) Решити троугао кад се зна страна  $a$ , полупречник уписаног круга  $r$  и збир  $s$  (разлика  $d$ ) других двеју страна (Saint-Cyr).

15) Решити троугао кад се зна страна  $a$ , супротни јој угао  $\alpha$  и висина  $h_{(a)}$  (Sorbonne).

**Решење.** Како је  $h_{(a)} = b \sin \gamma$ , то је  $b = \frac{h_{(a)}}{\sin \gamma}$ . Заменом у пропорцији  $b : a = \sin \beta : \sin \alpha$  добијамо  $h_{(a)} : a = \sin \beta \sin \gamma : \sin \alpha$ . Одавде је:  $\sin \beta \sin \gamma = \frac{h_{(a)}}{a} \sin \alpha$ , или  $2 \sin \beta \sin \gamma = \frac{2h_{(a)}}{a} \sin \alpha \dots (1)$ . Па како је:

$$\cos(\beta - \gamma) - \cos(\beta + \gamma) = 2 \sin \beta \sin \gamma, \text{ то заменом у (1) добијамо:}$$

$$\cos(\beta - \gamma) - \cos(\beta + \gamma) = \frac{2h_{(a)}}{a} \sin \alpha, \text{ или } \cos(\beta - \gamma) = \frac{2h_{(a)}}{a} \sin \alpha - \cos \alpha \dots (2)$$

Ако ставимо да је  $\frac{2h_{(a)}}{a} = \cotg \varphi$ , из које једначине можемо наћи помоћу логаритама угао  $\varphi$ , онда заменом у (2) добијамо:

$$\frac{\cos(\beta - \gamma) - \cos \alpha}{\sin \varphi} = \cotg \varphi \frac{\sin \alpha - \cos \alpha}{\sin \varphi} = \frac{\sin(\alpha - \varphi)}{\sin \varphi}$$

Из ове једначине налазимо угао  $(\beta - \gamma)$ , а из једначина  $\beta - \gamma = \omega$  и  $\beta + \gamma = 180^\circ - \alpha$  и углове  $\beta$  и  $\gamma$ . Остале елементе налазимо као у првом случају за примену синусне теореме.

16) Решити троугао кад се зна  $\alpha$ ,  $a + b - c = s$ , а угао  $\gamma$  је два пута већи од угла  $\beta$  (Sorbonne).

17) Наћи тангенсе сва три угла једнога троугла чије су стране  $3m$ ,  $4m$  и  $5m$  (Sorbonne).

18) У једноме троуглу дат је угао  $\alpha = 60^\circ$  и размера  $b : c = 2 + \sqrt{3}$ ; наћи  $\tg \frac{\beta - \gamma}{2}$ , а затим углове  $\beta$  и  $\gamma$  (Sorbonne).

19) У једноме троуглу је  $b = \sqrt{2}$ ,  $c = \sqrt{3}$  и  $\gamma = 60^\circ$ ; наћи без употребе таблица:  $a$ ,  $\sin \alpha$ ,  $\cos \alpha$ ,  $\sin \beta$  и  $\cos \beta$  (Sorbonne).

20) Одредити углове троугла када су му стране сразмерне бројевима  $2, \sqrt{6}$  и  $1 + \sqrt{3}$ .

21) Решити троугао кад се зна  $R$ ,  $\alpha$  и  $h_{(a)}$ .

22) Решити троугао кад се зна: а)  $a + b = s$ ,  $h_{(c)}$  и  $\alpha$ ; б)  $a - b = d$ ,  $h_{(c)}$  и  $\alpha$ ; в)  $a + b - c = s$ ,  $\alpha$  и  $\beta$ ; д)  $a + b = s$ ,  $R$  и  $\gamma$ ; е)  $a - b = d$ ,  $R$  и  $\gamma$ ; ф)  $a - b = d$ ,  $R$  и  $\alpha - \beta = \omega$ ; м)  $h_{(a)} - h_{(b)} = p$ ,  $\alpha$  и  $\beta$ .

23) Решити правоугли троугао кад се зна: а) оштри угао  $\beta$  и полупречник уписаног круга  $r$ ; б) хипотенуза  $a$  и  $r$ ; в) висина хипотенузина  $h$  и  $r$ ; д) површина  $P$  и  $r$ .

24) Решити равнокраки троугао кад се зна: а) крак  $b$  и полупречник описаног круга  $R$ ; б) основица  $c$  и полупречник уписаног круга  $r$ .

25) Решити равнокраки троугао кад се зна полупречник уписаног круга  $r$  и полупречник  $r'$  спољашно-уписаног круга, који додирује основицу и продужене краке (Васс. Dijon).

26) Израчунати стране и углове правоуглог троугла ABC, кад су познати полупречници  $r = 8m$  и  $\rho = 9m$  уписаних кругова у троуглима AMB и AMC, где је M средина хипотенузе (Београд, I м. 1902).

27) У једном троуглу, у коме су сва три угла оштра, износи збир двеју страна  $a + b = 13$ , а збир њихових квадрата  $a^2 + b^2 = 89$ . Површина му је  $19m^2$ . Колике су стране и углови тог троугла? (Београд, I м. 1900).

28) Решити троугао кад је дато:  $a^2 - b^2 = 19$ ,  $2R = 21,25$  и  $\gamma = 126^\circ 25' 12''$  (Београд, II м. 1929).

29) Три круга с полупречницима 1, 2 и 3m додирују се узајамно споља. Колика је површина између тих кругова (Београд, III м. 1906).

30) У једном троуглу су стране  $a$ ,  $a + 1$  и  $a + 2$ ; најмањи угао је половина највећег. Колике су стране и углови тога троугла? (Петровград, 1925).

31) У троуглу ABC дато је  $c = 15m$ ,  $b = 14m$  и  $\alpha = 53^\circ 7' 48''$ ; израчунати ону дуж MP  $\perp$  AB, а која дели  $\Delta$  ABC на два једнака дела (Београд, I м. 1910).

32) Познат је полупречник  $R = 5,275m$  описаног круга око једног троугла чија три угла чине геометриску прогресију с количником 2. Наћи стране, површину и полупречник уписаног круга (Крагујевац, 1903).

33) Решити троугао кад су познате средње линије  $t(a) = 15 dm$ ,  $t(b) = 12 dm$  и угао које оне захватају  $\omega = 118^\circ 21' 18''$  (Пожаревац, 1910 и 1931).

34) Два друма секу се под углом од  $135^\circ$ . У том углу лежи село које је од једног друма удаљено 5 km и од другога 3 km. Колико је удаљено то село од раскршћа? (Бјеловар, 1933).

35) У троуглу ABC је угао  $\gamma = 2\alpha$ ,  $b : c = 2 : \sqrt{3}$ ; израчунати углове (Београд, I м. 1927).

## § 28. Израчунавања код четвороуглова

1. Познате су две стране и захваћени угао једнога паралелограма; наћи његову површину.

Из правоуглог троугла AED

(сл. 35) имамо  $h = b \sin \varphi$ .

Заменом у  $P = ah$  добијамо:

$$P = ab \sin \varphi \dots (1)$$

Код квадрата је  $a = b$

и  $\varphi = 90^\circ$ , те је  $P = a^2$ ;

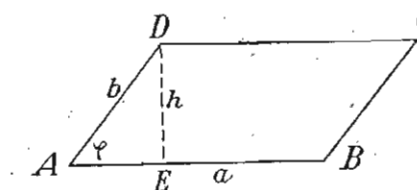
код ромба је  $a = b$ , те је

$P = a^2 \sin \varphi$ ; код правоуга-

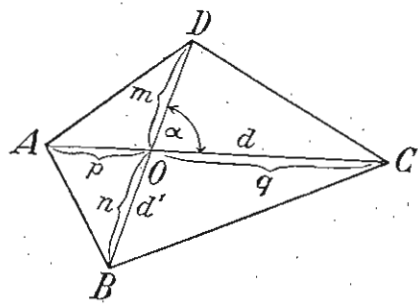
оника је  $\varphi = 90^\circ$ , те је  $P = ab$ .

2. Наћи површину ма каквога четвороугла када су му познате дијагонале и угао између њих.

Нека су дијагонале четвороугла ABCD (сл. 36)  $d$  и  $d'$ , а угао између њих је  $\alpha$ . Тада је његова површина:



Сл. 35



Сл. 36

$$P = \triangle AOB + \triangle BOC + \triangle COD + \triangle DOA = \frac{pn}{2} \sin \alpha + \frac{nq}{2} \sin(180^\circ - \alpha) + \frac{qm}{2} \sin \alpha + \frac{mp}{2} \sin(180^\circ - \alpha) = \frac{pn}{2} \sin \alpha + \frac{nq}{2} \sin \alpha + \frac{qm}{2} \sin \alpha + \frac{mp}{2} \sin \alpha = \frac{\sin \alpha}{2} (pn + nq + qm + mp) = \frac{(p+q)(m+n)}{2} \sin \alpha, \text{ или } P = \frac{dd'}{2} \sin \alpha \dots (2).$$

Код четвороуглова са нормалним дијагоналама је  $\alpha = 90^\circ$ , те је  $P = \frac{dd'}{2}$ , а код четвороуглова са једнаким дијагоналама је

$$P = \frac{d^2}{2} \sin \alpha.$$

3. Израчунавање угла тетивног четвороугла када су познате његове стране.

Из троугла ABD (сл. 37) по Карнотовој теореме имамо:

$$m^2 = a^2 + d^2 - 2ad \cos \alpha \dots (1),$$

$$\text{а из } \triangle BCD : m^2 = b^2 + c^2 - 2bc \cos \gamma \dots (2).$$

Из ових двеју једначина добијамо:

$$a^2 + d^2 - 2ad \cos \alpha = b^2 + c^2 - 2bc \cos \gamma \dots (3).$$

Па како је  $\gamma = 180^\circ - \alpha$ , то је

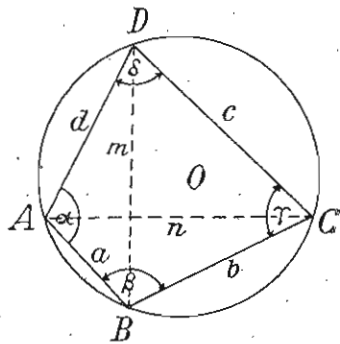
$$\cos \gamma = \cos(180^\circ - \alpha) = -\cos \alpha.$$

Заменом у једначини (3) и решавањем по  $\cos \alpha$  добијамо:

$$\cos \alpha = \frac{a^2 + d^2 - b^2 - c^2}{2(ad + bc)} \dots (4).$$

$$\text{Тада је: } \sin \frac{\alpha}{2} = \sqrt{\frac{1 - \cos \alpha}{2}} = \sqrt{\frac{1 - \frac{a^2 + d^2 - b^2 - c^2}{2(ad + bc)}}{2}} = \sqrt{\frac{(b+c-a+d)(b+c+a-d)}{4(ad+bc)}}$$

$$\cos \frac{\alpha}{2} = \sqrt{\frac{1 + \cos \alpha}{2}} = \sqrt{\frac{(a+b+d-c)(a+c+d-b)}{4(ad+bc)}} \dots (5)$$



Сл. 37

Узимајући да је  $a + b + c + d = 2s$  и одузимањем од ове једначине и с једне и с друге стране редом:  $2a, 2b, 2c$  и  $2d$  добијамо:  $b + c + d - a = 2(s - a)$ ,  $a + c + d - b = 2(s - b)$ ,  $a + b + d - c = 2(s - c)$  и  $a + b + c - d = 2(s - d)$ .

Заменом у (5) добијамо:

$$\sin \frac{\alpha}{2} = \sqrt{\frac{(s-a)(s-d)}{ad+bc}},$$

$$\cos \frac{\alpha}{2} = \sqrt{\frac{(s-b)(s-c)}{ad+bc}} \text{ и } \operatorname{tg} \frac{\alpha}{2} = \frac{\sin \frac{\alpha}{2}}{\cos \frac{\alpha}{2}} = \sqrt{\frac{(s-a)(s-d)}{(s-b)(s-c)}}$$

Истим путем нашли бисмо:

$$\sin \frac{\beta}{2} = \sqrt{\frac{(s-a)(s-b)}{ab+cd}},$$

$$\cos \frac{\beta}{2} = \sqrt{\frac{(s-c)(s-d)}{ab+cd}} \text{ и } \operatorname{tg} \frac{\beta}{2} = \sqrt{\frac{(s-a)(s-b)}{(s-c)(s-d)}}$$

$$\sin \frac{\gamma}{2} = \sqrt{\frac{(s-b)(s-c)}{bc+ad}},$$

$$\cos \frac{\gamma}{2} = \sqrt{\frac{(s-a)(s-d)}{bc+ad}} \text{ и } \operatorname{tg} \frac{\gamma}{2} = \sqrt{\frac{(s-b)(s-c)}{(s-a)(s-d)}}$$

$$\sin \frac{\delta}{2} = \sqrt{\frac{(s-c)(s-d)}{cd+ab}},$$

$$\cos \frac{\delta}{2} = \sqrt{\frac{(s-a)(s-b)}{cd+ab}} \text{ и } \operatorname{tg} \frac{\delta}{2} = \sqrt{\frac{(s-c)(s-d)}{(s-a)(s-b)}}$$

Од наведених образаца најчешће се примењују обрасци за тангенсе полууглова, који су и најподеснији за памћење.

4. Површина тетивног четвороугла

Из сл. 37 имамо:  $P = \triangle ABD + \triangle ACD = \frac{ad}{2} \sin \alpha + \frac{bc}{2} \sin \gamma = \frac{ad}{2} \sin \alpha + \frac{bc}{2} \sin(180^\circ - \alpha) = \frac{ad}{2} \sin \alpha + \frac{bc}{2} \sin \alpha = \frac{ad+bc}{2} \sin \alpha = \frac{ad+bc}{2} \cdot 2 \sin \frac{\alpha}{2} \cos \frac{\alpha}{2} = (ad+bc) \cdot \sqrt{\frac{(s-a)(s-d)}{ad+bc}}$

$$= \sqrt{\frac{(s-b)(s-c)}{ad+bc}}, \text{ или } P = \sqrt{(s-a)(s-b)(s-c)(s-d)}.$$

Овај се образац зове Брамагуптов.

5. Израчунавање дијагонала тетивног четвороугла и полупречника круга помоћу страна.

а) Из сл. 37 имамо:  $m^2 = a^2 + d^2 - 2ad \cos \alpha$  (1) и  $m^2 = b^2 + c^2 - 2bc \cos \gamma = b^2 + c^2 - 2bc \cos(180^\circ - \alpha) = b^2 + c^2 + 2bc \cos \alpha$ .

Одавде је  $\cos \alpha = \frac{m^2 - b^2 - c^2}{2bc}$ . Заменом у (1) добијамо:

$$m^2 = \frac{(ab+cd)(ac+bd)}{bc+ad}, \text{ а } m = \sqrt{\frac{(ab+cd)(ac+bd)}{bc+ad}} \dots (2)$$

Истим путем нашли бисмо:  $n = \sqrt{\frac{(ad+bc)(ac+bd)}{ab+cd}} \dots (3)$

Множењем и дељењем једначина (2) и (3) добијамо оба Птолемејева правила:

$$mn = ac + bd \text{ и } \frac{m}{n} = \frac{ab+cd}{bc+ad}, \text{ тј.}$$

Производ дијагонала штељивног четвороугла једнак је збиру производа супротних страна; и дијагонале штељивног четвороугла у истој су размери као зборови производа оних страна четвороугла које се сичу у кријњим тачкама допичне дијагонале.

б) Ако  $m = \sqrt{\frac{(ab+cd)(ac+bd)}{bc+ad}}$  заменимо у једначини

$m = 2R \sin \alpha$  и добивену једначину решимо по  $R$ , добијамо:

$$R = \frac{1}{2 \sin \alpha} \sqrt{\frac{(ab+cd)(ac+bd)}{bc+ad}} = \frac{\sqrt{(ab+cd)(ac+bd)}}{4 \sin \frac{\alpha}{2} \cos \frac{\alpha}{2}}$$

$$= \frac{\sqrt{(ab+cd)(ac+bd)}}{4 \sqrt{\frac{(s-a)(s-d)}{bc+ad}} \sqrt{\frac{(s-b)(s-c)}{bc+ad}}} = \frac{\sqrt{(ab+cd)(ac+bd)(ad+bc)}}{4 \sqrt{(s-a)(s-b)(s-c)(c-d)}}$$

$$\text{или } R = \frac{\sqrt{(ab+cd)(ac+bd)(ad+bc)}}{4P}$$

#### 6. Задачи за вежбу

1) Код ромбоида зна се основица  $a = 1,36 \text{ m}$ , налегли угао  $\alpha = 105^\circ$  и дијагонала наспрам овог угла  $m = 3,72 \text{ m}$ ; наћи другу страну  $b$  и другу дијагоналу  $n$ .

2) Наћи површину онога ромбоида чије су дијагонале  $m = 761$  и  $n = 837$ , а њихов захваћени угао  $\varphi = 17^\circ 38'$ .

3) Стране једнога ромбоида јесу  $a = 25 \text{ m}$  и  $b = 17 \text{ m}$ , а угао између њих  $\alpha = 25^\circ 3' 17''$ ; наћи његову површину и дијагоналу наспрам да-тог угла.

4) Површина једнога правоугаоника је  $P = 52 \text{ m}^2$  а страна  $a = 8 \text{ m}$ ; наћи углове које гради дијагонала са странама.

5) Страна ромба је  $a = 37 \text{ m}$  а један угао  $\alpha = 28^\circ 5' 15''$ ; наћи његову површину.

6) Наћи страну ромба чија је површина  $P = 800 \text{ m}^2$  а један угао  $30^\circ$ .

7) Наћи углове ромба чији је обим  $O = 260 \text{ m}$  а висина  $h = 56,86 \text{ m}$ .

8) Дијагонала ромбоида  $m = 15,67 \text{ m}$  захвата са странама ромбоида углове  $\varphi = 47^\circ 15'$  и  $\varphi' = 26^\circ 7'$ ; наћи његове стране и површину.

9) Дијагонале једнога ромбоида јесу  $m = 21,842 \text{ m}$  и  $n = 12,213 \text{ m}$ , а угао између њих  $\varphi = 66^\circ 55'$ ; наћи стране и углове.

10) Паралелне стране једнога трапеза јесу  $a = 324,35 \text{ m}$  и  $b = 208,15 \text{ m}$ , а углови на страни  $a$  јесу  $\alpha = 90^\circ$  и  $\beta = 32^\circ 25'$ ; наћи његову површину.

11) Мања паралелна страна једнога трапеза је  $b = 237 \text{ m}$  а углови на њој јесу  $117^\circ 36'$  и  $135^\circ 19'$ ; наћи његову површину када му је висина  $h = 87 \text{ m}$ .

12) Непаралелне стране једнога трапеза јесу  $3,51 \text{ m}$  и  $7,04 \text{ m}$ , а када се продуже секу се под правим углом; наћи углове трапеза.

13) Паралелне стране једнога трапеза јесу  $a = 16 \text{ m}$  и  $b = 10 \text{ m}$ , а непаралелне  $c = 4$  и  $d = 5 \text{ m}$ ; наћи његове углове.

14) Дијагонале једнога трапеза јесу  $m = 76,93 \text{ m}$ , и  $n = 63,305 \text{ m}$ , а захваћени угао  $\varphi = 126^\circ 17' 48''$ ; наћи његову површину.

15) Израчунати углове једнога ромба када су му дијагонале  $m = 25,37 \text{ m}$  и  $n = 28,15 \text{ m}$ .

16) Дате су две супротне стране  $a$  и  $c$ , један угао  $\alpha$  и полупречник  $r$  описаног круга око једног четвороугла; наћи оне друге две стране.

17) Дате су обе дијагонале  $m$  и  $n$ , угао  $\varphi$  између њих и полупречник  $r$  описаног круга око једног четвороугла; наћи његове углове и стране.

18) Дате су две узастопне стране  $a$  и  $b$ , угао  $\beta$  између њих и полупречник  $r$  уписаног круга једног тангентног четвороугла; наћи његове друге две стране и углове.

19) Нека су  $p$  и  $q$  две силе које дејствују на једну тачку под углом  $\varphi$ , а  $\alpha$  и  $\beta$  нека су углови између њих и резултанте  $r$ . Када су дате три од тих шест количина, и то: 1)  $p, q, \varphi$ ; 2)  $p, q, \alpha$ ; 3)  $p, r, \alpha$ ; 4)  $p, r, \beta$ ; 5)  $p, r, \varphi$ ; 6)  $p, \alpha, \beta$ ; 7)  $r, \alpha, \beta$ ; и 8)  $p, q, r$ ; одредити остале три (Паралелограм сила).

20) Код једнога тетивног четвороугла две су суседне стране по  $3 \text{ m}$  а друге две по  $4 \text{ m}$ ; наћи површину, полупречник круга и дијагоналу.

21) Решити паралелограм када се зна дијагонала  $m$ , површина  $P$  и обим  $O$ .

22) Стране једнога трапезоида јесу  $a, b, c$  и  $d$ , а збир два супротна угла је  $2\omega$ ; наћи његову површину.

Решење. Из  $BD^2 = a^2 + d^2 - 2ad \cos \alpha$  и  $BD^2 = b^2 + c^2 - 2bc \cos \gamma$  добијамо:  $a^2 + d^2 - 2ad \cos \alpha = b^2 + c^2 - 2bc \cos \gamma \dots (1)$

Површина  $P = \frac{ad}{2} \sin \alpha + \frac{bc}{2} \sin \gamma$ , или

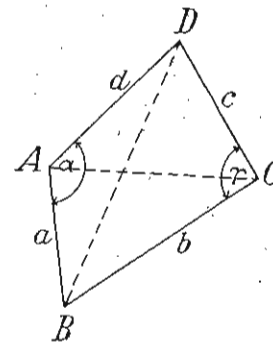
$$4P = 2ad \sin \alpha + 2bc \sin \gamma \dots (2)$$

Подизањем најпре на квадрат једначина (1) и (2), а затим сабирањем добијамо:

$$16P^2 + (a^2 + d^2 - b^2 - c^2)^2 = 4a^2d^2 + 4b^2c^2 - 8abcd \cos(\alpha + \gamma) \dots (3)$$

Па како је  $\cos(\alpha + \gamma) = \cos 2\omega = \cos^2 \omega - \sin^2 \omega = \cos^2 \omega - (1 - \cos^2 \omega) = 2\cos^2 \omega - 1$ , то заменом у (3) добијамо:

$$16P^2 = (a + d + b - c)(a + d - b + c)(b + c + a - d)(b + c - a + d) - 16abcd \cos^2 \omega,$$



Сл. 38

или  $16P^2 = 16(s-a)(s-b)(s-c)(s-d) - 16abcd \cos^2 \omega$ , где је  $a + b + c + d = 2s$ . Одавде је:

$$P = \sqrt{(s-a)(s-b)(s-c)(s-d) - abcd \cos^2 \omega} \dots (4)$$

За  $\alpha + \gamma = 2\omega = 180^\circ$ , четвороугао постаје тетиван, те се образац

(4) претвара у Брамагуптов  $P = \sqrt{(s-a)(s-b)(s-c)(s-d)}$ .

23) Ромб има страну  $a = 2 \text{ cm}$  а један угао  $\alpha = 38^\circ 5' 2''$ . Колика је висина оног равностраног троугла који је уписан у кругу исте површине са задатим ромбом? (Ниш, м. 1934)

24) Наћи површину трапеза, ако је позната његова средња линија  $m = 4,887$  и углови на већој паралелној страни  $\alpha = 72^\circ 1' 12''$ ,  $\beta = 45^\circ 0' 24''$ . Овај траpez је уједно тангентан четвороугао (Чачак, 1933).

25) Од једне праве улице полазе два права пута: први полази под углом од  $30^\circ$  лево, а други после  $1\frac{1}{4} \text{ km}$  под углом од  $60^\circ$  десно. На првом путу после  $4 \text{ km}$  налази се место А, а на другом путу после  $2\frac{1}{2} \text{ km}$  налази се место В. Колика је раздаљина од А до В? (Чачак, 1931).

26) Наћи страну и површину ромба, кад му је један угао  $63^\circ 15'$ , а збир његових дијагонала  $26,4 \text{ m}$  (Београд, III м. 1923).

27) Траpez чија је висина  $6 \text{ dm}$  а паралелне стране  $a = 10 \text{ dm}$  и  $b = 4 \text{ dm}$  преполовљен је правом која је паралелна са паралелним странама. Колика је та права и колике су непаралелне стране, кад је један угао на већој паралелној страни  $\alpha = 68^\circ 25' 40''$ ? (Београд, II м. 1921).

28) У једном четвороуглу стране се имају као  $2:3:5:4$ , а збир њихових квадрата износи 486. Прве две стране чине угао од  $105^\circ$ . Колике су стране, површина и углови четвороугла? (Београд, II ж. 1925).

29) Периферија круга полупречника  $r = 1$  подељена је на четири дела у размери  $1:2:3:4$ . Наћи површину тетивног четвороугла, чија су гегмена ове деоне тачке (Зајечар, 1901).

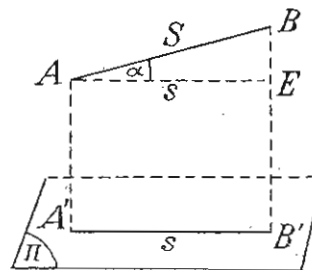
30) Два угла с полупречницима  $R = 12 \text{ cm}$  и  $r = 4 \text{ cm}$  додирују се споља. Одредити површину омеђену тим круговима и једном њиховом заједничком спољашњом тангентом (Н. Градишка 1934).

## § 29. Примена тригонометрије на решавање задатака из стереометрије

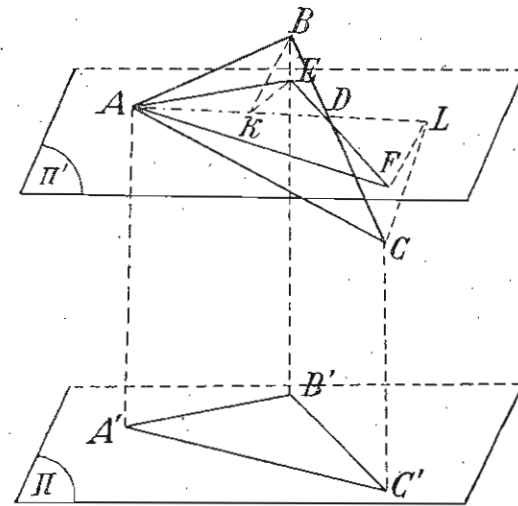
1) Дата је дуж  $S$  у простору и њен нагибни угао  $\alpha$  према равни  $\Pi$  (сл. 39); наћи њену пројекцију  $s$  на тој равни. Нека је  $AB = S$  дата дуж. Спустићемо  $AA' \perp \Pi$  и  $BB' \perp \Pi$  добијемо пројекцију  $A'B' = s$  дужи  $S$  на равни  $\Pi$ . Повлачењем  $AE \parallel A'B'$  добијемо правоугли троугао  $ABE$  из кога налазимо да је:  $s = S \cos \alpha$ .

2) Дат је троугао  $P$  и његов нагибни угао  $\alpha$  према равни  $\Pi$ ; наћи његову пројекцију  $p$  на тој равни.

Нека је  $ABC$  дати троугао  $P$  (сл. 40). Ако спустимо нормале из његових темена на раван  $\Pi$  и на раван  $\Pi'$ , која је паралелна са  $\Pi$  и пролази кроз теме  $A$ , онда добијемо троуглове  $A'B'C'$  и  $A'FE$  као пројекције троугла  $ABC$  на равнима



Сл. 39



Сл. 40

$\Pi$  и  $\Pi'$ . Права  $AD$ , која је пресек равнине троугла  $ABC$  и равнине  $\Pi'$ , дели троугао  $ABC$  на троуглове:  $ADB$  и  $ADC$ , а његову пројекцију  $A'EF$  на троуглове  $A'DE$  и  $A'DF$ . Кад из  $B$  спустимо  $BK \perp AD$  и тачку  $K$  спојимо са  $E$ , онда је угао  $BKE$  дати нагибни угао  $\alpha$ . Стога је  $KE = BK \cos \alpha$ . Тада је површина троугла  $ADB = \frac{AD \cdot BK}{2}$ , и површина троугла  $ADE = \frac{AD \cdot KE}{2}$ . Заменом у овој једначини  $KE = BK \cos \alpha$ , добијемо:  $ADE = \frac{AB \cdot BK}{2} \cos \alpha$ , или  $\Delta ADE = \Delta ADB \cdot \cos \alpha$ . (1). Истим путем налазимо да је  $\Delta ADF = \Delta ADC \cos \alpha$  (2).

Сабирањем једначина (1) и (2) налазимо:  $\Delta ADE + \Delta ADF = (\Delta ADB + \Delta ADC) \cos \alpha$ , или  $\Delta AEF = \Delta ABC \cos \alpha$ , или  $p = P \cos \alpha$ .

3) Дат је многоугао  $P$  и његов нагибни угао  $\alpha$  према равни  $\Pi$ ; одредити његову пројекцију  $p$  на тој равни.

Спустићајући нормале из темена датог многоугла на раван  $\Pi$  и спавајући трагове, налазимо пројекцију  $p$  на равни  $\Pi$ . Ако повучемо из два одговарајућа темена датог многоугла и његове пројекције дијагонале, онда се и дати многоугао и његова пројекција деле на троуглове. Означавајући са  $P_1, P_2, P_3, \dots$  површине троуглова датог многоугла, са  $p_1, p_2, p_3, \dots$  површине одговарајућих троуглова пројекције, имамо према претходном задатку:  $p_1 = P_1 \cos \alpha$ ,  $p_2 = P_2 \cos \alpha$ ,  $p_3 = P_3 \cos \alpha, \dots$

Сабирањем ових једначина налазимо:

$$p_1 + p_2 + p_3 + \dots = (P_1 + P_2 + P_3 + \dots) \cos \alpha, \text{ или } p = P \cos \alpha.$$

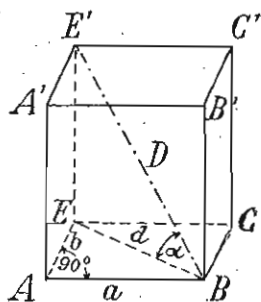
4) Наћи запремину паралелоипеда кад се зна дужина  $a$ , његова дијагонала  $D$  и њен нагибни угао према базису  $\alpha$  (сл. 41).

Из троугла  $EE'B$  имамо:

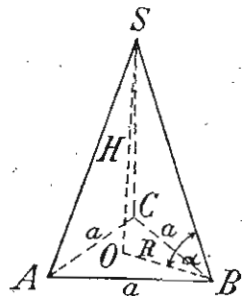
$$d = D \cos \alpha \text{ и } c = D \sin \alpha.$$

Из  $\triangle ABE$  имамо  $b = \sqrt{d^2 - a^2}$ . Тада је запремина:

$$V = abc = Da \sin \alpha \sqrt{d^2 - a^2}.$$



Сл. 41



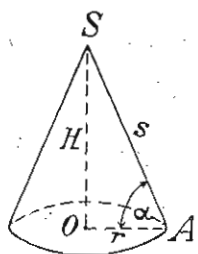
Сл. 42

5) Наћи запремину правилне и праве троугране пирамиде, кад се зна основна ивица  $a$  и нагибни угао бочне ивице према базису  $\alpha$  (сл. 42).

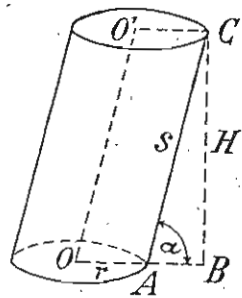
Полупречник описаног круга око базиса, као  $\frac{2}{3}$  од базисне висине  $h = \frac{a}{2}\sqrt{3}$ , је  $R = \frac{a}{3}\sqrt{3}$ . Тада је из правоуглог троугла  $SOB$  висина пирамидина  $H = R \operatorname{tg} \alpha = \frac{a}{3}\sqrt{3} \operatorname{tg} \alpha$ .

$$\text{Стога је } V = \frac{BH}{3} = \frac{\frac{a^2\sqrt{3}}{4} \cdot \frac{a}{3}\sqrt{3} \operatorname{tg} \alpha}{3} = \frac{a^3}{12} \operatorname{tg} \alpha.$$

6) Наћи површину и запремину праве куће стране  $s$  која је нагнута према базису под углом  $\alpha$  (сл. 43).



Сл. 43



Сл. 44

Тада је полупречник базиса  $r = s \cdot \cos \alpha$  а, висина купина  $H = s \cdot \sin \alpha$ . Стога је површина:  $P = B + M = r^2 \pi + r s \pi = \pi r (r + s) = s^2 \pi \cos \alpha (\cos \alpha + 1)$ , или

$$P = 2s^2 \pi \cos \alpha \cdot \cos^2 \frac{\alpha}{2},$$

$$\text{а запремина } V = \frac{BH}{3} = \frac{r^2 \pi \cdot s \cdot \sin \alpha}{3} = \frac{s^3 \pi}{3} \cos^2 \alpha \sin \alpha.$$

7) Наћи запремину косе облице кад се зна полупречник базиса,  $r$ , страна  $s$  и њен нагибни угао према базису  $\alpha$  (сл. 44).

Из правоуглог троугла  $ABC$  имамо:

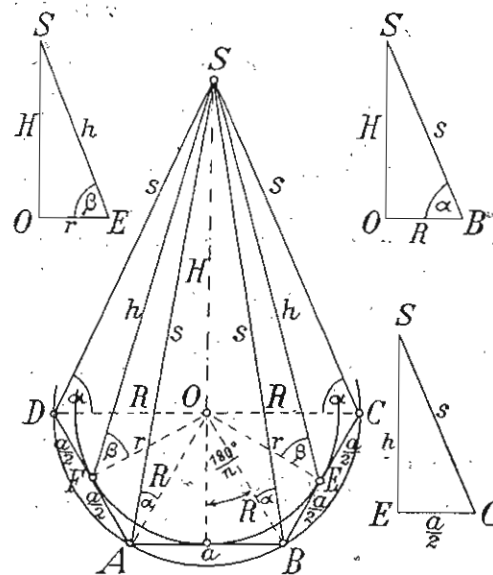
$$H = s \cdot \sin \alpha.$$

Стога је запремина

$$V = BH = r^2 \pi \cdot s \sin \alpha = r^2 s \pi \sin \alpha.$$

8) Однос између елемената правилних и правих пирамида.

При решавању задатака код правилних и правих  $n$ -то-страних пирамида, целих или зарубљених, треба имати увек у виду релације, које нам дају однос између елемената: бочне ивице  $s$ , основне ивице  $a$ , висине пирамиде  $H$ , бочне висине  $h$ , полупречника описаног око базиса  $R$  ( $R_1$  је полупречник описаног круга око горњег базиса зарубљене пирамиде), полупречника уписаног круга код базиса  $r$  ( $r_1$  за горњи базис зарубљене пирамиде), угла нагиба  $\alpha$  бочне ивице према базису и угла нагиба  $\beta$  бочне стране према базису.

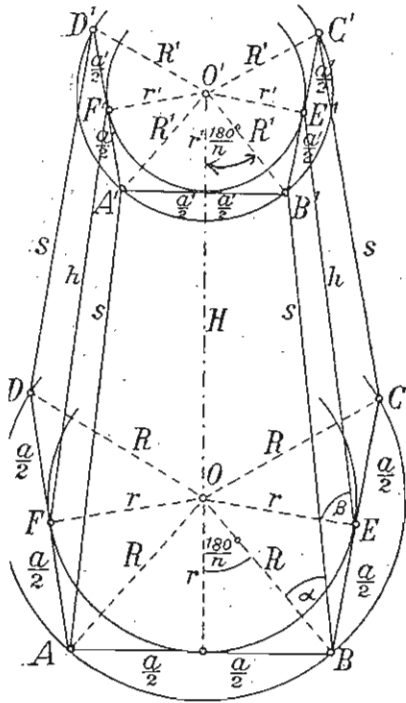


Сл. 45

Ове релације изводимо код целе пирамиде из правоуглих троуглова:  $SOA$  (или  $SOB, SOC, \dots$ ) и  $SOE$  (или  $SOF, \dots$ ), који су у пирамиди и из троугла  $BES$ , који је на бочној страни (сл. 45), а код зарубљене пирамиде из правоуглих трапеца:  $O'OBV'$  (или  $O'OAA', O'OCC', \dots$ ),  $OO'E'E'$  (или



$O'OFF^1, \dots$ ), који су у пирамиди и из правоуглог трапеза  $BEE^1B^1$ , који је на боку (сл. 46)\*.

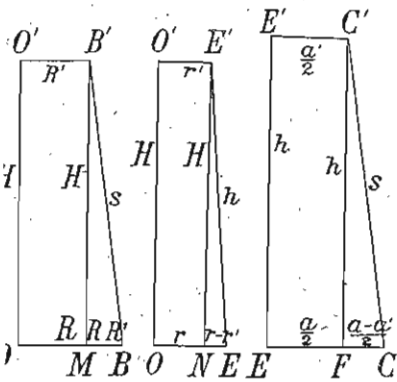


Код целих пирамида те су релације:

- a) Из  $\triangle SOB$ :
- 1)  $s^2 = H^2 + R^2$ ;
  - 2)  $H = s \cdot \sin \alpha = R \cdot \operatorname{tg} \alpha$ ;
  - 3)  $R = s \cdot \cos \alpha = H \cdot \operatorname{cotg} \alpha$ ; и
  - 4)  $s = \frac{H}{\sin \alpha} = \frac{R}{\cos \alpha}$ .
- b) Из  $\triangle SOE$ :
- 1)  $h^2 = H^2 + r^2$ ;
  - 2)  $H = h \cdot \sin \beta = r \cdot \operatorname{tg} \beta$ ;
  - 3)  $r = h \cdot \cos \beta = H \operatorname{cotg} \beta$ ; и
  - 4)  $h = \frac{H}{\sin \beta} = \frac{r}{\cos \beta}$ .
- c) Из  $\triangle SEC$ :  $s^2 = h^2 + \left(\frac{a}{2}\right)^2$ .

Код зарубљених пирамида те су релације:

- a) Из трапеза  $O^1OBB^1$  (или  $\triangle B^1MB$ ):
- 1)  $s^2 = H^2 + (R - R_1)^2$ ;
  - 2)  $H = s \cdot \sin \alpha = (R - R_1) \operatorname{tg} \alpha$ ;
  - 3)  $R - R_1 = s \cos \alpha = H \cdot \operatorname{cotg} \alpha$ ;
  - и 4)  $s = \frac{H}{\sin \alpha} = \frac{R - R_1}{\cos \alpha}$ .
- b) Из трапеза  $O^1OEE^1$ , (или  $\triangle E^1NE$ ):
- 1)  $h^2 = H^2 + (r - r_1)^2$ ;
  - 2)  $H = h \sin \beta = (r - r_1) \operatorname{tg} \beta$ ;
  - 3)  $r - r_1 = h \cos \beta = H \cdot \operatorname{cotg} \beta$ ;
  - и 4)  $h = \frac{H}{\sin \beta} = \frac{r - r_1}{\cos \beta}$ .
- c) Из трапеза  $E^1ECC^1$  (или  $\triangle C^1PC$ )  $s^2 = h^2 + \left(\frac{a - a_1}{2}\right)^2$ .



Сл. 46

Поред ових релација треба имати у виду релације између елемената:  $a, R$  и  $r$  ( $a_1, R_1, r_1$ ) код правилних многоуглова, а изведених код решавања правилних многоуглова (§ 24).

\* Ови троуглови, односно трапези, издвојени су поред поменутих

Задаци за вежбу из стереометрије

- 1) Израчунај нагибни угао коцкине дијагонале према страни.
- 2) Наћи угао између двеју страна код а) правилног тетраедра, б) октоедра.
- 3) Висина базиса једног косог паралелоипеда, чији је базис ромб, је  $h = 6$  см. Кад је један угао базиса  $\alpha = 39^\circ 4' 20''$ , а бочна ивица  $s = 25$  см је нагнута према базису под углом  $\beta = 66^\circ 2' 28''$ , израчунај запремину тога паралелоипеда.
- 4) Наћи запремину правилне и праве 12-тостране призме чија је висина  $H = 10$  м, а основна ивица  $a = 6,4$  м.
- 5) Базис једне косе тростране призме је равнокрак троугао чији је угао на основици  $\alpha = 72^\circ 4' 10''$ , а висина базиса  $h = 2,2$  м. Наћи запремину те призме ако јој је бочна ивица  $s = 4$  м нагнута према базису под углом  $\beta = 60^\circ 32' 15''$ .
- 6) Бочна површина једне правилне и праве тростране пирамиде је  $M = 63$  м<sup>2</sup>, а свака је бочна страна нагнута према базису под углом  $\alpha = 29^\circ 3' 51''$ . Наћи запремину те пирамиде.
- 7) Основна ивица једне правилне и праве 15-тостране пирамиде је  $a = 1$  м, а бочна јој је ивица нагнута према базису под углом  $\alpha = 42^\circ 10'$ . Наћи њену површину и запремину.
- 8) Основне ивице једне правилне и праве 5-тостране зарубљене пирамиде јесу  $a = 5$  м и  $a' = 3$  м, а бочна јој је површина  $M = 160$  м<sup>2</sup>. Наћи угао  $\alpha$  под којим је нагнута бочна страна према доњем базису.
- 9) Наћи полупречник лопте уписане у правилној и правој пирамиди са квадратном основом, када је основна ивица  $a = 15$  м, а обочна је ивица нагнута према базису под углом  $\alpha = 22^\circ 1' 10''$ .
- 10) У једној правој купи уписана је пирамида са квадратном основом чија је запремина  $v = 10$  м<sup>3</sup>. Наћи површину купе, ако јој је изводиља нагнута према базису под углом  $\alpha = 62^\circ 5' 30''$ .
- 11) Наћи површину праве купе чији је полупречник базиса  $r = 23,7$  м, а угао на врху њеног осног пресека је  $\alpha = 20^\circ 13' 8''$ .
- 12) Наћи површину правог конуса чија је бочна површина  $M = 7,2$  м<sup>2</sup>, а угао између изводиље и висине конуса  $\alpha = 56^\circ 11' 9''$ .
- 13) Разлика између висине и полупречника базиса једне праве купе је  $d = 4,35$  см, а угао између изводиље и висине  $\alpha = 16^\circ 12' 10''$ . Наћи запремину те купе.
- 14) Наћи запремину једне праве купе када је полупречник у њој уписане лопте  $R = 4,3$  м, а угао на врху њеног пресека  $2\alpha = 50^\circ 7'$ .
- 15) Доњи базис зарубљене купе два пута је већи од горњег, а бочна јој је површина три пута већа од горњег базиса. Наћи угао између изводиље и доњег базиса.
- 16) Два угла базиса тростране праве призме јесу  $\alpha$  и  $\beta$ , и запремина је  $v$ . Наћи запремину описане облице.
- 17) Базис једне призме је троугао чији су углови  $\alpha, \beta$  и  $\gamma$ , а  $R$  је полупречник круга описаног око тог троугла. Бочне ивице јесу дужине  $s$ , а нагнуте су према базису под углом  $\varphi$ . Наћи запремину те призме.
- 18) У праве тростране пирамиде основне су ивице 10, 17 и 21 м а запремина 242 м<sup>3</sup>. Израчунај бочну ивицу и њен нагибни угао према базису.

19) Запремина праве купе је  $V$ , а стране су јој нагнуте према базису под углом  $\alpha$ ; колики је омотач?

20) Колика је запремина праве зарубљене купе кад је њен омотач  $134,35 \text{ cm}^2$ , страна  $7,9 \text{ cm}$ , и нагибни угао стране према доњем базису  $84^\circ 28' 30''$ ?

21) Полупречници базиса праве зарубљене купе јесу  $R = 45 \text{ cm}$  и  $r = 34 \text{ cm}$ , а нагибни угао стране према доњем базису  $\alpha = 50^\circ$ . Наћи полупречник оне лопте чија је површина једнака с површином омотача ове купе.

22) Колика је површина, а колика је запремина обртног тела које постаје када се правилан осмоугао са страном  $a$  обрће око једне своје угаоне симетрале?

23) Троугао са страном  $a$  и налеглим угловима  $\beta$  и  $\gamma$  обрће се око стране  $c$ . Израчунај површину и запремину обртног тела.

24) У паралелограму  $ABCD$  је  $AB = 25,387 \text{ m}$ ,  $AD = 14,275 \text{ m}$  и угао  $A = 30^\circ 27' 18''$ . Наћи запремину тела које гради паралелограм, кад се обрће око стране  $AB$  (Београд, I м. 1905).

25) Крак равнокраког троугла је  $5 \text{ cm}$ , а угао између кракова је  $44^\circ 42'$ . Израчунати обртну запремину тога троугла кад се он обрће око осовине која је паралелна са његовом основичином висином и додирује круг описан око троугла (Београд, III м. 1930).

26) Око лопте полупречника  $r = 3,4567 \text{ m}$  описана је права зарубљена купа чији је нагибни угао стране према основи  $\alpha = 65^\circ 25' 10''$ . Наћи површину и запремину те зарубљене купе (Београд, III м. 1914).

27) Оса косе облице  $s = 15 \text{ cm}$  нагнута је према основи под углом  $\alpha = 67^\circ 18' 50''$ , а висина је једнака обиму базиса. Колика је ивица коцке чија је запремина једнака запремини дате облице? (Београд, Реалка 1932).

28) Правоугли троугао, чија хипотенузина висина  $h = 4 \text{ cm}$  заклапа угао  $x = 52^\circ 42' 15''$  са основном катетом, обрће се око осовине која пролази кроз крајњу тачку хипотенузе, а нормална је на катети. Израчунати запремину обртног тела (Београд, Реалка 1931).

29) Омотач праве купе једнак је збиру отсечака који се добијају кад се опише круг око троугла чије су стране  $24$ ,  $30$  и  $36 \text{ cm}$ . Колика је тежина те купе, ако је специфична тежина њене материје  $6,7$ , а нагибни угао стране према базису  $62^\circ 30'$ ? (Београд, I ж. 1933).

30) Равнокрак трапез, чије су паралелне стране  $24$  и  $18 \text{ cm}$ , а угао на већој основици  $48^\circ 37' 10''$ , обрће се око веће основице. Наћи површину и запремину обртног тела (Крагујевац, ж. 1932).

31) Колика је запремина тростране призме чија је бочна ивица дугачка  $20 \text{ cm}$ , а нагнута је према базису под углом од  $68^\circ 9' 19''$ , ако је базис уписан у кругу полупречника  $57 \text{ cm}$ , а два су му угла  $\alpha = 49^\circ 4' 28''$  и  $\beta = 90^\circ 5' 41''$ ? (Зајечар, 1934).

32) У суду, који има облик зарубљене купе са полупречником основе  $r = 3 \text{ dm}$ , а стране су му према основи нагнуте под углом  $\alpha = 108^\circ 24' 36''$ , налази се вода у висини  $h = 4 \text{ dm}$ . У тај суд убачена је лопта. Колики мора бити полупречник убачене лопте, када се вода подигне у суду за  $2 \text{ dm}$ ? (В. Кикинда, 1930).

33) Наћи запремину праве зарубљене пирамиде, чији је доњи базис правилан осмоугао уписан у кругу полупречника  $42 \text{ cm}$ , а горњи је базис

описан око круга полупречника  $6 \text{ cm}$ , кад је нагибни угао бочне стране према базису  $42^\circ 16' 32''$  (Панчево, 1930).

33) Ромб са страном  $a = 6,4 \text{ dm}$  обрће се око осе која пролази кроз крајњу тачку веће дијагонале, а нормална је на дијагонали. Наћи површину и запремину посталога тела, ако је страна нагнута према осовини под углом  $\alpha = 58^\circ$  (Сарајево, шер. 1934).

34) Полупречници обеју основа једне праве зарубљене купе дати су коренима једначина:

$$\frac{3}{4} \sqrt{x-y} = 1 + \frac{1}{\sqrt{x-y}}, \quad \sqrt{x+y} + \sqrt{x-y} = 6$$

а налегли угао стране према већој основи дат је једначином  $\cos \alpha + \sin \frac{\alpha}{2} = 1$ .

Наћи површину и волумен ове купе (Сарајево, шер. 1932).

35) Полупречник основе једне праве купе је  $r = 10 \text{ m}$ . Смањи ли се полупречник ове купе на  $3 \text{ m}$  (при истој висини), нагибни се угао стране према базису утростручи. Наћи волумен простора између ових двеју купа (Сарајево, II м. 1933).

36) Делтоид у коме су стране  $a = 12$ ,  $b = 8$  и угао између њих  $\gamma = 82^\circ 48'$ , ротира око веће дијагонале. Наћи волумен мањег конуса и површину двоструког конуса, као и волумен уписаног ваљка у већем конусу, ако је полупречник базиса ваљка  $\frac{1}{2}$  полупречника конуса (Сарајево, I м. 1933).

37) Тупоугли троугао, није стране  $a = 2 \text{ m}$  и  $b = 4 \text{ m}$  захватају угао од  $120^\circ$ , обрће се око осе која пролази кроз теме тупог угла а стоји нормално на његовој симетрици. Да се израчуна површина и запремина обртног тела (Ваљево, 1934).

38) У троуглу  $ABC$ , коме су углови  $\beta = 42^\circ 13' 44''$  и  $\gamma = 73^\circ 15' 28''$  и страна  $BC = a = 12,5 \text{ cm}$ , одаберите тачку  $M$  на страни  $AB$  и повуците паралелну  $MN$  са страном  $a$  да буде  $MN = BM = x$ , а  $N$  на  $AC$ . Нађите волумен ротационог тела које постаје обртањем трапеза  $MBCN$  око осе која пролази кроз  $A$  паралелно са страном  $a$  (Ср. Митровица, 1932).

39) У правој зарубљеној купи чији је  $R = 18 \text{ cm}$ ,  $r = 12 \text{ cm}$ , а страна нагнута према базису за  $53^\circ 27'$ , уписана је правилна четворострана зарубљена пирамида. Наћи површину и запремину ове пирамиде (Смедерево, 1934).

40) У троуглу познате су стране  $a = 248 \text{ cm}$ ,  $b = 356 \text{ cm}$  и угао  $\alpha = 2\beta$ . Троугао се обрће око стране  $c$ ; наћи површину и запремину ротационог тела (Смедерево, 1932).

41) Око праве и правилне десетостране пирамиде, чија је ивица основе  $a = 8,3185$ , а висина је једнака корену једначине  $1 + \sqrt{x-2} = \sqrt{x+7}$ , описана је права купа. Наћи површину равностраног ваљка, чија је запремина једнака запремини те купе (Суботица, м. 1932).

42) Ако су основне ивице тростране призме  $75 \text{ cm}$ ,  $61 \text{ cm}$  и  $34 \text{ cm}$ , а бочна ивица  $s = 80 \text{ cm}$  затвара са базом угао  $\alpha = 87^\circ 44'$ , колика је запремина уписане облице у овој призми? (Суботица, м. 1930).

43) У правој купи уписана је пирамида, чији је базис правилан шестоугао стране  $a = 6 \text{ cm}$ , а запремина јој је  $v = 270 \text{ cm}^3$ . Наћи површину купе, ако јој је страна нагнута према базису под углом од  $75^\circ 24' 10''$  (Сомбор, 1934).

44) Задана је зарубљена купа којој је осовински пресек равнокрак трапез. Колики је волумен купе, ако је површина тога трапеза  $p=270 \text{ dm}^2$ , крак  $b=17 \text{ dm}$  и угао  $\alpha=62^\circ 55' 36''$ ? (Копривница, 1930).

45) Углови на страни  $c=10$  једнога троугла дати су једначинама  $4\lg x - \lg y = 8$ ,  $16\lg 2x - \lg z = 8$ . Израчунај површину ротационог тела које постаје ротацијом тога троугла око стране  $c$  (Госпић, 1933).

46) Правоугли троугао, код кога је збир страна  $a+b+c=24$ , а збир њихових квадрата  $a^2+b^2+c^2=200$ , ротира око хипотенузе. Наћи волумен ротационог тела (Госпић, 1932).

47) Страна правог конуса нагнута је према бази под углом  $\alpha=48^\circ 18' 42''$ , а разлика између стране и полупречника базе је  $9,684 \text{ cm}$ . Колика је површина лопте уписане у конусу? (Сл. Брод, 1934).

48) У бази праве купе уписан је квадрат стране  $a=63,145 \text{ cm}$ . Раван која пролази кроз теме купе и кроз страну квадрата чини троугао чији је угао на врху  $2\alpha=66^\circ 51' 42''$ ; колика је запремина те купе? (Сл. Брод, 1932).

49) Кружни сектор  $AOB$ , чија је површина  $F=56,346 \text{ cm}^2$ , ротира око полупречника  $AO$ . Угао  $AOB=\alpha=57^\circ 15' 28''$ . Израчунати волумен ротационог тела (Сл. Брод, 1930).

50) Наћи запремину праве купе чија је страна  $s=6 \text{ cm}$ , а угао на врху  $2\alpha$  осовинског пресека дат је једначином  $\left(4 \frac{25 \sin \alpha \cos \alpha}{4}\right)^{\frac{1}{3}} + \left(4 \frac{25 \sin 2\alpha}{4}\right)^{\frac{1}{12}} = 20$ .

51) Коса тространа пирамида има за базу троугао са странама  $b=15 \text{ cm}$ ,  $c=17 \text{ cm}$  и углом  $\alpha=35^\circ 43' 54''$ . Њен је волумен  $v=336,81 \text{ cm}^3$ . Права која спаја тежиште базе са врхом пирамиде гради с базом угао  $\omega=40^\circ 15' 20''$ . Одреди дужину те праве (Шибеник, 1932).

52) У једне тростране пирамиде све су бочне ивице једнаке и свака износи  $9 \text{ m}$ . Углови између ивица при врху јесу:  $\alpha=28^\circ 19' 37''$ ,  $\beta=31^\circ 15' 25''$ ,  $\gamma=43^\circ 16' 24''$ ; наћи запремину пирамиде (Београд, II ж. 1928).

53) Правилан полигон који има 54 дијагонале а страна му је  $a=2,48$  обрће се око једне углавне симетрале. Наћи површину и запремину обртног тела (Београд, I м. 1924).

54) Једна тространа права пирамида стоји у полулопти тако да се темена базиса налазе на обиму полулоптиног базиса. Основне ивице пирамиде јесу  $a=17 \text{ cm}$ ,  $b=10 \text{ cm}$  и  $c=9 \text{ cm}$ . Израчунати ивичне углове пирамиде и њену површину (Београд, II ж. 1924).

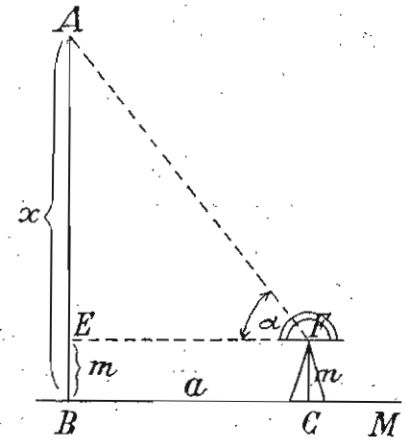
### § 30. Примена тригонометрије на решавање задатака из практичне геометрије

Применом тригонометрије у стању смо да решимо неколико задатака који имају практичан значај. Такви су задаци: мерење висина приступачних и неприступачних предмета, одређивање отстојања неприступачних тачака на земљиној по-

вршини итд. За мерење углова на земљиној површини и одређивање правца тачака у простору употребљавамо разне угломерне справе, а најчешће теодолит, помоћу кога можемо измерити угао са најприближнијом тачношћу.

#### I. Мерења висина.

1) Наћи висину једнога предмета (дрвеша, куле, куће) када му је подножје приступачно а земљиште хоризонтално.



Сл. 47

Треба на хоризонталној равни  $BM$  (сл. 47) узети на

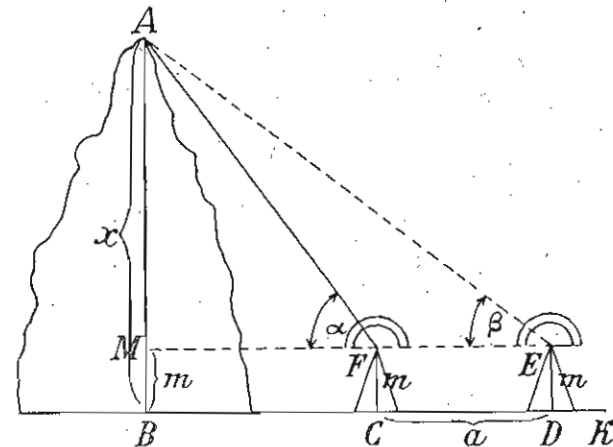
извесном отстојању  $a$  од подножја предмета тачку  $C$ . Код ове тачке треба намести инструменат чија се висина  $m$  зна. Помоћу теодолита одређујемо угао  $EFA=\alpha$ , а затим из правоуглог троугла  $AEF$  имамо:

$$AE = EF \operatorname{tg} \alpha = a \operatorname{tg} \alpha.$$

Висина предмета  $AB$  јесте  $x = AE + m$ .

2) Наћи висину предмета (куће, брда) када му је подножје неприступачно а земљиште хоризонтално.

У овоме случају узимамо на хоризонталној равни  $BK$  (сл. 48) две тачке  $C$  и  $D$  на извесном отстојању  $a$ , тако да правац  $DC$  пролази кроз подножје  $B$ . Код  $C$  и  $D$  намешта се теодолит висине  $m$  и њиме одређујемо углове  $AFM=\alpha$  и



Сл. 48

$AEM = \beta$ . Тада у косоуглом троуглу  $AFE$  знамо страну  $EF = a$  и сва три угла.

По синусној теореме имамо  $AF : a = \sin \beta : \sin(\alpha - \beta)$ , а одавде је  $AF = \frac{a \sin \beta}{\sin(\alpha - \beta)} \dots (1)$ .

Како је из правоуглог троугла  $AMF : AM = AF \sin \alpha$ , то је, заменом у овој једначини  $AF$  са његовом вредношћу из једначине (1):  $AM = \frac{a \sin \alpha \sin \beta}{\sin(\alpha - \beta)}$ .

Висина предмета  $AB$  јесте  $x = AM + m$ .

**Напомена.** — Ако узета база  $CD = a$  не пролази кроз подножје  $B$  предмета  $AB$ , онда узимамо базу  $CD = a$  ма којег правца, а у равни подножја предмета (сл. 49). Из крајњих тачака  $C$  и  $D$  визирано  $A$  и  $B$  и налазимо углове:  $\alpha$ ,  $\beta$  и  $\gamma$ . Тада из  $\triangle DBC$  имамо:  $BC : a = \sin \alpha : \sin DBC$ , или  $BC : a = \sin \alpha : \sin(\alpha + \beta)$ .

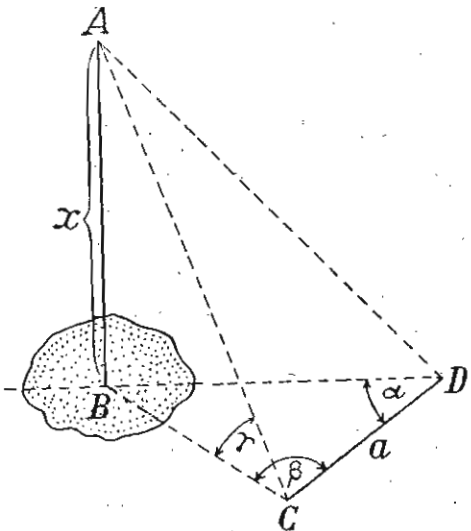
Одавде је

$$BC = \frac{a \sin \alpha}{\sin(\alpha + \beta)}$$

Најзад из правоуглог троугла  $ABC$  имамо

$$x = BC \operatorname{tg} \gamma = \frac{a \sin \alpha \operatorname{tg} \gamma}{\sin(\alpha + \beta)}$$

Ако узета база  $CD$  не лежи у равни подножја предмета  $AB$ , онда треба да измеримо још углове  $ACD$  и  $ADC$ . Тада из  $\triangle ACD$  налазимо најпре страну  $AC$ , а затим из  $\triangle ABC$ , помоћу страна  $BC$ ,  $AC$  и угла  $\gamma$ , налазимо висину  $x$ .



Сл. 49

3. Наћи висину предмета када је подножје приступачно а земљиште косо.

Треба претходно измерити угао  $\omega$  између хоризонталне равнине  $BM$  (сл. 50) и косо  $BN$ . Затим на косој равни  $BN$  треба узети тачку  $C$  на извесном отстојању  $a$  од подножја предмета. Помоћу теодолита из  $C$  визирано врх предмета  $A$  и налазимо угао  $\alpha$ . Тада у косоуглом троуглу  $ABC$  знамо сва три угла и страну  $BC = a$ .

По синусној теореме имамо:  $AB : a = \sin \alpha : \sin \gamma$ , или

$$x : a = \sin \alpha : \sin [180^\circ - (90^\circ + \omega + \alpha)].$$

$$\text{Одавде је } x = \frac{a \sin \alpha}{\sin(90^\circ + \omega + \alpha)} = \frac{a \sin \alpha}{\cos(\omega + \alpha)}$$

4) Наћи висину предмета када му је подножје неприступачно а земљиште косо.

Најпре се, као у претходном задатку, одређује угао  $\omega$  између хоризонталне равнине  $BN$  и косо  $BM$  (сл. 51). Затим на косој равни  $BM$  узимамо две тачке  $C$  и  $D$  чије је отстојање  $a$ . Из ових тачака визирано врх предмета  $A$  и налазимо углове  $\alpha$  и  $\beta$ . Тада у троуглу  $ACD$  знамо сва три угла и страну  $CD = a$ . По синусној теореме имамо:  $AC : a = \sin \beta : \sin(\alpha - \beta)$ .

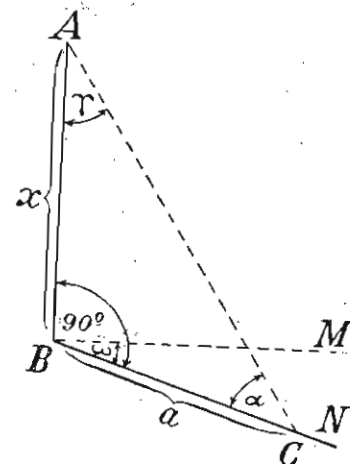
Одавде је

$$AC = \frac{a \sin \beta}{\sin(\alpha - \beta)}$$

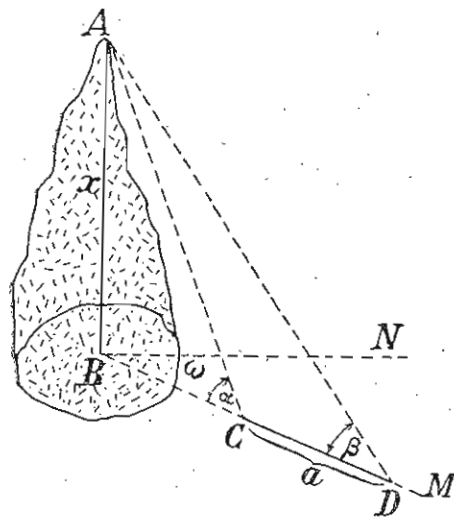
Израчунавањем стране  $AC$  имамо у троуглу  $ABC$  познате једну страну и сва три угла. Стога је:  $AB : AC = \sin \alpha : \sin(90^\circ + \omega)$ ,

$$\text{или } x : \frac{a \sin \beta}{\sin(\alpha - \beta)} = \sin \alpha : \cos \omega.$$

$$\text{Одавде је } x = \frac{a \sin \alpha \sin \beta}{\sin(\alpha - \beta) \cos \omega}.$$



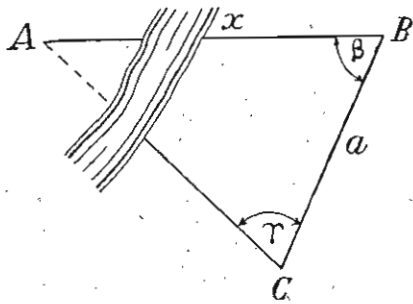
Сл. 50



Сл. 51

## II. Мерење отстојања двају места

5) Одредити у пољу раздаљину шачака  $A$  и  $B$  када је само једна приступачна.



Сл. 52

Узимамо најпре трећу тачку  $C$  (сл. 52) и меримо отстојање до приступачне тачке  $B$ . Из тачака  $B$  и  $C$  визирамо тачку  $A$  и налазимо теодолитом углове  $\beta$  и  $\gamma$ . Стога је по синусној теореми

$$x : a = \sin \gamma : \sin [180^\circ - (\beta + \gamma)], \text{ или}$$

$$x : a = \sin \gamma : \sin (\beta + \gamma).$$

Одавде је  $x = \frac{a \sin \gamma}{\sin (\beta + \gamma)}$ .

6) Наћи отстојање двеју шачака  $A$  и  $B$  у пољу када су обе неприступачне.

Треба најпре изабрати две тачке  $C$  и  $D$  (сл. 53) на извесном отстојању  $a$ . Из ових тачака визирамо теодолитом тачке  $A$  и  $B$ , чиме налазимо углове:  $\alpha$ ,  $\beta$ ,  $\gamma$  и  $\delta$ . Затим из  $\triangle BCD$ , у коме знамо једну страну и два угла, одређујемо по синусној теореми страну  $BC =$

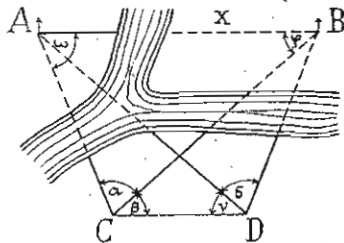
$$= \frac{a \sin (\gamma + \delta)}{\sin (\beta + \gamma + \delta)} \quad (1).$$

Из  $\triangle ACD$ , у коме знамо такође једну страну и два угла, израчунавамо

$$\text{страну } AC = \frac{a \sin \gamma}{\sin (\alpha + \beta + \gamma)} \quad (2)$$

Овим израчунавањем имамо у троуглу  $ACB$  познате две стране  $AC$ ,  $BC$  и захваћени угао  $\alpha$ .

Најзад применом тангентне теореме израчунавамо у овоме троуглу углове  $\phi$  и  $\omega$ , а затим помоћу синусне теореме и трећу његову страну  $AB = x$ .



Сл. 53

## III. Задаци из космографије

7) Посматрач се налази на висини  $h$  над морском површином; наћи полупречник земље.

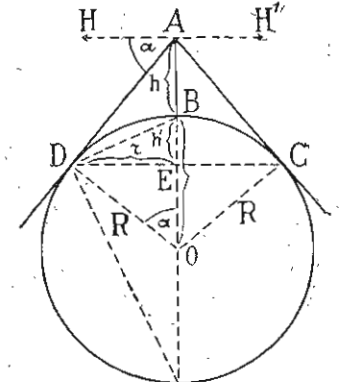
Нека лук  $DBC$  (сл. 54) претставља морску површину,  $A$  око посматрача на висини  $AB = h$  над морском површином,  $D$  додирну тачку тангентног видног зрака  $AD$ , а  $HH'$  видни хоризонт. Угао  $DAH = \alpha$ , који се зове *депресиони*, једнак је углу  $DOA$ , пошто су им краци нормални.

Овај угао израчунава посматрач, а тако исто и висину  $h$  помоћу инструмената. Тада је из правоуглог троугла  $ADO$ :

$$DO = AO \cos \alpha, \text{ или } R = (R+h) \cos \alpha.$$

Одавде је:

$$R = \frac{h \cos \alpha}{1 - \cos \alpha} = \frac{h \cos \alpha}{2 \sin^2 \frac{\alpha}{2}}$$



Сл. 54

8) Наћи површину земљине калоте која се види са висине  $h$  над морском површином, сматрајући земљу за лопту с полупречником  $R$ .

Из правоуглог троугла  $ADO$  (сл. 54) имамо:  $R = (R+h) \cos \alpha$ .

Одавде је  $\cos \alpha = \frac{R}{R+h} \dots (1)$  Из правоуглог троугла  $DEO$  имамо:  $r = R \sin \alpha = R \sqrt{1 - \cos^2 \alpha} = R \sqrt{1 - \left(\frac{R}{R+h}\right)^2} =$

$$= \frac{R}{R+h} \sqrt{h(2R+h)} \dots (2)$$

Па како је површина једне лоптине калоте  $P = (r^2 + h_1^2)\pi$ , где је  $r$  полупречник калотиног базиса, а  $h_1$  висина калоте,

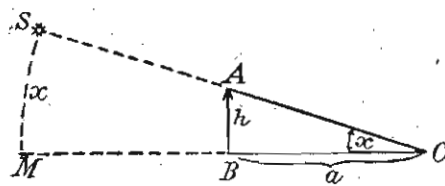
то заменом  $r = \frac{R}{R+h} \sqrt{h(2R+h)}$ , а  $h_1 = R - \sqrt{R^2 - r^2} =$

$$= R - \sqrt{R^2 - \frac{R^2 h (2R+h)}{(R+h)^2}} = R - \frac{R^2}{R+h} = \frac{Rh}{R+h}, \text{ добијамо:}$$

$$P = \frac{2R^2 h \pi}{R+h}$$

9) Наћи висину Сунца над хоризонтом помоћу сенке вертикалног предмета.

Наћи висину Сунца над хоризонтом значи наћи колико степена има лук  $SM$  (сл. 55) небеског меридијана од не-



Сл. 55

кога положија Сунца до хоризонта. Како овај лук  $SM$  има онолико степена колико и угао  $SCM$ , или угао  $x$  правоуглог троугла  $ABC$ , који је добивен од предмета  $AB = h$ , његове сенке  $BC = a$  и сунчаног

зрака  $SC$ , то овај угао, или висину Сунца над хоризонтом, налазимо из једначине:

$$\operatorname{tg} x = \frac{h}{a} \dots (1)$$

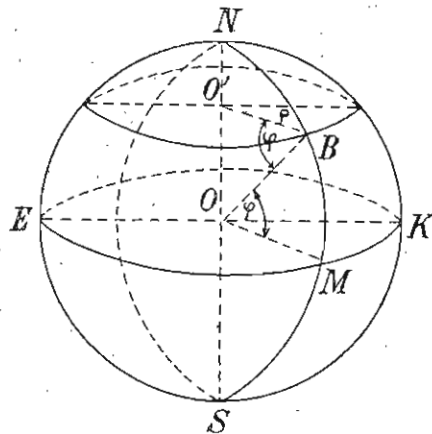
Треба дакле измерити дужину вертикално постављеног предмета  $h$  и дужину његове сенке  $a$ , па тражену висину сунца наћи из једначине (1).

10) *Наћи географску ширину неког места Земље помоћу висине једног вертикалног предмета и његове сенке, коју баца на подне на дан равнодневице.*

Како под географском ширином једног места земљине површине разумемо лук у степенима меридијана тог места од дотичног места до екватора, и како Сунце на дан равнодневице оптиче небесни екватор, а на подне тога дана се налази у небеском меридијану тог места, то сенка неког вертикалног предмета тада има правац меридијана дотичног места. Тада угао сунчеве висине јесте комплемент са географском ширином дотичног места. Стога, као у претходном задатку, налазимо најпре сунчеву висину у подне за време равнодневице и комплементни угао тога угла биге географска ширина дотичног места.

11) *Наћи дужину једног степена на упореднику наше земље чија је географска ширина позната.*

Нека је  $B$  (сл. 56) једна тачка упоредника  $O'$  чија је географска ширина  $BM = \varphi$  позната. Како су равнине екватора  $O$  и упоредника  $O'$  паралелне, то их равнина меридијана



Сл. 56

$NBMS$  сече тако да су им пресеци  $OM$  и  $O'B$  паралелни. Стога је угао  $O'BO = \varphi$ . Тада је  $\Delta OBO'$  правоугли са правим углом код  $O'$ . У овоме троуглу хипотенуза је земљин полупречник  $OB = R$ , а катете су полупречник  $\rho$  упоредника и његово отстојање од екватора. Стога је

$$\rho = R \cos \varphi \dots (1)$$

Тада је обим упоредника  $O' = 2\pi\rho = 2R\pi \cos\varphi$ , а дужина једног његовог степена јесте  $\frac{O'}{360} = \frac{2R\pi \cos\varphi}{360}$ .

12) *Наћи отстојање два места  $A$  и  $B$  истог упоредника познате географске ширине кад се зна временска разлика часовника тих места.*

Ако је географска ширина упоредника  $\varphi$ , онда је по претходном задатку, дужина једног степена тога упоредника  $\frac{2R\pi \cos\varphi}{360}$ . Услед дневног обртања земље око њене осовине

Сунце привидно прелази  $360^\circ$  за 24 часа, а за један час пређе  $\frac{360^\circ}{24} = 15^\circ$ . Ако се часовници места  $A$  и  $B$  разликују за  $n$

часова, онда лук  $AB$  има  $n \cdot 15$  степени. Па како је дужина једног степена упоредника  $\frac{2R\pi \cos\varphi}{360^\circ}$ , то дужина лука  $AB$ , тј. отстојање места  $A$  и  $B$  јесте:

$$\widehat{AM} = n \cdot 15 \cdot \frac{2R\pi \cos\varphi}{360} = \frac{nR\pi \cos\varphi}{12}$$

13) *Наћи отстојање једног небеског тела (месеца, сунца) до земљиног средишта.*

Нека тачка  $O$  (сл. 57) претставља центар земље,  $EK$  пречник екватора, а кружна периферија меридијан места  $B$  и  $C$  на земљиној површини одакле се посматрање врши. Ако су углови  $BOK = \varphi$  и  $COK = \varphi'$ , географске ширине места  $B$  и  $C$ , а углови  $Z$  и  $Z'$  зенитне раздаљине небеског тела, који се углови одређују у истом тренутку од посматрача када се небеско тело налази над меридијаном места  $B$  и  $C$ ,  $R$  полупречник земље, онда се раздаљина  $OS = d$  одређује из четвороугла  $SBOC$  помоћу количина:  $R$ ,  $\varphi$ ,  $\varphi'$ ,  $Z$  и  $Z'$ . Ако означимо углове  $BSO$  и  $CSO$  са  $x$  и  $y$ , онда најпре одређујемо те углове помоћу њиховог збира и њихове разлике.

Њихов збир из четвороугла  $SBOC$  јесте:

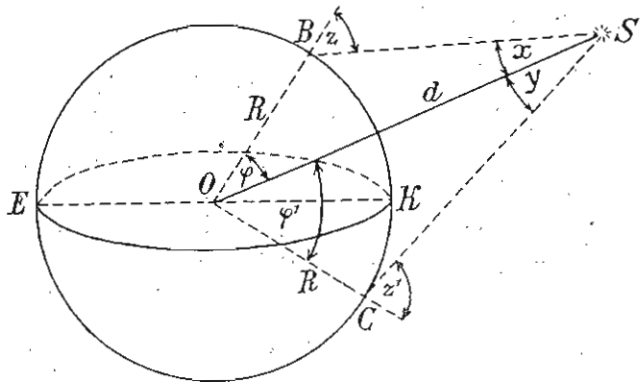
$$x + y = 360^\circ - (180^\circ - z) - (180^\circ - z') - (\varphi + \varphi') = (z + z') - (\varphi + \varphi') \dots (1)$$

Њихову разлику одређујемо на следећи начин: Из  $\Delta SOB$  имамо  $R : d = \sin x : \sin (180^\circ - z)$ , а из  $\Delta SOC$  имамо

$$R : d = \sin y : \sin (180^\circ - z').$$

Упоредивањем ових двеју пропорција налазимо да је

$$\sin x : \sin z = \sin y : \sin z', \text{ или } \sin x : \sin y = \sin z : \sin z'.$$



Сл. 57

Применом изведених пропорција добијамо:

$$(\sin x + \sin y) : (\sin x - \sin y) = (\sin z + \sin z') : (\sin z - \sin z'), \text{ или}$$

$$2 \sin \frac{x+y}{2} \cos \frac{x-y}{2} : 2 \cos \frac{x+y}{2} \sin \frac{x-y}{2} = 2 \sin \frac{z+z'}{2} \cos \frac{z-z'}{2} :$$

$$: 2 \cos \frac{z+z'}{2} \sin \frac{z-z'}{2}, \text{ или } \operatorname{tg} \frac{x+y}{2} : \operatorname{tg} \frac{x-y}{2} = \operatorname{tg} \frac{z+z'}{2} : \operatorname{tg} \frac{z-z'}{2}.$$

Одавде је

$$\operatorname{tg} \frac{x-y}{2} = \frac{\operatorname{tg} \frac{x+y}{2} \cdot \operatorname{tg} \frac{z-z'}{2}}{\operatorname{tg} \frac{z+z'}{2}} = \frac{\operatorname{tg} \frac{z+z'-\varphi-\varphi'}{2} \operatorname{tg} \frac{z-z'}{2}}{\operatorname{tg} \frac{z+z'}{2}}.$$

Из ове једначине, употребом логаритама, налазимо угао  $(x-y)$ . За  $x-y = \omega$  и  $x+y = (z+z') - (\varphi+\varphi') = \varepsilon$ , налазимо  $x = \frac{\omega+\varepsilon}{2}$  и  $y = \frac{\varepsilon-\omega}{2}$ .

Најзад из троугла  $SBO$  и  $SCO$  налазимо да је:

$$d = \frac{R \sin z}{\sin x}, \text{ или } d = \frac{R \sin z'}{\sin y}.$$

**Бројни пример.** Зенитни угао месеца измерен у Берлину (географска ширина  $\varphi = 52^\circ 31' 33''$  северна) је  $z = 32^\circ 3' 51''$ , а зенитни угао месеца, измерен у истом тренутку на гребену Добре Наде (географска ширина  $\varphi' = 33^\circ 56' 3''$  јужна), је

$z' = 55^\circ 42' 48''$ ; наћи отстојање месеца до центра наше Земље када је њен полупречник  $R = 6370,308 \text{ km}$ .

14) Наћи прави полупречник, површину и запремину једног небеског тела, ако се оно види са земље под углом  $2\alpha$ , а раздаљина тога небеског тела до земље је  $d$ .

Како је раздаљина  $d$  хипотенуза,  $\alpha$  један оштар угао, а полупречник  $r$  небеског тела катета правоуглог троугла (друга је катета тангента повучена са земље на небеско тело), то је  $r = d \sin \alpha$ .

Површина  $P = 4r^2\pi = 4d^2\pi \sin^2\alpha$ , а запремина

$$V = \frac{4r^3\pi}{3} = \frac{4d^3\pi \sin^3\alpha}{3}.$$

**Бројни пример.** Наћи пречник, површину и запремину месеца, кад се он види са земље под углом  $30' 58''$  и када је његова раздаљина  $d = 207188 \text{ km}$ .

15) Наћи површину једног земљиног појаса између два упоредника чије су географске ширине  $\varphi$  и  $\varphi'$ .

Ако означимо са  $\rho$  и  $\rho'$  полупречнике упоредника  $B$  и  $C$  чије су географске ширине  $\varphi$  и  $\varphi'$  (сл. 58), са  $R$  полупречник Земље, онда је:

$$\rho = R \cos \varphi \text{ и } \rho' = R \cos \varphi',$$

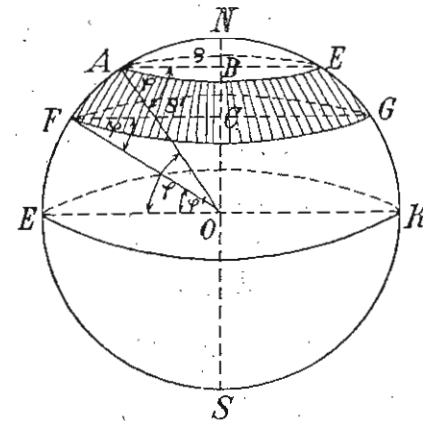
$$\text{а } OB = R \sin \varphi \text{ и } OC = R \sin \varphi'.$$

$$\begin{aligned} \text{Тада је висина појаса } h &= \\ &= OB - OC = R(\sin \varphi - \sin \varphi') = \\ &= 2R \cos \frac{\varphi + \varphi'}{2} \sin \frac{\varphi - \varphi'}{2}. \end{aligned}$$

Стога је површина појаса

$$\begin{aligned} P &= 2R\pi h = \\ &= 2R\pi \cdot 2R \cos \frac{\varphi + \varphi'}{2} \sin \frac{\varphi - \varphi'}{2} = \\ &= 4R^2\pi \cos \frac{\varphi + \varphi'}{2} \sin \frac{\varphi - \varphi'}{2}. \end{aligned}$$

**Бројни пример.** Наћи површину земљиног појаса између упоредника географских ширина  $\varphi = 50^\circ$  и  $\varphi' = 40^\circ$ , а земљин полупречник  $R = 6370 \text{ km}$ .

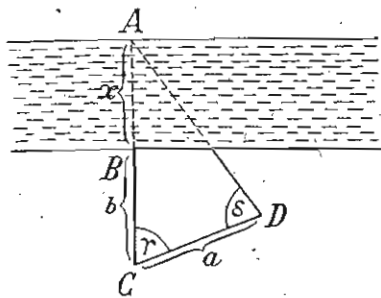


Сл. 58

#### IV. Разни практични задаци

16). Наћи ширину реке код неког места.

На другој обали реке изабирамо неки видан предмет  $A$  (сл. 59), а наспрам њега узимамо тачку  $B$ . За базу узимамо



Сл. 59

$CD = a$  тако да  $C$  лежи на продужењу од  $AB$ . Теодолитом меримо углове  $\gamma$  и  $\delta$ , па из  $\triangle ACD$  имамо:  $AC : a = \sin \delta : \sin [180^\circ - (\gamma + \delta)]$ . Одавде је:

$$AC = \frac{a \sin \delta}{\sin (\gamma + \delta)}$$

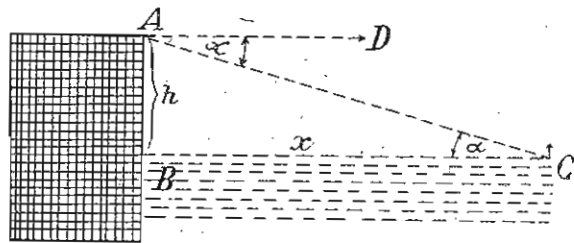
Ширина реке јесте  $x = AC - b$ .

17) Наћи раздаљину лађе на морској пучини до обале висине  $h$  над морском површином.

Нека се посматрач налази у тачки  $A$  на висини  $AB = h$  и види лађу у  $C$  (Сл. 60). Најпре се налази угао  $\alpha$  између видног зрака  $AC$  и хоризонтале  $AD$ . Тада отстојање  $BC$  лађе налазимо из правоуглог троугла  $ABC$  у коме знамо катету  $AB = h$  и оштри угао  $BCA = CAD = \alpha$ .

Стога је  $BC = h \cotg \alpha$ .

Код овог задатка претпостављамо да је морска површина хоризонтална, што је допуштено само за мала отстојања.



Сл. 60

18) Наћи висину облака помоћу његовог lika у води.

Да бисмо одредили висину облака  $M$  (сл. 61) над површином воде  $NP$ , треба да фиксирамо на облаку тачку  $C$  чији је лик тачка  $C'$ . Ако се наше око налази у тачки  $A$  за  $h$  изнад површине воде, онда визирајући тачку  $C$  и њен лик  $C'$ , израчунавамо елевациони угао  $\beta$  између правца  $AC$  и хоризонтале  $AH$  и депресиони угао  $\alpha$  између хоризонтале  $AH$  и правца  $AC'$  (хоризонтала  $AH$  налази се у равни  $ACC'$ ). Тада углови  $CDN$  и  $ADB$  јесу једнаки као углови упадања и одбијања. А како је угао  $ADB = \sphericalangle HAD$  као наизменични, то

је угао  $CDN = ADB = \alpha$ , а угао  $DCA = \alpha - \beta$ . Стога је из правоуглог троугла  $ADB$ ,  $AD = \frac{h}{\sin \alpha}$ .

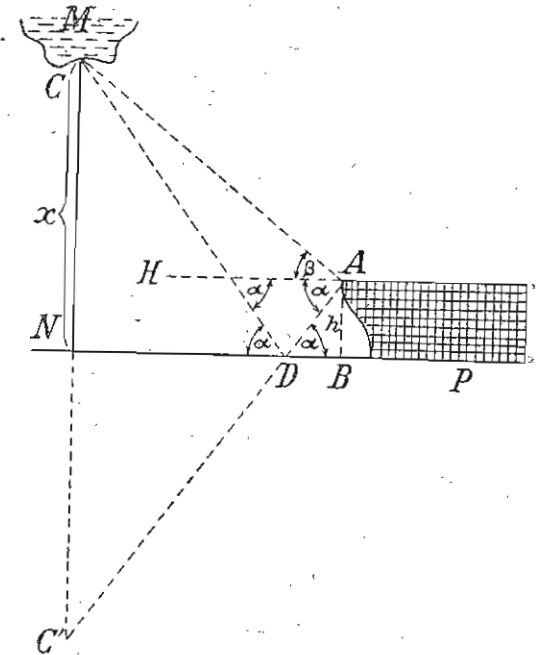
Из троугла  $CAD$  имамо по синусној теореме:  $CD : AD = \sin (\alpha + \beta) : \sin (\alpha - \beta)$ ,

или  $CD : \frac{h}{\sin \alpha} = \sin (\alpha + \beta) : \sin (\alpha - \beta)$ .

Одавде је  $CD = \frac{h \sin (\alpha + \beta)}{\sin \alpha \sin (\alpha - \beta)}$ .

Најзад из правоуглог троугла  $CND$  имамо:

$$x = CD \sin \alpha = \frac{h \sin (\alpha + \beta)}{\sin (\alpha - \beta)}$$



Сл. 61

#### V. Задаци за вежбу из практичне геометрије

1) Наћи висину једне куле чије је подножје приступачно када се она види са једног места, удаљеног од подножја  $34,52 \text{ m}$ , под углом од  $56^\circ 16' 12''$ , а висина угломера је  $1,1 \text{ m}$ .

2) Наћи висину Сунца над хоризонтом, ако вертикалан предмет  $8,4 \text{ m}$  висине баца сенку  $7,67 \text{ m}$  дужине.

3) Наћи висину једне куле чије је подножје неприступачно, ако се она види са два места међусобно удаљена  $162 \text{ m}$  под угловима  $48^\circ 10'$  и  $22^\circ 20'$ .

4) са једне тачке на морској обали висине  $189 \text{ m}$  над морском површином види се лађа на пучини под углом  $\alpha = 2^\circ 3' 20''$ ; наћи даљину лађе од обале.

5) Са једне тачке речне обале висине  $20,7 \text{ m}$  види се наспрамна тачка на другој обали под углом  $\alpha = 42^\circ 44' 28''$ ; наћи ширину реке.

6) Са једне обале реке видимо висину једног дрвета на другој обали под углом од  $36^\circ 45' 40''$ . Ако се удаљимо са обале  $23,35 \text{ m}$ , онда висину истог дрвета видимо под углом од  $30^\circ 29' 30''$ . Наћи висину дрвета и ширину реке.

7) Наћи висину једног облака над површином воде неког језера, ако посматрач који се налази на брегу висине  $h = 80 \text{ m}$  над језерском површином види неку тачку облака под елевационим углом од  $56^\circ$ , а слику те тачке види у води под депресионим углом од  $58^\circ$ .



8) На једној речној обали узете су тачке  $A$  и  $B$  чије је отстојање  $784 \text{ m}$ , а на супрутној обали постоје тачке  $C$  и  $D$ , које се виде са  $A$  и  $B$ . Наћи отстојање  $CD$ , ако су углови  $BAC = 87^\circ 25'$ ,  $BAD = 47^\circ 32'$ ,  $ABC = 46^\circ 34'$  и  $ABD = 4^\circ 35'$ . Тачке  $A$ ,  $B$ ,  $C$  и  $D$  налазе се у истој равни.

9) Стране тупоуглог троугла  $BAC$ , са тупим углом код  $B$ , не могу се измерити непосредно. Колика је дужина стране  $BC$ , ако је нормала  $AD$  (спуштена од  $A$  на  $BC$ )  $536 \text{ m}$ , а углови  $BAD$  и  $CAD$  јесу  $15^\circ 18'$  и  $27^\circ 18'$ .

10) Врх громобрана дужине  $1 \text{ m}$  на једној кули види се са даљине од  $100 \text{ m}$  од подножја куле под углом од  $61^\circ 46'$ . Наћи висину куле.

11) Наћи полупречник земљинога упоредника географске ширине  $\varphi = 48^\circ 12' 30''$ , кад је полупречник земље  $R = 6370 \text{ km}$ . Наћи отстојање двају места тога упоредника, ако часовници тих места показују временску разлику  $80$  минута.

12) Наћи дужину лука земљинога меридијана који се види са висине  $h = 57 \text{ m}$  када је полупречник земље  $R = 6370 \text{ km}$ .

13) Колика је секундна брзина једне тачке на обиму земљинога упоредника географске ширине  $\varphi = 48^\circ 12' 35''$ , кад је земљин полупречник  $R = 6370 \text{ km}$ .

14) Под којим се углом види пречник Зорњаче кад је она удаљена од Земље  $40$  милиона  $\text{km}$ , а прави јој је пречник  $12000 \text{ km}$ ?

15) Под којим углом  $\varphi$  видимо торањ од  $65 \text{ m}$  висине у раздаљини од  $85 \text{ m}$ , ако је наше око  $1,6 \text{ m}$  над површином земље?

16) Колика је громобранна торњу од  $65 \text{ m}$  висине кад се он види под углом од  $2^\circ 50' 50''$  са једне тачке, која је у хоризонталном правцу удаљена од подножја торња  $70 \text{ m}$ ?

17) Колика је висина брда чији се врх види под угловима од  $63^\circ 26'$  и  $71^\circ 34'$  са крајњих тачака једне хоризонталне основице од  $100 \text{ m}$  дужине, а која пролази кроз подножје брда?

18) Наћи отстојање једног села до једне вароши чија се звонара (врх звонаре) види са села из двеју тачака удаљених између себе  $80 \text{ m}$  под угловима од  $23^\circ 42' 28''$  и  $25^\circ 17' 2''$ .

19) Копенхаген и Москва имају готово једнаку северну географску ширину  $55^\circ 43'$ . Географска дужина од ферског меридијана Копенхагена је  $30^\circ 14'$  а Москве  $55^\circ 14'$ . Наћи отстојање између Москве и Копенхагена, кад је земљин полупречник  $R = 6370 \text{ km}$ .

20) Колика је разлика часовника двају места удаљених једно од другог за  $1 = 619 \text{ km}$ , кад је за оба места географска ширина  $S = 14^\circ 15'$ , а полупречник земљин  $R = 6378 \text{ km}$ ? (Београд, I ж. 1914)

21) На колику висину треба да се уздигне аероплан, да би се могла видети толика површина колика је површина наше државе ( $250000 \text{ km}^2$ ), кад је полупречник земље  $R = 6370 \text{ km}$ ? (В. Кикинда, 1932)

22) Да се израчуна ширина реке  $AB$ , кад је у продужењу праве  $AB$ , под углом  $\alpha = 48^\circ 12' 34''$  према њој, дата права  $CD = 56 \text{ m}$  која са визираним линијама из  $D$  и  $A$  заклапа углове  $CDB = 15^\circ 31' 49''$  и  $CDA = 53^\circ 7' 18''$ . (Ниш, 1907)

23) Са врха светионика, који је висок  $40 \text{ m}$  над морем, виде се два брода, и то под депресионим угловима  $\alpha = 10^\circ 35' 40''$  и  $\beta = 12^\circ 26' 45''$ , а догледни угао оба брода износи  $\gamma = 96^\circ 22' 14''$ . Колико су далеко у

24) Највећа планина Земље је Хималаја, чији врх лежи  $8837 \text{ m}$  изнад морске површине. Колика је депресија хоризонта, видна даљина и висина калоте која се види са тог врха, ако је полупречник Земље  $R = 6371050 \text{ m}$ ? (Приштина, 1931)

25) Два су стуба удаљена један од другог  $100 \text{ m}$ . Из средине спојнице њихових подножја види се врх једног стуба под елевационим углом  $\alpha = 49^\circ$ , а врх другог под елевационим углом  $\beta = 71^\circ$ . Колико је жице потребно да се разапне између оба врха? (Сарајево, II м. 1929)

26) Врхови двају брегова леже у једној истој вертикалној равни са посматрачем и изгледају му издигнути над хоризонтом под угловима  $9^\circ 30'$  и  $18^\circ 30'$ . Ако се посматрач приближи  $6365 \text{ m}$ , остајући у истој вертикалној равни и на једној хоризонтали, он тада види оба врха у истом правцу под углом од  $37^\circ$  над хоризонтом. Израчунати у метрима висине оба брега. (Ужице, 1912)

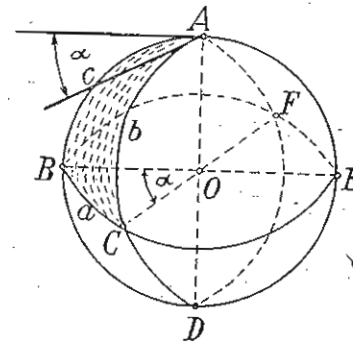
27) Са балона види се део земљине површине под углом  $2\alpha = 114^\circ 37' 44''$ , полупречник земљин је  $6378 \text{ km}$ ; на којој је висини балон и колика је посматрана површина? (Београд, I ж. 1923)

28) Један метеор види се истовремено из два места  $A$  и  $B$  истог меридијана, и то из  $A$  под углом  $82^\circ 24' 10''$  а из  $B$  под углом од  $36^\circ 18'$  према зениту. Колика је тада отстојање метеора од површине Земље, када су места  $A$  и  $B$  удаљена за  $30^\circ 40'$ , а полупречник Земље је  $8595$  миља? (Београд, I м. 1922)

## СФЕРНА ТРИГОНОМЕТРИЈА

### § 31. Сферни троуглови, њихове врсте и особине

У Стереометрији смо видели да под сферним троуглом разумемо део лоптине површине ограничен трима луцима трију главних лоптиних кругова ( $ABC$ , сл. 62). Лукови:  $AB=c$ ,  $BC=a$ ,  $AC=b$ , јесу *стране* сферног троугла. Ове стране једновремено су стране другог сферног троугла који са првим даје лоптину површину. Ако није нарочито наглашено, узимамо у посматрање онај сферни троугао који је по површини мањи од полулопте. Кругови:  $ABDE$ ,  $ACDF$  и  $BCEF$  који дају сферни троугао  $ABC$ , деле лоптину површину још на седам сферних троуглова, по четири на свакој полулопти. Ови троуглови могу бити: *упоредни*, *унакрсни* и *супротни*, према томе да ли имају само заједничку страну, или само једно



Сл. 62

заједничко теме, или су темена једнога троугла супротне тачке темена другог троугла. Тако троуглови:  $ABC$  и  $BCD$ ,  $ABC$  и  $ACE$ , ..... јесу упоредни; троуглови:  $ABC$  и  $CDE$ ,  $ABC$  и  $AEF$ , ..... јесу унакрсни; троуглови:  $ABC$  и  $DEF$ ,  $BCD$  и  $AEF$ , ..... јесу супротни. Свака два упоредна сферна троугла дају сферни двоугао ( $ABC + BCD = ABDC$ ), а супротни сферни троугли јесу једнаке површине.

Према странама и сферне троугле, као и равне, делимо на: *равностране*, *равнокраке* и *разностране*, а према угловима на *правоугле* и *косоугле*. Код равностраног троугла све су стране једнаке ( $a = b = c$ ), код равнокраког су једнаке само две, а код разностраног све три стране су различите величине. Правоугли сферни троугао може имати *сва три угла права* ( $A = B = C = 90^\circ$ ), или *само два*, или *само један прав* угао. Код правоуглог сферног троугла са три права угла стране су *квадранти* ( $a = b = c = 90^\circ$ ), а код правоуглог сферног троугла са два права угла само су две стране квадранти (на сл. 62  $b$  и  $c$ ), а трећа страна има онолико степена колико и њен супротни угао (на сл. 62 страна  $a$  и угао  $A$  имају исти број степена  $\alpha$ ). Ова два правоугла сферна троугла не узимамо у поступак при решавању правоуглог сферног троугла, пошто су њихови елементи познати, већ само правоугли сферни троугао са једним правим углом. Код овог троугла, стране правог угла јесу *катете*, а наспрамна страна *хипотенуза*.

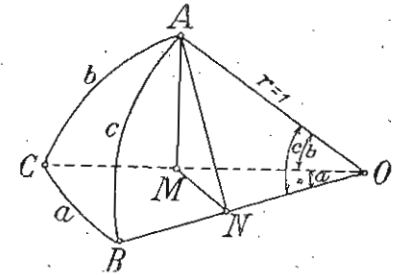
Ако темена сферног троугла  $ABC$  (сл. 62) спојимо са центром лопте  $O$ , онда добијамо сферни клин  $OABC$ , који је у ствари један тростран рогаљ, чије је теме у центру лопте, ивице су му полупречници лопте, ивични углови су стране, а углови рогаља су углови сферног троугла. Стога између страна и углова сферног троугла постоје исти односи као код тространог рогаља. Према овоме, све теореме у стереометрији, које се односе на особине, подударност и симетричност тространих рогаља, важе и за сферне троуглове.

У Стереометрији смо видели да је површина сферног троугла  $P = \frac{r^2 \pi e}{180^\circ}$ , где је  $r$  полупречник лопте, а  $e$ , звани сферни *ексцес* или сферни *сувишак*, једнак је разлици између збира углова сферног троугла и  $180^\circ$  ( $e = A + B + C - 180^\circ$ ). Запремина рогаља који одговара сферном троуглу је

$$v = \frac{r^3 \pi e}{540^\circ} = \frac{r^2 \pi e}{180^\circ} \cdot \frac{r}{3} = P \cdot \frac{r}{3}$$

## I. Решавање правоуглог сферног троугла

§ 32. **Неперово правило.** Ово правило употребљавамо при решавању правоуглог сферног троугла, а изводи се на следећи начин. Нека је  $ABC$  (сл. 63) сферни правоугли троугао, са правим углом код  $C$ , а припада лопти чији је полупречник  $r$  узет за јединицу. Тада су  $a$  и  $b$  катете а  $c$  хипотенуза тога правоуглог сферног троугла. Претпоставимо још да је овај троугао такав да су му стране и углови, осим  $C$ , мањи од  $90^\circ$ . Ако његова темена спојимо са центром лопте  $O$ , добијамо тространи рогаљ  $OABC$ .



Сл. 63

Слуштањем нормала  $AM$  и  $AN$  на ивице  $OC$  и  $OB$  и спајањем тачака  $M$  и  $N$ , добијамо правоугле равне троугле:  $AMN$ ,  $OAM$ ,  $OAN$  и  $OMN$ . У првом је  $\sphericalangle M = \sphericalangle C = 90^\circ$  а  $\sphericalangle N = \sphericalangle B$ . Тада је:  $ON = r \cos c = \cos c$ ;  $AN = r \sin c = \sin c$ ;  $OM = r \cos b = \cos b$  и  $AM = r \sin b = \sin b$ . Стога је:

1) Из  $\triangle OMN$ :  $ON = OM \cdot \cos a$ , или  $\cos c = \cos b \cdot \cos a$ ;  
 2) Из  $\triangle AMN$ :  $\sin N = \sin B = \frac{AM}{AN} = \frac{\sin b}{\sin c}$ , или  $\sin b = \sin B \cdot \sin c$ , и слично овоме:  $\sin a = \sin A \cdot \sin c$ ;  
 3)  $\cos N = \cos B = \frac{MN}{AM} = \frac{ON \cdot \operatorname{tg} a}{OM \operatorname{tg} c} = \frac{\operatorname{tg} a}{\operatorname{tg} c}$ , или  $\operatorname{tg} a = \cos B \cdot \operatorname{tg} c$ , и слично овоме:  $\operatorname{tg} b = \cos A \cdot \operatorname{tg} c$ ;  
 4)  $\operatorname{tg} N = \operatorname{tg} B = \frac{AM}{MN} = \frac{OM \cdot \operatorname{tg} b}{OM \sin a} = \frac{\operatorname{tg} b}{\sin a}$ , или  $\operatorname{tg} b = \operatorname{tg} B \cdot \sin a$ , и слично овоме:  $\operatorname{tg} a = \operatorname{tg} A \cdot \sin b$ ;  
 5) Множењем једначине  $\operatorname{tg} A = \frac{\operatorname{tg} a}{\sin b}$  и  $\operatorname{tg} B = \frac{\operatorname{tg} b}{\sin a}$

добијамо:  $\operatorname{tg} A \operatorname{tg} B = \frac{\operatorname{tg} a \operatorname{tg} b}{\sin a \sin b} = \frac{1}{\cos a \cos b}$ , или, заменом

$$\cos a \cos b \text{ са } \cos c \text{ (1): } \operatorname{tg} A \cdot \operatorname{tg} B = \frac{1}{\cos c}$$

или  $\cos c = \operatorname{cotg} A \operatorname{cotg} B$ ;

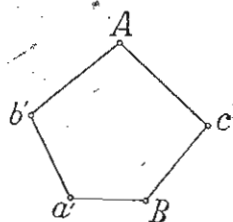
$$6) \text{ Из } \cos B = \frac{\operatorname{tg} a}{\operatorname{tg} c} + \frac{\cos a}{\sin c} = \frac{\sin a}{\sin c} \cdot \frac{\cos a}{\cos a}$$

заменом  $\frac{\sin a}{\sin c}$  са  $\sin A$  и (2)  $\frac{\cos c}{\cos a}$  са  $\cos b$  (1),

имамо:  $\cos B = \sin A \cdot \cos b$ .

Ако у горњим обрасцима узмемо у поступак не катете  $a$  и  $b$ , већ њихове комплементе  $a'$  и  $b'$ , добијамо *Неперове* *обрасце*:

- 1)  $\cos c = \sin b' \cdot \sin a'$ ; 2)  $\cos b' = \sin B \cdot \sin c$ ;
- 3)  $\cotg a' = \cos B \cdot \tg c$ , или  $\cos B = \cotg a' \cdot \cotg c$ ;
- 4)  $\cotg a' = \tg A \cdot \cos b'$ , или  $\cos b' = \cotg a' \cdot \cotg A$ ;
- 5)  $\cos c = \cotg A \cdot \cotg B$ ; и 6)  $\cos B = \sin A \cdot \sin b'$ .



Сл. 64

Ове обрасце можемо лако упамтити, ако елементе сферног троугла  $ABC$  (сл. 63), осим угла  $C$ , поредимо по теменима једног петоугаоника, замењујући катете  $a$  и  $b$  са њиховим комплементима  $a'$  и  $b'$ . Така *Неперово* *правило* гласи: *косинус* *ма* *ког* *елемента* *једнак* *је* *производу* *синуса* *одвојених* *елемената*, *или* *производу* *котангенса* *налеглих* *елемената*.

*Напомена*: Лако је увидети да *Неперово* *правило* *вреди* *и* *кад* *су* *елементи* *сферног* *троугла*  $ABC$ , осим  $C$ , већи од  $90^\circ$ . Тако, ако су елементи  $b$  и  $c$  већи од  $90^\circ$  (сл. 65), онда је из *успоредног* *сферног* *троугла*  $A'BC$ :

- 1)  $\cos(180^\circ - c) = \cos(180^\circ - b) \cos a$ , или  $\cos c = \cos b \cdot \cos a$ .
- 2)  $\sin a = \sin A \cdot \sin(180^\circ - c)$ , или  $\sin a = \sin A \cdot \sin c$ ;
- 3)  $\tg(180^\circ - b) = \cos A \cdot \tg(180^\circ - c)$ , или  $\tg b = \cos A \cdot \tg c$  итд.

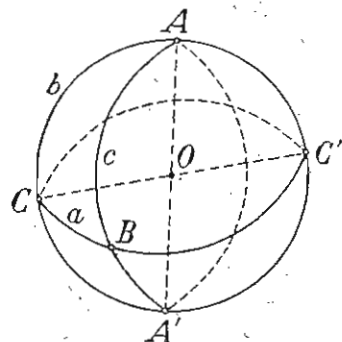
Ово *правило* *важи* *и* *кад*  $r \neq 1$ .

### § 33. Случајеви решавања правоуглог троугла

*Први случај*. — *Дана* *је* *хипотенуза*  $c$  *и* *једна* *катета*, *нпр.*  $a$ ; *наћи* *остале* *елементе*:  $b$ ,  $A$  *и*  $B$ . Из  $\cos c = \sin b' \sin a'$ ,  $\cos a' = \sin c \sin A$  *и*  $\cos B = \cotg a' \cotg c$  (сл. 64), или  $\cos c = \cos b \cos a$ ,  $\sin a = \sin c \sin A$  *и*  $\cos B = \tg a \cdot \cotg c$  имамо:

- (1)  $\cos b = \frac{\cos c}{\cos a}$ ; 2)  $\sin A = \frac{\sin a}{\sin c}$ ; и 3)  $\cos B = \frac{\tg a}{\tg c}$ .

Како за  $A$  из (2) добијамо две вредности, оштар и туп



Сл. 65

угао, на први поглед изгледао би задатак неодређен. Међутим ова сумња отпада, јер се за  $A$  узима вредност  $\geq 90^\circ$ , према томе дали је  $a \geq 90^\circ$ .

*Бројни пример*:  $c = 63^\circ 29' 35''$ ,  $a = 33^\circ 39' 15''$ .

- 1)  $\cos b = \frac{\cos c}{\cos a} = \frac{\cos 63^\circ 29' 35''}{\cos 33^\circ 39' 15''}$ ;  $\log \cos b = \log \cos 63^\circ 29' 35'' - \log \cos 33^\circ 39' 15'' = 1,64963 - 1,92033 = 1,72930$ ;  
 $b = \text{arc-у}$  чији је  $\log \cos 1,72930 = 57^\circ 34' 36''$ .
- 2)  $\sin A = \frac{\sin a}{\sin c} = \frac{\sin 33^\circ 39' 15''}{\sin 63^\circ 29' 35''}$ ;  $\log \sin A = \log \sin 33^\circ 39' 15'' - \log \sin 63^\circ 29' 35'' = 1,74365 - 1,95177 = 1,79188$ ;  
 $A = \text{arc-у}$  чији је  $\log \sin 1,79188 = 38^\circ 15' 45''$ .
- 3)  $\cos B = \frac{\tg a}{\tg c} = \frac{\tg 33^\circ 39' 15''}{\tg 63^\circ 29' 35''}$ ;  $\log \cos B = \log \tg 33^\circ 39' 15'' - \log \tg 63^\circ 29' 35'' = 1,82332 - 0,30213 = 1,52119$ ;  
 $B = \text{arc-у}$  чији је  $\log \cos 1,52119 = 70^\circ 36' 27''$ .

*Други случај*. — *Дана* *је* *хипотенуза*  $c$  *и* *један* *налегли* *угао*, *нпр.* *угао*  $A$ ; *наћи* *остале* *елементе*:  $a$ ,  $b$  *и*  $B$ .

Из  $\cos a' = \sin A \cdot \sin c$ ,  $\cos c = \cotg A \cdot \cotg B$  *и*  $\cos A = \cotg b' \cdot \cotg c$  (сл. 64), или  $\sin a = \sin A \cdot \sin c$ ,  $\cos c = \cotg A \cdot \cotg B$  *и*  $\cos A = \tg b \cdot \cotg c$  имамо:

- 1)  $\sin a = \sin A \cdot \sin c$ ; 2)  $\cotg B = \cos c \cdot \tg A$ ; и 3)  $\tg b = \cos A \cdot \tg c$ .
- Бројни пример*:  $c = 63^\circ 29' 35''$ ,  $A = 38^\circ 15' 45''$ .
- 1)  $\sin a = \sin A \cdot \sin c = \sin 38^\circ 15' 45'' \cdot \sin 63^\circ 29' 35''$ ;  $\log \sin a = 1,74365$ ;  
 $a = \text{arc-у}$  чији је  $\log \sin 1,74365 = 33^\circ 39' 15''$ .
  - 2)  $\cotg B = \cos c \cdot \tg A = \cos 63^\circ 29' 35'' \cdot \tg 38^\circ 15' 45''$ ;  $\log \cotg B = 1,54653$ ;  
 $B = \text{arc-у}$  чији је  $\log \cotg 1,54653 = 70^\circ 36' 27''$ .
  - 3)  $\tg b = \cos A \cdot \tg c = \cos 38^\circ 15' 45'' \cdot \tg 63^\circ 29' 35''$ ;  $\log \tg b = 0,19710$ ;  
 $b = \text{arc-у}$  чији је  $\log \tg 0,19710 = 57^\circ 34' 36''$ .

*Трећи случај*. — *Дане* *су* *катете*  $a$  *и*  $b$ ; *наћи* *остале* *елементе*:  $c$ ,  $A$  *и*  $B$ .

Из  $\cos c = \sin a' \sin b'$ ,  $\cos b' = \cotg A \cdot \cotg a'$  *и*  $\cos a' = \cotg B \cotg b'$  (сл. 64), или  $\cos c = \cos a \cos b$ ,  $\sin b = \cotg A \cdot \tg a$  *и*  $\sin a = \cotg B \tg b$  имамо:

- 1)  $\cos c = \cos a \cos b$ ; 2)  $\cotg A = \sin b \cdot \cotg a$ ; и 3)  $\cotg B = \sin a \cdot \cotg b$ .

*Бројни пример*.  $a = 127^\circ 56' 33''$ ,  $b = 63^\circ 15' 48''$ .

- 1)  $\cos c = \cos a \cos b = \cos 127^\circ 56' 33'' \cdot \cos 63^\circ 15' 48'' = -\cos 52^\circ 3' 27'' \cdot \cos 63^\circ 15' 48''$ , што значи да је  $c$  туп угао, пошто је вредност његовог косинуса негативна. Ако је  $c'$  његов суплементни, онда је:  
 $\cos c = \cos(180^\circ - c') = -\cos c' = -\cos 52^\circ 3' 27'' \cdot \cos 63^\circ 15' 48''$ ,  
или  $\cos c' = \cos 52^\circ 3' 27'' \cdot \cos 63^\circ 15' 48''$ .

$$\log \cos c' = \log \cos 52^\circ 3' 27'' + \log \cos 63^\circ 15' 48'' = \bar{1},44189;$$

$$c' = \text{arc-у чиији је } \log \cos \bar{1},44189 = 73^\circ 56' 28'', \text{ а}$$

$$c = 180^\circ - c' = 106^\circ 3' 32''.$$

$$2) \cotg A = \sin b \cotg a = \sin 63^\circ 15' 48'' \cdot \cotg 127^\circ 56' 33'' =$$

$$= -\sin 63^\circ 15' 48'' \cdot \cotg 52^\circ 3' 27'', \text{ што значи да је } A > 90^\circ.$$

Ако је његов суплементни угао  $A'$ , онда је  $\cotg A = \cotg (180^\circ - A') = -\cotg A' = -\sin 63^\circ 15' 48'' \cdot \cotg 52^\circ 3' 27''$ , или  $\cotg A' = \sin 63^\circ 15' 48'' \cdot \cotg 52^\circ 3' 27''$ .

$$\log \cotg A' = \log \sin 63^\circ 15' 48'' + \log \cotg 52^\circ 3' 27'' =$$

$$= \bar{1},95089 + \bar{1},89191 = \bar{1},84280;$$

$A' = \text{arc-у чиији је } \log \cotg \bar{1},84280 = 55^\circ 9'$ , а

$$A = 180^\circ - A' = 124^\circ 51'.$$

$$3) \cotg B = \sin a \cdot \cotg b = \sin 127^\circ 56' 33'' \cdot \cotg 63^\circ 15' 48'' =$$

$$= \sin 52^\circ 3' 27'' \cdot \cotg 63^\circ 15' 48'';$$

$\log \cotg B = \bar{1},59909$ ;  $B = \text{arc-у чиији је } \log \cotg \bar{1},59909 = 68^\circ 20'$ .

**Четврти случај.** Дата је једна катета, на пр. катета  $b$  и налегли угао  $A$ ; наћи остале елементе:  $a$ ,  $c$  и  $B$ .

Из  $\cos B = \sin b \cdot \sin A$ ,  $\cos A = \cotg b \cdot \cotg c$  и  $\cos b' = \cotg A \cotg a'$  (сл. 64), или  $\cos B = \cos b \sin A$ ,  $\cos A = \tg b \cotg c$  и  $\sin b = \cotg A \cdot \tg a$  имамо: 1)  $\cos B = \cos b \sin A$ ; 2)  $\cotg c = \cos A \cdot \cotg b$ ; и 3)  $\tg a = \sin b \cdot \tg A$ .

Бројни пример:  $b = 63^\circ 15' 48''$ ,  $A = 124^\circ 51'$ .

$$1) \cos B = \cos b \sin A = \cos 63^\circ 15' 48'' \cdot \sin 124^\circ 51' =$$

$$= \cos 63^\circ 15' 48'' \cdot \sin 55^\circ 9'; \log \cos B = \bar{1},56727;$$

$$B = \text{arc-у чиији је } \log \cos \bar{1},56727 = 68^\circ 20'.$$

$$2) \cotg c = \cos A \cdot \cotg b \cotg c = \cos 124^\circ 51' \cdot \cotg 63^\circ 16' 48'' =$$

$$= -\cos 55^\circ 9' \cdot \cotg 63^\circ 15' 48'', \text{ што значи да је } c > 90^\circ,$$

пошто је вредност његовог котангенса негативна. Ако је  $c'$  његов суплементни, онда је  $\cotg c = \cotg (180^\circ - c') = -\cotg c' = -\cos 55^\circ 9' \cdot \cotg 63^\circ 15' 48''$ , или  $\cotg c' = \cos 55^\circ 9' \cdot \cotg 63^\circ 15' 48''$ .  $\log \cotg c' = \bar{1},45917$ ;  $c' = \text{arc-у чиији је } \log \cotg \bar{1},45917 = 73^\circ 56' 28''$ , а  $c = 180^\circ - c' = 106^\circ 3' 32''$ .

$$3) \tg a = \sin b \cdot \tg A = \sin 63^\circ 15' 48'' \cdot \tg 124^\circ 51' = -\sin 63^\circ 15' 48'' \cdot$$

$$\cdot \tg 55^\circ 9'; \text{ што показује да је } a > 90^\circ. \text{ Ако је његов суплементни } a', \text{ онда је } \tg a = \tg (180^\circ - a') = -\tg a' =$$

$$= -\sin 63^\circ 15' 48'' \cdot \tg 55^\circ 9', \text{ или } \tg a' = \sin 63^\circ 15' 48'' \cdot \tg 55^\circ 9';$$

$$\log \tg a' = 0,10809; a' = \text{arc-у чиији је } \log \tg 0,10809 =$$

$$= 52^\circ 3' 27'', \text{ а } a = 127^\circ 56' 33''.$$

**Пети случај.** Дати су углови  $A$  и  $B$ ; наћи остале елементе:  $a$ ,  $b$  и  $c$ .

Из  $\cos c = \cotg A \cdot \cotg B$ ,  $\cos B = \sin A \cdot \sin b'$  и  $\cos A = \sin B \cdot \sin a'$  (сл. 64), или  $\cos c = \cotg A \cdot \cotg B$ ,  $\cos B = \sin A \cos b$  и  $\cos A = \sin B \cos a$  имамо:

$$1) \cos c = \cotg A \cdot \cotg B; 2) \cos b = \frac{\cos B}{\sin A}; \text{ и } 3)$$

$$\cos a = \frac{\cos A}{\sin B}.$$

Бројни пример.  $A = 83^\circ 48' 12''$ ,  $B = 65^\circ 55' 55''$ .

$$1) \cos c = \cotg 83^\circ 48' 12'' \cdot \cotg 65^\circ 55' 55''; \log \cos c = \bar{2},68580;$$

$$c = \text{arc-у чиији је } \log \cos \bar{2},68580 = 87^\circ 13' 11''.$$

$$2) \cos b = \frac{\cos 65^\circ 55' 55''}{\sin 83^\circ 48' 12''}; \log \cos b = \log \cos 65^\circ 55' 55'' - \log \sin$$

$$83^\circ 48' 12'' = \bar{1},61047 - \bar{1},99745 = \bar{1},61302;$$

$$b = \text{arc-у чиији је } \log \cos \bar{1},61302 = 65^\circ 46' 51''.$$

$$3) \cos a = \frac{\cos 83^\circ 48' 12''}{\sin 65^\circ 55' 55''}; \log \cos a = \bar{1},07269;$$

$a = \text{arc-у чиији је } \log \cos \bar{1},07269 = 83^\circ 12' 38''$ .

**Шести случај.** — Дата је једна катета и њен супротни угао; наћи  $b$  и  $B$ ; наћи остале елементе:  $c$ ,  $A$  и  $a$ .

Из  $\cos a' = \cotg B \cdot \cotg b'$ ,  $\cos B = \sin b' \sin A$  и  $\cos b' = \sin B \cdot \sin c$  (сл. 64), или  $\sin a = \cotg B \cdot \tg b$ ,  $\cos B = \cos b \cdot \sin A$  и  $\sin b = \sin B \cdot \sin c$  имамо:

$$1) \sin a = \cotg B \cdot \tg b; 2) \sin A = \frac{\cos B}{\cos b}; \text{ и } 3) \sin c = \frac{\sin b}{\sin B}.$$

Како непознате елементе овога задатка налазимо само помоћу синуса, а свакоме синусу одговарају два разна угла, од којих је један оштар а други туп, то овај задатак уопште има два решења. Само у извесним случајевима задатак нема ни једног решења, или има само једно решење. Задатак биће немогућ, ако дати елементи  $b$  и  $B$  нису оба једновремено већи, једнаки, или мањи од  $90^\circ$ , о чему се можемо уверити из

$\sin A = \frac{\cos B}{\cos b}$  на следећи начин. — Угао  $A$ , као и сваки угао

сферног троугла, мањи је од  $180^\circ$ , те му је синус позитиван ( $\sin A > 0$ ). Тада и  $\cos B$  и  $\cos b$  морају бити истога знака, оба позитивна; или оба негативна. Ако су обе функције позитивне, значи да су углови  $B$  и  $b$  оштри, тј.  $B < 90^\circ$  и  $b < 90^\circ$ . Ако су обе функције негативне, значи да су углови  $B$  и  $b$  тупи, тј.  $B > 90^\circ$ , и  $b > 90^\circ$ .

Задатак има само једно решење у ова два случаја: 1) Кад је  $B < 90^\circ$ , или  $B + C < 180^\circ$ , онда и  $b + c < 180^\circ$ , те од

оне две вредности за  $c$  из  $\sin c = \frac{\sin b}{\sin B}$  узимамо само ону за коју је  $b + c < 180^\circ$ ; 2) Кад је  $B > 90^\circ$ , или  $B + C > 180^\circ$ , онда је и  $b + c > 180^\circ$ , те од оне вредности за  $c$  узимамо само ону за коју је  $b + c > 180^\circ$ .

Ако је  $B = 90^\circ$ , онда је и  $b = 90^\circ$ , те је из  $\sin c = \frac{\sin b}{\sin B} = 1$ , а  $c = 90^\circ$ . Тада је из 6 Неперовог обрасца и  $\cos A = \cos a$ , а овим и  $A = a$ , што значи да у правоуглом троуглу са два права угла трећа је страна једнака трећем углу. У овоме случају задатак има бесконачно много решења.

У свима осталим случајевима задатак има два решења.

*Бројни пример.*  $b = 42^\circ 20'$ ,  $B = 65^\circ 30'$ .

$$1) \sin a = \cotg B \cdot \operatorname{tg} b = \cotg 65^\circ 30' \cdot \operatorname{tg} 42^\circ 20'; \log \sin a = \log \cotg 65^\circ 30' + \log \operatorname{tg} 42^\circ 20' = \bar{1},65870 + \bar{1},95952 = \bar{1},61822;$$

$$a_1 = \text{arc-у чији је } \log \sin \bar{1},61822 = 24^\circ 31' 47'';$$

$$a_2 = 180^\circ - a_1 = 155^\circ 28' 13''.$$

$$2) \sin A = \frac{\cos B}{\cos b} = \frac{\cos 65^\circ 30'}{\cos 42^\circ 20'}; \log \sin A = \log \cos 65^\circ 30' - \log \cos 42^\circ 20' = \bar{1},61773 - \bar{1},86879 = \bar{1},74894;$$

$$A_1 = \text{arc-у чији је } \log \sin \bar{1},74894 = 34^\circ 7' 22'';$$

$$A_2 = 180^\circ - A_1 = 145^\circ 52' 38''.$$

$$3) \sin c = \frac{\sin b}{\sin B} = \frac{\sin 42^\circ 20'}{\sin 65^\circ 30'}; \log \sin c = \log \sin 42^\circ 20' - \log \sin 65^\circ 30' = \bar{1},82830 - \bar{1},95902 = \bar{1},86928;$$

$$c_1 = \text{arc-у чији је } \log \sin \bar{1},86928 = 47^\circ 44' 20''.$$

$$c_2 = 180^\circ - c_1 = 132^\circ 15' 40''.$$

**Задаци за вежбу.** Решити правоугли сферни троугао  $ABC$ , са правим углом код  $C$ , кад је:

$$1) a = 43^\circ 18' 45'', \quad b = 48^\circ 15' 20'';$$

$$2) c = 70^\circ 35' 40'', \quad B = 42^\circ 7' 18'';$$

$$3) b = 52^\circ 53' 54'', \quad A = 78^\circ 45' 40'';$$

$$4) A = 51^\circ 17' 50'', \quad B = 68^\circ 54' 25'';$$

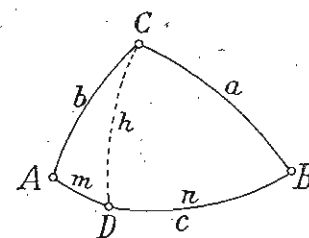
$$5) c = 105^\circ 10' 30'', \quad a = 121^\circ 48' 28'';$$

$$6) a = 54^\circ 20' 40'', \quad A = 59^\circ 37' 50''.$$

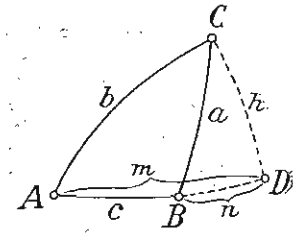
## II. Решавање косоуглог сферног троугла\*

### § 34. Теореме и обрасци о косоуглом сферном троуглу

**I. Синусна теорема:** У сваком сферном троуглу имају се синуси страна као што се имају синуси њихових супротних углова. Нека је  $ABC$  (сл. 66 или 67) један косоугли сферни



Сл. 66



Сл. 67

троугао. Ако кроз теме  $C$  повучемо лук  $CD = h$  управно на  $AB$ , а припада једном главном лоптином кругу, онда се дати сферни троугао дели на правоугле сферне троугле:  $ACD$  и  $BCD$  са правим угловима код  $D$ . Тада је по Неперовом правилу:

Из троугла  $ACD$ :  $\cos h' = \sin A \cdot \sin b$ , или  $\sin h = \sin A \cdot \sin b$  (1), а из троугла  $BCD$ :  $\cos h' = \sin B \cdot \sin a$ , или  $\sin h = \sin B \cdot \sin a$  (2).

Стога је:  $\sin A \cdot \sin b = \sin B \cdot \sin a$ , или

$$\sin a : \sin b = \sin A : \sin B \quad (I)$$

Истим путем нашли бисмо да је:

$$\sin a : \sin c = \sin A : \sin C \quad (II) \text{ и}$$

$$\sin b : \sin c = \sin B : \sin C \quad (III).$$

Из пропорција I, II и III имамо:

$$\sin a : \sin b : \sin c = \sin A : \sin B : \sin C,$$

чиме је ова теорема доказана.

**Примена синусне теореме.** Ова теорема примењује се при решавању косоуглог сферног троугла у ова два случаја:

1) Кад су дате две стране и један угао наспрам једне од тих страна, а тражи се угао наспрам друге стране; и 2) Кад су дата два угла и страна наспрам једног од тих углова, а тражи се страна наспрам другог угла. Тако ако знамо:

1,  $a$ ,  $b$  и  $A$  а тражи се  $B$ , онда је:

$$\sin a : \sin b = \sin A : \sin B, \text{ а одавде је } \sin B = \frac{\sin b \cdot \sin A}{\sin a};$$

3.  $A$ ,  $B$  и  $a$ , а тражи се  $b$ , онда је:

$$\sin a : \sin b = \sin A : \sin B, \text{ а одавде је } \sin b = \frac{\sin a \sin B}{\sin A}.$$

**II. Косинусна теорема:** У сваком сферном троуглу је косинус једне стране једнак производу косинуса осталих двеју страна више производу синуса тих страна помножен косинусом захваћеног угла.

\* За ученике реалке.

Из правоуглог троугла  $BCD$  (сл. 66 и 67), према Неперовом правилу, имамо:

$$\cos a = \sin h' \cdot \sin n', \text{ или } \cos a = \cos h \cdot \cos n \dots (1)$$

Па како је  $n = c - m$  (сл. 66), а  $n = m - c$  (сл. 67), то је у оба случаја  $\cos n = \cos c \cos m + \sin c \sin m$ . Заменом у (1) добијамо:

$$\cos a = \cos h (\cos c \cos m + \sin c \sin m \dots (2).$$

Међутим, из правоуглог троугла  $ACD$ , према Неперовом правилу, имамо:

$$a) \cos b = \sin h' \sin m' \text{ или } \cos b = \cos h \cos m; \text{ и}$$

$$b) \cos A = \cotg m' \cotg b, \text{ или } \cos A = \tg m \cotg b \text{ или } \tg m = \cos A \tg b.$$

Множењем једначине  $\cos h \cos m = \cos b$  и  $\tg m = \cos A \tg b$  добијамо:

$$\cos h \cos m \cdot \tg m = \cos A \tg b \cos b, \text{ или } \cos h \sin m = \cos A \sin b.$$

Заменом у (2)  $\cos h \cos m$  са  $\cos b$  и  $\cos h \sin m$  са  $\sin b \cos A$  добијамо:

$$\cos a = \cos b \cos c + \sin b \sin c \cos A,$$

чиме је ова теорема доказана.

Истим путем нашли бисмо да је:

$$\cos b = \cos a \cos c + \sin a \sin c \cos B \text{ и}$$

$$\cos c = \cos a \cos b + \sin a \sin b \cos C.$$

**Примена косинусне теореме.** Ова теорема примењује се при решавању сферног троугла у ова два случаја: 1) кад су дате две стране и захваћени угао, а тражи се трећа страна; и 2) да израчунамо углове троугла, ако су познате стране. Тако, ако знамо:

1)  $a$ ;  $b$  и  $C$ , онда је  $\cos c = \cos a \cos b + \sin a \sin b \cos C$ ;

2)  $a$ ,  $b$  и  $c$ , онда је:  $\cos A = \frac{\cos a - \cos b \cos c}{\sin b \sin c}$ ,

$$\cos B = \frac{\cos b - \cos a \cos c}{\sin a \sin c} \text{ и } \cos C = \frac{\cos c - \cos a \cos b}{\sin a \sin b}.$$

**III. Косинусна теорема за углове гласи:** У сваком сферном троуглу је косинус једног угла једнак негативном производу косинуса осталих углова више производу синуса тих углова помнажен косинусом стране на којој се ти углови налазе.

Ова теорема у формули је:

$$\cos A = -\cos B \cos C + \sin B \sin C \cos a,$$

$$\cos B = -\cos A \cos C + \sin A \sin C \cos b,$$

$$\cos C = -\cos A \cos B + \sin A \sin B \cos c,$$

а изводи се из косинусне теореме за стране узимајући у по-

ступак поларни троугао троуглу  $ABC$ ; чије су стране  $180^\circ - A$ ,  $180^\circ - B$  и  $180^\circ - C$ , а углови:  $180^\circ - a$ ,  $180^\circ - b$  и  $180^\circ - c$ . Тако, из  $\cos a = \cos b \cos c + \sin b \sin c \cos A$ , имамо:

$$\cos (180^\circ - A) = \cos (180^\circ - B) \cos (180^\circ - C) + \sin (180^\circ - B) \cdot \sin (180^\circ - C) \cos (180^\circ - a),$$

или

$$-\cos A = \cos B \cos C - \sin B \sin C \cos a, \text{ или } \cos A = -\cos B \cos C + \sin B \sin C \cos a.$$

Ова се теорема примењује при решавању сферног троугла у ова два случаја:

1) да нађемо трећи угао, ако су позната два угла и страна на којој се они налазе;

2) да нађемо стране, ако су познати углови, јер је:

$$\cos a = \frac{\cos A + \cos B \cos C}{\sin B \sin C}, \cos b = \frac{\cos B + \cos A \cos C}{\sin A \sin C} \text{ и}$$

$$\cos c = \frac{\cos C + \cos A \cos B}{\sin A \sin B}.$$

#### IV. Образац за израчунавање углова помоћу страна

Ове образце добијамо из образаца косинусне теореме, а у вези образаца за полууглове (§ 15). Тако, из  $\cos a = \cos b \cos c + \sin b \sin c \cos A$  имамо:

$$\cos A = \frac{\cos a - \cos b \cos c}{\sin b \sin c}.$$

Стога је:

$$\begin{aligned} a) 1 - \cos A &= 1 - \frac{\cos a - \cos b \cos c}{\sin b \sin c} = \\ &= \frac{\sin b \sin c + \cos b \cos c - \cos a}{\sin b \sin c} = \frac{\cos(b-c) - \cos a}{\sin b \sin c} = \\ &= \frac{-2 \sin \frac{a+b-c}{2} \sin \frac{b-c-a}{2}}{\sin b \sin c} = \\ &= \frac{2 \sin \frac{a+b-c}{2} \sin \frac{a+c-b}{2}}{\sin b \sin c}; \text{ и} \end{aligned}$$

$$\begin{aligned} b) 1 + \cos A &= 1 + \frac{\cos a - \cos b \cos c}{\sin b \sin c} = \\ &= \frac{\sin b \sin c - \cos b \cos c + \cos a}{\sin b \sin c} = \\ &= \frac{\cos a - \cos(b+c)}{\sin b \sin c} = \frac{-2 \sin \frac{a+b+c}{2} \sin \frac{a-b-c}{2}}{\sin b \sin c} \end{aligned}$$

$$= \frac{2 \sin \frac{a+b+c}{2} \sin \frac{b+c-a}{2}}{\sin b \sin c}$$

Па како је, по § 15;  $1 - \cos A = 2 \sin^2 \frac{A}{2}$  и  $1 + \cos A = 2 \cos^2 \frac{A}{2}$ , то заменом у (a) и (b) добијамо:

$$\sin^2 \frac{A}{2} = \frac{\sin \frac{1}{2}(a+b-c) \sin \frac{1}{2}(a-b+c)}{\sin b \sin c} \text{ и}$$

$$\cos^2 \frac{A}{2} = \frac{\sin \frac{1}{2}(a+b+c) \sin \frac{1}{2}(b+c-a)}{\sin b \sin c}, \text{ или}$$

$$\sin \frac{A}{2} = \sqrt{\frac{\sin \frac{1}{2}(a+b-c) \sin \frac{1}{2}(a-b+c)}{\sin b \sin c}} \text{ и}$$

$$\cos \frac{A}{2} = \sqrt{\frac{\sin \frac{1}{2}(a+b+c) \sin \frac{1}{2}(b+c-a)}{\sin b \sin c}}$$

Дељењем ових двеју једначина добијамо:

$$\operatorname{tg} \frac{A}{2} = \sqrt{\frac{\sin \frac{1}{2}(a+b-c) \sin \frac{1}{2}(a-b+c)}{\sin \frac{1}{2}(a+b+c) \sin \frac{1}{2}(b+c-a)}}$$

Ако заменимо  $a+b+c=2s$ ,  $a-b+c=2(s-b)$ ,  $a+b-c=2(s-c)$  и  $b+c-a=2(s-a)$ , добијамо:

$$\operatorname{tg} \frac{A}{2} = \sqrt{\frac{\sin(s-b) \sin(s-c)}{\sin s \sin(s-a)}}. \text{ Слично овоме је:}$$

$$\operatorname{tg} \frac{B}{2} = \sqrt{\frac{\sin(s-a) \sin(s-c)}{\sin s \sin(s-b)}} \text{ и } \operatorname{tg} \frac{C}{2} = \sqrt{\frac{\sin(s-a) \sin(s-b)}{\sin s \sin(s-c)}}$$

Ови су обрасци најподеснији за израчунавање углова сферног троугла, ако су нам познате његове стране.

#### V. Обрасци за израчунавање страна помоћу углова

И ове обрасце изводимо на исти начин као и обрасце под IV, само с том разликом што овде узимамо у поступак обрасце под III и што замењујемо:  $A+B+C=2S$ ,  $A+B-C=2(S-C)$ ,  $A-B+C=2(S-B)$  и  $B+C-A=2(S-A)$ , тиме добијамо:

$$\left. \begin{aligned} \frac{a}{2} &= \sqrt{\frac{-\cos S \cos(S-A)}{\sin B \sin C}}, \\ \frac{b}{2} &= \sqrt{\frac{-\cos S \cos(S-B)}{\sin A \sin C}}, \\ \frac{c}{2} &= \sqrt{\frac{-\cos S \cos(S-C)}{\sin A \sin B}}, \end{aligned} \right\} \text{(a)}$$

$$\left. \begin{aligned} \cos \frac{a}{2} &= \sqrt{\frac{\cos(S-B) \cos(S-C)}{\sin B \sin C}}, \\ \cos \frac{b}{2} &= \sqrt{\frac{\cos(S-A) \cos(S-C)}{\sin A \sin C}}, \\ \cos \frac{c}{2} &= \sqrt{\frac{\cos(S-A) \cos(S-B)}{\sin A \sin B}}, \end{aligned} \right\} \text{(b)}$$

$$\left. \begin{aligned} \operatorname{tg} \frac{a}{2} &= \sqrt{\frac{-\cos S \cos(S-A)}{\cos(S-B) \cos(S-C)}}, \\ \operatorname{tg} \frac{b}{2} &= \sqrt{\frac{-\cos S \cos(S-B)}{\cos(S-A) \cos(S-C)}}, \\ \operatorname{tg} \frac{c}{2} &= \sqrt{\frac{-\cos S \cos(S-C)}{\cos(S-A) \cos(S-B)}} \end{aligned} \right\} \text{(c)}$$

#### VI. Гаусове једначине

Ако у једначинама:

$$\sin \frac{1}{2}(A+B) = \sin \frac{A}{2} \cos \frac{B}{2} \pm \cos \frac{A}{2} \sin \frac{B}{2},$$

$$\cos \frac{1}{2}(A+B) = \cos \frac{A}{2} \cos \frac{B}{2} \mp \sin \frac{A}{2} \sin \frac{B}{2},$$

заменимо  $\sin \frac{A}{2}$ ,  $\cos \frac{A}{2}$ ,  $\sin \frac{B}{2}$  и  $\cos \frac{B}{2}$  њиховим вредностима израчунатим код IV под a) и b), добијамо: -

$$\begin{aligned} \text{a) } \sin \frac{1}{2}(A+B) &= \sqrt{\frac{\sin(s-b) \sin(s-c)}{\sin b \sin c}} \cdot \sqrt{\frac{\sin s \sin(s-b)}{\sin a \sin c}} + \\ &+ \sqrt{\frac{\sin s \sin(s-a)}{\sin b \sin c}} \cdot \sqrt{\frac{\sin(s-a) \sin(s-c)}{\sin a \sin c}} = \\ &= \frac{\sin(s-b)}{\sin c} \sqrt{\frac{\sin s \sin(s-c)}{\sin a \sin b}} + \frac{\sin(s-a)}{\sin c} \sqrt{\frac{\sin s \sin(s-c)}{\sin a \sin b}} = \\ &= \frac{\sin(s-a) + \sin(s-b)}{\sin c} \cdot \sqrt{\frac{\sin s \sin(s-c)}{\sin a \sin b}} = \\ &= \frac{2 \sin \frac{2s-a-b}{2} \cos \frac{a-b}{2}}{2 \sin \frac{c}{2} \cos \frac{c}{2}} \cdot \cos \frac{C}{2} = \end{aligned}$$

$$= \frac{2 \sin \frac{c}{2} \cos \frac{a-b}{2}}{2 \sin \frac{c}{2} \cos \frac{c}{2}} \cdot \cos \frac{C}{2} = \frac{\cos \frac{a-b}{2}}{\cos \frac{c}{2}} \cdot \cos \frac{C}{2}.$$

Истим путем нашли бисмо:

$$\begin{aligned} \text{b) } \sin \frac{1}{2}(A-B) &= \frac{\sin \frac{a-b}{2}}{\sin \frac{c}{2}} \cdot \cos \frac{C}{2}; \text{ c) } \cos \frac{1}{2}(A+B) = \\ &= \frac{\cos \frac{a+b}{2}}{\cos \frac{c}{2}} \cdot \sin \frac{C}{2}; \text{ и d) } \cos \frac{1}{2}(A-B) = \frac{\sin \frac{a+b}{2}}{\sin \frac{c}{2}} \cdot \sin \frac{C}{2}. \end{aligned}$$

Гаусове једначине јесу, дакле:

$$a) \sin \frac{1}{2} (A + B) \cos \frac{c}{2} = \cos \frac{a-b}{2} \cdot \cos \frac{C}{2},$$

$$\sin \frac{1}{2} (A + C) \cos \frac{b}{2} = \cos \frac{a-c}{2} \cdot \cos \frac{B}{2},$$

$$\sin \frac{1}{2} (B + C) \cos \frac{a}{2} = \cos \frac{b-c}{2} \cdot \cos \frac{A}{2}.$$

$$b) \sin \frac{1}{2} (A - B) \cdot \sin \frac{c}{2} = \sin \frac{a-b}{2} \cdot \cos \frac{C}{2},$$

$$\sin \frac{1}{2} (A - C) \cdot \sin \frac{b}{2} = \sin \frac{a-c}{2} \cdot \cos \frac{B}{2},$$

$$\sin \frac{1}{2} (B - C) \cdot \sin \frac{a}{2} = \sin \frac{b-c}{2} \cdot \cos \frac{A}{2}.$$

$$c) \cos \frac{1}{2} (A + B) \cos \frac{c}{2} = \cos \frac{a+b}{2} \sin \frac{C}{2},$$

$$\cos \frac{1}{2} (A + C) \cos \frac{b}{2} = \cos \frac{a+c}{2} \sin \frac{B}{2},$$

$$\cos \frac{1}{2} (B + C) \cos \frac{a}{2} = \cos \frac{b+c}{2} \sin \frac{A}{2}.$$

$$d) \cos \frac{1}{2} (A - B) \sin \frac{c}{2} = \sin \frac{a+b}{2} \sin \frac{C}{2},$$

$$\cos \frac{1}{2} (A - C) \cdot \sin \frac{b}{2} = \sin \frac{a+c}{2} \sin \frac{B}{2},$$

$$\cos \frac{1}{2} (B - C) \sin \frac{a}{2} = \sin \frac{b+c}{2} \sin \frac{A}{2}.$$

### VII. Неперове аналогije (једначине)

Ове једначине добијамо дељењем Гаусових једначина, и то:

а) Дељењем једначина под а) и с):

$$\operatorname{tg} \frac{1}{2} (A + B) = \frac{\cos \frac{1}{2} (a - b)}{\cos \frac{1}{2} (a + b)} \cdot \operatorname{cotg} \frac{C}{2},$$

$$\operatorname{tg} \frac{1}{2} (A + C) = \frac{\cos \frac{1}{2} (a - c)}{\cos \frac{1}{2} (a + c)} \operatorname{cotg} \frac{B}{2},$$

$$\operatorname{tg} \frac{1}{2} (B + C) = \frac{\cos \frac{1}{2} (b - c)}{\cos \frac{1}{2} (b + c)} \cdot \operatorname{cotg} \frac{A}{2}.$$

б) Дељењем једначина под б) и д):

$$\operatorname{tg} \frac{1}{2} (A - B) = \frac{\sin \frac{1}{2} (a - b)}{\sin \frac{1}{2} (a + b)} \cdot \operatorname{cotg} \frac{C}{2},$$

$$\operatorname{tg} \frac{1}{2} (A - C) = \frac{\sin \frac{1}{2} (a - c)}{\sin \frac{1}{2} (a + c)} \cdot \operatorname{cotg} \frac{B}{2},$$

$$\operatorname{tg} \frac{1}{2} (B - C) = \frac{\sin \frac{1}{2} (b - c)}{\sin \frac{1}{2} (b + c)} \cdot \operatorname{cotg} \frac{A}{2}.$$

с) Дељењем једначина под д) и с):

$$\operatorname{tg} \frac{a+b}{2} = \frac{\cos \frac{A-B}{2}}{\cos \frac{A+B}{2}} \cdot \operatorname{tg} \frac{c}{2},$$

$$\operatorname{tg} \frac{a+c}{2} = \frac{\cos \frac{A-C}{2}}{\cos \frac{A+C}{2}} \cdot \operatorname{tg} \frac{b}{2},$$

$$\operatorname{tg} \frac{b+c}{2} = \frac{\cos \frac{B-C}{2}}{\cos \frac{B+C}{2}} \cdot \operatorname{tg} \frac{a}{2}.$$

д) Дељењем једначине под б) и а):

$$\operatorname{tg} \frac{a-b}{2} = \frac{\sin \frac{A-B}{2}}{\sin \frac{A+B}{2}} \cdot \operatorname{tg} \frac{c}{2},$$

$$\operatorname{tg} \frac{a-c}{2} = \frac{\sin \frac{A-C}{2}}{\sin \frac{A+C}{2}} \cdot \operatorname{tg} \frac{b}{2},$$

$$\operatorname{tg} \frac{b-c}{2} = \frac{\sin \frac{B-C}{2}}{\sin \frac{B+C}{2}} \cdot \operatorname{tg} \frac{a}{2}.$$

Неперове аналогije примењујемо при решавању сферних троуглова у ова два случаја:

1) Кад су дате две стране и захваћени угао (нпр.  $a$ ,  $b$  и  $C$ ); и

2) Кад је дата једна страна и два налегла угла (нпр.  $c$ ,  $A$  и  $B$ ).

У првом случају најпре израчунавамо збир и разлику осталих углова  $A$  и  $B$  применом образаца:



$$\operatorname{tg} \frac{A+B}{2} = \frac{\cos \frac{a-b}{2}}{\cos \frac{a+b}{2}} \cdot \operatorname{cotg} \frac{C}{2} \text{ и}$$

$$\operatorname{tg} \frac{A-B}{2} = \frac{\sin \frac{a-b}{2}}{\sin \frac{a+b}{2}} \cdot \operatorname{cotg} \frac{C}{2},$$

а затим из обрасца  $\operatorname{tg} \frac{c}{2} = \frac{\sin \frac{A+B}{2}}{\sin \frac{A-B}{2}} \operatorname{tg} \frac{a-b}{2}$  израчунавамо и трећу страну  $c$ .

У другом случају најпре израчунавамо збир и разлику осталих страна  $a$  и  $b$  применом образаца:

$$\operatorname{tg} \frac{a+b}{2} = \frac{\cos \frac{A-B}{2}}{\cos \frac{A+B}{2}} \cdot \operatorname{tg} \frac{c}{2} \text{ и}$$

$$\operatorname{tg} \frac{a-b}{2} = \frac{\sin \frac{A-B}{2}}{\sin \frac{A+B}{2}} \cdot \operatorname{tg} \frac{c}{2},$$

а затим из обрасца  $\operatorname{tg} \frac{C}{2} = \frac{\sin \frac{a-b}{2}}{\sin \frac{a+b}{2}} \cdot \operatorname{cotg} \frac{A-B}{2}$  налазимо и

трећи угао  $C$ .

### § 35. Случајеви решавања косоуглог троугла

**Први случај.** Дате су две стране и угао наспрам једне од тих страна (нпр.  $a$ ,  $b$  и  $A$ ).

Најпре непознати угао  $B$  наспрам друге познате стране налазимо применом синусне теореме, из које је  $\sin B = \frac{\sin b \sin A}{\sin a}$ , а затим, трећи угао  $C$  налазимо применом Неперових једначина под а) или б), из којих је:

$$\operatorname{cotg} \frac{C}{2} = \frac{\cos \frac{a+b}{2}}{\cos \frac{a-b}{2}} \operatorname{tg} \frac{A-B}{2} \text{ или } \operatorname{cotg} \frac{C}{2} = \frac{\sin \frac{a+b}{2}}{\sin \frac{a-b}{2}} \operatorname{tg} \frac{A-B}{2}.$$

Најзад трећу страну  $c$  налазимо опет применом Неперових једначина под с) или д), из којих је:

$$\operatorname{tg} \frac{c}{2} = \frac{\cos \frac{A+B}{2}}{\cos \frac{A-B}{2}} \cdot \operatorname{tg} \frac{a+b}{2}, \text{ или } \operatorname{tg} \frac{c}{2} = \frac{\sin \frac{A+B}{2}}{\sin \frac{A-B}{2}} \operatorname{tg} \frac{a-b}{2}.$$

Па како угао  $B$  израчунавамо најпре помоћу синуса, а познато је да сваком синусу одговарају по две угловне вредности (оштар и туп угао); то код овог случаја можемо за  $B$  добити два решења. Оба решења узимамо у обзир само онда ако су испуњени услови: 1) ако је  $a \geq b$ , треба и  $A \geq B$ , и 2) ако је  $a+b \geq 180^\circ$ , треба  $A+B \geq 180^\circ$ .

*Пример 1.*  $a = 58^\circ 25' 40''$ ,  $b = 42^\circ 19' 35''$ ,  $A = 68^\circ 10' 15''$ .

1) Из  $\sin a : \sin b = \sin A : \sin B$  имамо  $\sin B = \frac{\sin b \cdot \sin A}{\sin a} = \frac{\sin 42^\circ 19' 35'' \cdot \sin 68^\circ 10' 15''}{\sin 58^\circ 25' 40''}$ ;  $\log \sin B = \bar{1}, 86549$ ;

$B_1 = \operatorname{arc-}y$  чији је  $\log \sin \bar{1}, 86549 = 47^\circ 11' 35''$

$B_2 = 180^\circ - B_1 = 132^\circ 48' 25''$ .

Друго решење  $B_2$  не узимамо у обзир, јер је овде  $a+b < 180^\circ$ , а  $A+B_2 > 180^\circ$ .

2)  $\operatorname{cotg} \frac{C}{2} = \frac{\sin \frac{a+b}{2}}{\sin \frac{a-b}{2}} \operatorname{tg} \frac{A-B}{2} = \frac{\sin 50^\circ 22' 37,5'' \cdot \operatorname{tg} 10^\circ 29' 29''}{\sin 8^\circ 3' 2,5''}$ ;

$\log \operatorname{cotg} \frac{C}{2} = 0,00787$ ;  $\frac{C}{2} = 44^\circ 28' 51''$ , а  $C = 88^\circ 57' 42''$ .

3)  $\operatorname{tg} \frac{c}{2} = \frac{\cos \frac{A+B}{2}}{\cos \frac{A-B}{2}} \cdot \operatorname{tg} \frac{a+b}{2} = \frac{\cos 57^\circ 40' 55'' \cdot \operatorname{tg} 50^\circ 22' 37,5''}{\cos 10^\circ 29' 29''}$

$\log \operatorname{tg} \frac{c}{2} = \bar{1}, 81837$ ;  $\frac{c}{2} = 33^\circ 17' 36''$ ;  $c = 66^\circ 35' 12''$ .

*Пример 2.*  $a = 129^\circ 45' 50''$ ,  $b = 81^\circ 28' 20''$ ,  $A = 135^\circ 27' 40''$ .

1)  $\sin B = \frac{\sin b \cdot \sin A}{\sin a} = \frac{\sin 81^\circ 28' 20'' \cdot \sin 135^\circ 27' 40''}{\sin 129^\circ 45' 50''} = \frac{\sin 81^\circ 28' 20'' \cdot \sin 44^\circ 32' 20''}{\sin 50^\circ 14' 10''}$ ;  $\log \sin B = \bar{1}, 95538$ ;

$B_1 = 64^\circ 28' 10''$ ,  $B_2 = 180^\circ - B_1 = 115^\circ 31' 50''$ .

Како је код овог примера  $a + b > 180^\circ$  и  $A + B > 180^\circ$ , то се и друго решење узима у обзир.

а) Тада је за  $B = 64^\circ 28' 10''$ :

$$2) \cotg \frac{C}{2} = \frac{\sin \frac{a+b}{2}}{\sin \frac{a-b}{2}} \cdot \tg \frac{A-B}{2} = \frac{\sin 105^\circ 37' 5'' \cdot \tg 35^\circ 29' 45''}{\sin 24^\circ 8' 45''} =$$

$$= \frac{\sin 74^\circ 22' 55'' \cdot \tg 35^\circ 29' 45''}{\sin 24^\circ 8' 45''}; \log \cotg \frac{C}{2} = 0,22507;$$

$$\frac{C}{2} = 30^\circ 46' 35'', C = 61^\circ 33' 10''.$$

$$3) \tg \frac{c}{2} = \frac{\cos \frac{A+B}{2}}{\cos \frac{A-B}{2}} \cdot \tg \frac{a+b}{2} = \frac{\cos 99^\circ 57' 55'' \cdot \tg 105^\circ 37' 5''}{\cos 35^\circ 29' 45''} =$$

$$= \frac{-\cos 80^\circ 2' 5'' \cdot \tg 74^\circ 22' 55''}{\cos 35^\circ 29' 45''} = \frac{\cos 80^\circ 2' 5'' \cdot \tg 74^\circ 22' 55''}{\cos 35^\circ 29' 45''};$$

$$\log \tg \frac{c}{2} = \bar{1},88101; \frac{c}{2} = 37^\circ 14' 51'', c = 74^\circ 29' 42'' =$$

б) За  $B = 115^\circ 31' 50''$  биће:

$$2) \cotg \frac{C}{2} = \frac{\sin \frac{a+b}{2}}{\sin \frac{a-b}{2}} \cdot \tg \frac{A-B}{2} = \frac{\sin 105^\circ 37' 5'' \cdot \tg 9^\circ 57' 55''}{\sin 24^\circ 8' 45''} =$$

$$= \frac{\sin 74^\circ 22' 55'' \cdot \tg 9^\circ 57' 55''}{\sin 24^\circ 8' 45''}; \log \cotg \frac{C}{2} = \bar{1},61665;$$

$$\frac{C}{2} = 67^\circ 31' 57''; C = 135^\circ 3' 14''.$$

$$3) \tg \frac{c}{2} = \frac{\cos \frac{A+B}{2}}{\cos \frac{A-B}{2}} \cdot \tg \frac{a+b}{2} = \frac{\cos 125^\circ 29' 45'' \cdot \tg 105^\circ 37' 5''}{\cos 9^\circ 57' 55''} =$$

$$= \frac{\cos 54^\circ 30' 15'' \cdot \tg 74^\circ 22' 55''}{\cos 9^\circ 57' 55''}; \log \tg \frac{c}{2} = 0,32405;$$

$$\frac{c}{2} = 64^\circ 37' 51'', a c = 129^\circ 15' 41''.$$

**Други случај.** Дата су два угла и страна наспрам једнога од тих углова (на пр.  $A$ ,  $B$  и  $a$ ).

Најпре непознату страну  $b$  наспрам другог познатог угла налазимо применом синусне теореме, из које је

$$\sin b = \frac{\sin B}{\sin A} \cdot \sin a,$$

а затим трећи угао  $C$  налазимо применом Неперових једначина под а) или б), из којих је:

$$\cotg \frac{C}{2} = \frac{\cos \frac{a+b}{2}}{\cos \frac{a-b}{2}} \cdot \tg \frac{A+B}{2}, \text{ или } \cotg \frac{C}{2} = \frac{\sin \frac{a+b}{2}}{\sin \frac{a-b}{2}} \cdot \tg \frac{A-B}{2}.$$

Најзад трећу страну  $c$  налазимо опет применом Неперових једначина под с) или д), из којих је:

$$\tg \frac{c}{2} = \frac{\cos \frac{A+B}{2}}{\cos \frac{A-B}{2}} \cdot \tg \frac{a+b}{2}, \text{ или } \tg \frac{c}{2} = \frac{\sin \frac{A+B}{2}}{\sin \frac{A-B}{2}} \cdot \tg \frac{a-b}{2}.$$

И овде, као у првом случају, за  $b$  има уопште два решења. Да ли вреде оба решења или само једно, испитујемо као и у првом случају.

*Пример 1.*

$$A = 100^\circ 25' 40'', B = 82^\circ 35' 10'', a = 105^\circ 15' 20''.$$

$$1. \sin b = \frac{\sin B}{\sin A} \cdot \sin a = \frac{\sin 82^\circ 35' 10'' \cdot \sin 106^\circ 15' 20''}{\sin 100^\circ 25' 40''} =$$

$$= \frac{\sin 82^\circ 35' 10'' \cdot \sin 73^\circ 44' 40''}{\sin 79^\circ 34' 20''}; \log \sin b = \bar{1},98586;$$

$$b_1 = 75^\circ 27' 30'', b_2 = 180^\circ - b_1 = 104^\circ 32' 30''.$$

Овде узимамо оба решења од  $b$  у обзир, јер су задовољени услови: 1) За  $A > B$  је и  $a > b$ ; и 2) за  $A + B > 180^\circ$  је и  $a + b > 186^\circ$ .

Стога је:

а) За  $b = 75^\circ 27' 30''$ .

$$2) \cotg \frac{C}{2} = \frac{\sin \frac{a+b}{2}}{\sin \frac{a-b}{2}} \cdot \tg \frac{A-B}{2} = \frac{\sin 90^\circ 51' 25'' \cdot \tg 8^\circ 55' 15''}{\sin 15^\circ 23' 55''} =$$

$$= \frac{\sin 89^\circ 8' 35'' \cdot \tg 8^\circ 55' 15''}{\sin 15^\circ 23' 55''}; \log \cotg \frac{C}{2} = \bar{1},77165;$$

$$\frac{C}{2} = 59^\circ 24' 48'', a C = 118^\circ 49' 36''.$$

$$3) \tg \frac{c}{2} = \frac{\sin \frac{A+B}{2}}{\sin \frac{A-B}{2}} \cdot \tg \frac{a-b}{2} = \frac{\sin 91^\circ 30' 25'' \cdot \tg 15^\circ 23' 55''}{\sin 8^\circ 55' 15''} =$$

$$= \frac{\sin 88^\circ 29' 35'' \cdot \tg 15^\circ 23' 55''}{\sin 8^\circ 55' 15''}; \log \tg \frac{c}{2} = 0,24932;$$

$$\frac{c}{2} = 60^{\circ} 36' 40''; \quad a \quad c = 121^{\circ} 13' 20''.$$

b) за  $b = 104^{\circ} 32' 30''$ .

$$2) \cotg \frac{C}{2} = \frac{\sin \frac{a+b}{2}}{\sin \frac{a-b}{2}} \cdot \tg \frac{A-B}{2} = \frac{\sin 105^{\circ} 23' 25'' \cdot \tg 8^{\circ} 55' 15''}{\sin 0^{\circ} 51' 25''} =$$

$$= \frac{\sin 74^{\circ} 36' 45'' \cdot \tg 8^{\circ} 55' 15''}{\sin 0^{\circ} 51' 25''}; \quad \log \cotg \frac{C}{2} = 1,00517; \quad \frac{C}{2} = 5^{\circ} 38' 37'',$$

а  $C = 11^{\circ} 17' 14''$ .

$$3) \tg \frac{c}{2} = \frac{\sin \frac{A+B}{2}}{\sin \frac{A-B}{2}} \tg \frac{a-b}{2} = \frac{\sin 91^{\circ} 30' 25'' \cdot \tg 0^{\circ} 51' 25''}{\sin 8^{\circ} 55' 15''} =$$

$$= \frac{\sin 88^{\circ} 29' 35'' \cdot \tg 0^{\circ} 51' 25''}{\sin 8^{\circ} 55' 15''};$$

$$\log \tg \frac{c}{2} = 2,98416; \quad \frac{c}{2} = 5^{\circ} 80' 20'', \quad a \quad c = 11^{\circ} 0' 40''.$$

Пример 2.  $A = 78^{\circ} 24' 36''$ ,  $B = 44^{\circ} 53' 18''$ ,  $a = 21^{\circ} 36' 45''$ .

$$1) \sin b = \frac{\sin B}{\sin A} \sin a = \frac{\sin 44^{\circ} 53' 18'' \cdot \sin 21^{\circ} 36' 45''}{\sin 78^{\circ} 24' 36''},$$

$$\log \sin b = 1,42382; \quad b_1 = 15^{\circ} 23' 16'', \quad b_2 = 180^{\circ} - b_1 = 164^{\circ} 36' 44''.$$

Овде узимамо у обзир само прво решење за  $b_1$ , јер је за друго решење  $A + B < 180^{\circ}$ ,  $a + b_2 > 180^{\circ}$ .

$$2) \cotg \frac{C}{2} = \frac{\sin \frac{a+b}{2}}{\sin \frac{a-b}{2}} \cdot \frac{A-B}{2} = \frac{\sin 18^{\circ} 30' 0,5'' \cdot \tg 16^{\circ} 45' 39''}{\sin 3^{\circ} 6' 44,5''};$$

$$\log \cotg \frac{C}{2} = 0,24547; \quad \frac{C}{2} = 29^{\circ} 36' 25'', \quad C = 59^{\circ} 12' 50''.$$

$$3) \tg \frac{c}{2} = \frac{\sin \frac{A+B}{2}}{\sin \frac{A-B}{2}} \tg \frac{a-b}{2} = \frac{\sin 61^{\circ} 38' 57'' \cdot \tg 3^{\circ} 6' 45''}{\sin 16^{\circ} 45' 39''},$$

$$\log \tg \frac{c}{2} = 1,21989; \quad \frac{c}{2} = 9^{\circ} 25' 14'', \quad a \quad c = 18^{\circ} 50' 28''.$$

**Трећи случај.** Даше су стране  $a$ ,  $b$  и  $c$  сферног троугла; наћи углове  $A$ ,  $B$  и  $C$ .

Да би овај случај био могућ, треба да буду испуњене погодбе:

$$a + b > c, \quad a + c > b, \quad b + c > a \quad \text{и} \quad a + b + c < 360^{\circ}.$$

Углове налазимо применом образаца претходног параграфа под IV.

Пример.  $a = 110^{\circ} 25' 39''$ ,  $b = 58^{\circ} 40' 20''$ ,  $c = 80^{\circ} 48' 12''$ .

Тада је:  $2s = a + b + c = 249^{\circ} 54' 8''$ ;  $s = 124^{\circ} 57' 4''$ ;  
 $s - a = 14^{\circ} 31' 28''$ ;  $s - b = 66^{\circ} 16' 44''$ ; и  $s - c = 44^{\circ} 8' 55''$ .

Стрца је:

$$\tg \frac{A}{2} = \sqrt{\frac{\sin(s-b) \sin(s-c)}{\sin s \cdot \sin(s-a)}} = \sqrt{\frac{\sin 66^{\circ} 16' 44'' \cdot \sin 44^{\circ} 8' 52''}{\sin 124^{\circ} 57' 4'' \cdot \sin 14^{\circ} 31' 28''}} =$$

$$= \sqrt{\frac{\sin 66^{\circ} 16' 44'' \cdot \sin 44^{\circ} 8' 52''}{\sin 55^{\circ} 2' 56'' \cdot \sin 14^{\circ} 31' 28''}}; \quad \log \tg \frac{A}{2} = 0,24583;$$

$$\frac{A}{2} = 60^{\circ} 24' 48''; \quad A = 120^{\circ} 49' 36''.$$

$$\tg \frac{B}{2} = \sqrt{\frac{\sin(s-a) \sin(s-c)}{\sin s \cdot \sin(s-b)}} = \sqrt{\frac{\sin 14^{\circ} 31' 28'' \cdot \sin 44^{\circ} 8' 52''}{\sin 55^{\circ} 2' 56'' \cdot \sin 66^{\circ} 16' 44''}},$$

$$\log \tg \frac{B}{2} = 1,68249; \quad \frac{B}{2} = 25^{\circ} 42' 19''; \quad B = 51^{\circ} 24' 38''.$$

$$\tg \frac{C}{2} = \sqrt{\frac{\sin(s-a) \sin(s-b)}{\sin s \cdot \sin(s-c)}} = \sqrt{\frac{\sin 14^{\circ} 31' 28'' \cdot \sin 66^{\circ} 16' 44''}{\sin 55^{\circ} 2' 56'' \cdot \sin 44^{\circ} 8' 52''}},$$

$$\log \tg \frac{C}{2} = 1,80219; \quad \frac{C}{2} = 32^{\circ} 22' 51''; \quad C = 64^{\circ} 45' 42''.$$

**Четврти случај.** Дати су углови сферног троугла; наћи његове стране.

Да би био случај могућ, треба углови да испуњавају погодбу:

$$180^{\circ} < A + B + C < 540^{\circ}.$$

Стране налазимо помоћу образаца претходног параграфа под V.

Пример.  $A = 51^{\circ} 20' 15''$ ,  $B = 115^{\circ} 36' 20''$ ,  $C = 84^{\circ} 10' 25''$ .

Тада је  $2S = 251^{\circ} 7'$ ;  $S = 125^{\circ} 33' 30''$ ;  $S - A = 74^{\circ} 13' 15''$ ;  
 $S - B = 9^{\circ} 57' 10''$ ;  $S - C = 41^{\circ} 13' 5''$ . Стрца је:

$$\tg \frac{a}{2} = \sqrt{\frac{-\cos S \cos(S-A)}{\cos(S-B) \cos(S-C)}} = \sqrt{\frac{-\cos 125^{\circ} 33' 30'' \cdot \cos 74^{\circ} 13' 15''}{\cos 9^{\circ} 57' 10'' \cdot \cos 41^{\circ} 13' 5''}} =$$

$$= \sqrt{\frac{\cos 54^{\circ} 26' 30'' \cdot \cos 74^{\circ} 13' 15''}{\cos 9^{\circ} 57' 10'' \cdot \cos 41^{\circ} 13' 5''}}; \quad \log \tg \frac{a}{2} = 1,66464;$$

$$\frac{a}{2} = 24^{\circ} 47' 49''; \quad a = 49^{\circ} 35' 38''.$$

$$\tg \frac{b}{2} = \sqrt{\frac{-\cos S \cos(S-B)}{\cos(S-A) \cos(S-C)}} = \sqrt{\frac{\cos 54^{\circ} 26' 30'' \cdot \cos 9^{\circ} 57' 10''}{\cos 74^{\circ} 13' 15'' \cdot \cos 41^{\circ} 13' 5''}},$$

$$\log \tg \frac{b}{2} = 0,22360; \quad \frac{b}{2} = 59^{\circ} 8' 17''; \quad b = 118^{\circ} 16' 34''.$$

$$\tg \frac{c}{2} = \sqrt{\frac{-\cos S \cos(S-C)}{\cos(S-A) \cos(S-B)}} = \sqrt{\frac{\cos 54^{\circ} 26' 30'' \cdot \cos 41^{\circ} 13' 5''}{\cos 74^{\circ} 13' 15'' \cdot \cos 9^{\circ} 57' 10''}},$$

$$\log \tg \frac{c}{2} = 0,21303; \quad \frac{c}{2} = 58^{\circ} 31' 22''; \quad c = 117^{\circ} 2' 44''.$$

**Пети случај.** — Дате су две стране и захваћени угао (нпр.  $a$ ,  $b$  и  $C$ ); наћи остале елементе сферног троугла.

**Решење.** — Помоћу Неперових аналогија израчунавамо најпре збир и разлику углова  $A$  и  $B$  применом образаца:

$$\operatorname{tg} \frac{A+B}{2} = \frac{\cos \frac{a-b}{2}}{\cos \frac{a+b}{2}} \cdot \operatorname{cotg} \frac{C}{2} \quad \text{и} \quad \operatorname{tg} \frac{A-B}{2} = \frac{\sin \frac{a-b}{2}}{\sin \frac{a+b}{2}} \cdot \operatorname{cotg} \frac{C}{2},$$

а затим из обрасца  $\operatorname{tg} \frac{c}{2} = \frac{\sin \frac{A+B}{2}}{\sin \frac{A-B}{2}} \cdot \operatorname{tg} \frac{a-b}{2}$  налазимо и трећу страну  $c$ .

**Пример.**  $a = 100^{\circ} 40' 10''$ ,  $b = 62^{\circ} 25' 46''$ ,  $C = 56^{\circ} 18' 30''$ .

Тада је:  $\operatorname{tg} \frac{A+B}{2} = \frac{\cos 19^{\circ} 7' 12'' \cdot \operatorname{cotg} 28^{\circ} 9' 15''}{\cos 81^{\circ} 32' 58''}$  и

$$\operatorname{tg} \frac{A-B}{2} = \frac{\sin 19^{\circ} 6' 12'' \cdot \operatorname{cotg} 28^{\circ} 9' 15''}{\sin 81^{\circ} 32' 58''};$$

$$\log \operatorname{tg} \frac{A+B}{2} = 1,07968 \quad \text{и} \quad \log \operatorname{tg} \frac{A-B}{2} = \bar{1},79252;$$

$$\frac{A+B}{2} = 85^{\circ} 14' 30''; \quad \text{и} \quad \frac{A-B}{2} = 31^{\circ} 44' 51''; \quad A+B = 171^{\circ} 29'';$$

$$A-B = 63^{\circ} 29' 42''; \quad A = 117^{\circ} 29' 21''; \quad B = 53^{\circ} 59' 39''.$$

$$\operatorname{tg} \frac{c}{2} = \frac{\sin 85^{\circ} 14' 30''}{\sin 31^{\circ} 44' 51''} \cdot \operatorname{tg} 19^{\circ} 7' 12''; \quad \log \operatorname{tg} \frac{c}{2} = \bar{1},81730;$$

$$\frac{c}{2} = 33^{\circ} 17' 20''; \quad c = 63^{\circ} 34' 40''.$$

**Шести случај.** Дата је једна страна и два налегла угла (на пр.  $c$ ,  $A$  и  $B$ ); наћи остале елементе сферног троугла.

**Решење:** Помоћу Неперових аналогија израчунавамо најпре збир и разлику осталих страна  $a$  и  $b$  применом образаца:

$$\operatorname{tg} \frac{a+b}{2} = \frac{\cos \frac{A-B}{2}}{\cos \frac{A+B}{2}} \cdot \operatorname{tg} \frac{c}{2} \quad \text{и} \quad \operatorname{tg} \frac{a-b}{2} = \frac{\sin \frac{A-B}{2}}{\sin \frac{A+B}{2}} \cdot \operatorname{tg} \frac{c}{2},$$

а затим, из обрасца  $\operatorname{tg} \frac{C}{2} = \frac{\sin \frac{a-b}{2}}{\sin \frac{a+b}{2}} \cdot \operatorname{cotg} \frac{A-B}{2}$ , налазимо и трећи угао  $C$ .

**Пример.**  $A = 82^{\circ} 15' 40''$ ,  $B = 68^{\circ} 45' 50''$ ,  $c = 71^{\circ} 18' 36''$ .  
Тада је:

$$\operatorname{tg} \frac{a+b}{2} = \frac{\cos 6^{\circ} 44' 55'' \cdot \operatorname{tg} 35^{\circ} 39' 18''}{\cos 75^{\circ} 30' 45''} \quad \text{и}$$

$$\operatorname{tg} \frac{a-b}{2} = \frac{\sin 6^{\circ} 44' 55'' \cdot \operatorname{tg} 35^{\circ} 39' 18''}{\sin 75^{\circ} 30' 45''};$$

$$\log \operatorname{tg} \frac{a+b}{2} = 0,45449 \quad \text{и} \quad \log \operatorname{tg} \frac{a-b}{2} = \bar{2},93987;$$

$$\frac{a+b}{2} = 70^{\circ} 14' 4,5''; \quad \frac{a-b}{2} = 4^{\circ} 58' 34,5''; \quad a+b = 140^{\circ} 28' 9'';$$

$$a-b = 9^{\circ} 57' 9''; \quad a = 75^{\circ} 12' 39''; \quad b = 65^{\circ} 15' 30''.$$

$$\operatorname{tg} \frac{C}{2} = \frac{\sin 4^{\circ} 58' 34,5'' \cdot \operatorname{cotg} 6^{\circ} 44' 55''}{\sin 70^{\circ} 14' 4,5''}; \quad \log \operatorname{tg} \frac{C}{2} = \bar{1},89139;$$

$$\frac{C}{2} = 37^{\circ} 54' 32''; \quad C = 75^{\circ} 49' 4''.$$

### Задаци за вежбу

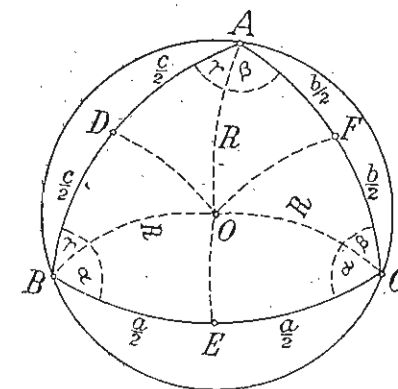
- 1)  $a = 51^{\circ} 40' 25''$ ,    2)  $a = 72^{\circ} 32' 33''$ ,    3)  $a = 92^{\circ} 28' 17''$ ,  
 $b = 62^{\circ} 7' 15''$ ,     $b = 53^{\circ} 8' 18''$ ,     $B = 81^{\circ} 7' 14''$ ,  
 $C = 71^{\circ} 10' 8''$ .     $A = 69^{\circ} 19' 18''$ .     $C = 70^{\circ} 30' 50''$ .
- 4)  $a = 52^{\circ} 22' 24''$ ,    5)  $A = 81^{\circ} 15' 40''$ ,    6)  $A = 37^{\circ} 35' 40''$ ,  
 $b = 81^{\circ} 18' 15''$ ,     $B = 52^{\circ} 8' 8''$ ,     $B = 52^{\circ} 20' 20''$ ,  
 $A = 40^{\circ} 23' 25''$ .     $a = 36^{\circ} 50' 25''$ .     $a = 38^{\circ} 18' 42''$ .
- 7)  $a = 70^{\circ} 50' 50''$ ,    8)  $a = 108^{\circ} 5' 6''$ ,    9)  $A = 125^{\circ} 18' 12''$ ,  
 $b = 111^{\circ} 8' 16''$ ,     $b = 62^{\circ} 10' 10''$ ,     $B = 49^{\circ} 15' 18''$ ,  
 $c = 120^{\circ} 4' 8''$ .     $c = 70^{\circ} 20' 30''$ .     $C = 42^{\circ} 35' 40''$ .

10) Решити равнострани сферни троугао кад му је угао  $75^{\circ}$ .

11) Помоћу правоуглог троугла нађите страну  $a$  и угао  $\alpha$  косоуглог сферног троугла из страна  $b = 68^{\circ} 21' 34''$ ,  $c = 53^{\circ} 17' 23''$  и угла  $\beta = 79^{\circ} 45' 21''$  (Сушак, 1932).

### § 36. Примена сферне тригонометрије

#### 1. Полујеречник описаног круга око сферног троугла.



Сл. 68

средиште  $O$  споредног круга описаног око сферног троугла  $ABC$  (сл. 68) добијамо када у срединама страна ( $D$ ,  $E$  и  $F$ ) подигнемо сферне управне:  $DO$ ,  $EO$  и  $FO$ . Ове сферне управне јесу луци од три главна лоптина круга, чије равни пролазе кроз средине страна сферног троугла и стоје управно на странама. Ако са  $R$  означимо сферни полујеречник описаног круга

( $R = AO = BO = CO$ ), онда је из правоуглог троугла  $CEO$ , према Неперовом правилу:

$$\cos \alpha = \cotg \frac{a'}{2} \cotg R = \operatorname{tg} \frac{a}{2} \cotg R, \text{ а одавде је } \operatorname{tg} R = \frac{\operatorname{tg} \frac{a}{2}}{\cos \alpha} \quad (1).$$

Па како је  $2(\alpha + \beta + \gamma) = A + B + C = 2S$ , то је  $\alpha + \beta + \gamma = \frac{1}{2}(A + B + C) = S$ ,

а  $\alpha = S - (\beta + \gamma) = S - A$  (пошто је  $A = \beta + \gamma$ ). Заменом у

(1) добијамо:  $\operatorname{tg} R = \frac{\operatorname{tg} \frac{a}{2}}{\cos(S-A)}$ . Истим путем, из осталих правоуглих троуглова на сл. 68, налазимо:

$$\operatorname{tg} R = \frac{\operatorname{tg} \frac{a}{2}}{\cos(S-A)} = \frac{\operatorname{tg} \frac{b}{2}}{\cos(S-B)} = \frac{\operatorname{tg} \frac{c}{2}}{\cos(S-C)} \quad (2)$$

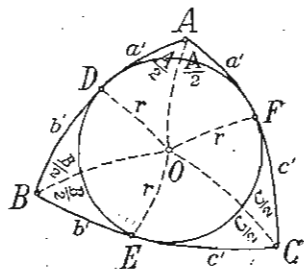
Ако  $\operatorname{tg} \frac{a}{2}$ ,  $\operatorname{tg} \frac{b}{2}$ ,  $\operatorname{tg} \frac{c}{2}$  заменимо њиховим вредностима из § 32, V, под с) добијамо:

$$\operatorname{tg} R = \frac{\operatorname{tg} \frac{a}{2}}{\cos(S-A)} = \frac{\sqrt{\frac{-\cos S \cos(S-A)}{\cos(S-B) \cos(S-C)}}}{\cos(S-A)} = \sqrt{\frac{-\cos S}{\cos(S-A) \cos(S-B) \cos(S-C)}}$$

који се образац највише примењује за израчунавање сферног полупречника описаног круга, ако знамо углове сферног троугла.

II. **Полупречник уписаног круга.** Сферно средиште  $O$  споредног круга уписаног у сферном троуглу  $ABC$  (сл. 69) добијамо када опишемо три главна лоптина круга тако да ови кругови полове углове сферног троугла. Њихов пресек  $O$  је сферно средиште уписаног круга, а спуштене сферне управне  $OD$ ,  $OE$  и  $OF$  из средишта на троуглове стране јесу сферни полупречник  $r$  уписаног круга ( $r = OD = OE = OF$ ). Тада је, по Неперовом правилу, из правоуглог троугла  $AOF$ :

$$\begin{aligned} \cos a' &= \cotg \frac{A}{2} \cdot \cotg r', \text{ или } \sin a' = \cotg \frac{A}{2} \operatorname{tgr}. \text{ Одавде је } \operatorname{tgr} = \\ &= \sin a' \cdot \operatorname{tg} \frac{A}{2} \quad (1) \end{aligned}$$



Сл. 69

Па како је  $2a' + 2b' + 2c' = a + b + c$ , а  $a' + b' + c' = \frac{1}{2}(a + b + c) = s$ , то је  $a' = s - (b' + c') = s - a$  (пошто је  $a = b' + c'$ ).

Заменом у (1) добијамо:

$$\operatorname{tgr} = \sin(s-a) \cdot \operatorname{tg} \frac{A}{2}. \text{ Истим путем добијамо:}$$

$$\operatorname{tgr} = \sin(s-b) \cdot \operatorname{tg} \frac{B}{2} \text{ и } \operatorname{tgr} = \sin(s-c) \cdot \operatorname{tg} \frac{C}{2}.$$

Ако у овим обрасцима заменимо  $\operatorname{tg} \frac{A}{2}$ ,  $\operatorname{tg} \frac{B}{2}$  и  $\operatorname{tg} \frac{C}{2}$  њиховим вредностима из § 32, IV, добијамо:  $\operatorname{tgr} = \sin(s-a) \cdot$

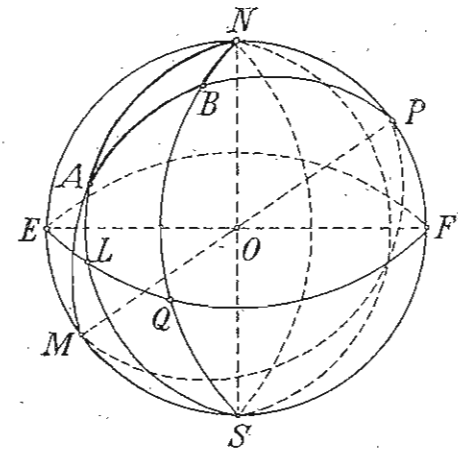
$$\sqrt{\frac{\sin(s-b) \sin(s-c)}{\sin s \cdot \sin(s-a)}} = \sqrt{\frac{\sin(s-a) \sin(s-b) \sin(s-c)}{\sin s}}$$

који се образац највише примењује за израчунавање полупречника уписаног круга у сферном троуглу, ако знамо његове стране.

### III. Сферна раздаљина између два места на земљи

Да бисмо израчунали сферну раздаљину места  $A$  и  $B$

на земљи, треба да знамо географске ширине и географске дужине тих места. Ако су  $\varphi_1$  и  $\lambda_1$  географска дужина и ширина места  $A$ ,  $\varphi_2$  и  $\lambda_2$  географска дужина и ширина места  $B$ ,  $N$  и  $S$  полови земље, круг  $NESF$  главни меридијан, а круг  $ELQF$  екватор, кругови  $NALS$  и  $NBQS$  меридијани места  $A$  и  $B$ , онда је:  $\varphi_1 = AL$ ,  $\lambda_1 = EL$ ,  $\varphi_2 = BQ$  и  $\lambda_2 = EQ$ , тада је тражена



Сл. 70

сферна раздаљина  $AB$  страна сферног троугла  $ABN$  у коме знамо две стране  $NA$  и  $NB$  ( $NA = 90^\circ - \varphi_1$  и  $NB = 90^\circ - \varphi_2$ ) и захваћени угао  $N = \lambda_2 - \lambda_1$ . Задатак се, дакле, своди на пети случај решавања сферног троугла из претходног параграфа.

**Напомена.** Ака желимо да израчунамо сферну раздаљину двају места на земљи не у степенима већ у дужинској.

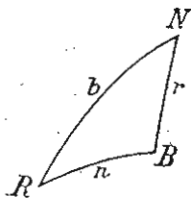
јединици (у метрима, километрима, миљама), онда примењујемо пропорцију:

$$40000000 : x = 360^\circ : \sphericalangle AB, \text{ одакле је:}$$

$$x = \frac{40000000 \cdot \sphericalangle AB}{360^\circ} \text{ m} = \frac{40000 \cdot \sphericalangle AB}{360^\circ} \text{ km.}$$

где је 40000000 обим великог круга у метрима (приближно),  $x$  растојање места  $A$  и  $B$  у метрима, а  $\sphericalangle AB$  растојање места (страна сферног троугла  $NAB$  у степенима).

*Пример. Наћи сферну раздаљину између Рима и Беча, ако је геогр. ширина Рима  $\varphi_1 = 41^\circ 53' 54''$  а Беча  $\varphi_2 = 48^\circ 12' 35''$ , геогр. дужина Рима  $\lambda_1 = 12^\circ 28' 48''$ , а Беча  $\lambda_2 = 16^\circ 22' 42''$ , рачунајући од Гриничког меридијана.*



Сл. 71

Ако сферни пол  $N$ , Рим ( $R$ ) и Беч ( $B$ ) дају сферни троугао  $NRB$ , онда је страна  $NR = 90^\circ - \varphi_1 = 48^\circ 6' 16''$ , страна  $NB = 90^\circ - \varphi_2 = 41^\circ 47' 25''$ , а угао код  $N = \lambda_2 - \lambda_1 = 3^\circ 53' 54''$ .

Тада је:

$$\text{tg} \frac{B+R}{2} = \frac{\cos \frac{b-r}{2}}{\cos \frac{b+r}{2}} \text{cotg} \frac{N}{2} \text{ и } \text{tg} \frac{B-R}{2} = \frac{\sin \frac{b-r}{2}}{\sin \frac{b+r}{2}} \text{cotg} \frac{N}{2} \text{ или}$$

$$\text{tg} \frac{B+R}{2} = \frac{\cos 3^\circ 9' 25,5'' \cdot \text{cotg} 1^\circ 56' 57''}{\sin 44^\circ 56' 50,5''} \text{ и}$$

$$\text{tg} \frac{B-R}{2} = \frac{\sin 3^\circ 9' 25,5'' \cdot \text{cotg} 1^\circ 56' 57''}{\sin 45^\circ 56' 50,5''};$$

$$\log \text{tg} \frac{B+R}{2} = 1,48340 \text{ и } \log \text{tg} \frac{B-R}{2} = 0,79754;$$

$$\frac{B+R}{2} = 88^\circ 7' 6''; \frac{B-R}{2} = 80^\circ 56' 38''; B+R = 176^\circ 14' 12'';$$

$$B-R = 161^\circ 53' 16''; B = 169^\circ 3' 44''; R = 7^\circ 10' 28''.$$

$$\text{tg} \frac{n}{2} = \frac{\sin \frac{B+R}{2}}{\sin \frac{B-R}{2}} \text{tg} \frac{b-r}{2} = \frac{\sin 88^\circ 7' 6'' \cdot \text{tg} 3^\circ 9' 25,5''}{\sin 80^\circ 56' 38''}; \log \text{tg} \frac{n}{2} =$$

$$= \bar{2},74682; \frac{n}{2} = 3^\circ 11' 42''; n = 6^\circ 23' 24''. \text{ Дакле, сферна раздаљина}$$

Беч—Рин износи  $6^\circ 23' 24''$ , или у дужинској јединици:

$$RB = \frac{40000000 \cdot 6^\circ 23' 24''}{360^\circ} = \frac{40000000 \cdot 23004}{1296000} =$$

$$= 710000 \text{ m} = 710 \text{ km.}$$

*Пример 2. Из Карловца ( $S = +46^\circ$ ,  $\lambda = +16^\circ$ ) има да оде аероплан брзином од  $200 \text{ km}$  на сат према Буенос-Ајресу ( $S = -35^\circ$ ,  $\lambda = -58^\circ$ ). Колико дана ће трајати путовање? (Карловци, 1932)*

## САДРЖАЈ

### УВОД

|  | стр. |
|--|------|
| § 1 Размера двеју дужи . . . . .   | 3    |
| „ 2 Правоугли координатни систем . . . . .   | 3    |
| „ 3 О функцијама уопште . . . . .  | 5    |
| „ 4 Гониометриске или тригонометриске функције . . . . .                           | 6    |
| „ 5 Израчунавање функција углова од $60^\circ$ , $30^\circ$ и $45^\circ$ . . . . . | 10   |
| „ 6 Задатак тригонометрије и њена подела . . . . .                                 | 11   |
| „ 7 Питања и задаци за вежбу . . . . .   | 11   |

### ГОНИОМЕТРИЈА

|   |    |
|---|----|
| § 8 Графичко претстављање гониометријских функција код круга полупречника $r = 1$ . . . . .   | 12 |
| „ 9 Међусобни однос гониометријских функција истог угла . . . . .   | 14 |
| „ 10 Растење и опадање гониометријских функција кад угао расте . . . . .  | 18 |
| „ 11 Претварање гониометријских функција неošтрих углова у функције оштрих углова и гониометријске функције негативних углова . . . . . | 24 |
| „ 12 Гониометријске функције збира двају углова . . . . .   | 29 |
| „ 13 Гониометријске функције разлике двају углова . . . . .   | 31 |
| „ 14 Функције удвојених углова . . . . .  | 32 |
| „ 15 Функције полууглова . . . . .  | 33 |
| „ 16 Претварање збирова и разлика гониометријских функција у производ ради њиховог логаритмовања . . . . .                              | 34 |
| „ 17 Условни обрасци за претварање збирова и разлика гониометријских функција у производ . . . . .                                      | 36 |
| „ 18 Доказивање тригонометријских идентичности . . . . .  | 38 |
| „ 19 Израчунавање гониометријских функција . . . . .  | 40 |
| „ 20 Логаритми гониометријских функција . . . . .   | 42 |
| „ 21 Гониометријске једначине . . . . .   | 51 |

### РАВНА ТРИГОНОМЕТРИЈА

|   |    |
|---|----|
| „ 22 Решавања код правоуглог троугла . . . . .                              | 55 |
| „ 23 Решавања код равнокраког троугла . . . . .                             | 64 |
| „ 24 Решавања код правилних многоуглова . . . . .                           | 65 |
| „ 25 Решавања код круга . . . . .   | 69 |
| „ 26 Однос између страна и функција углова разностраног троугла . . . . .   | 71 |
| „ 28 Израчунавања код четвороуглова . . . . .                               | 87 |
| „ 29 Примена тригонометрије на решавање задатака из стереометрије . . . . . | 92 |

§ 30 Примена тригонометрије на решавање задатака из  
практичне геометрије . . . . . 100

**СФЕРНА ТРИГОНОМЕТРИЈА**

§ 31 Сферни троугли, њихове врсте и особине . . . . . 113

**I. Решавање правоуглог сферног троугла**

§ 32 Неперово правило . . . . . 115

„ 33 Случајеви решавања правоуглог троугла . . . . . 116

**II. Решавање косоуглог сферног троугла**

§ 34 Теореме и обрасци о косоуглом сферном троуглу . . . . . 120

„ 35 Случајеви решавања косоуглог троугла . . . . . 128

„ 36 Примена сферне тригонометрије . . . . . 135